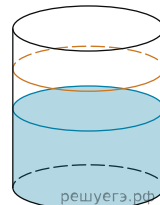
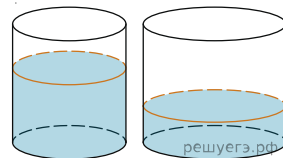


1. В цилиндрический сосуд налили 2000 см^3 воды. Уровень воды при этом достигает высоты 12 см. В жидкость полностью погрузили деталь. При этом уровень жидкости в сосуде поднялся на 9 см. Чему равен объем детали? Ответ выразите в см^3 .

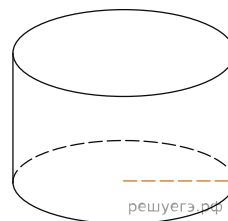


2. В цилиндрическом сосуде уровень жидкости достигает 16 см. На какой высоте будет находиться уровень жидкости, если ее перелить во второй сосуд, диаметр которого в 2 раза больше первого? Ответ дайте в сантиметрах.

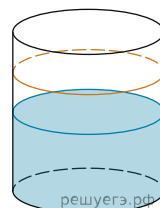


3. Объем первого цилиндра равен 12 м^3 . У второго цилиндра высота в три раза больше, а радиус основания — в два раза меньше, чем у первого. Найдите объем второго цилиндра. Ответ дайте в кубических метрах.

4. Радиус основания цилиндра равен 2, высота равна 3. Найдите площадь боковой поверхности цилиндра, деленную на π .



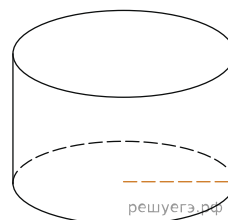
5. В цилиндрический сосуд налили 6 куб. см воды. В воду полностью погрузили деталь. При этом уровень жидкости в сосуде увеличился в 1,5 раза. Найдите объем детали. Ответ выразите в куб. см.



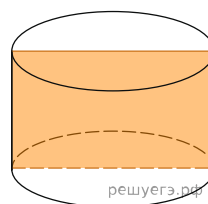
6. Одна цилиндрическая кружка вдвое выше второй, зато вторая в полтора раза шире. Найдите отношение объема второй кружки к объему первой.



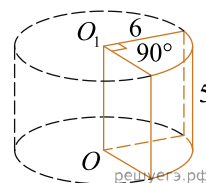
7. Длина окружности основания цилиндра равна 3, высота равна 2. Найдите площадь боковой поверхности цилиндра.



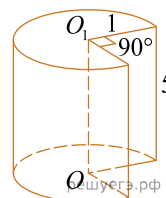
8. Площадь осевого сечения цилиндра равна 4. Найдите площадь боковой поверхности цилиндра, деленную на π .



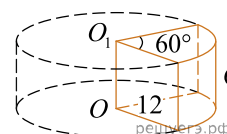
9. Найдите объем V части цилиндра, изображенной на рисунке. В ответе укажите $\frac{V}{\pi}$.



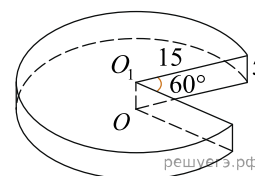
10. Найдите объем V части цилиндра, изображенной на рисунке. В ответе укажите $\frac{V}{\pi}$.



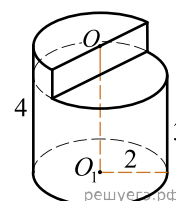
11. Найдите объем V части цилиндра, изображенной на рисунке. В ответе укажите $\frac{V}{\pi}$.



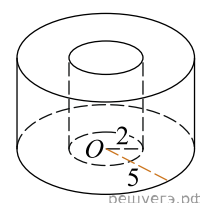
12. Найдите объем V части цилиндра, изображенной на рисунке. В ответе укажите $\frac{V}{\pi}$.



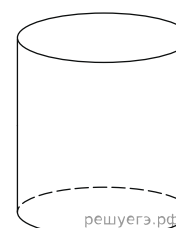
13. Найдите объем V части цилиндра, изображенной на рисунке. В ответе укажите $\frac{V}{\pi}$.



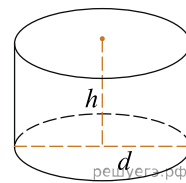
14. Найдите объем V части цилиндра, изображенной на рисунке. В ответе укажите $\frac{V}{\pi}$.



15. Длина окружности основания цилиндра равна 3. Площадь боковой поверхности равна 6. Найдите высоту цилиндра.



16. Площадь боковой поверхности цилиндра равна 2π , а диаметр основания — 1. Найдите высоту цилиндра.



17. Площадь боковой поверхности цилиндра равна 2π , а высота — 1. Найдите диаметр основания.