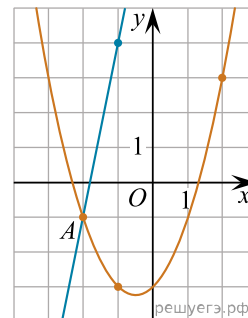
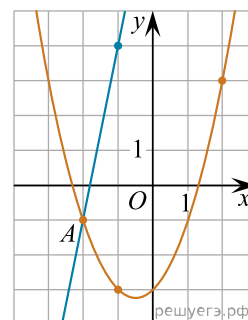


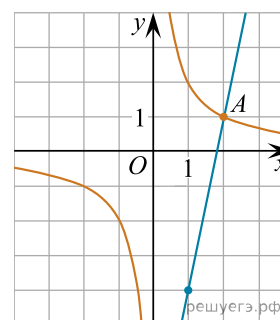
1. На рисунке изображены графики функций  $f(x) = 5x + 9$  и  $g(x) = ax^2 + bx + c$ , которые пересекаются в точках  $A$  и  $B$ . Найдите абсциссу точки  $B$ .



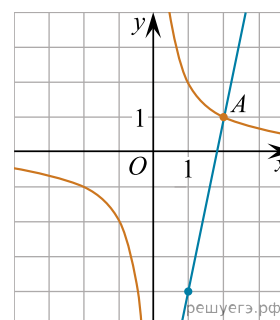
2. На рисунке изображены графики функций  $f(x) = 5x + 9$  и  $g(x) = ax^2 + bx + c$ , которые пересекаются в точках  $A$  и  $B$ . Найдите ординату точки  $B$ .



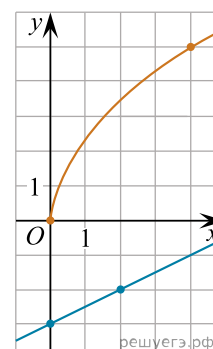
3. На рисунке изображены графики функций  $f(x) = \frac{k}{x}$  и  $g(x) = ax + b$ , которые пересекаются в точках  $A$  and  $B$ . Найдите абсциссу точки  $B$ .



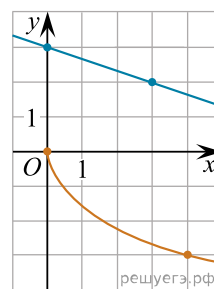
4. На рисунке изображены графики функций  $f(x) = \frac{k}{x}$  и  $g(x) = ax + b$ , которые пересекаются в точках  $A$  and  $B$ . Найдите ординату точки  $B$ .



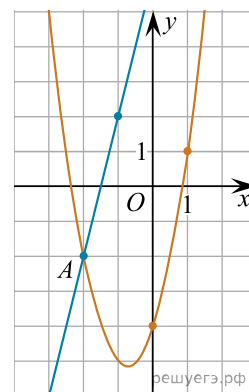
5. На рисунке изображены графики функций  $f(x) = a\sqrt{x}$  и  $g(x) = kx + b$ , которые пересекаются в точке  $A$ . Найдите абсциссу точки  $A$ .



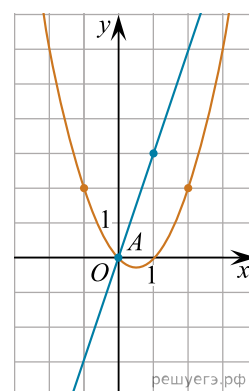
6. На рисунке изображены графики функций  $f(x) = a\sqrt{x}$  и  $g(x) = kx + b$ , которые пересекаются в точке  $A$ . Найдите ординату точки  $A$ .



7. На рисунке изображены графики функций  $f(x) = ax^2 + bx + c$  и  $g(x) = kx + d$ , которые пересекаются в точках  $A$  и  $B$ . Найдите абсциссу точки  $B$ .



8. На рисунке изображены графики функций видов  $f(x) = ax^2 + bx + c$  и  $g(x) = kx$ , пересекающиеся в точках  $A$  и  $B$ . Найдите абсциссу точки  $B$ .



9. На рисунке изображены графики функций видов  $f(x) = a\sqrt{x}$  и  $g(x) = kx$ , пересекающиеся в точках  $A$  и  $B$ . Найдите абсциссу точки  $B$ .

