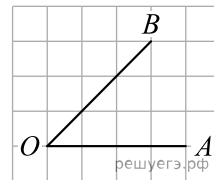
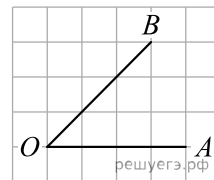


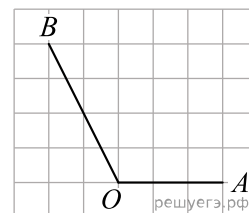
1. Найдите косинус угла AOB . В ответе укажите значение косинуса, умноженное на $2\sqrt{2}$.



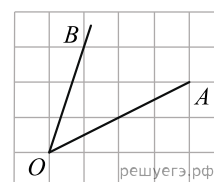
2. На клетчатой бумаге с размером клетки 1×1 изображён угол. Найдите тангенс этого угла.



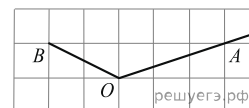
3. Найдите синус угла AOB . В ответе укажите значение синуса, умноженное на $\frac{\sqrt{5}}{2}$.



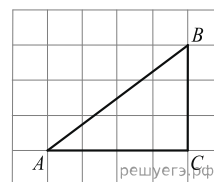
4. На клетчатой бумаге с размером клетки 1×1 изображён угол. Найдите тангенс этого угла.



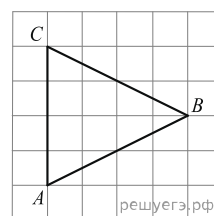
5. Найдите тангенс угла AOB . Сторона одной клетки равна 1.



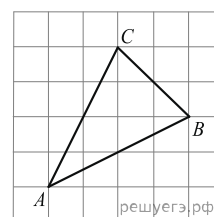
6. Найдите гипотенузу прямоугольного треугольника, если стороны квадратных клеток равны 1.



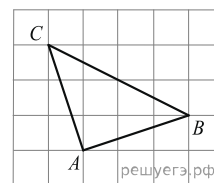
7. На клетчатой бумаге с размером клетки 1×1 изображён треугольник ABC . Найдите длину его биссектрисы, проведённой из вершины B .



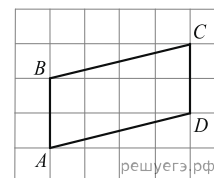
8. На клетчатой бумаге с размером клетки 1×1 изображён треугольник ABC . Найдите длину его медианы, проведённой из вершины C .



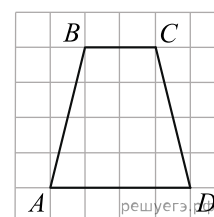
9. Найдите высоту треугольника ABC , опущенную на сторону BC , если стороны квадратных клеток равны $\sqrt{5}$.



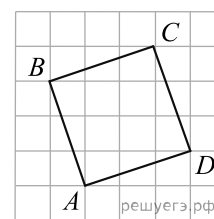
10. На клетчатой бумаге с размером клетки 1×1 изображён параллелограмм. Найдите длину его большей высоты.



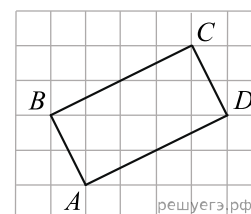
11. На клетчатой бумаге с размером клетки $1 \text{ см} \times 1 \text{ см}$ изображена трапеция. Найдите длину средней линии этой трапеции.



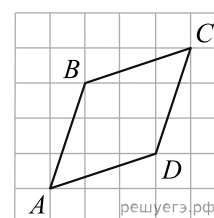
12. На клетчатой бумаге с размером клетки $\sqrt{10} \times \sqrt{10}$ изображён четырёхугольник $ABCD$. Найдите его периметр.



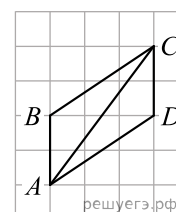
13. На клетчатой бумаге с размером клетки $\sqrt{5} \times \sqrt{5}$ изображён четырёхугольник $ABCD$. Найдите его периметр.



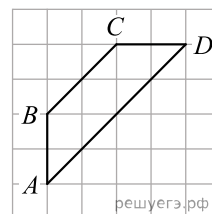
14. На клетчатой бумаге с размером клетки $\sqrt{10} \times \sqrt{10}$ изображён четырёхугольник $ABCD$. Найдите его периметр.



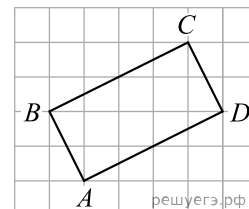
15. Найдите диагональ AC параллелограмма $ABCD$, если стороны квадратных клеток равны 1.



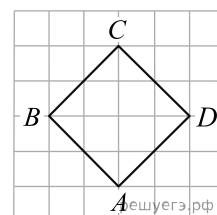
16. Найдите высоту трапеции $ABCD$, опущенную из вершины B , если стороны квадратных клеток равны $\sqrt{2}$.



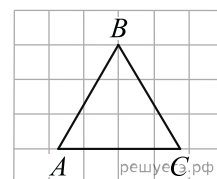
17. На клетчатой бумаге с размером клетки 1×1 изображён прямоугольник. Найдите радиус окружности, описанной около этого прямоугольника.




18. На клетчатой бумаге с размером клетки $\sqrt{2} \times \sqrt{2}$ изображён квадрат. Найдите радиус окружности, вписанной в этот квадрат.



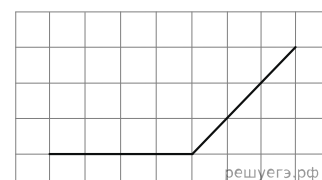
19. На клетчатой бумаге с размером клетки 1×1 изображён равносторонний треугольник. Найдите радиус описанной около него окружности.



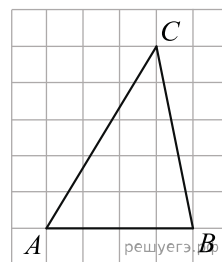
20. На клетчатой бумаге с размером клетки 1×1 отмечены точки A и B . Найдите длину отрезка AB .



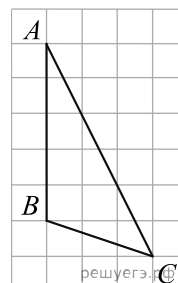
21. На клетчатой бумаге с размером клетки $1 \text{ см} \times 1 \text{ см}$ изображён угол. Найдите его градусную величину.



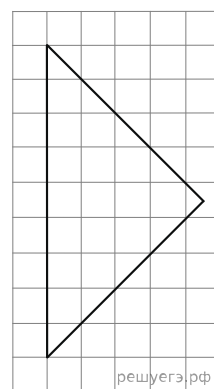
22. На клетчатой бумаге с размером клетки 1×1 изображён треугольник ABC . Найдите длину его средней линии, параллельной стороне AB .



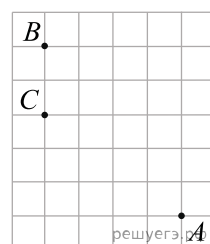
23. На клетчатой бумаге с размером клетки 1×1 изображён треугольник ABC . Найдите длину его высоты, опущенной на продолжение стороны AB .



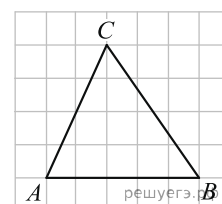
24. На клетчатой бумаге с размером клетки 1×1 изображён равнобедренный прямоугольный треугольник. Найдите длину его медианы, проведённой к гипотенузе.



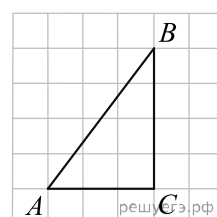
25. На клетчатой бумаге с размером клетки 1×1 отмечены точки A , B и C . Найдите расстояние от точки A до прямой BC .



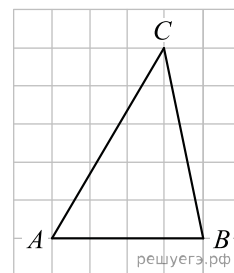
26. На клетчатой бумаге с квадратными клетками изображён треугольник ABC . Найдите тангенс угла C .



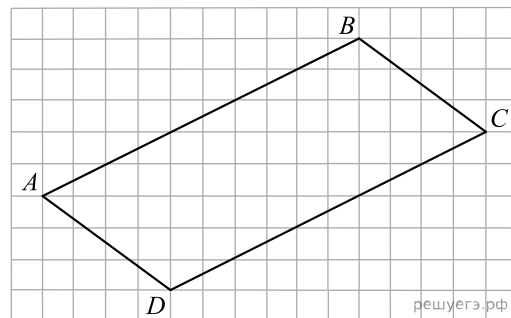
27. Найдите радиус окружности, вписанной в изображенный на рисунке треугольник ABC , считая стороны квадратных клеток равными 1.



28. На клетчатой бумаге с размером клетки 1×1 изображён треугольник ABC . Найдите длину его высоты, опущенной на сторону AB .



29. На клетчатой бумаге с размером клетки 1×1 изображён параллелограмм. Найдите длину его меньшей диагонали.



30. На клетчатой бумаге с размером клетки $\sqrt{5} \times \sqrt{5}$ изображён треугольник. Найдите радиус его описанной окружности.

