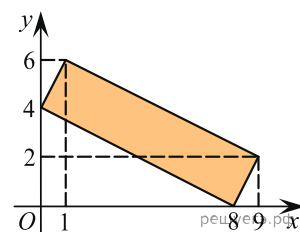
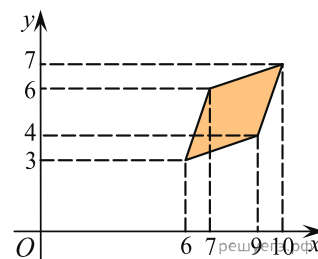


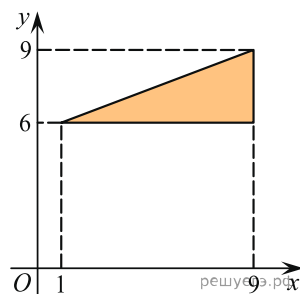
1. Найдите площадь прямоугольника, вершины которого имеют координаты $(8; 0)$, $(9; 2)$, $(1; 6)$, $(0; 4)$.



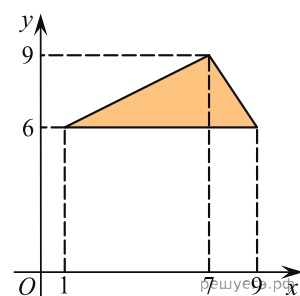
2. Найдите площадь ромба, вершины которого имеют координаты $(6; 3)$, $(9; 4)$, $(10; 7)$, $(7; 6)$.



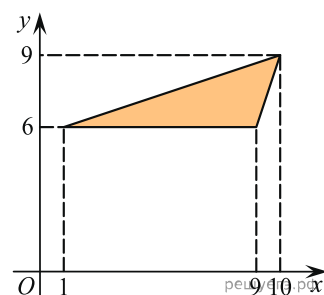
3. Найдите площадь треугольника, вершины которого имеют координаты $(1; 6)$, $(9; 6)$, $(9; 9)$.



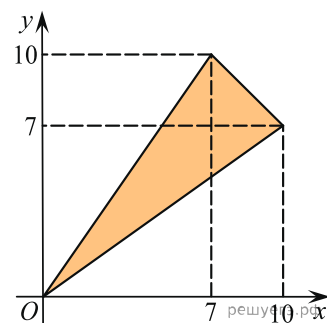
4. Найдите площадь треугольника, вершины которого имеют координаты $(1; 6)$, $(9; 6)$, $(7; 9)$.



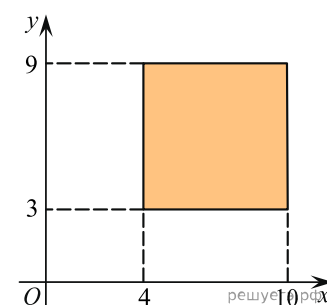
5. Найдите площадь треугольника, вершины которого имеют координаты $(1; 6)$, $(9; 6)$, $(10; 9)$.



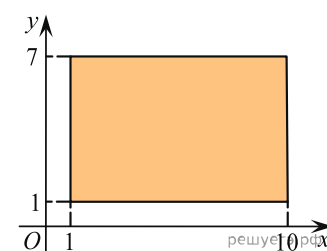
6. Найдите площадь треугольника, вершины которого имеют координаты $(0;0)$, $(10;7)$, $(7;10)$.



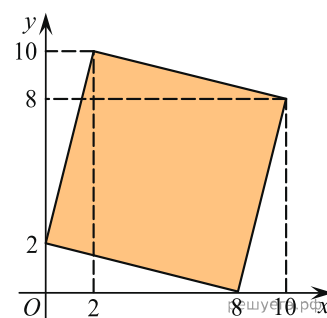
7. Найдите площадь квадрата, вершины которого имеют координаты $(4; 3)$, $(10; 3)$, $(10; 9)$, $(4; 9)$.



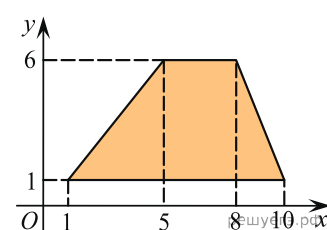
8. Найдите площадь прямоугольника, вершины которого имеют координаты $(1;1)$, $(10;1)$, $(10;7)$, $(1;7)$.



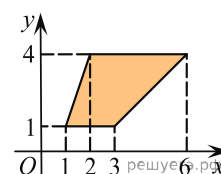
9. Найдите площадь четырехугольника, вершины которого имеют координаты $(8;0)$, $(10;8)$, $(2;10)$, $(0;2)$.



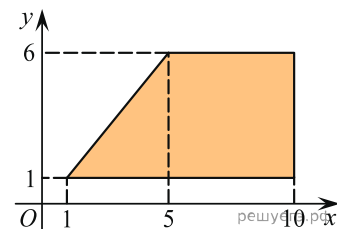
10. Найдите площадь трапеции, вершины которой имеют координаты $(1;1)$, $(10;1)$, $(8;6)$, $(5;6)$.



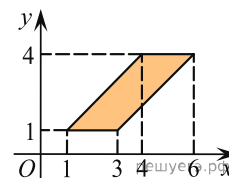
11. Найдите площадь трапеции, изображенной на рисунке.



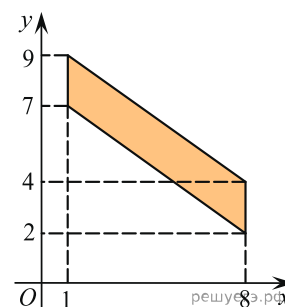
12. Найдите площадь трапеции, вершины которой имеют координаты (1; 1), (10; 1), (10; 6), (5; 6).



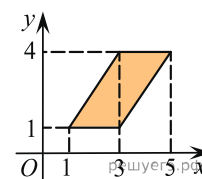
13. Найдите площадь параллелограмма, изображенного на рисунке.



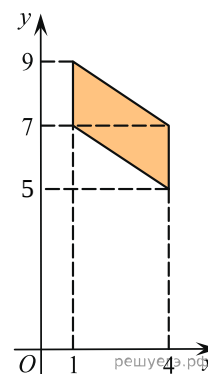
14. Найдите площадь четырехугольника, вершины которого имеют координаты (1; 7), (8; 2), (8; 4), (1; 9).



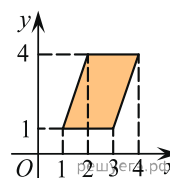
15. Найдите площадь параллелограмма, изображенного на рисунке.



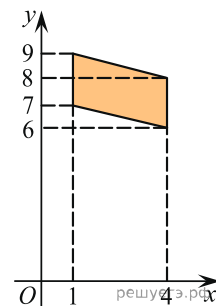
16. Найдите площадь четырехугольника, вершины которого имеют координаты (1; 7), (4; 5), (4; 7), (1; 9).



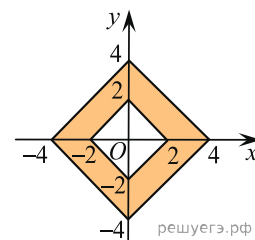
17. Найдите площадь параллелограмма, изображенного на рисунке.



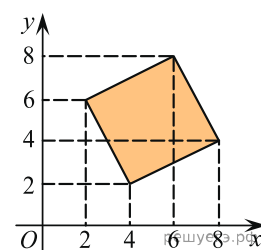
18. Найдите площадь четырехугольника, вершины которого имеют координаты $(1; 7)$, $(4; 6)$, $(4; 8)$, $(1; 9)$.



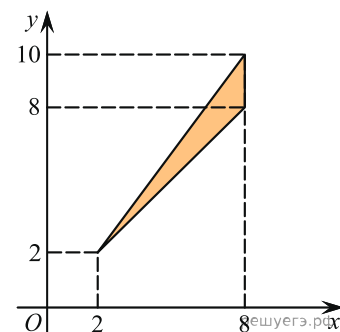
19. Найдите площадь закрашенной фигуры на координатной плоскости.



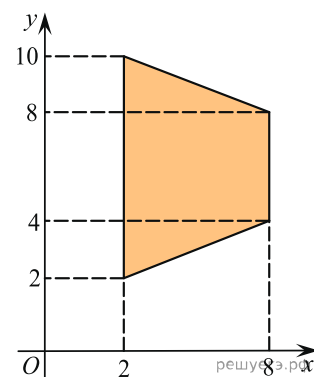
20. Найдите площадь четырехугольника, вершины которого имеют координаты $(4; 2)$, $(8; 4)$, $(6; 8)$, $(2; 6)$.



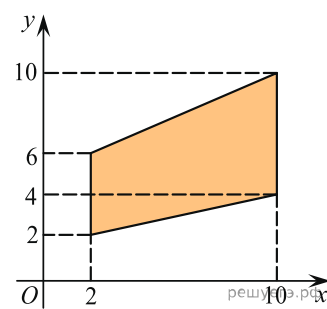
21. Найдите площадь треугольника, вершины которого имеют координаты $(2; 2)$, $(8; 10)$, $(8; 8)$.



22. Найдите площадь трапеции, вершины которой имеют координаты $(2; 2)$, $(8; 4)$, $(8; 8)$, $(2; 10)$.



23. Найдите площадь трапеции, вершины которой имеют координаты $(2; 2)$, $(10; 4)$, $(10; 10)$, $(2; 6)$.



24. Найдите площадь параллелограмма, изображённого на рисунке.

