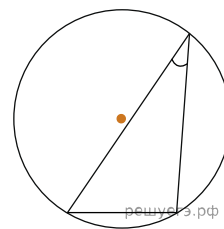


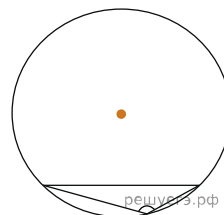
1. Треугольник ABC вписан в окружность с центром O . Найдите угол BOC , если угол BAC равен 32° .

2. Найдите центральный угол AOB , если он на 15° больше вписанного угла ACB , опирающегося на ту же дугу. Ответ дайте в градусах.

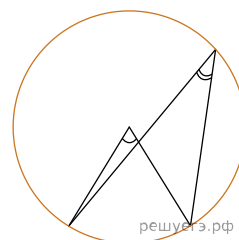
3. Чему равен острый вписанный угол, опирающийся на хорду, равную радиусу окружности? Ответ дайте в градусах.



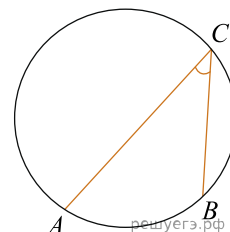
4. Чему равен тупой вписанный угол, опирающийся на хорду, равную радиусу окружности? Ответ дайте в градусах.



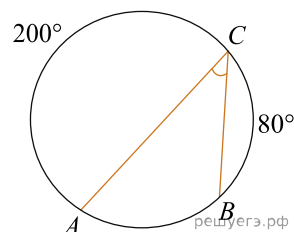
5. Центральный угол на 36° больше острого вписанного угла, опирающегося на ту же дугу окружности. Найдите вписанный угол. Ответ дайте в градусах.



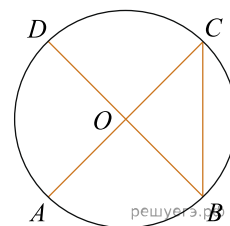
6. Найдите вписанный угол, опирающийся на дугу, которая составляет $\frac{1}{5}$ окружности. Ответ дайте в градусах.



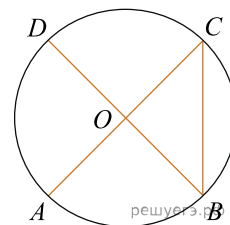
7. Дуга окружности AC , не содержащая точки B , составляет 200° . А дуга окружности BC , не содержащая точки A , составляет 80° . Найдите вписанный угол ACB . Ответ дайте в градусах.



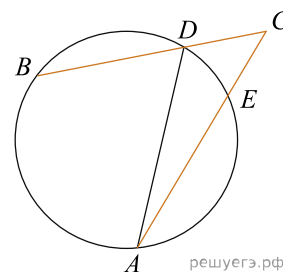
8. В окружности с центром O отрезки AC и BD — диаметры. Вписанный угол ACB равен 38° . Найдите центральный угол AOD . Ответ дайте в градусах.



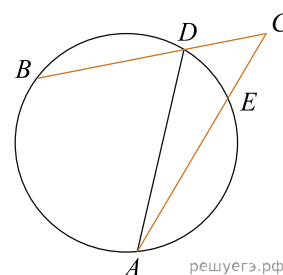
9. В окружности с центром O отрезки AC и BD — диаметры. Центральный угол AOD равен 110° . Найдите вписанный угол ACB . Ответ дайте в градусах.



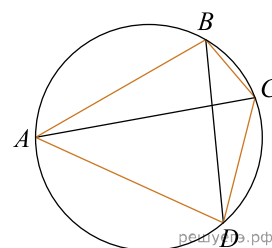
10. Найдите угол ACB , если вписанные углы ADB и DAE опираются на дуги окружности, градусные величины которых равны соответственно 118° и 38° . Ответ дайте в градусах.



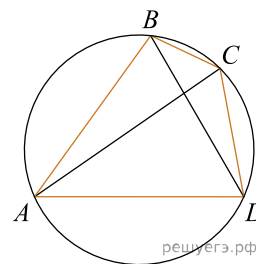
11. Угол ACB равен 42° . Градусная величина дуги AB окружности, не содержащей точек D и E , равна 124° . Найдите угол DAE . Ответ дайте в градусах.



12. Четырёхугольник $ABCD$ вписан в окружность. Угол ABD равен 61° , угол CAD равен 37° . Найдите угол ABC . Ответ дайте в градусах.

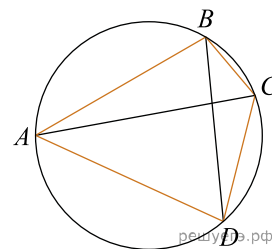


13. Угол ABD равен 53° . Угол BCA равен 38° . Найдите вписанный угол BCD . Ответ дайте в градусах.



14. Угол между двумя соседними сторонами правильного многоугольника, равен 160° . Найдите число вершин многоугольника.

15. Четырёхугольник $ABCD$ вписан в окружность. Угол ABC равен 102° , угол CAD равен 46° . Найдите угол ABD . Ответ дайте в градусах.



16. На окружности по разные стороны от диаметра MN взяты точки K и P . Известно, что $\angle MNP = 36^\circ$. Найдите $\angle PKN$.
Ответ дайте в градусах.