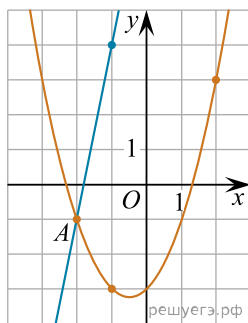
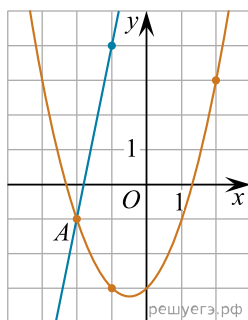


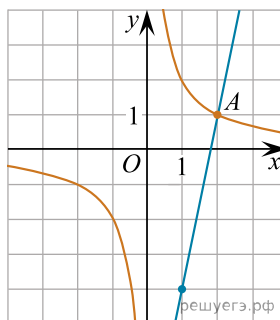
1. На рисунке изображены графики функций $f(x) = 5x + 9$ и $g(x) = ax^2 + bx + c$, которые пересекаются в точках A и B . Найдите абсциссу точки B .



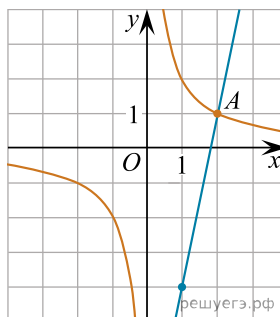
2. На рисунке изображены графики функций $f(x) = 5x + 9$ и $g(x) = ax^2 + bx + c$, которые пересекаются в точках A и B . Найдите ординату точки B .



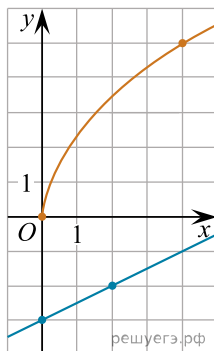
3. На рисунке изображены графики функций $f(x) = \frac{k}{x}$ и $g(x) = ax + b$, которые пересекаются в точках A и B . Найдите абсциссу точки B .



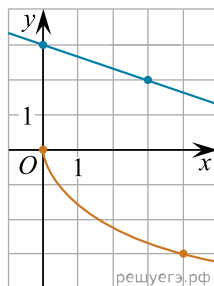
4. На рисунке изображены графики функций $f(x) = \frac{k}{x}$ и $g(x) = ax + b$, которые пересекаются в точках A и B . Найдите ординату точки B .



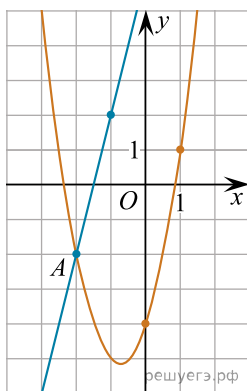
5. На рисунке изображены графики функций $f(x) = a\sqrt{x}$ и $g(x) = kx + b$, которые пересекаются в точке A . Найдите абсциссу точки A .



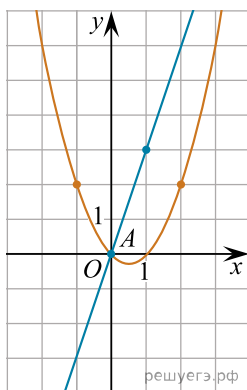
6. На рисунке изображены графики функций $f(x) = a\sqrt{x}$ и $g(x) = kx + b$, которые пересекаются в точке A . Найдите ординату точки A .



7. На рисунке изображены графики функций $f(x) = ax^2 + bx + c$ и $g(x) = kx + d$, которые пересекаются в точках A и B . Найдите абсциссу точки B .



8. На рисунке изображены графики функций $f(x) = ax^2 + bx + c$ и $g(x) = kx$, пересекающиеся в точках A и B . Найдите абсциссу точки B .



9. На рисунке изображены графики функций видов $f(x) = a\sqrt{x}$ и $g(x) = kx$, пересекающиеся в точках A и B . Найдите абсциссу точки B .

