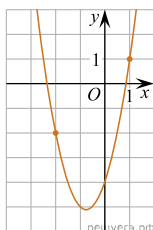
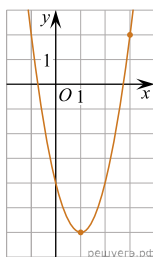


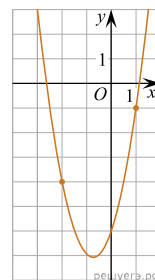
1. На рисунке изображён график функции $f(x) = 2x^2 + bx + c$.
Найдите $f(-5)$.



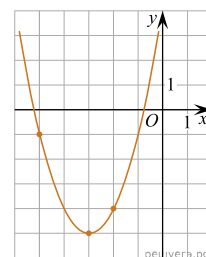
2. На рисунке изображён график функции $f(x) = ax^2 - 4x + c$.
Найдите $f(-3)$.



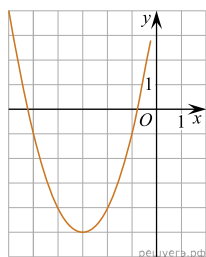
3. На рисунке изображён график функции $f(x) = ax^2 + bx - 6$.
Найдите $f(-6)$.



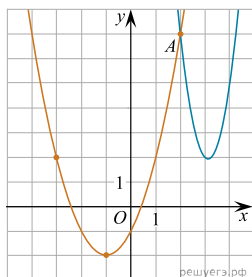
4. На рисунке изображён график функции $f(x) = ax^2 + bx + c$. Найдите $f(-9)$.



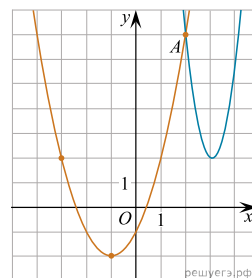
5. На рисунке изображён график функции $f(x) = ax^2 + bx + c$, где числа a , b и c — целые. Найдите $f(1)$.



6. На рисунке изображены графики функций $f(x) = 4x^2 - 25x + 41$ и $g(x) = ax^2 + bx + c$, которые пересекаются в точках A и B . Найдите абсциссу точки B .



7. На рисунке изображены графики функций $f(x) = 4x^2 - 25x + 41$ и $g(x) = ax^2 + bx + c$, которые пересекаются в точках A и B . Найдите ординату точки B .



8. На рисунке изображён график функции вида $f(x) = ax^2 + bx + c$, где числа a , b и c — целые. Найдите $f(-12)$.

