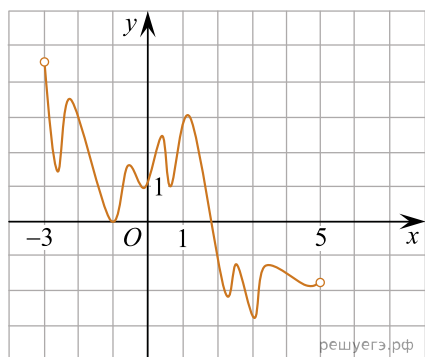
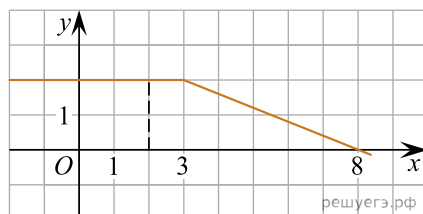


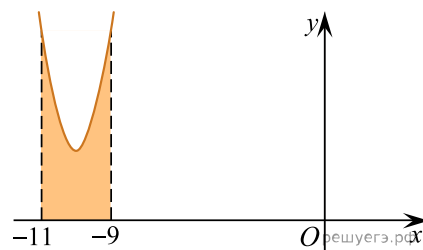
1. На рисунке изображён график функции  $y = F(x)$  — одной из первообразных функции  $f(x)$ , определённой на интервале  $(-3; 5)$ . Найдите количество решений уравнения  $f(x) = 0$  на отрезке  $[-2; 4]$ .



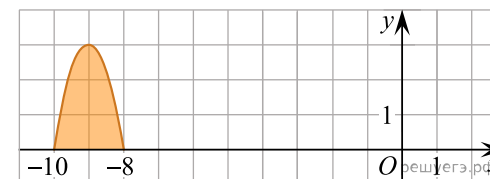
2. На рисунке изображён график некоторой функции  $y = f(x)$  (два луча с общей начальной точкой). Пользуясь рисунком, вычислите  $F(8) - F(2)$ , где  $F(x)$  — одна из первообразных функции  $f(x)$ .



3. На рисунке изображён график функции  $y = f(x)$ . Функция  $F(x) = x^3 + 30x^2 + 302x - \frac{15}{8}$  — одна из первообразных функции  $y = f(x)$ . Найдите площадь закрашенной фигуры.



4. На рисунке изображён график некоторой функции  $y = f(x)$ . Функция  $F(x) = -x^3 - 27x^2 - 240x - 8$  — одна из первообразных функции  $f(x)$ . Найдите площадь закрашенной фигуры.



5. На рисунке изображён график некоторой функции  $y = f(x)$ . Пользуясь рисунком, вычислите определенный интеграл  $\int_1^5 f(x) dx$ .

