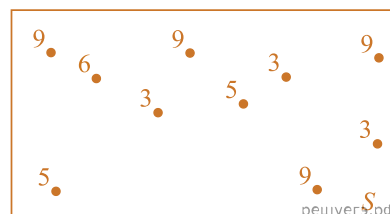


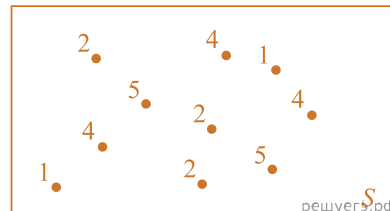
1. На диаграмме Эйлера схематически показали случайный опыт S , с которым связана случайная величина X . Все элементарные события равновозможны, и около каждого указано соответствующее значение случайной величины X .

Найдите вероятность события $X = 9$.



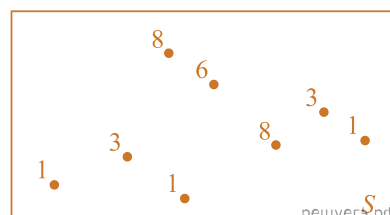
2. На диаграмме Эйлера схематически показали случайный опыт S , с которым связана случайная величина X . Все элементарные события равновозможны, и около каждого указано соответствующее значение случайной величины X .

Найдите вероятность события $X = 4$.




3. На диаграмме Эйлера схематически показали случайный опыт S , с которым связана случайная величина X . Все элементарные события равновозможны, и около каждого указано соответствующее значение случайной величины X .

Найдите вероятность события $X \geq 5$.



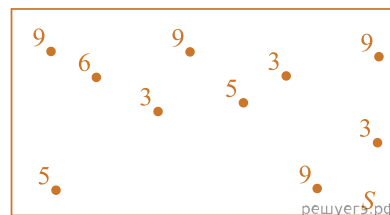
4. На диаграмме Эйлера схематически показали случайный опыт S , с которым связана случайная величина X . Все элементарные события равновозможны, и около каждого указано соответствующее значение случайной величины X .

Найдите вероятность события $X \leq 7$.



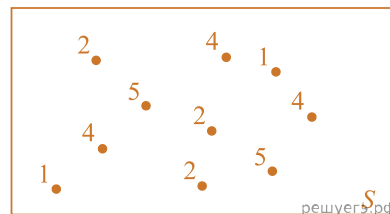
5. На диаграмме Эйлера схематически показали случайный опыт S , с которым связана случайная величина X . Все элементарные события равновозможны, и около каждого указано соответствующее значение случайной величины X .

Найдите вероятность события $X = 5$.



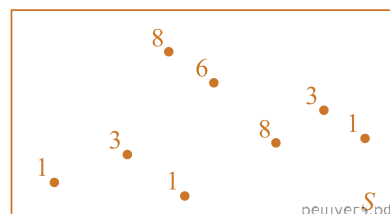
6. На диаграмме Эйлера схематически показали случайный опыт S , с которым связана случайная величина X . Все элементарные события равновозможны, и около каждого указано соответствующее значение случайной величины X .

Найдите вероятность события $X \geq 2$.




7. На диаграмме Эйлера схематически показали случайный опыт S , с которым связана случайная величина X . Все элементарные события равновозможны, и около каждого указано соответствующее значение случайной величины X .

Найдите вероятность события $X \leq 4, 7$.



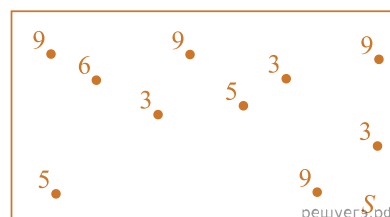
8. На диаграмме Эйлера схематически показали случайный опыт S , с которым связана случайная величина X . Все элементарные события равновозможны, и около каждого указано соответствующее значение случайной величины X .

Найдите вероятность события $2 < X \leq 7$.



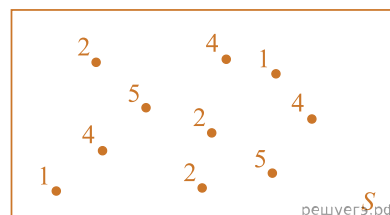
9. На диаграмме Эйлера схематически показали случайный опыт S , с которым связана случайная величина X . Все элементарные события равновозможны, и около каждого указано соответствующее значение случайной величины X .

Найдите вероятность события $X \geq 5, 5$.



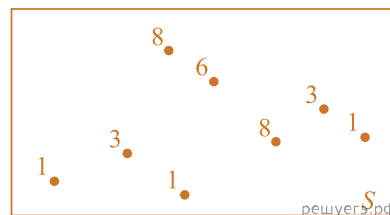
10. На диаграмме Эйлера схематически показали случайный опыт S , с которым связана случайная величина X . Все элементарные события равновозможны, и около каждого указано соответствующее значение случайной величины X .

Найдите вероятность события $X \leq 4, 1$.




11. На диаграмме Эйлера схематически показали случайный опыт S , с которым связана случайная величина X . Все элементарные события равновозможны, и около каждого указано соответствующее значение случайной величины X .

Найдите вероятность события $3 < X \leq 8$.



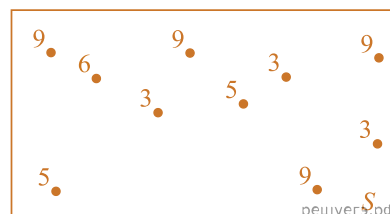
12. На диаграмме Эйлера схематически показали случайный опыт S , с которым связана случайная величина X . Все элементарные события равновозможны, и около каждого указано соответствующее значение случайной величины X .

Найдите вероятность события $X = 2$.



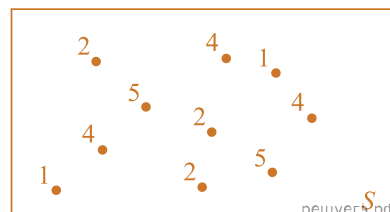
13. На диаграмме Эйлера схематически показали случайный опыт S , с которым связана случайная величина X . Все элементарные события равновозможны, и около каждого указано соответствующее значение случайной величины X .

Найдите вероятность события $X \leq 7$.



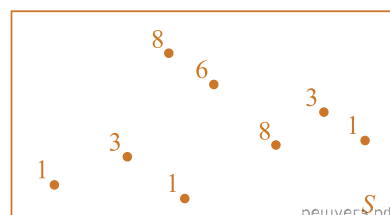
14. На диаграмме Эйлера схематически показали случайный опыт S , с которым связана случайная величина X . Все элементарные события равновозможны, и около каждого указано соответствующее значение случайной величины X .

Найдите вероятность события $1 < X \leq 4$.



15. На диаграмме Эйлера схематически показали случайный опыт S , с которым связана случайная величина X . Все элементарные события равновозможны, и около каждого указано соответствующее значение случайной величины X .

Найдите вероятность события $X = 3$.



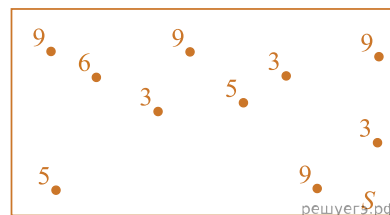
16. На диаграмме Эйлера схематически показали случайный опыт S , с которым связана случайная величина X . Все элементарные события равновозможны, и около каждого указано соответствующее значение случайной величины X .

Найдите вероятность события $X = 1$.



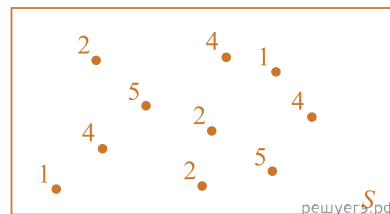
17. На диаграмме Эйлера схематически показали случайный опыт S , с которым связана случайная величина X . Все элементарные события равновозможны, и около каждого указано соответствующее значение случайной величины X .

Найдите вероятность события $3 < X \leq 8$.



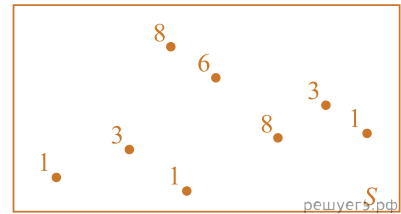
18. На диаграмме Эйлера схематически показали случайный опыт S , с которым связана случайная величина X . Все элементарные события равновозможны, и около каждого указано соответствующее значение случайной величины X .

Найдите вероятность события $X = 1$.



19. На диаграмме Эйлера схематически показали случайный опыт S , с которым связана случайная величина X . Все элементарные события равновозможны, и около каждого указано соответствующее значение случайной величины X .

Найдите вероятность события $X = 1$.



20. На диаграмме Эйлера схематически показали случайный опыт S , с которым связана случайная величина X . Все элементарные события равновозможны, и около каждого указано соответствующее значение случайной величины X .

Найдите вероятность события $X \geq 3, 8$.

