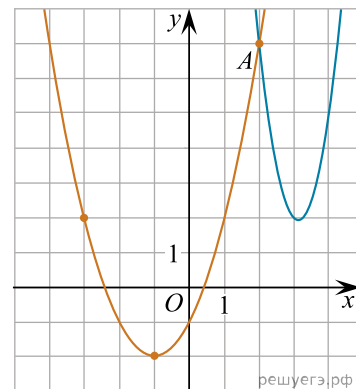
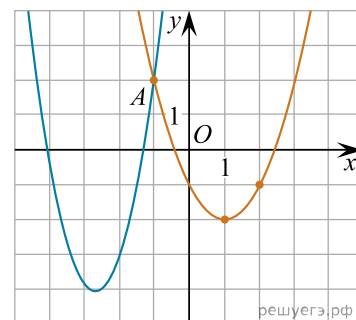


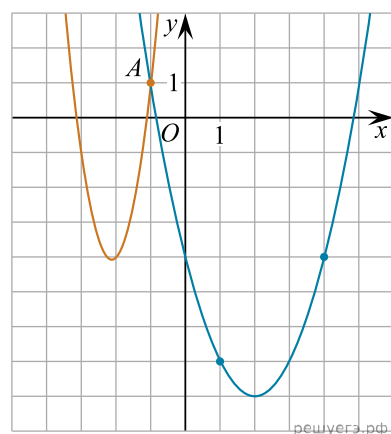
1. На рисунке изображены графики функций $f(x) = 4x^2 - 25x + 41$ и $g(x) = ax^2 + bx + c$, которые пересекаются в точках A и B . Найдите абсциссу точки B .



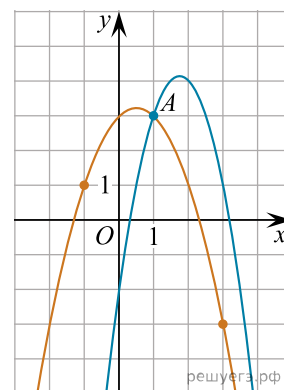
2. На рисунке изображены графики функций $f(x) = 2x^2 + 11x + 11$ и $g(x) = ax^2 + bx + c$, которые пересекаются в точках A и B . Найдите абсциссу точки B .



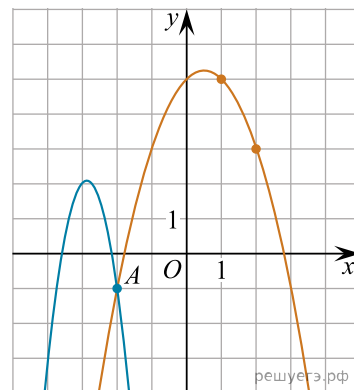
3. На рисунке изображены графики функций $f(x) = 4x^2 + 17x + 14$ и $g(x) = ax^2 + bx + c$, которые пересекаются в точках A и B . Найдите абсциссу точки B .



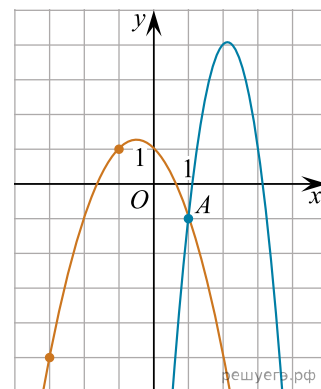
4. На рисунке изображены графики функций $f(x) = -2x^2 + 7x - 2$ и $g(x) = ax^2 + bx + c$, которые пересекаются в точках A и B . Найдите абсциссу точки B .



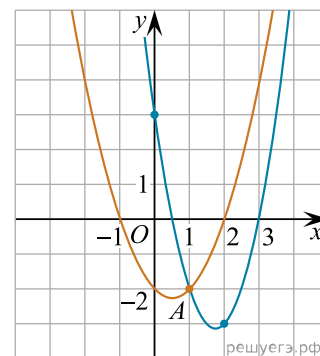
5. На рисунке изображены графики функций $f(x) = -4x^2 - 23x - 31$ и $g(x) = ax^2 + bx + c$, которые пересекаются в точках A и B . Найдите абсциссу точки B .



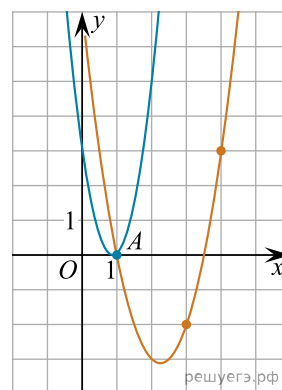
6. На рисунке изображены графики функций $f(x) = -4x^2 + 17x - 14$ и $g(x) = ax^2 + bx + c$, которые пересекаются в точках A и B . Найдите абсциссу точки B .



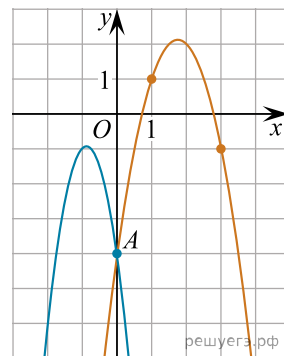
7. На рисунке изображены графики функций $f(x) = x^2 - x - 2$ и $g(x) = ax^2 + bx + c$, которые пересекаются в точках A и B . Найдите абсциссу точки B .



8. На рисунке изображены графики функций $f(x) = 4x^2 - 7x + 3$ и $g(x) = ax^2 + bx + c$, которые пересекаются в точках A and B . Найдите абсциссу точки B .



9. На рисунке изображены графики функций $f(x) = -4x^2 - 7x - 4$ и $g(x) = ax^2 + bx + c$, которые пересекаются в точках A и B . Найдите абсциссу точки B .



10. На рисунке изображены графики функций $f(x) = -4x^2 + 17x - 14$ и $g(x) = ax^2 + bx + c$, которые пересекаются в точках A и B . Найдите ординату точки B .

