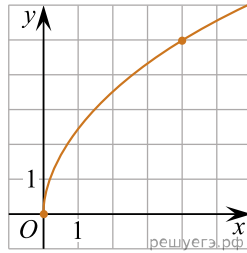
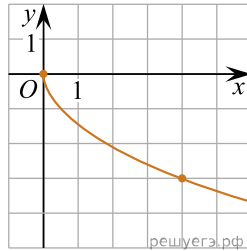


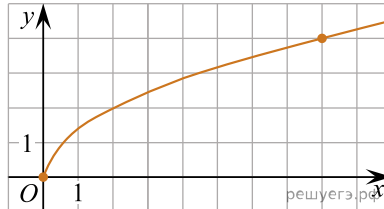
1. На рисунке изображён график функции $f(x) = k\sqrt{x}$. Найдите $f(6,76)$.



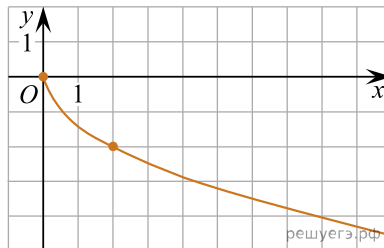
2. На рисунке изображён график функции $f(x) = k\sqrt{x}$. Найдите $f(2,56)$.



3. На рисунке изображён график функции $f(x) = k\sqrt{x}$. Найдите $f(32)$.



4. На рисунке изображён график функции $f(x) = k\sqrt{x}$. Найдите $f(12,5)$.



5. На рисунке изображён график функции $f(x) = k\sqrt{x}$. Найдите $f(48)$.

