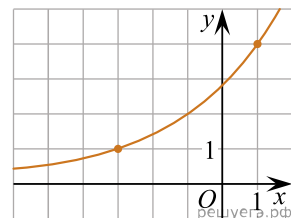
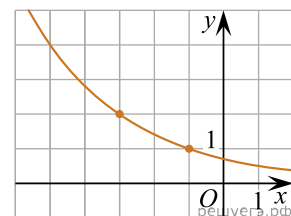


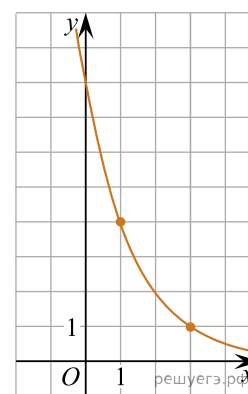
1. На рисунке изображён график функции $f(x) = a^{x+b}$. Найдите $f(-7)$.



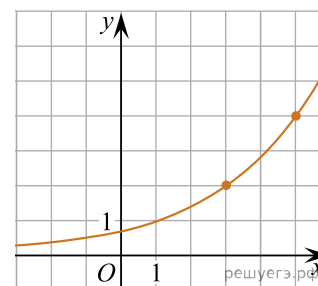
2. На рисунке изображён график функции $f(x) = a^{x+b}$. Найдите $f(-9)$.



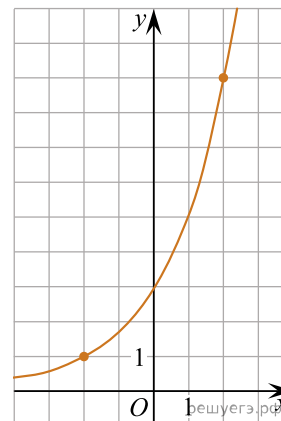
3. На рисунке изображён график функции $f(x) = a^{x+b}$. Найдите $f(-2)$.



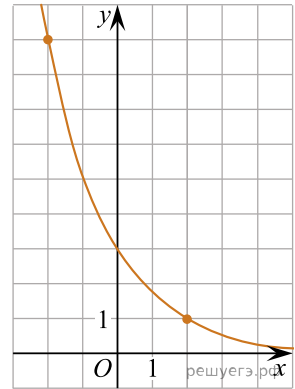
4. На рисунке изображён график функции $f(x) = a^{x+b}$. Найдите $f(-5)$.



5. На рисунке изображён график функции $f(x) = a^{x+b}$. Найдите $f(6)$.



6. На рисунке изображён график функции $f(x) = a^{x+b}$. Найдите $f(-4)$.



7. На рисунке изображён график функции $f(x) = a^x$. Найдите значение $f(-4)$.

