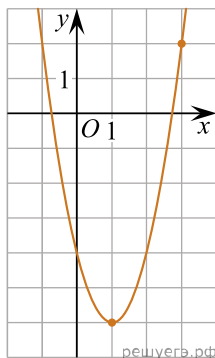
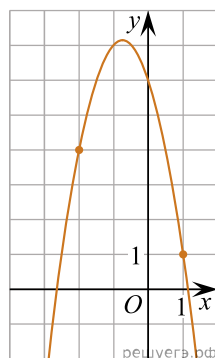


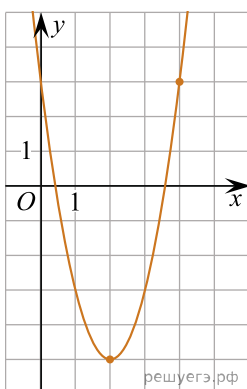
1. На рисунке изображён график функции  $f(x) = ax^2 - 4x + c$ . Найдите  $f(-3)$ .



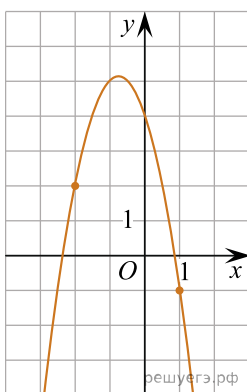
2. На рисунке изображён график функции  $f(x) = ax^2 - 3x + c$ . Найдите  $f(-4)$ .



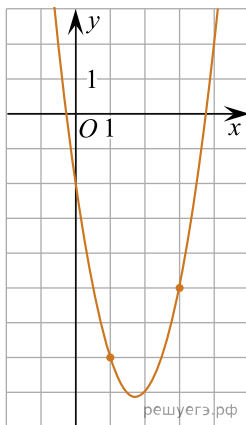
3. На рисунке изображён график функции  $f(x) = ax^2 - 8x + c$ . Найдите  $f(-2)$ .



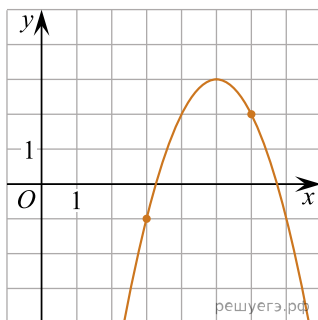
4. На рисунке изображён график функции  $f(x) = ax^2 - 3x + c$ . Найдите  $f(5)$ .



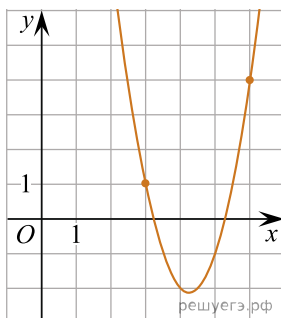
5. На рисунке изображён график функции  $f(x) = ax^2 - 7x + c$ . Найдите  $f(7)$ .



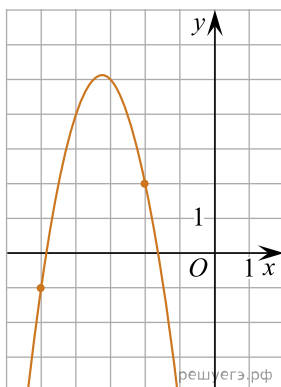
6. На рисунке изображён график функции  $f(x) = ax^2 + 10x + c$ . Найдите  $f(-1)$ .



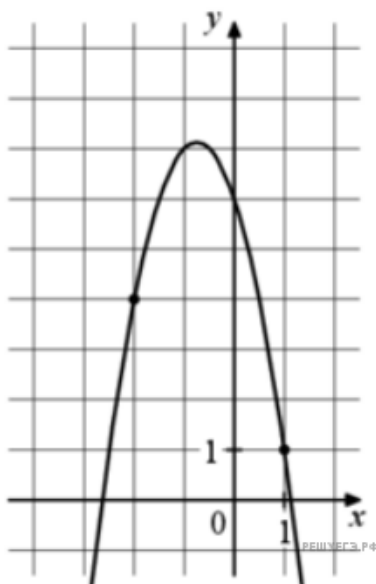
7. На рисунке изображён график функции  $f(x) = ax^2 - 17x + c$ . Найдите  $f(1)$ .



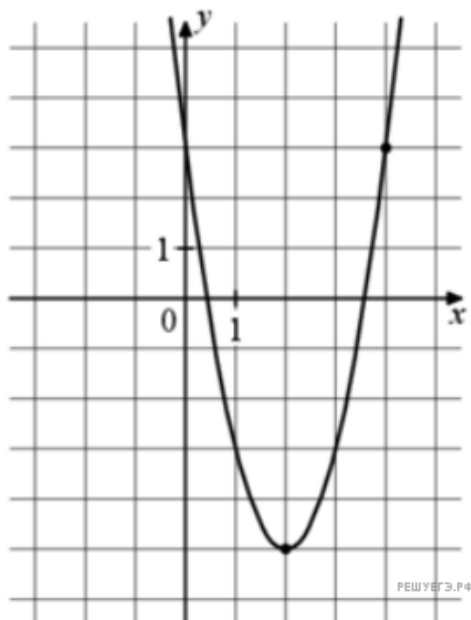
8. На рисунке изображён график функции  $f(x) = ax^2 - 13x + c$ . Найдите  $f(-0,5)$ .



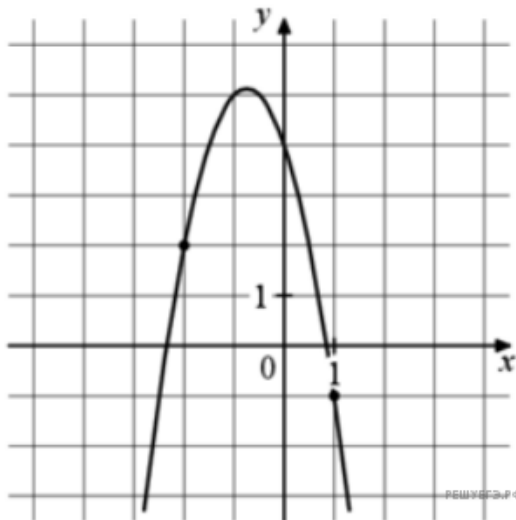
9. На рисунке изображён график функции  $f(x) = ax^2 - 3x + c$ . Найдите  $f(-4)$ .



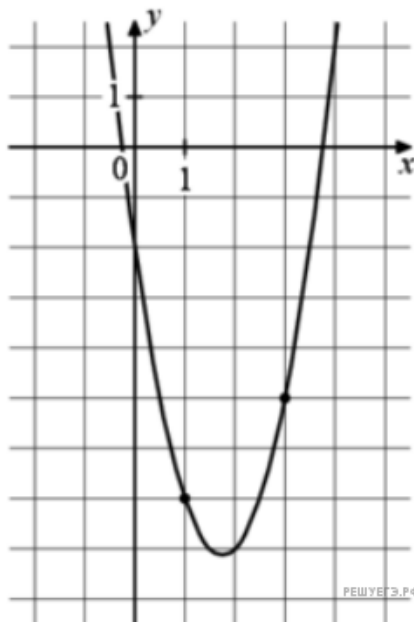
10. На рисунке изображён график функции  $f(x) = ax^2 - 8x + c$ . Найдите  $f(-2)$ .



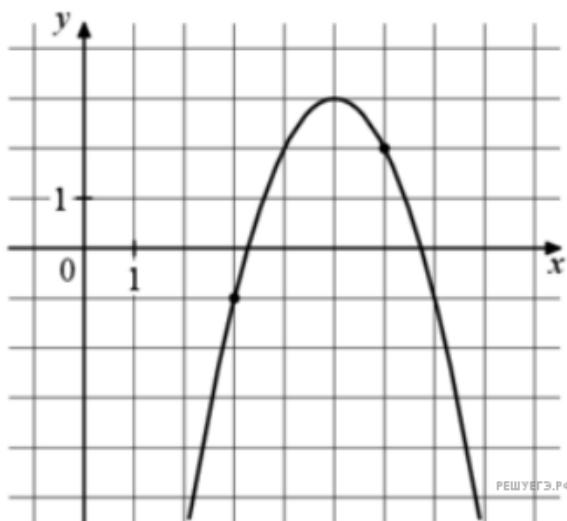
11. На рисунке изображён график функции  $f(x) = ax^2 - 3x + c$ . Найдите  $f(5)$ .



12. На рисунке изображён график функции  $f(x) = ax^2 - 7x + c$ . Найдите  $f(7)$ .

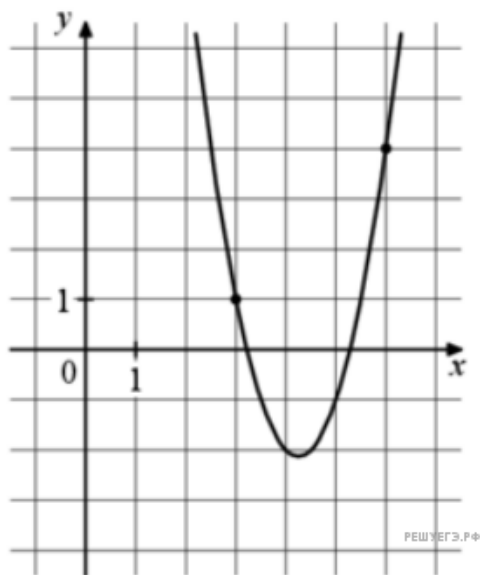


13. На рисунке изображён график функции



$f(x) = ax^2 + 10x + c$ . Найдите  $f(-1)$ .

14. На рисунке изображён график функции  $f(x) = ax^2 - 17x + c$ . Найдите  $f(1)$ .



15. На рисунке изображён график функции  $f(x) = ax^2 - 13x + c$ . Найдите  $f(-0,5)$ .

