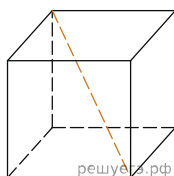
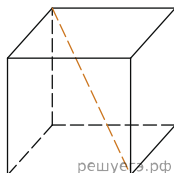


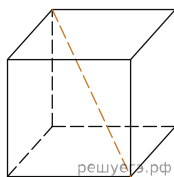
1. Площадь поверхности куба равна 18. Найдите его диагональ.



2. Площадь поверхности куба равна 18. Найдите его диагональ.



3. Площадь поверхности куба равна 2592. Найдите его диагональ.



4. Площадь поверхности куба равна 200. Найдите его диагональ.
5. Площадь поверхности куба равна 1568. Найдите его диагональ.
6. Площадь поверхности куба равна 242. Найдите его диагональ.
7. Площадь поверхности куба равна 32. Найдите его диагональ.
8. Площадь поверхности куба равна 648. Найдите его диагональ.
9. Площадь поверхности куба равна 8. Найдите его диагональ.
10. Площадь поверхности куба равна 1352. Найдите его диагональ.
11. Площадь поверхности куба равна 882. Найдите его диагональ.
12. Площадь поверхности куба равна 1682. Найдите его диагональ.
13. Площадь поверхности куба равна 3698. Найдите его диагональ.
14. Площадь поверхности куба равна 2312. Найдите его диагональ.
15. Площадь поверхности куба равна 450. Найдите его диагональ.
16. Площадь поверхности куба равна 800. Найдите его диагональ.
17. Площадь поверхности куба равна 4050. Найдите его диагональ.
18. Площадь поверхности куба равна 392. Найдите его диагональ.
19. Площадь поверхности куба равна 1458. Найдите его диагональ.
20. Площадь поверхности куба равна 2450. Найдите его диагональ.
21. Площадь поверхности куба равна 2888. Найдите его диагональ.
22. Площадь поверхности куба равна 1922. Найдите его диагональ.
23. Площадь поверхности куба равна 4,5. Найдите его диагональ.
24. Площадь поверхности куба равна 3200. Найдите его диагональ.
25. Площадь поверхности куба равна 3042. Найдите его диагональ.

26. Площадь поверхности куба равна 722. Найдите его диагональ.