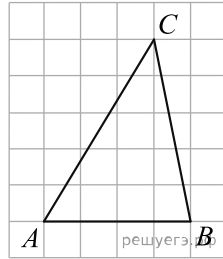
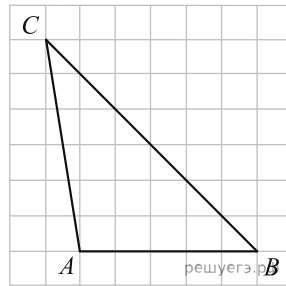


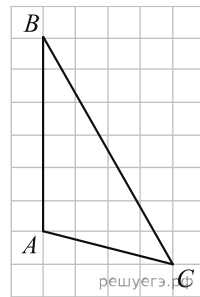
1. На клетчатой бумаге с размером клетки 1×1 изображён треугольник ABC . Найдите длину его средней линии, параллельной стороне AB .



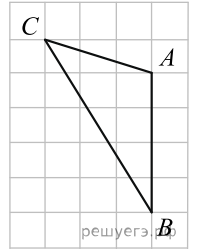
2. На клетчатой бумаге с размером клетки $1 \text{ см} \times 1 \text{ см}$ изображён треугольник ABC . Найдите длину его средней линии, параллельной стороне AB (в сантиметрах).



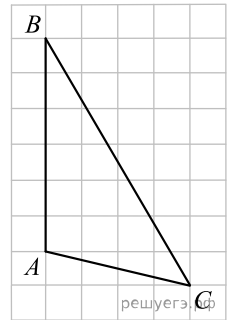
3. На клетчатой бумаге с размером клетки 1×1 изображён треугольник ABC . Найдите длину его средней линии, параллельной стороне AB .



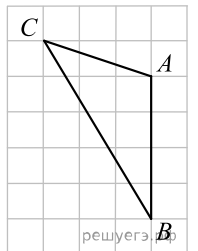
4. На клетчатой бумаге с размером клетки 1×1 изображён треугольник ABC . Найдите длину его средней линии, параллельной стороне AB .



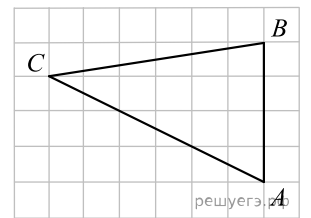
5. На клетчатой бумаге с размером клетки 1×1 изображён треугольник ABC . Найдите длину его средней линии, параллельной стороне AB .



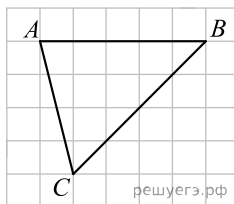
6. На клетчатой бумаге с размером клетки 1×1 изображён треугольник ABC . Найдите длину его средней линии, параллельной стороне AB .



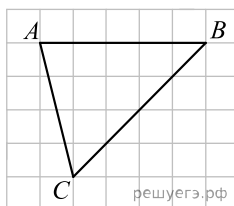
7. На клетчатой бумаге с размером клетки 1×1 изображён треугольник ABC . Найдите длину его высоты, опущенной на сторону AB .



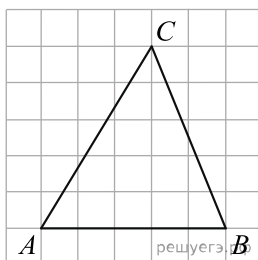
8. На клетчатой бумаге с размером клетки 1×1 изображён треугольник ABC . Найдите длину его высоты, опущенной на сторону AB .



9. На клетчатой бумаге с размером клетки 1×1 изображён треугольник ABC . Найдите длину его средней линии, параллельной стороне AB .



10. На клетчатой бумаге с размером клетки 1×1 изображён треугольник ABC . Найдите длину его средней линии, параллельной стороне AB .



11. На клетчатой бумаге с размером клетки 1×1 изображён треугольник ABC . Найдите длину его средней линии, параллельной стороне AB .

