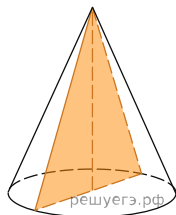
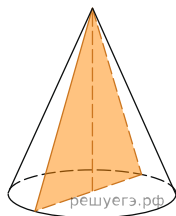


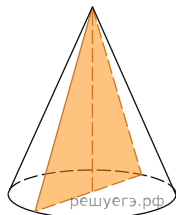
1. Площадь основания конуса равна 16π , высота — 6. Найдите площадь осевого сечения конуса.



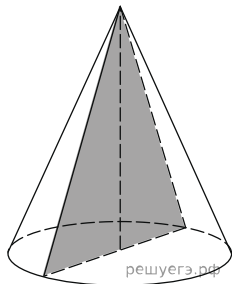
2. Площадь основания конуса равна 36π , высота — 3. Найдите площадь осевого сечения конуса.



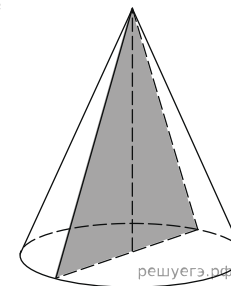
3. Площадь основания конуса равна 36π , высота — 10. Найдите площадь осевого сечения конуса.



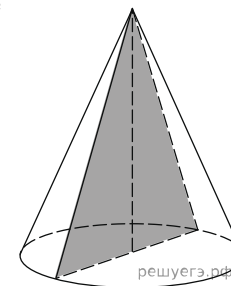
4. Площадь основания конуса равна 9π , высота — 9. Найдите площадь осевого сечения конуса.



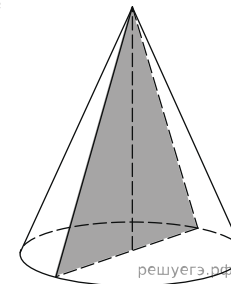
5. Площадь основания конуса равна 100π , высота — 15. Найдите площадь осевого сечения конуса.



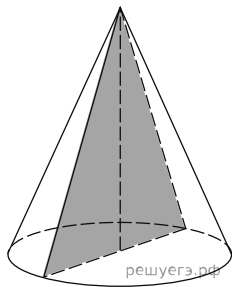
6. Площадь основания конуса равна 25π , высота — 4. Найдите площадь осевого сечения конуса.



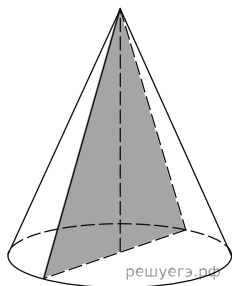
7. Площадь основания конуса равна 49π , высота — 10. Найдите площадь осевого сечения конуса.



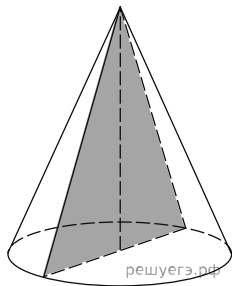
8. Площадь основания конуса равна 64π , высота — 16. Найдите площадь осевого сечения конуса.



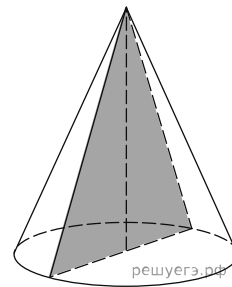
9. Площадь основания конуса равна 16π , высота — 2. Найдите площадь осевого сечения конуса.



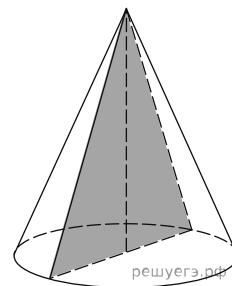
10. Площадь основания конуса равна 4π , высота — 8. Найдите площадь осевого сечения конуса.



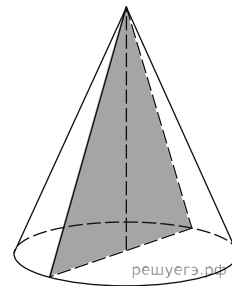
11. Площадь основания конуса равна 81π , высота — 14. Найдите площадь осевого сечения конуса.



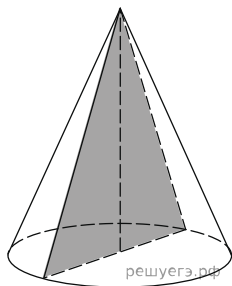
12. Площадь основания конуса равна 36π , высота — 20. Найдите площадь осевого сечения конуса.



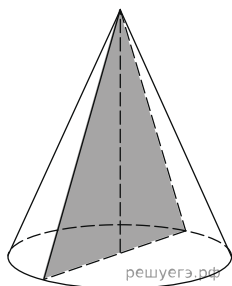
13. Площадь основания конуса равна 9π , высота — 3. Найдите площадь осевого сечения конуса.



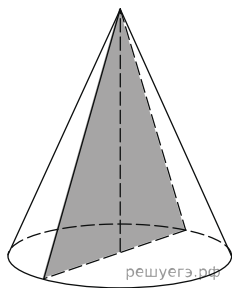
14. Площадь основания конуса равна 100π , высота — 9. Найдите площадь осевого сечения конуса.



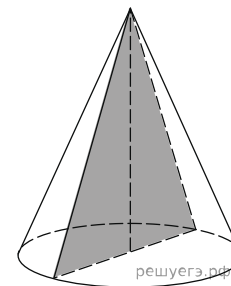
15. Площадь основания конуса равна 25π , высота — 15. Найдите площадь осевого сечения конуса.



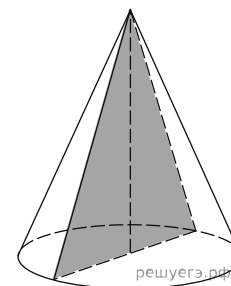
16. Площадь основания конуса равна 49π , высота — 4. Найдите площадь осевого сечения конуса.



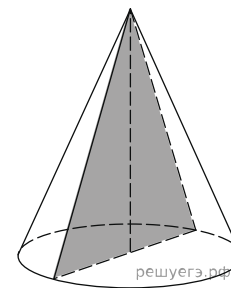
17. Площадь основания конуса равна 64π , высота — 10. Найдите площадь осевого сечения конуса.



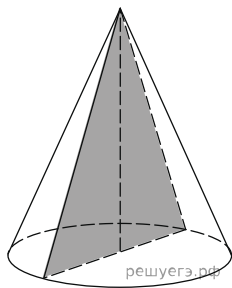
18. Площадь основания конуса равна 16π , высота — 16. Найдите площадь осевого сечения конуса.



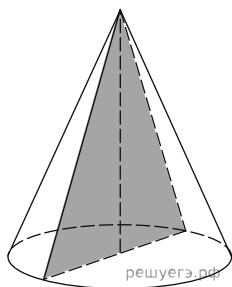
19. Площадь основания конуса равна 4π , высота — 2. Найдите площадь осевого сечения конуса.



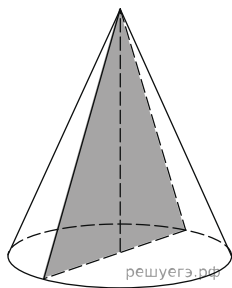
20. Площадь основания конуса равна 81π , высота — 8. Найдите площадь осевого сечения конуса.



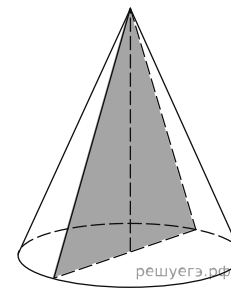
21. Площадь основания конуса равна 36π , высота — 14. Найдите площадь осевого сечения конуса.



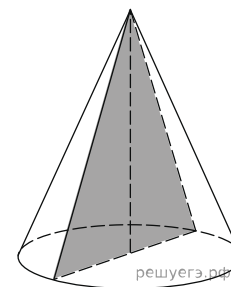
22. Площадь основания конуса равна 9π , высота — 20. Найдите площадь осевого сечения конуса.



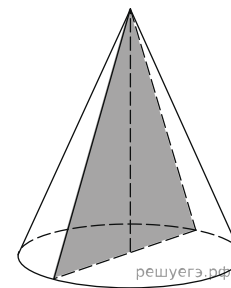
23. Площадь основания конуса равна 100π , высота — 3. Найдите площадь осевого сечения конуса.



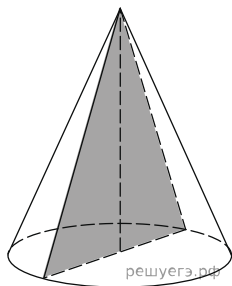
24. Площадь основания конуса равна 25π , высота — 9. Найдите площадь осевого сечения конуса.



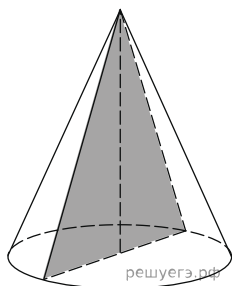
25. Площадь основания конуса равна 49π , высота — 15. Найдите площадь осевого сечения конуса.



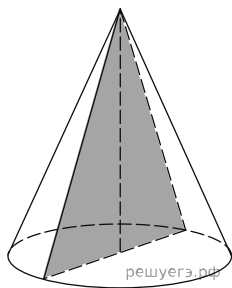
26. Площадь основания конуса равна 64π , высота — 4. Найдите площадь осевого сечения конуса.



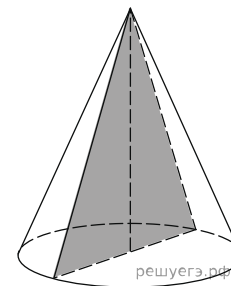
27. Площадь основания конуса равна 16π , высота — 10. Найдите площадь осевого сечения конуса.



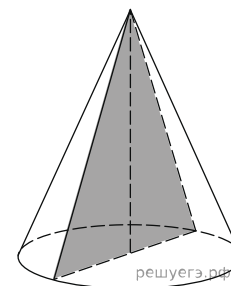
28. Площадь основания конуса равна 4π , высота — 16. Найдите площадь осевого сечения конуса.



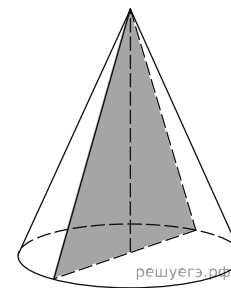
29. Площадь основания конуса равна 81π , высота — 2. Найдите площадь осевого сечения конуса.



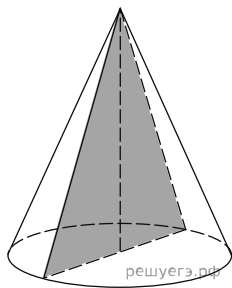
30. Площадь основания конуса равна 36π , высота — 8. Найдите площадь осевого сечения конуса.



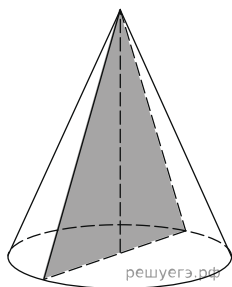
31. Площадь основания конуса равна 9π , высота — 14. Найдите площадь осевого сечения конуса.



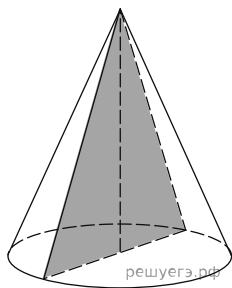
32. Площадь основания конуса равна 100π , высота — 20. Найдите площадь осевого сечения конуса.



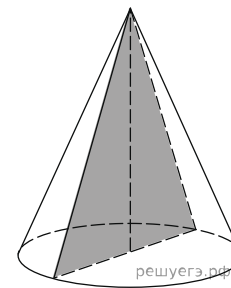
33. Площадь основания конуса равна 25π , высота — 3. Найдите площадь осевого сечения конуса.



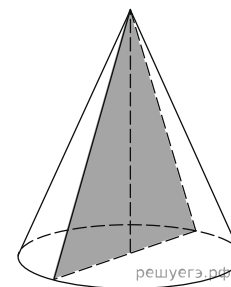
34. Площадь основания конуса равна 49π , высота — 9. Найдите площадь осевого сечения конуса.



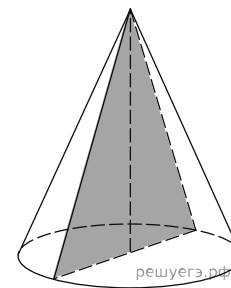
35. Площадь основания конуса равна 64π , высота — 15. Найдите площадь осевого сечения конуса.



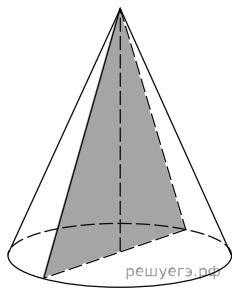
36. Площадь основания конуса равна 16π , высота — 4. Найдите площадь осевого сечения конуса.



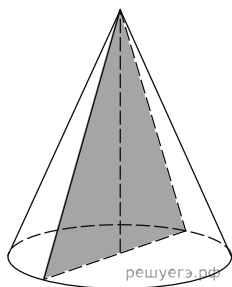
37. Площадь основания конуса равна 4π , высота — 10. Найдите площадь осевого сечения конуса.



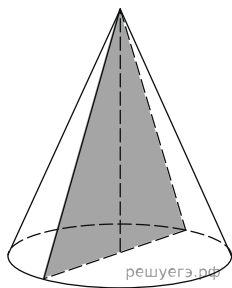
38. Площадь основания конуса равна 81π , высота — 16. Найдите площадь осевого сечения конуса.



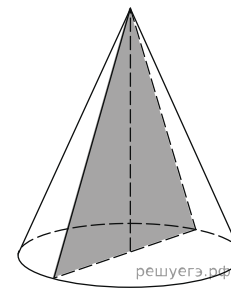
39. Площадь основания конуса равна 36π , высота — 2. Найдите площадь осевого сечения конуса.



40. Площадь основания конуса равна 9π , высота — 8. Найдите площадь осевого сечения конуса.



41. Площадь основания конуса равна 100π , высота — 14. Найдите площадь осевого сечения конуса.



42. Площадь основания конуса равна 25π , высота — 20. Найдите площадь осевого сечения конуса.

