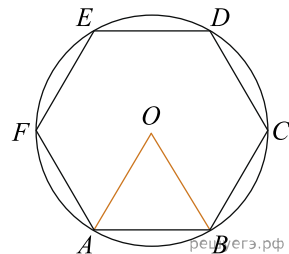
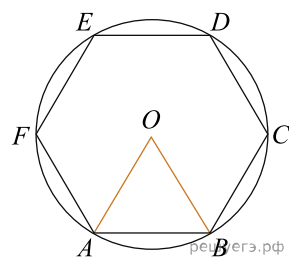


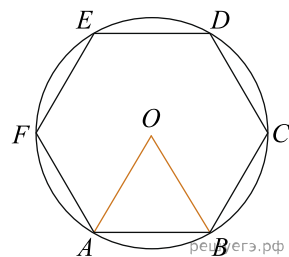
1. Периметр правильного шестиугольника равен 72. Найдите диаметр описанной окружности.



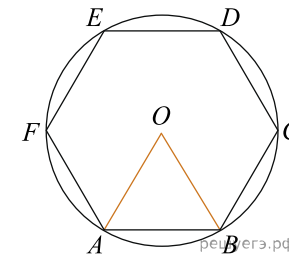
2. Периметр правильного шестиугольника равен 108. Найдите диаметр описанной окружности.



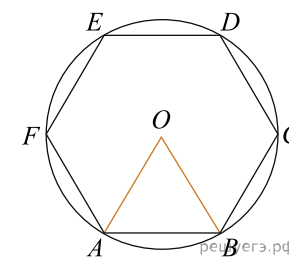
3. Периметр правильного шестиугольника равен 222. Найдите диаметр описанной окружности.



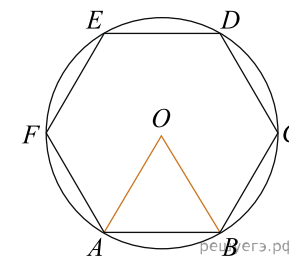
4. Периметр правильного шестиугольника равен 276. Найдите диаметр описанной окружности.



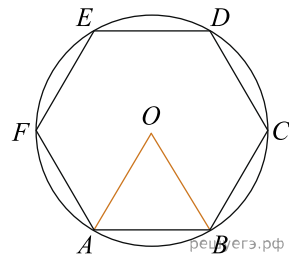
5. Периметр правильного шестиугольника равен 138. Найдите диаметр описанной окружности.



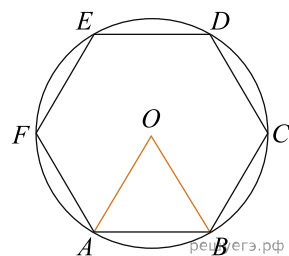
6. Периметр правильного шестиугольника равен 30. Найдите диаметр описанной окружности.



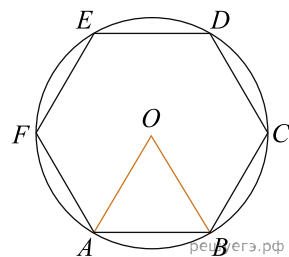
7. Периметр правильного шестиугольника равен 174. Найдите диаметр описанной окружности.



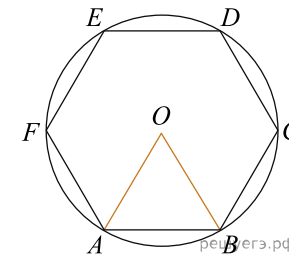
8. Периметр правильного шестиугольника равен 270. Найдите диаметр описанной окружности.



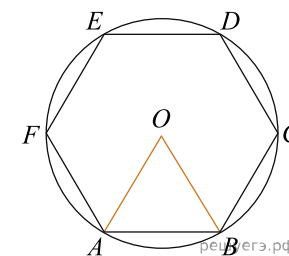
9. Периметр правильного шестиугольника равен 54. Найдите диаметр описанной окружности.



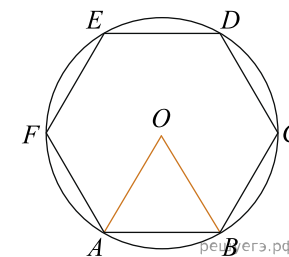
10. Периметр правильного шестиугольника равен 78. Найдите диаметр описанной окружности.



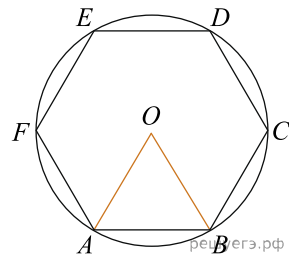
11. Периметр правильного шестиугольника равен 162. Найдите диаметр описанной окружности.



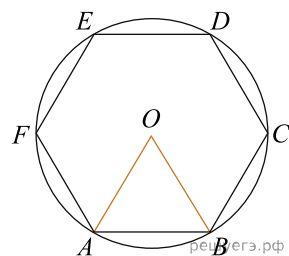
12. Периметр правильного шестиугольника равен 228. Найдите диаметр описанной окружности.



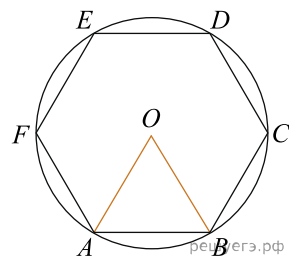
13. Периметр правильного шестиугольника равен 258. Найдите диаметр описанной окружности.



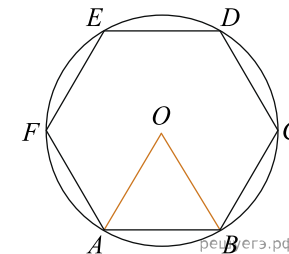
14. Периметр правильного шестиугольника равен 234. Найдите диаметр описанной окружности.



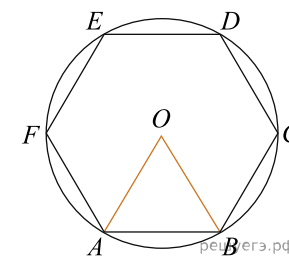
15. Периметр правильного шестиугольника равен 192. Найдите диаметр описанной окружности.



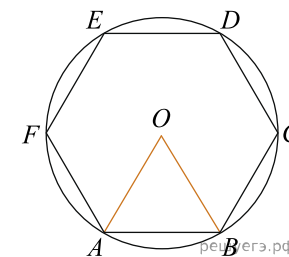
16. Периметр правильного шестиугольника равен 300. Найдите диаметр описанной окружности.



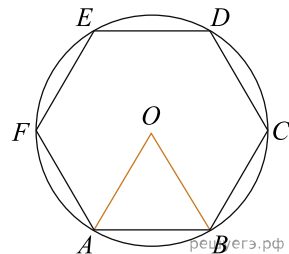
17. Периметр правильного шестиугольника равен 48. Найдите диаметр описанной окружности.



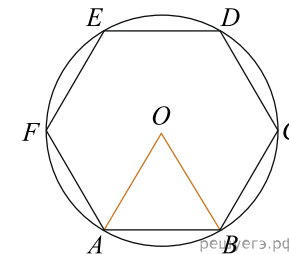
18. Периметр правильного шестиугольника равен 42. Найдите диаметр описанной окружности.



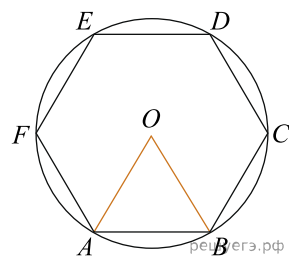
19. Периметр правильного шестиугольника равен 156. Найдите диаметр описанной окружности.



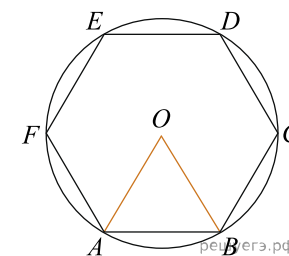
22. Периметр правильного шестиугольника равен 264. Найдите диаметр описанной окружности.



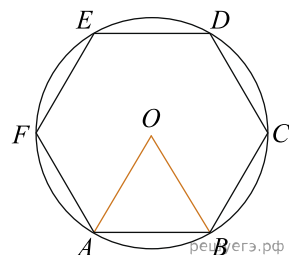
20. Периметр правильного шестиугольника равен 114. Найдите диаметр описанной окружности.



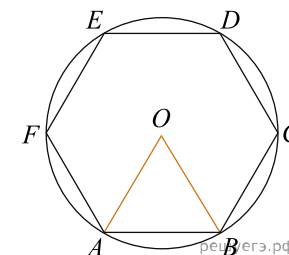
23. Периметр правильного шестиугольника равен 66. Найдите диаметр описанной окружности.



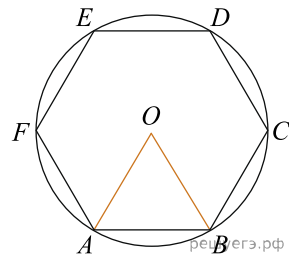
21. Периметр правильного шестиугольника равен 84. Найдите диаметр описанной окружности.



24. Периметр правильного шестиугольника равен 144. Найдите диаметр описанной окружности.



25. Периметр правильного шестиугольника равен 180. Найдите диаметр описанной окружности.



26. Периметр правильного шестиугольника равен 18. Найдите диаметр описанной окружности.

