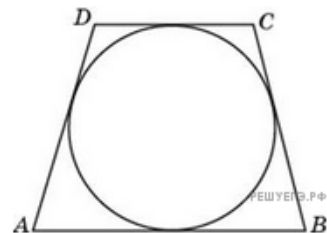
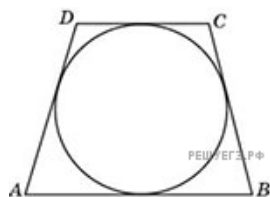


1. Найдите высоту трапеции, в которую вписана окружность радиуса 1.

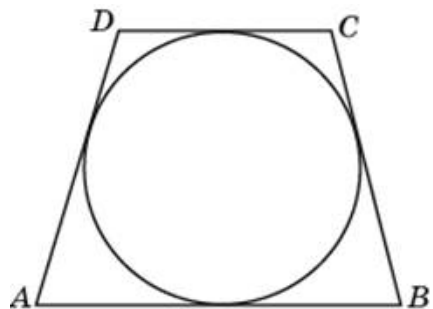


2. Найдите высоту трапеции, в которую вписана окружность радиуса 47.



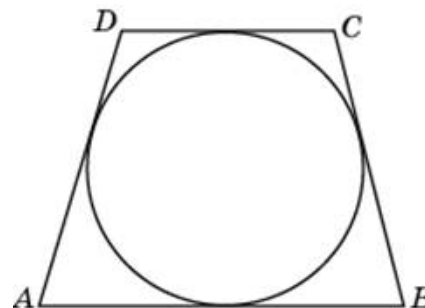
3.

Найдите высоту трапеции, в которую вписана окружность радиуса 25.



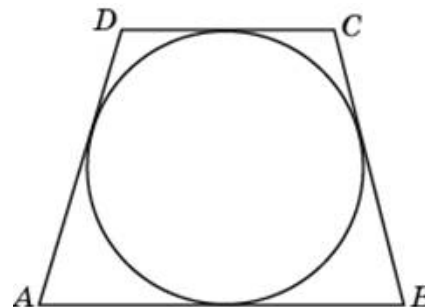
4.

Найдите высоту трапеции, в которую вписана окружность радиуса 45.



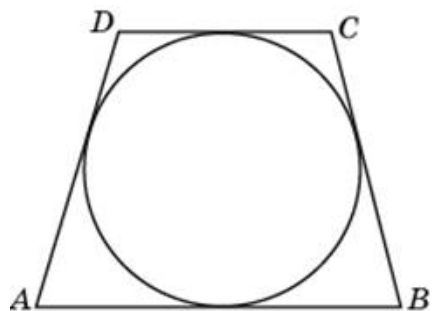
5.

Найдите высоту трапеции, в которую вписана окружность радиуса 44.



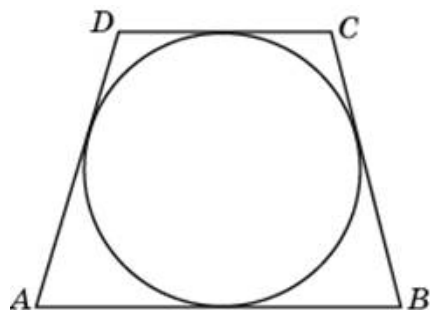
6.

Найдите высоту трапеции, в которую вписана окружность радиуса 26.



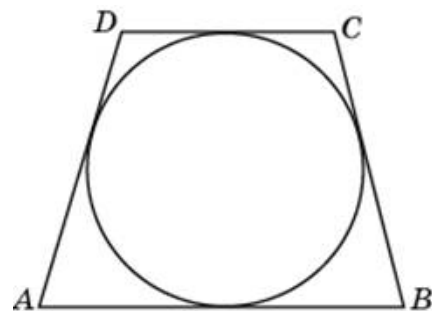
7.

Найдите высоту трапеции, в которую вписана окружность радиуса 46.



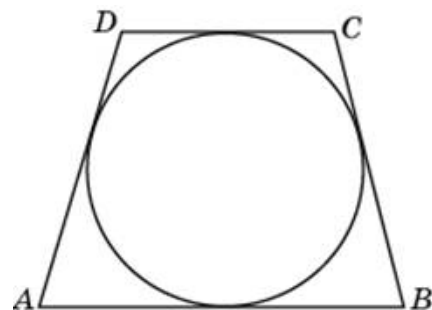
8.

Найдите высоту трапеции, в которую вписана окружность радиуса 14.



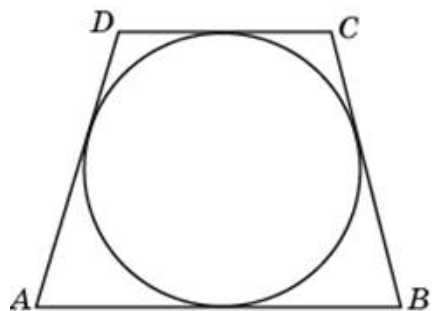
9.

Найдите высоту трапеции, в которую вписана окружность радиуса 32.



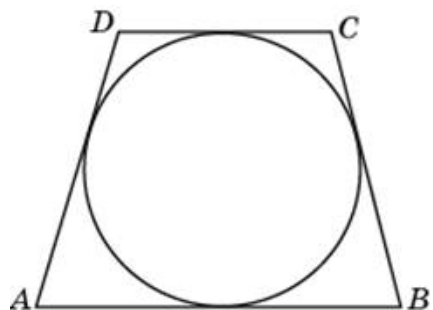
10.

Найдите высоту трапеции, в которую вписана окружность радиуса 1.



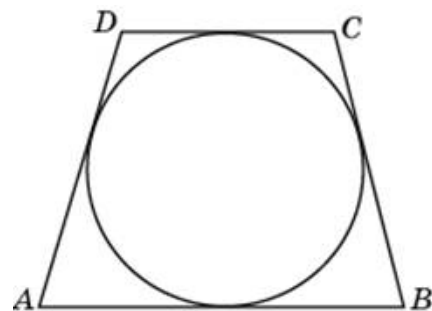
11.

Найдите высоту трапеции, в которую вписана окружность радиуса 15.



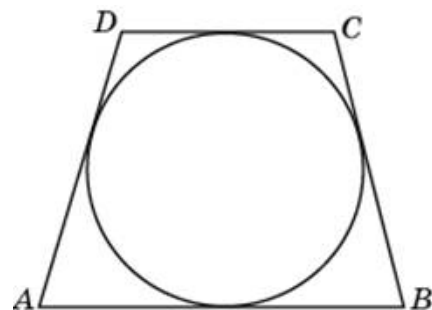
12.

Найдите высоту трапеции, в которую вписана окружность радиуса 2.



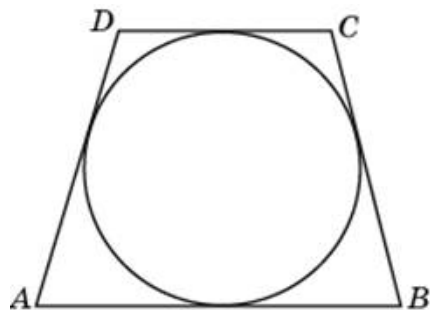
13.

Найдите высоту трапеции, в которую вписана окружность радиуса 37.



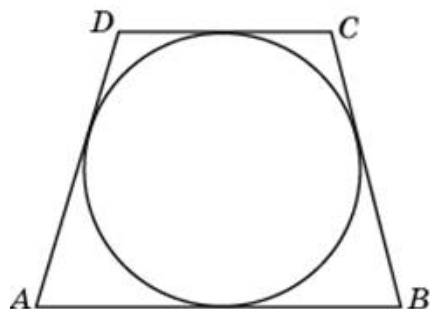
14.

Найдите высоту трапеции, в которую вписана окружность радиуса 6.



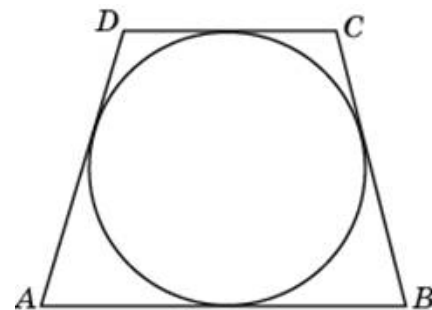
15.

Найдите высоту трапеции, в которую вписана окружность радиуса 38.



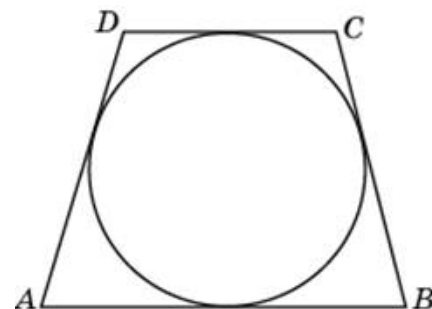
16.

Найдите высоту трапеции, в которую вписана окружность радиуса 4.



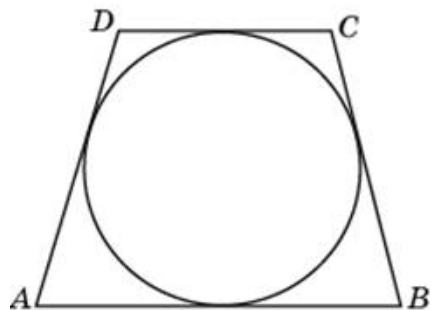
17.

Найдите высоту трапеции, в которую вписана окружность радиуса 5.



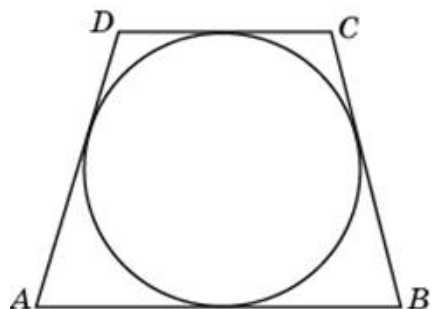
18.

Найдите высоту трапеции, в которую вписана окружность радиуса 29.



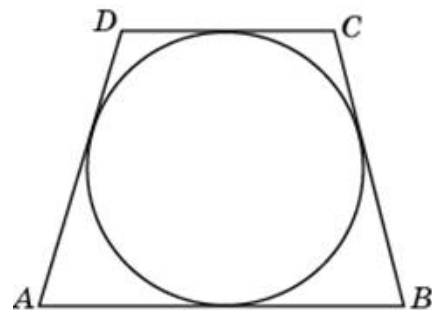
19.

Найдите высоту трапеции, в которую вписана окружность радиуса 21.



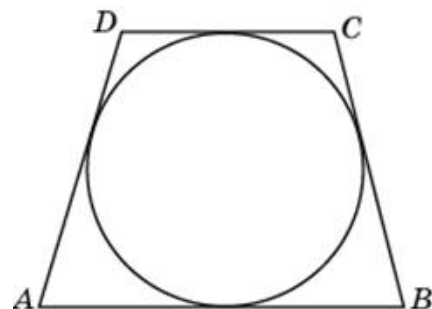
20.

Найдите высоту трапеции, в которую вписана окружность радиуса 3.



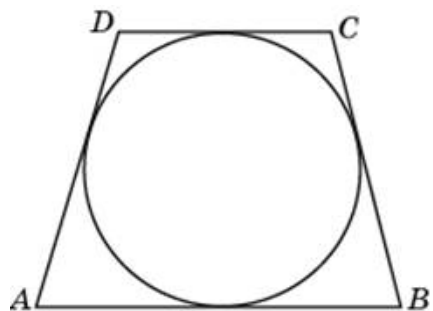
21.

Найдите высоту трапеции, в которую вписана окружность радиуса 36.



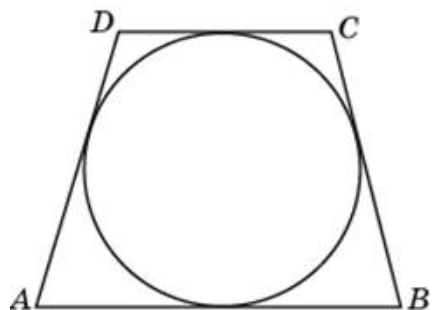
22.

Найдите высоту трапеции, в которую вписана окружность радиуса 7.



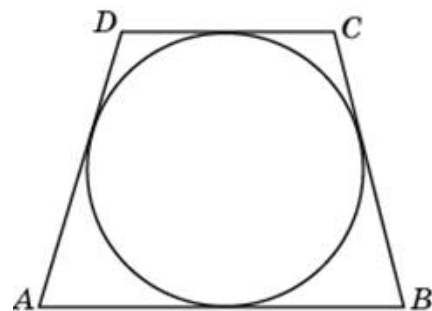
23.

Найдите высоту трапеции, в которую вписана окружность радиуса 42.



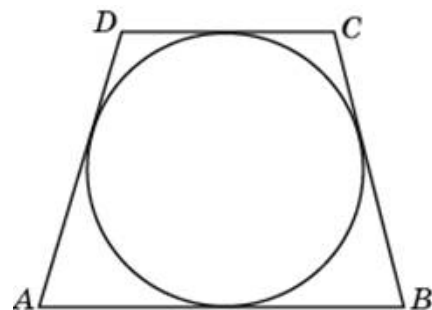
24.

Найдите высоту трапеции, в которую вписана окружность радиуса 40.



25.

Найдите высоту трапеции, в которую вписана окружность радиуса 22.



26.

Найдите высоту трапеции, в которую вписана окружность радиуса 35.

