




1. Найдите радиус окружности, вписанной в квадрат со стороной 4.




2. Найдите радиус окружности, вписанной в квадрат со стороной 56.



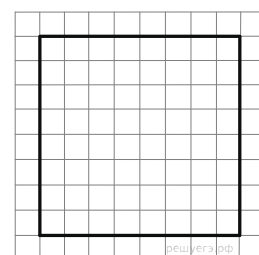
3. Найдите радиус окружности, вписанной в квадрат со стороной 26.



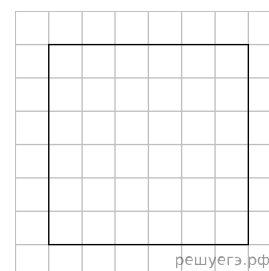
4. Найдите радиус окружности, вписанной в квадрат со стороной 20.



5. На клетчатой бумаге с размером клетки 1×1 изображён квадрат. Найдите радиус вписанной в него окружности.




6. На клетчатой бумаге с размером клетки 1×1 изображён квадрат. Найдите радиус вписанной в него окружности.




7.

Найдите радиус окружности, вписанной в квадрат со стороной 24.




8.

Найдите радиус окружности, вписанной в квадрат со стороной 48.




9.

Найдите радиус окружности, вписанной в квадрат со стороной 16.




10.

Найдите радиус окружности, вписанной в квадрат со стороной 96.




11.

Найдите радиус окружности, вписанной в квадрат со стороной 44.




12.

Найдите радиус окружности, вписанной в квадрат со стороной 70.




13.

Найдите радиус окружности, вписанной в квадрат со стороной 6.




14.

Найдите радиус окружности, вписанной в квадрат со стороной 92.




15.

Найдите радиус окружности, вписанной в квадрат со стороной 86.




16.

Найдите радиус окружности, вписанной в квадрат со стороной 12.




17.

Найдите радиус окружности, вписанной в квадрат со стороной 94.




18.

Найдите радиус окружности, вписанной в квадрат со стороной 76.




19.

Найдите радиус окружности, вписанной в квадрат со стороной 84.




20.

Найдите радиус окружности, вписанной в квадрат со стороной 66.




21.

Найдите радиус окружности, вписанной в квадрат со стороной 34.




22.

Найдите радиус окружности, вписанной в квадрат со стороной 40.




23.

Найдите радиус окружности, вписанной в квадрат со стороной 98.




24.

Найдите радиус окружности, вписанной в квадрат со стороной 30.




25.

Найдите радиус окружности, вписанной в квадрат со стороной 28.




26.

Найдите радиус окружности, вписанной в квадрат со стороной 88.



27.

Найдите радиус окружности, вписанной в квадрат со стороной 14.



28.

Найдите радиус окружности, вписанной в квадрат со стороной 36.

