




1. Найдите сторону квадрата, вписанного в окружность радиуса  $\sqrt{8}$ .




2. Найдите сторону квадрата, вписанного в окружность радиуса  $45\sqrt{2}$ .



3. Найдите сторону квадрата, вписанного в окружность радиуса  $43\sqrt{2}$ .




4. Найдите сторону квадрата, вписанного в окружность радиуса  $46\sqrt{2}$ .




5.

Найдите сторону квадрата, вписанного в окружность радиуса  $7\sqrt{2}$ .




6.

Найдите сторону квадрата, вписанного в окружность радиуса  $16\sqrt{2}$ .




7.

Найдите сторону квадрата, вписанного в окружность радиуса  $9\sqrt{2}$ .




8.

Найдите сторону квадрата, вписанного в окружность радиуса  $4\sqrt{2}$ .




9.

Найдите сторону квадрата, вписанного в окружность радиуса  $36\sqrt{2}$ .




10.

Найдите сторону квадрата, вписанного в окружность радиуса  $19\sqrt{2}$ .




11.

Найдите сторону квадрата, вписанного в окружность радиуса  $35\sqrt{2}$ .




12.

Найдите сторону квадрата, вписанного в окружность радиуса  $47\sqrt{2}$ .




13.

Найдите сторону квадрата, вписанного в окружность радиуса  $2\sqrt{2}$ .




14.

Найдите сторону квадрата, вписанного в окружность радиуса  $34\sqrt{2}$ .




15.

Найдите сторону квадрата, вписанного в окружность радиуса  $50\sqrt{2}$ .




16.

Найдите сторону квадрата, вписанного в окружность радиуса  $23\sqrt{2}$ .




17.

Найдите сторону квадрата, вписанного в окружность радиуса  $48\sqrt{2}$ .




18.

Найдите сторону квадрата, вписанного в окружность радиуса  $41\sqrt{2}$ .




19.

Найдите сторону квадрата, вписанного в окружность радиуса  $27\sqrt{2}$ .




20.

Найдите сторону квадрата, вписанного в окружность радиуса  $49\sqrt{2}$ .




21.

Найдите сторону квадрата, вписанного в окружность радиуса  $32\sqrt{2}$ .




22.

Найдите сторону квадрата, вписанного в окружность радиуса  $40\sqrt{2}$ .




23.

Найдите сторону квадрата, вписанного в окружность радиуса  $29\sqrt{2}$ .




24.

Найдите сторону квадрата, вписанного в окружность радиуса  $24\sqrt{2}$ .



25.

Найдите сторону квадрата, вписанного в окружность радиуса  $30\sqrt{2}$ .



26.

Найдите сторону квадрата, вписанного в окружность радиуса  $5\sqrt{2}$ .

