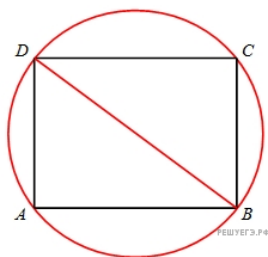
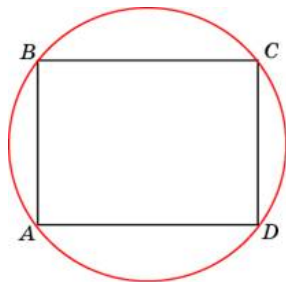


1. Найдите диагональ прямоугольника, вписанного в окружность, радиус которой равен 5.

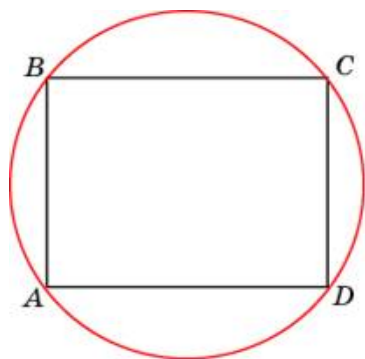


2. Найдите диагональ прямоугольника, вписанного в окружность, радиус которой равен 46.



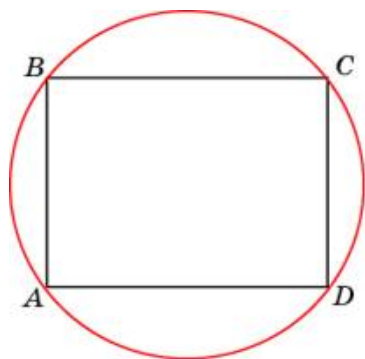
3.

Найдите диагональ прямоугольника, вписанного в окружность, радиус которой равен 11.



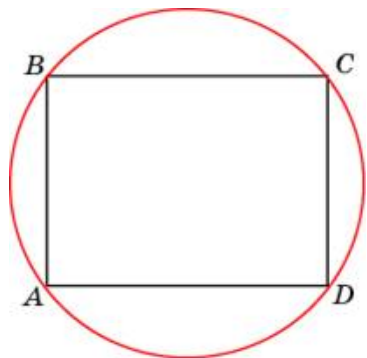
4.

Найдите диагональ прямоугольника, вписанного в окружность, радиус которой равен 17.



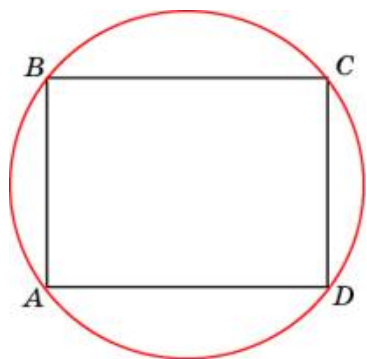
5.

Найдите диагональ прямоугольника, вписанного в окружность, радиус которой равен 16.



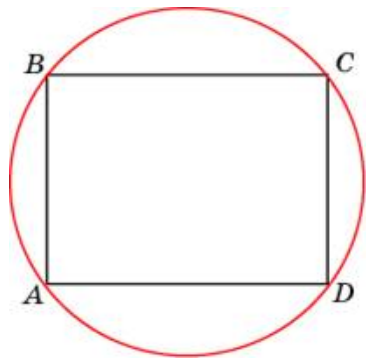
6.

Найдите диагональ прямоугольника, вписанного в окружность, радиус которой равен 15.



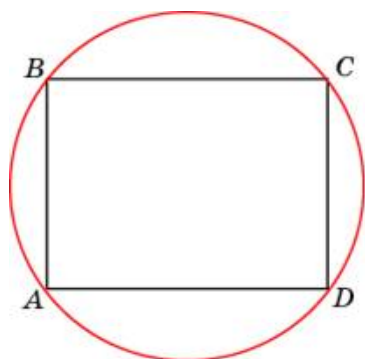
7.

Найдите диагональ прямоугольника, вписанного в окружность, радиус которой равен 39.



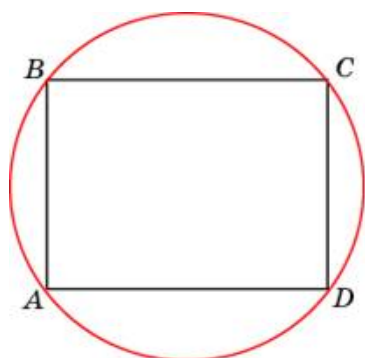
8.

Найдите диагональ прямоугольника, вписанного в окружность, радиус которой равен 6.



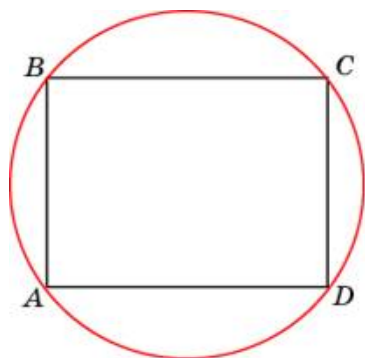
9.

Найдите диагональ прямоугольника, вписанного в окружность, радиус которой равен 22.



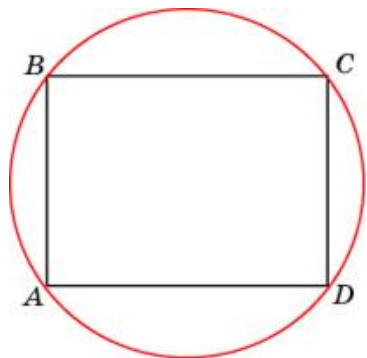
10.

Найдите диагональ прямоугольника, вписанного в окружность, радиус которой равен 14.



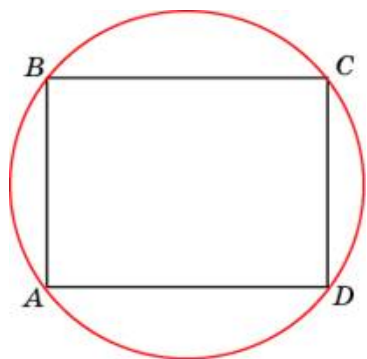
11.

Найдите диагональ прямоугольника, вписанного в окружность, радиус которой равен 21.



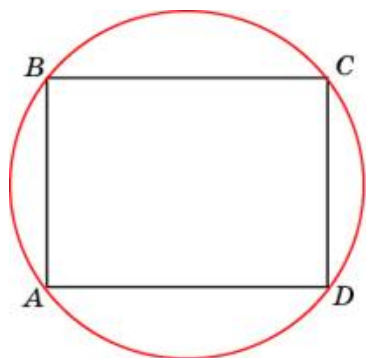
12.

Найдите диагональ прямоугольника, вписанного в окружность, радиус которой равен 50.



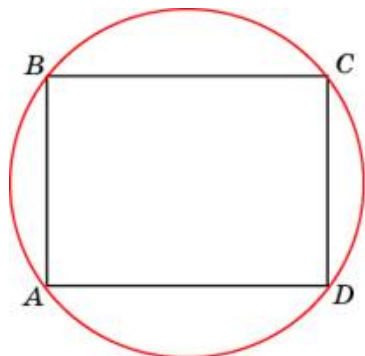
13.

Найдите диагональ прямоугольника, вписанного в окружность, радиус которой равен 35.



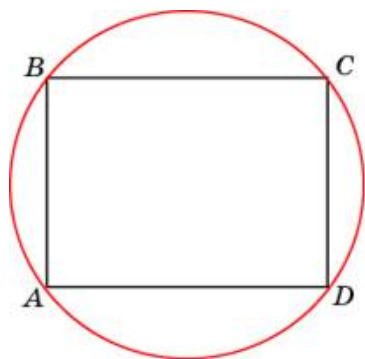
14.

Найдите диагональ прямоугольника, вписанного в окружность, радиус которой равен 24.



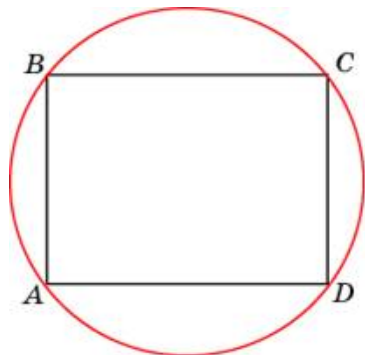
15.

Найдите диагональ прямоугольника, вписанного в окружность, радиус которой равен 42.



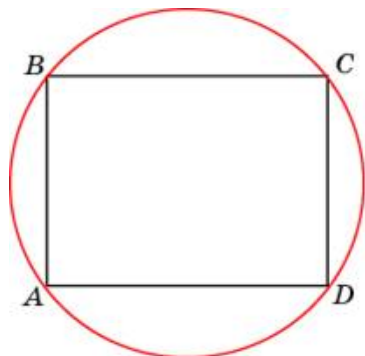
16.

Найдите диагональ прямоугольника, вписанного в окружность, радиус которой равен 23.



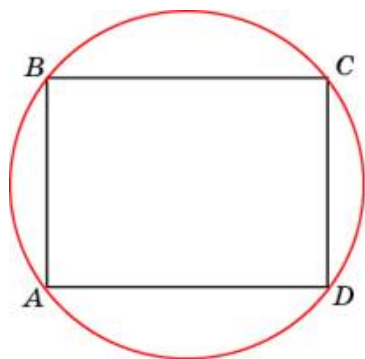
17.

Найдите диагональ прямоугольника, вписанного в окружность, радиус которой равен 34.



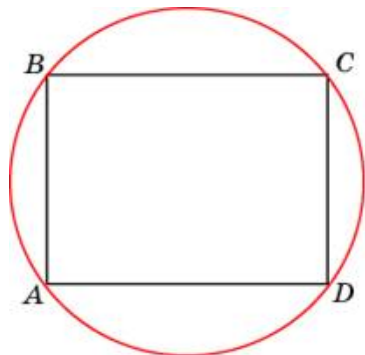
18.

Найдите диагональ прямоугольника, вписанного в окружность, радиус которой равен 10.



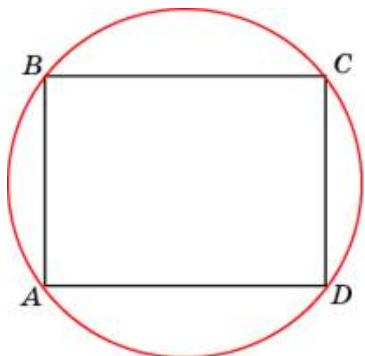
19.

Найдите диагональ прямоугольника, вписанного в окружность, радиус которой равен 29.



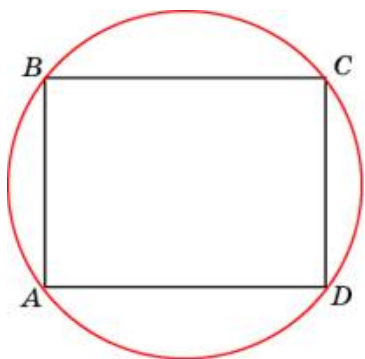
20.

Найдите диагональ прямоугольника, вписанного в окружность, радиус которой равен 20.



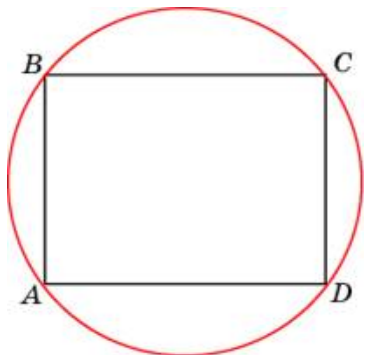
21.

Найдите диагональ прямоугольника, вписанного в окружность, радиус которой равен 8.



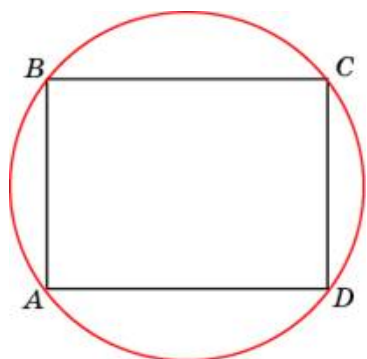
22.

Найдите диагональ прямоугольника, вписанного в окружность, радиус которой равен 27.



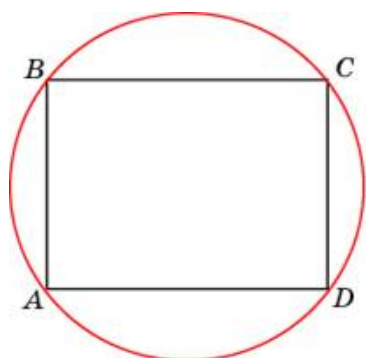
23.

Найдите диагональ прямоугольника, вписанного в окружность, радиус которой равен 12.



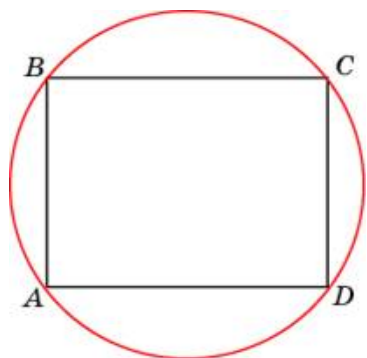
24.

Найдите диагональ прямоугольника, вписанного в окружность, радиус которой равен 41.



25.

Найдите диагональ прямоугольника, вписанного в окружность, радиус которой равен 2.



26.

Найдите диагональ прямоугольника, вписанного в окружность, радиус которой равен 9.

