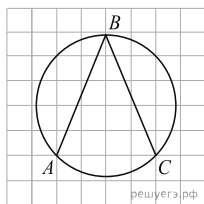
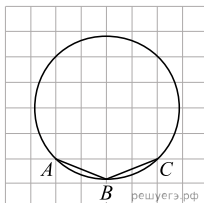


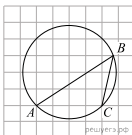
1. Найдите величину угла ABC . Ответ дайте в градусах.



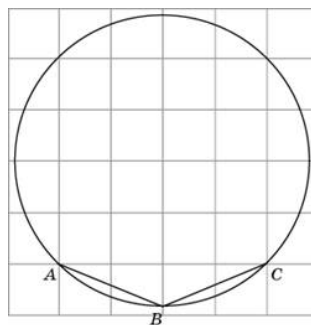
2. Найдите величину угла ABC . Ответ дайте в градусах.



3. Найдите величину угла ABC . Ответ дайте в градусах.



4. Найдите угол ABC . Ответ дайте в градусах.



5. Найдите угол ABC . Ответ дайте в градусах.

