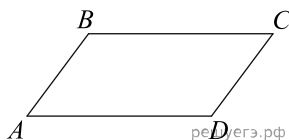
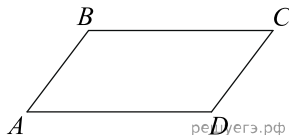


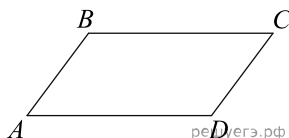
1. Один угол параллелограмма больше другого на  $70^\circ$ . Найдите больший угол. Ответ дайте в градусах.



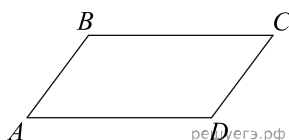
2. Один угол параллелограмма больше другого на  $80^\circ$ . Найдите больший угол. Ответ дайте в градусах.



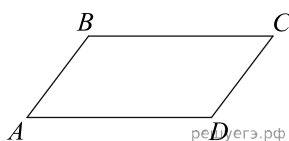
3. Один угол параллелограмма больше другого на  $48^\circ$ . Найдите больший угол. Ответ дайте в градусах.



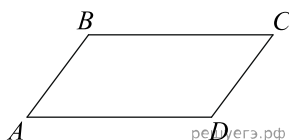
4. Один угол параллелограмма больше другого на  $106^\circ$ . Найдите больший угол. Ответ дайте в градусах.



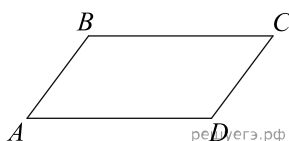
5. Один угол параллелограмма больше другого на  $90^\circ$ . Найдите больший угол. Ответ дайте в градусах.



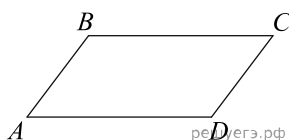
6. Один угол параллелограмма больше другого на  $22^\circ$ . Найдите больший угол. Ответ дайте в градусах.



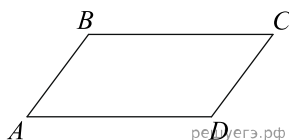
7. Один угол параллелограмма больше другого на  $70^\circ$ . Найдите больший угол. Ответ дайте в градусах.



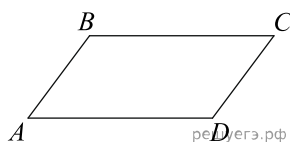
8. Один угол параллелограмма больше другого на  $102^\circ$ . Найдите больший угол. Ответ дайте в градусах.



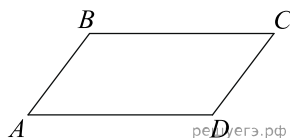
9. Один угол параллелограмма больше другого на  $64^\circ$ . Найдите больший угол. Ответ дайте в градусах.



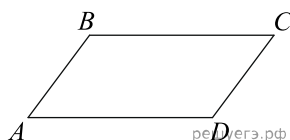
10. Один угол параллелограмма больше другого на  $86^\circ$ . Найдите больший угол. Ответ дайте в градусах.



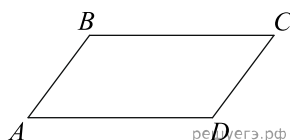
11. Один угол параллелограмма больше другого на  $96^\circ$ . Найдите больший угол. Ответ дайте в градусах.



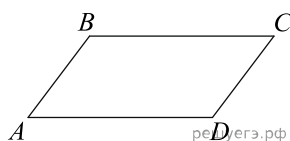
12. Один угол параллелограмма больше другого на  $16^\circ$ . Найдите больший угол. Ответ дайте в градусах.



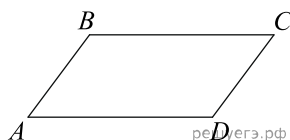
13. Один угол параллелограмма больше другого на  $30^\circ$ . Найдите больший угол. Ответ дайте в градусах.



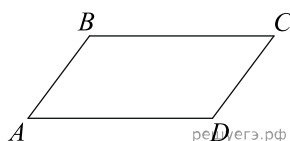
14. Один угол параллелограмма больше другого на  $104^\circ$ . Найдите больший угол. Ответ дайте в градусах.



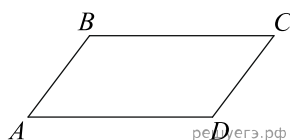
15. Один угол параллелограмма больше другого на  $20^\circ$ . Найдите больший угол. Ответ дайте в градусах.



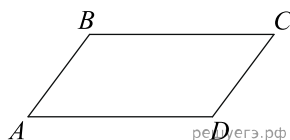
16. Один угол параллелограмма больше другого на  $46^\circ$ . Найдите больший угол. Ответ дайте в градусах.



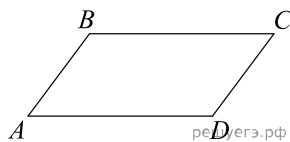
17. Один угол параллелограмма больше другого на  $98^\circ$ . Найдите больший угол. Ответ дайте в градусах.



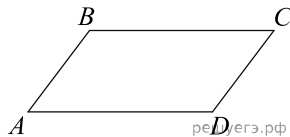
18. Один угол параллелограмма больше другого на  $84^\circ$ . Найдите больший угол. Ответ дайте в градусах.



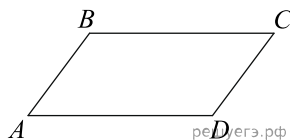
19. Один угол параллелограмма больше другого на  $92^\circ$ . Найдите больший угол. Ответ дайте в градусах.



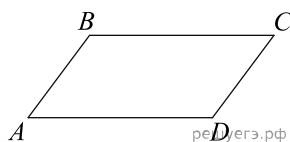
20. Один угол параллелограмма больше другого на  $94^\circ$ . Найдите больший угол. Ответ дайте в градусах.



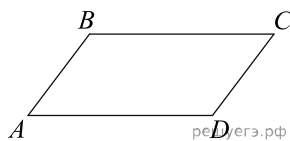
21. Один угол параллелограмма больше другого на  $76^\circ$ . Найдите больший угол. Ответ дайте в градусах.



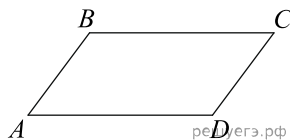
22. Один угол параллелограмма больше другого на  $100^\circ$ . Найдите больший угол. Ответ дайте в градусах.



23. Один угол параллелограмма больше другого на  $34^\circ$ . Найдите больший угол. Ответ дайте в градусах.



24. Один угол параллелограмма больше другого на  $42^\circ$ . Найдите больший угол. Ответ дайте в градусах.



25. Один угол параллелограмма больше другого на  $78^\circ$ . Найдите больший угол. Ответ дайте в градусах.

