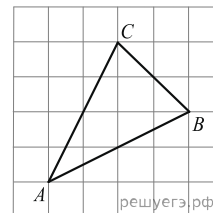
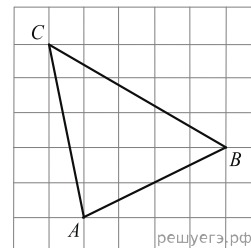


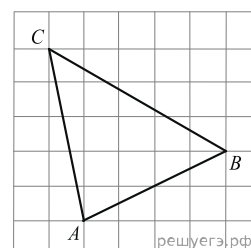
1. На клетчатой бумаге с размером клетки 1×1 изображён треугольник ABC . Найдите длину его медианы, проведённой из вершины C .



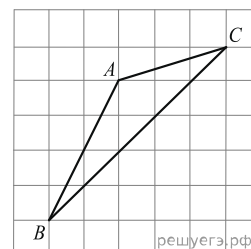
2. На клетчатой бумаге с размером клетки 1×1 изображён треугольник ABC . Найдите длину его медианы, проведённой из вершины C .



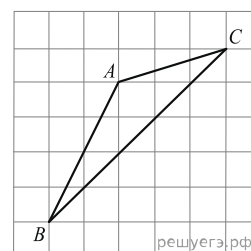
3. На клетчатой бумаге с размером клетки 1×1 изображён треугольник ABC . Найдите длину его медианы, проведённой из вершины C .



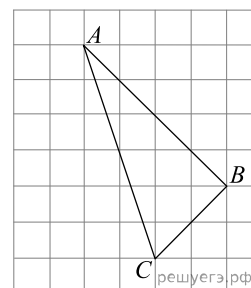
4. На клетчатой бумаге с размером клетки 1×1 изображён треугольник ABC . Найдите длину его медианы, проведённой из вершины C .



5. На клетчатой бумаге с размером клетки 1×1 изображён треугольник ABC . Найдите длину его медианы, проведённой из вершины C .



6. На клетчатой бумаге с размером клетки 1×1 изображён треугольник ABC . Найдите длину его медианы, проведённой из вершины C .



7. На клетчатой бумаге с размером клетки 1×1 изображён треугольник ABC . Найдите длину его медианы, проведённой из вершины C .

