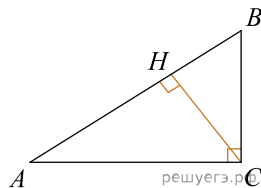
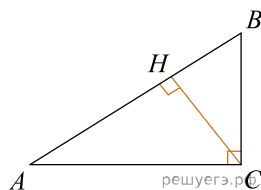


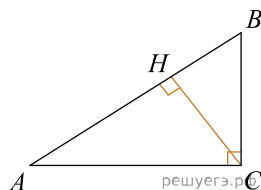
1. В треугольнике  $ABC$  угол  $C$  равен  $90^\circ$ ,  $CH$  — высота, угол  $A$  равен  $30^\circ$ ,  $AB = 4$ . Найдите  $BH$ .



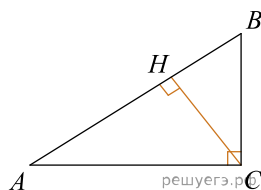
2. В треугольнике  $ABC$  угол  $C$  равен  $90^\circ$ ,  $CH$  — высота, угол  $A$  равен  $30^\circ$ ,  $AB = 4$ . Найдите  $BH$ .



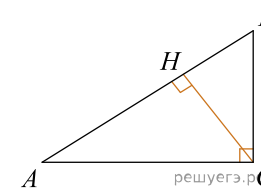
3. В треугольнике  $ABC$  угол  $C$  равен  $90^\circ$ ,  $CH$  — высота, угол  $A$  равен  $60^\circ$ ,  $AB = 12$ . Найдите  $BH$ .



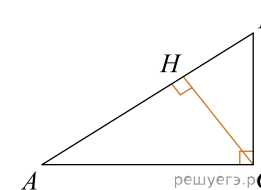
4. В треугольнике  $ABC$  угол  $C$  равен  $90^\circ$ ,  $CH$  — высота, угол  $A$  равен  $30^\circ$ ,  $AB = 30$ . Найдите  $BH$ .



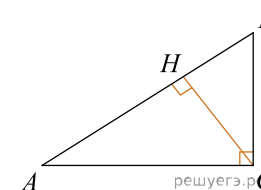
5. В треугольнике  $ABC$  угол  $C$  равен  $90^\circ$ ,  $CH$  — высота, угол  $A$  равен  $30^\circ$ ,  $AB = 44$ . Найдите  $BH$ .



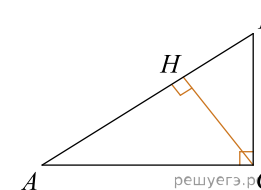
6. В треугольнике  $ABC$  угол  $C$  равен  $90^\circ$ ,  $CH$  — высота, угол  $A$  равен  $30^\circ$ ,  $AB = 24$ . Найдите  $BH$ .



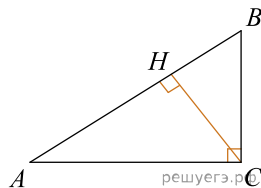
7. В треугольнике  $ABC$  угол  $C$  равен  $90^\circ$ ,  $CH$  — высота, угол  $A$  равен  $30^\circ$ ,  $AB = 70$ . Найдите  $BH$ .



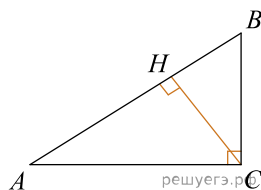
8. В треугольнике  $ABC$  угол  $C$  равен  $90^\circ$ ,  $CH$  — высота, угол  $A$  равен  $30^\circ$ ,  $AB = 46$ . Найдите  $BH$ .



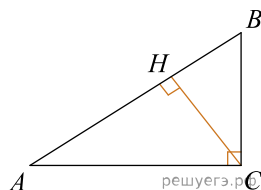
9. В треугольнике  $ABC$  угол  $C$  равен  $90^\circ$ ,  $CH$  — высота, угол  $A$  равен  $30^\circ$ ,  $AB = 14$ . Найдите  $BH$ .



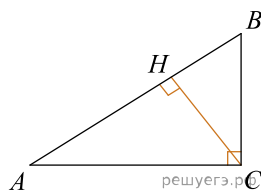
10. В треугольнике  $ABC$  угол  $C$  равен  $90^\circ$ ,  $CH$  — высота, угол  $A$  равен  $30^\circ$ ,  $AB = 92$ . Найдите  $BH$ .



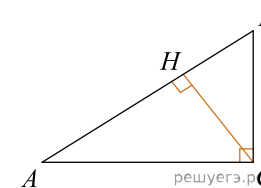
11. В треугольнике  $ABC$  угол  $C$  равен  $90^\circ$ ,  $CH$  — высота, угол  $A$  равен  $30^\circ$ ,  $AB = 66$ . Найдите  $BH$ .



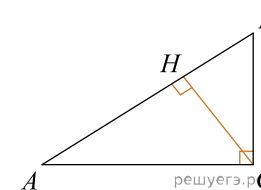
12. В треугольнике  $ABC$  угол  $C$  равен  $90^\circ$ ,  $CH$  — высота, угол  $A$  равен  $30^\circ$ ,  $AB = 34$ . Найдите  $BH$ .



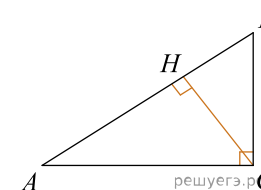
13. В треугольнике  $ABC$  угол  $C$  равен  $90^\circ$ ,  $CH$  — высота, угол  $A$  равен  $30^\circ$ ,  $AB = 10$ . Найдите  $BH$ .



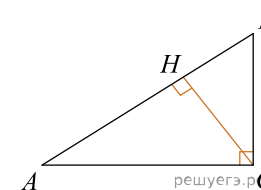
14. В треугольнике  $ABC$  угол  $C$  равен  $90^\circ$ ,  $CH$  — высота, угол  $A$  равен  $30^\circ$ ,  $AB = 22$ . Найдите  $BH$ .



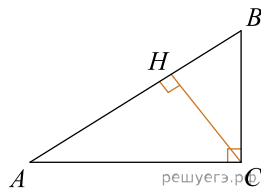
15. В треугольнике  $ABC$  угол  $C$  равен  $90^\circ$ ,  $CH$  — высота, угол  $A$  равен  $30^\circ$ ,  $AB = 58$ . Найдите  $BH$ .



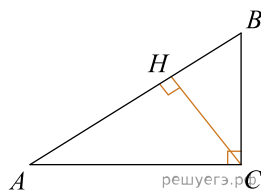
16. В треугольнике  $ABC$  угол  $C$  равен  $90^\circ$ ,  $CH$  — высота, угол  $A$  равен  $30^\circ$ ,  $AB = 16$ . Найдите  $BH$ .



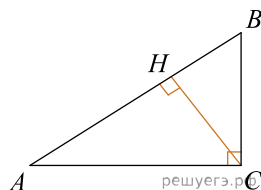
17. В треугольнике  $ABC$  угол  $C$  равен  $90^\circ$ ,  $CH$  — высота, угол  $A$  равен  $30^\circ$ ,  $AB = 56$ . Найдите  $BH$ .



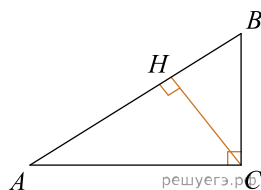
18. В треугольнике  $ABC$  угол  $C$  равен  $90^\circ$ ,  $CH$  — высота, угол  $A$  равен  $30^\circ$ ,  $AB = 90$ . Найдите  $BH$ .



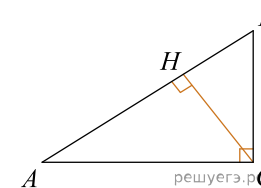
19. В треугольнике  $ABC$  угол  $C$  равен  $90^\circ$ ,  $CH$  — высота, угол  $A$  равен  $30^\circ$ ,  $AB = 52$ . Найдите  $BH$ .



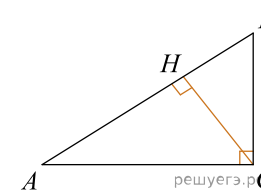
20. В треугольнике  $ABC$  угол  $C$  равен  $90^\circ$ ,  $CH$  — высота, угол  $A$  равен  $30^\circ$ ,  $AB = 54$ . Найдите  $BH$ .



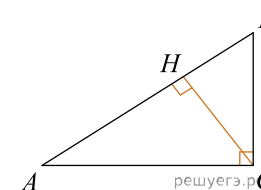
21. В треугольнике  $ABC$  угол  $C$  равен  $90^\circ$ ,  $CH$  — высота, угол  $A$  равен  $30^\circ$ ,  $AB = 84$ . Найдите  $BH$ .



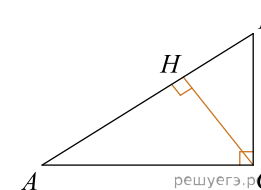
22. В треугольнике  $ABC$  угол  $C$  равен  $90^\circ$ ,  $CH$  — высота, угол  $A$  равен  $30^\circ$ ,  $AB = 6$ . Найдите  $BH$ .



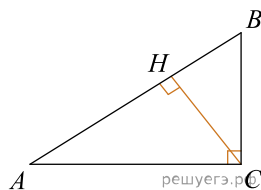
23. В треугольнике  $ABC$  угол  $C$  равен  $90^\circ$ ,  $CH$  — высота, угол  $A$  равен  $30^\circ$ ,  $AB = 48$ . Найдите  $BH$ .



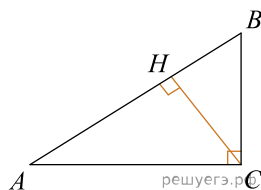
24. В треугольнике  $ABC$  угол  $C$  равен  $90^\circ$ ,  $CH$  — высота, угол  $A$  равен  $30^\circ$ ,  $AB = 4$ . Найдите  $BH$ .



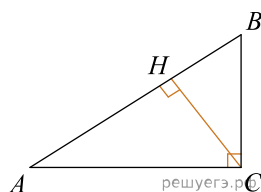
25. В треугольнике  $ABC$  угол  $C$  равен  $90^\circ$ ,  $CH$  — высота, угол  $A$  равен  $30^\circ$ ,  $AB = 26$ . Найдите  $BH$ .



26. В треугольнике  $ABC$  угол  $C$  равен  $90^\circ$ ,  $CH$  — высота, угол  $A$  равен  $30^\circ$ ,  $AB = 12$ . Найдите  $BH$ .



27. В треугольнике  $ABC$  угол  $C$  равен  $90^\circ$ ,  $CH$  — высота, угол  $A$  равен  $30^\circ$ ,  $AB = 88$ . Найдите  $BH$ .



28. В треугольнике  $ABC$  угол  $C$  равен  $90^\circ$ ,  $CH$  — высота, угол  $A$  равен  $30^\circ$ ,  $AB = 94$ . Найдите  $BH$ .

