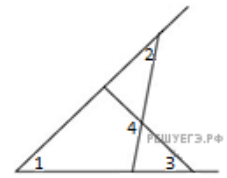
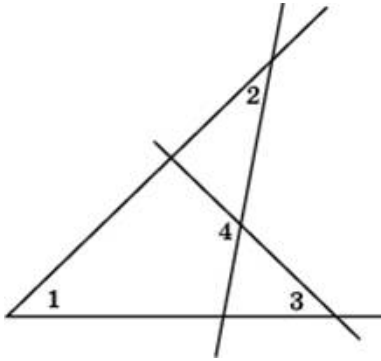


1. На рисунке угол 1 равен 46° , угол 2 равен 30° , угол 3 равен 44° . Найдите угол 4. Ответ дайте в градусах.



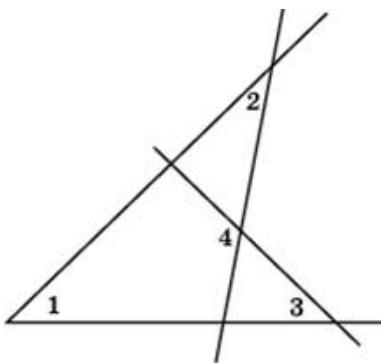
2.

На рисунке угол 1 равен 48° , угол 2 равен 26° , угол 3 равен 40° . Найдите угол 4. Ответ дайте в градусах.



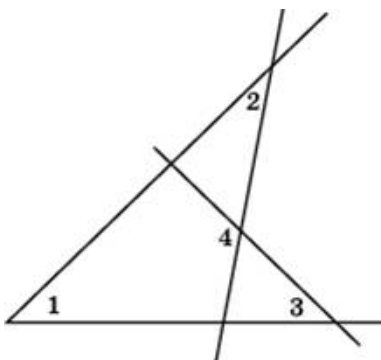
3.

На рисунке угол 1 равен 16° , угол 2 равен 10° , угол 3 равен 72° . Найдите угол 4. Ответ дайте в градусах.



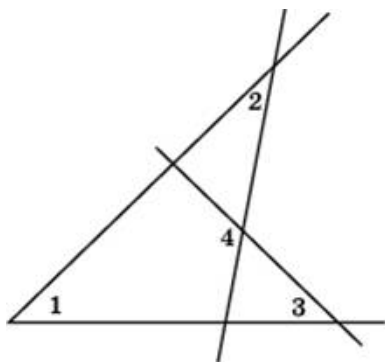
4.

На рисунке угол 1 равен 8° , угол 2 равен 6° , угол 3 равен 80° . Найдите угол 4. Ответ дайте в градусах.



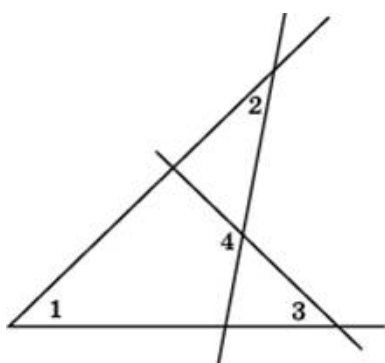
5.

На рисунке угол 1 равен 36° , угол 2 равен 54° , угол 3 равен 52° . Найдите угол 4. Ответ дайте в градусах.



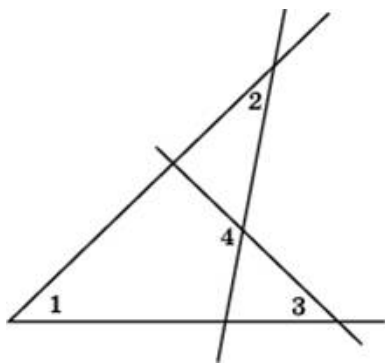
6.

На рисунке угол 1 равен 36° , угол 2 равен 20° , угол 3 равен 52° . Найдите угол 4. Ответ дайте в градусах.



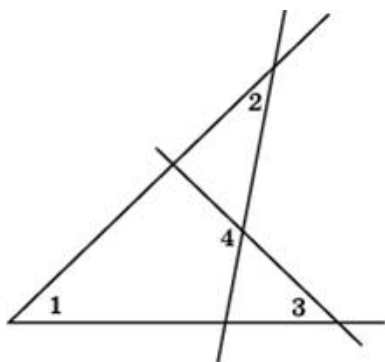
7.

На рисунке угол 1 равен 3° , угол 2 равен 43° , угол 3 равен 85° . Найдите угол 4. Ответ дайте в градусах.



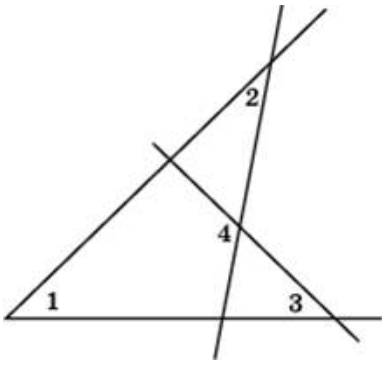
8.

На рисунке угол 1 равен 44° , угол 2 равен 24° , угол 3 равен 44° . Найдите угол 4. Ответ дайте в градусах.



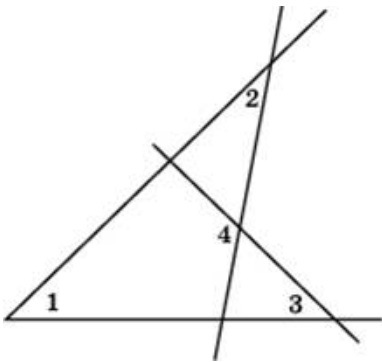
9.

На рисунке угол 1 равен 14° , угол 2 равен 9° , угол 3 равен 74° . Найдите угол 4. Ответ дайте в градусах.



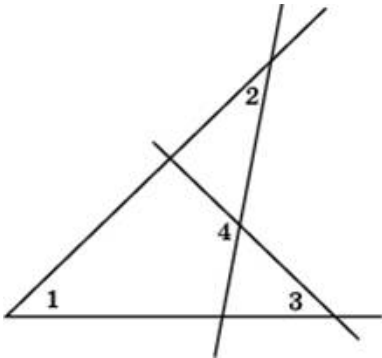
10.

На рисунке угол 1 равен 46° , угол 2 равен 25° , угол 3 равен 42° . Найдите угол 4. Ответ дайте в градусах.



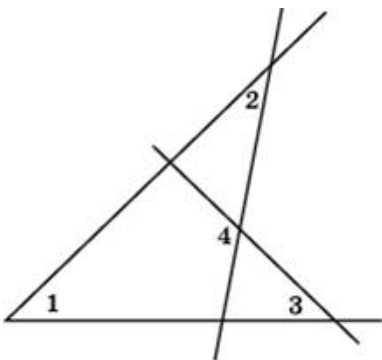
11.

На рисунке угол 1 равен 24° , угол 2 равен 14° , угол 3 равен 64° . Найдите угол 4. Ответ дайте в градусах.



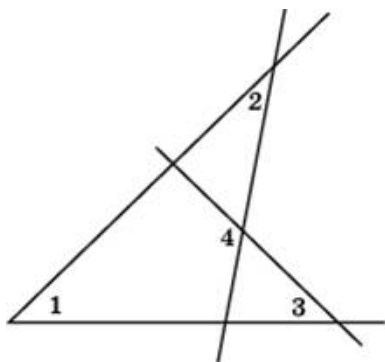
12.

На рисунке угол 1 равен 64° , угол 2 равен 34° , угол 3 равен 24° . Найдите угол 4. Ответ дайте в градусах.



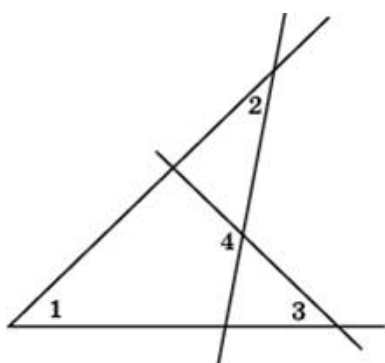
13.

На рисунке угол 1 равен 76° , угол 2 равен 40° , угол 3 равен 12° . Найдите угол 4. Ответ дайте в градусах.



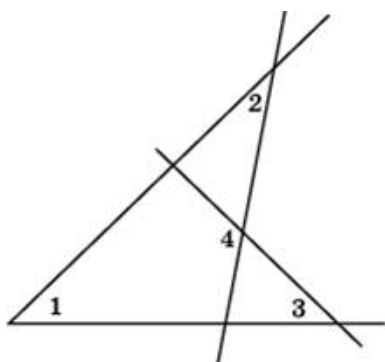
14.

На рисунке угол 1 равен 69° , угол 2 равен 65° , угол 3 равен 19° . Найдите угол 4. Ответ дайте в градусах.



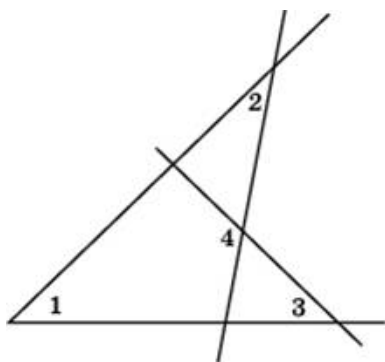
15.

На рисунке угол 1 равен 6° , угол 2 равен 5° , угол 3 равен 82° . Найдите угол 4. Ответ дайте в градусах.



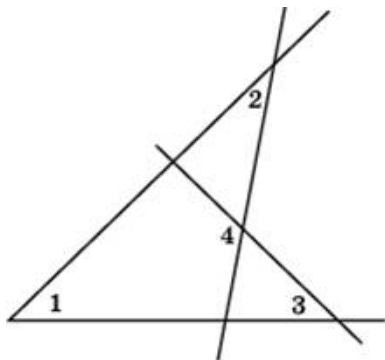
16.

На рисунке угол 1 равен 30° , угол 2 равен 17° , угол 3 равен 58° . Найдите угол 4. Ответ дайте в градусах.



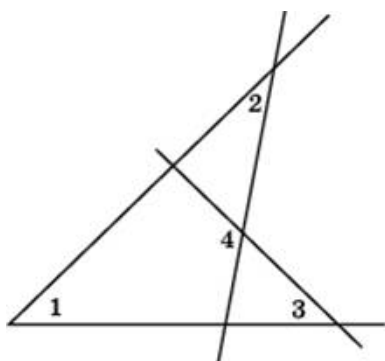
17.

На рисунке угол 1 равен 12° , угол 2 равен 8° , угол 3 равен 76° . Найдите угол 4. Ответ дайте в градусах.



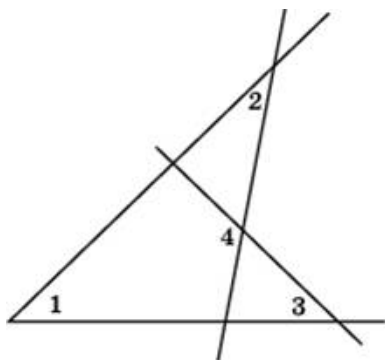
18.

На рисунке угол 1 равен 42° , угол 2 равен 56° , угол 3 равен 46° . Найдите угол 4. Ответ дайте в градусах.



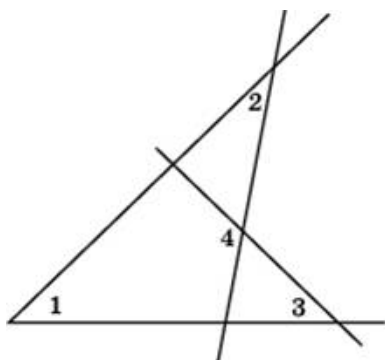
19.

На рисунке угол 1 равен 21° , угол 2 равен 49° , угол 3 равен 67° . Найдите угол 4. Ответ дайте в градусах.



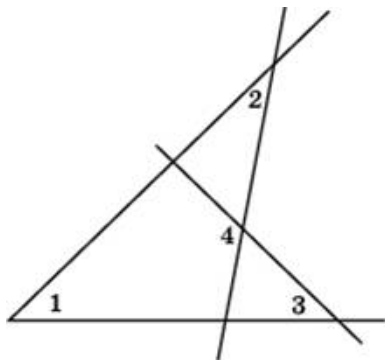
20.

На рисунке угол 1 равен 34° , угол 2 равен 19° , угол 3 равен 54° . Найдите угол 4. Ответ дайте в градусах.



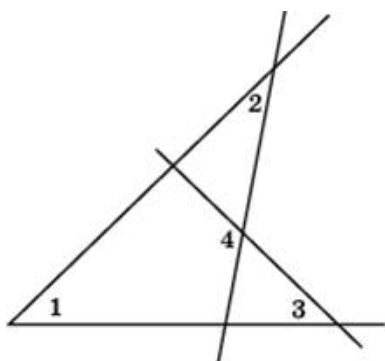
21.

На рисунке угол 1 равен 20° , угол 2 равен 12° , угол 3 равен 68° . Найдите угол 4. Ответ дайте в градусах.



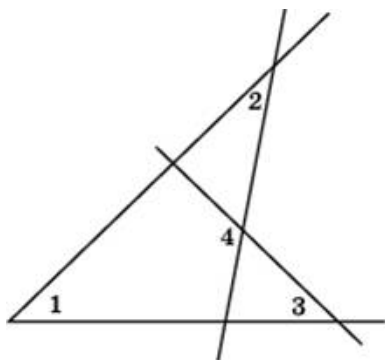
22.

На рисунке угол 1 равен 27° , угол 2 равен 51° , угол 3 равен 61° . Найдите угол 4. Ответ дайте в градусах.



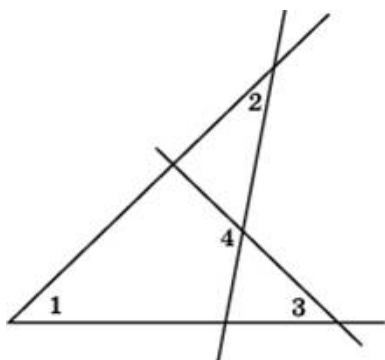
23.

На рисунке угол 1 равен 15° , угол 2 равен 47° , угол 3 равен 73° . Найдите угол 4. Ответ дайте в градусах.



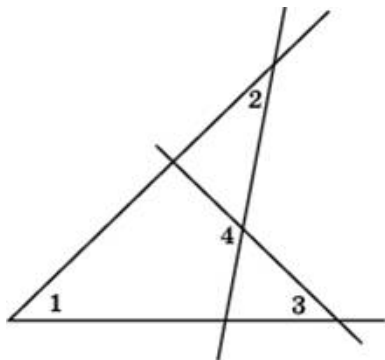
24.

На рисунке угол 1 равен 4° , угол 2 равен 4° , угол 3 равен 84° . Найдите угол 4. Ответ дайте в градусах.



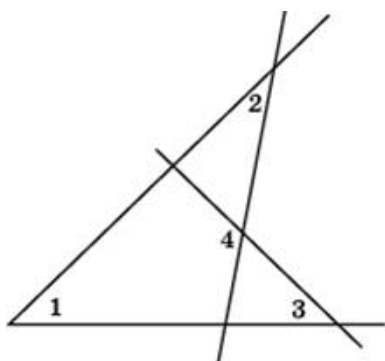
25.

На рисунке угол 1 равен 10° , угол 2 равен 7° , угол 3 равен 78° . Найдите угол 4. Ответ дайте в градусах.



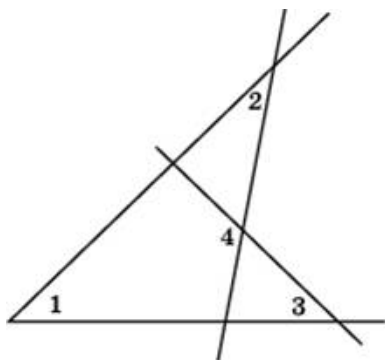
26.

На рисунке угол 1 равен 57° , угол 2 равен 61° , угол 3 равен 31° . Найдите угол 4. Ответ дайте в градусах.



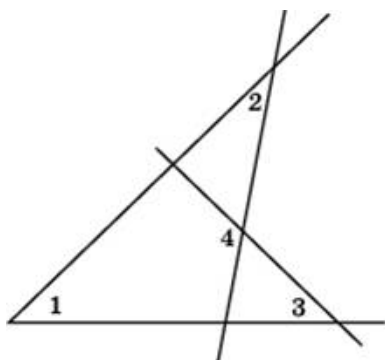
27.

На рисунке угол 1 равен 52° , угол 2 равен 28° , угол 3 равен 36° . Найдите угол 4. Ответ дайте в градусах.



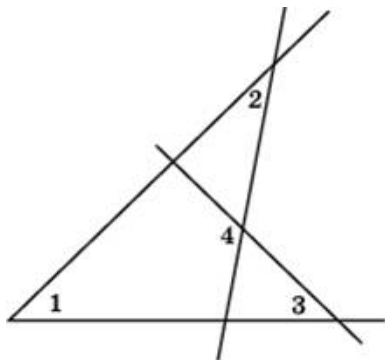
28.

На рисунке угол 1 равен 62° , угол 2 равен 33° , угол 3 равен 26° . Найдите угол 4. Ответ дайте в градусах.



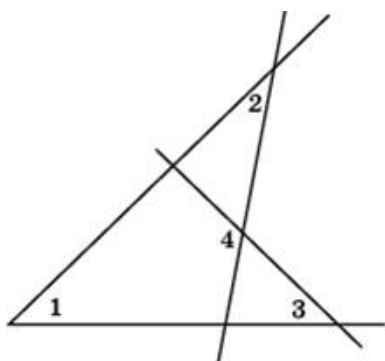
29.

На рисунке угол 1 равен 63° , угол 2 равен 63° , угол 3 равен 25° . Найдите угол 4. Ответ дайте в градусах.



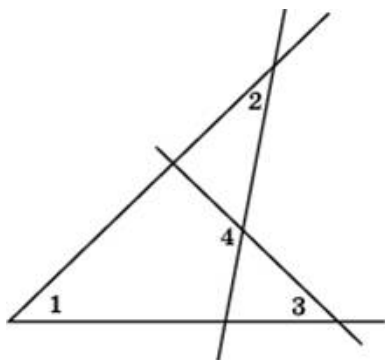
30.

На рисунке угол 1 равен 60° , угол 2 равен 32° , угол 3 равен 28° . Найдите угол 4. Ответ дайте в градусах.



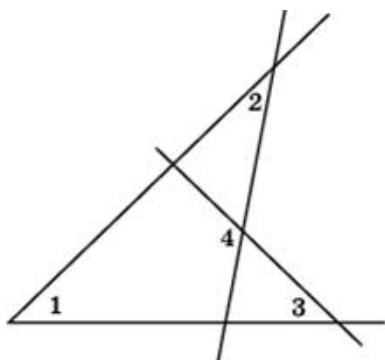
31.

На рисунке угол 1 равен 18° , угол 2 равен 48° , угол 3 равен 70° . Найдите угол 4. Ответ дайте в градусах.



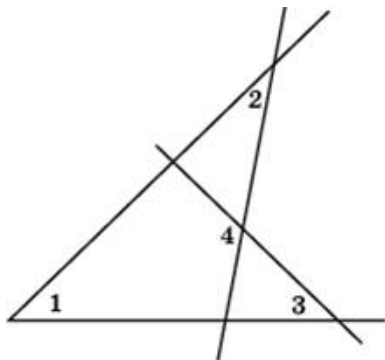
32.

На рисунке угол 1 равен 40° , угол 2 равен 22° , угол 3 равен 48° . Найдите угол 4. Ответ дайте в градусах.



33.

На рисунке угол 1 равен 48° , угол 2 равен 58° , угол 3 равен 40° . Найдите угол 4. Ответ дайте в градусах.



34.

На рисунке угол 1 равен 39° , угол 2 равен 55° , угол 3 равен 49° . Найдите угол 4. Ответ дайте в градусах.

