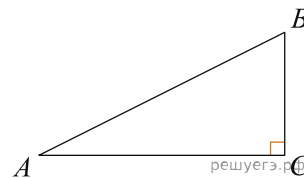
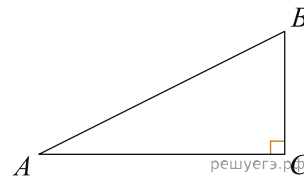


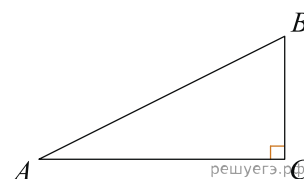
1. Один острый угол прямоугольного треугольника на  $32^\circ$  больше другого. Найдите больший острый угол. Ответ дайте в градусах.



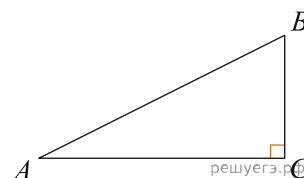
2. Один острый угол прямоугольного треугольника на  $38^\circ$  больше другого. Найдите больший острый угол. Ответ дайте в градусах.



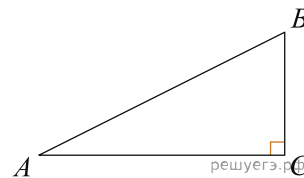
3. Один острый угол прямоугольного треугольника на  $6^\circ$  больше другого. Найдите больший острый угол. Ответ дайте в градусах.



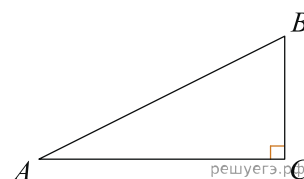
4. Один острый угол прямоугольного треугольника на  $6^\circ$  больше другого. Найдите больший острый угол. Ответ дайте в градусах.



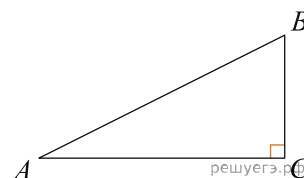
5. Один острый угол прямоугольного треугольника на  $42^\circ$  больше другого. Найдите больший острый угол. Ответ дайте в градусах.



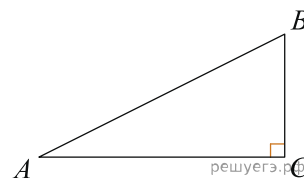
6. Один острый угол прямоугольного треугольника на  $38^\circ$  больше другого. Найдите больший острый угол. Ответ дайте в градусах.



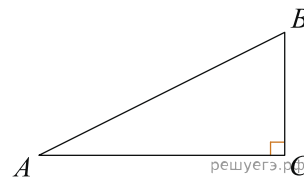
7. Один острый угол прямоугольного треугольника на  $1^\circ$  больше другого. Найдите больший острый угол. Ответ дайте в градусах.



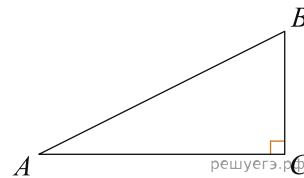
8. Один острый угол прямоугольного треугольника на  $60^\circ$  больше другого. Найдите больший острый угол. Ответ дайте в градусах.



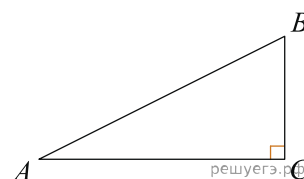
9. Один острый угол прямоугольного треугольника на  $29^\circ$  больше другого. Найдите больший острый угол. Ответ дайте в градусах.



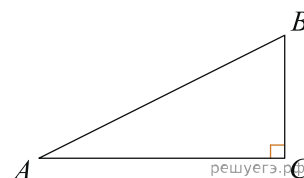
10. Один острый угол прямоугольного треугольника на  $85^\circ$  больше другого. Найдите больший острый угол. Ответ дайте в градусах.



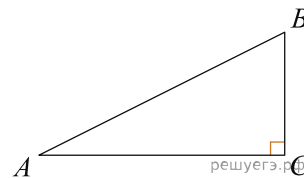
11. Один острый угол прямоугольного треугольника на  $26^\circ$  больше другого. Найдите больший острый угол. Ответ дайте в градусах.



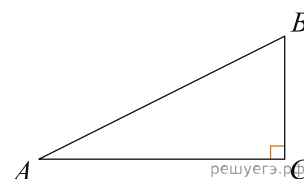
12. Один острый угол прямоугольного треугольника на  $22^\circ$  больше другого. Найдите больший острый угол. Ответ дайте в градусах.



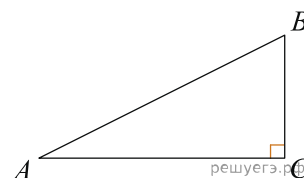
13. Один острый угол прямоугольного треугольника на  $50^\circ$  больше другого. Найдите больший острый угол. Ответ дайте в градусах.



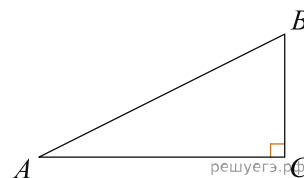
14. Один острый угол прямоугольного треугольника на  $56^\circ$  больше другого. Найдите больший острый угол. Ответ дайте в градусах.



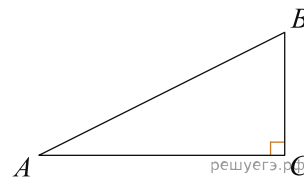
15. Один острый угол прямоугольного треугольника на  $40^\circ$  больше другого. Найдите больший острый угол. Ответ дайте в градусах.



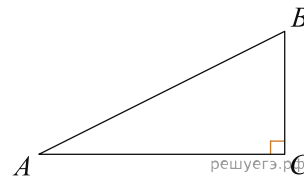
16. Один острый угол прямоугольного треугольника на  $66^\circ$  больше другого. Найдите больший острый угол. Ответ дайте в градусах.



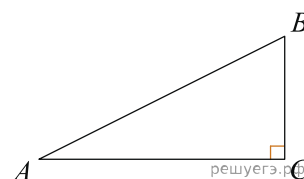
17. Один острый угол прямоугольного треугольника на  $71^\circ$  больше другого. Найдите больший острый угол. Ответ дайте в градусах.



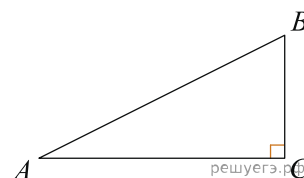
18. Один острый угол прямоугольного треугольника на  $52^\circ$  больше другого. Найдите больший острый угол. Ответ дайте в градусах.



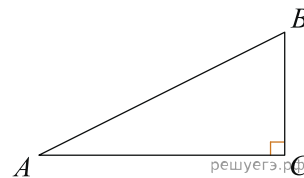
19. Один острый угол прямоугольного треугольника на  $24^\circ$  больше другого. Найдите больший острый угол. Ответ дайте в градусах.



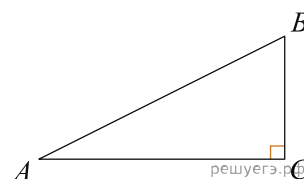
20. Один острый угол прямоугольного треугольника на  $64^\circ$  больше другого. Найдите больший острый угол. Ответ дайте в градусах.



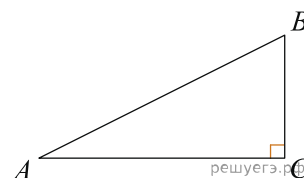
21. Один острый угол прямоугольного треугольника на  $32^\circ$  больше другого. Найдите больший острый угол. Ответ дайте в градусах.



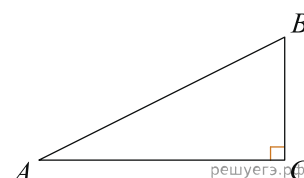
22. Один острый угол прямоугольного треугольника на  $76^\circ$  больше другого. Найдите больший острый угол. Ответ дайте в градусах.



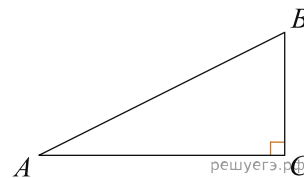
23. Один острый угол прямоугольного треугольника на  $78^\circ$  больше другого. Найдите больший острый угол. Ответ дайте в градусах.



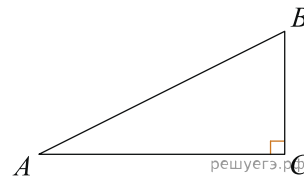
24. Один острый угол прямоугольного треугольника на  $65^\circ$  больше другого. Найдите больший острый угол. Ответ дайте в градусах.



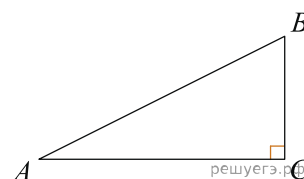
25. Один острый угол прямоугольного треугольника на  $47^\circ$  больше другого. Найдите больший острый угол. Ответ дайте в градусах.



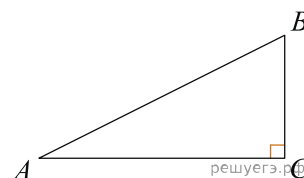
26. Один острый угол прямоугольного треугольника на  $82^\circ$  больше другого. Найдите больший острый угол. Ответ дайте в градусах.



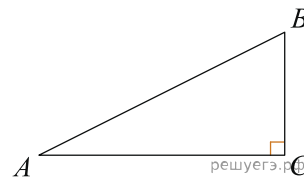
27. Один острый угол прямоугольного треугольника на  $2^\circ$  больше другого. Найдите больший острый угол. Ответ дайте в градусах.



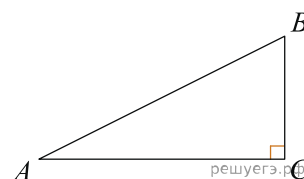
28. Один острый угол прямоугольного треугольника на  $89^\circ$  больше другого. Найдите больший острый угол. Ответ дайте в градусах.



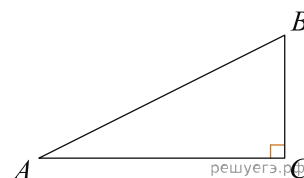
29. Один острый угол прямоугольного треугольника на  $74^\circ$  больше другого. Найдите больший острый угол. Ответ дайте в градусах.



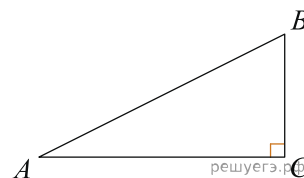
30. Один острый угол прямоугольного треугольника на  $73^\circ$  больше другого. Найдите больший острый угол. Ответ дайте в градусах.



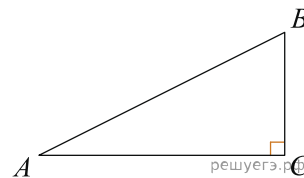
31. Один острый угол прямоугольного треугольника на  $75^\circ$  больше другого. Найдите больший острый угол. Ответ дайте в градусах.



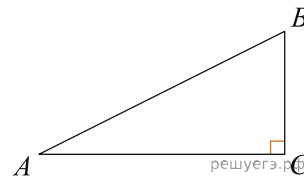
32. Один острый угол прямоугольного треугольника на  $3^\circ$  больше другого. Найдите больший острый угол. Ответ дайте в градусах.



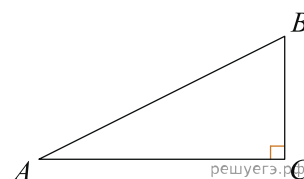
33. Один острый угол прямоугольного треугольника на  $4^\circ$  больше другого. Найдите больший острый угол. Ответ дайте в градусах.



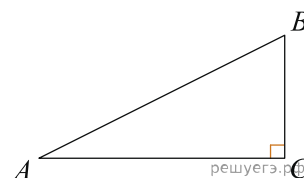
34. Один острый угол прямоугольного треугольника на  $34^\circ$  больше другого. Найдите больший острый угол. Ответ дайте в градусах.



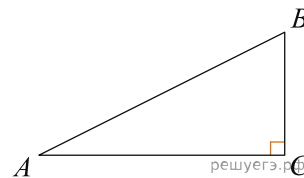
35. Один острый угол прямоугольного треугольника на  $20^\circ$  больше другого. Найдите больший острый угол. Ответ дайте в градусах.



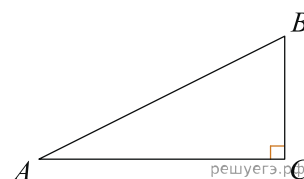
36. Один острый угол прямоугольного треугольника на  $53^\circ$  больше другого. Найдите больший острый угол. Ответ дайте в градусах.



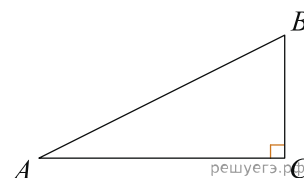
37. Один острый угол прямоугольного треугольника на  $88^\circ$  больше другого. Найдите больший острый угол. Ответ дайте в градусах.



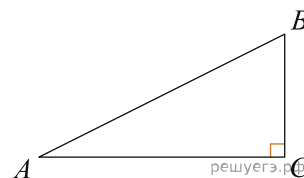
38. Один острый угол прямоугольного треугольника на  $80^\circ$  больше другого. Найдите больший острый угол. Ответ дайте в градусах.



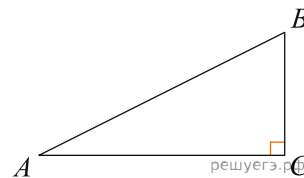
39. Один острый угол прямоугольного треугольника на  $58^\circ$  больше другого. Найдите больший острый угол. Ответ дайте в градусах.



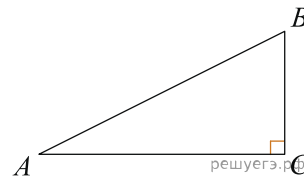
40. Один острый угол прямоугольного треугольника на  $49^\circ$  больше другого. Найдите больший острый угол. Ответ дайте в градусах.



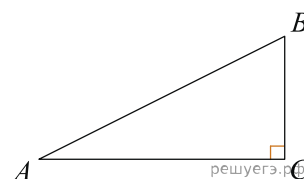
41. Один острый угол прямоугольного треугольника на  $68^\circ$  больше другого. Найдите больший острый угол. Ответ дайте в градусах.



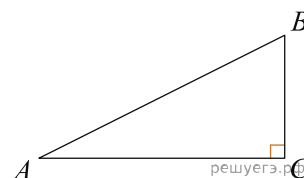
42. Один острый угол прямоугольного треугольника на  $17^\circ$  больше другого. Найдите больший острый угол. Ответ дайте в градусах.



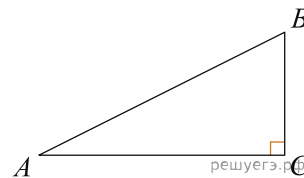
43. Один острый угол прямоугольного треугольника на  $14^\circ$  больше другого. Найдите больший острый угол. Ответ дайте в градусах.



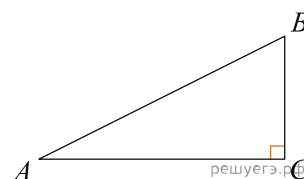
44. Один острый угол прямоугольного треугольника на  $57^\circ$  больше другого. Найдите больший острый угол. Ответ дайте в градусах.



45. Один острый угол прямоугольного треугольника на  $23^\circ$  больше другого. Найдите больший острый угол. Ответ дайте в градусах.



46. Один острый угол прямоугольного треугольника на  $31^\circ$  больше другого. Найдите больший острый угол. Ответ дайте в градусах.



47. Один острый угол прямоугольного треугольника на  $7^\circ$  больше другого. Найдите больший острый угол. Ответ дайте в градусах.

