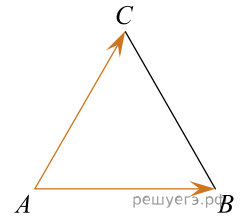
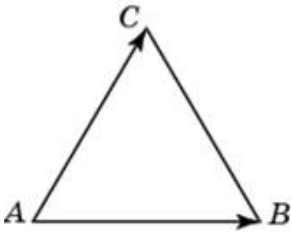


1. Стороны правильного треугольника  $ABC$  равны 3. Найдите скалярное произведение векторов  $\vec{AB}$  и  $\vec{AC}$ .



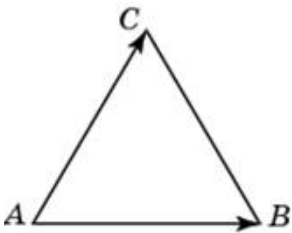
2. Стороны правильного треугольника  $ABC$  равны 36. Найдите скалярное произведение векторов  $\vec{AB}$  и  $\vec{AC}$ .

3. Стороны правильного треугольника  $ABC$  равны 35. Найдите скалярное произведение векторов  $\vec{AB}$  и  $\vec{AC}$ .



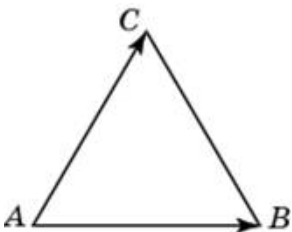
4.

Стороны правильного треугольника  $ABC$  равны 12. Найдите скалярное произведение векторов  $\vec{AB}$  и  $\vec{AC}$ .



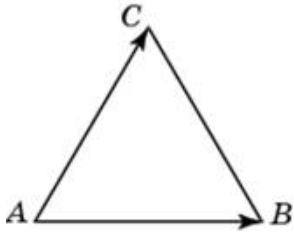
5.

Стороны правильного треугольника  $ABC$  равны 34. Найдите скалярное произведение векторов  $\vec{AB}$  и  $\vec{AC}$ .



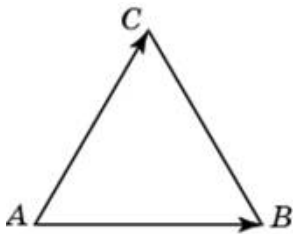
6.

Стороны правильного треугольника  $ABC$  равны 14. Найдите скалярное произведение векторов  $\vec{AB}$  и  $\vec{AC}$ .



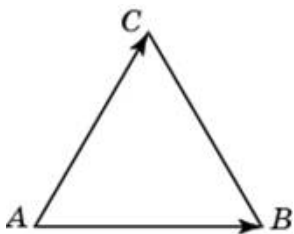
7.

Стороны правильного треугольника  $ABC$  равны 29. Найдите скалярное произведение векторов  $\vec{AB}$  и  $\vec{AC}$ .



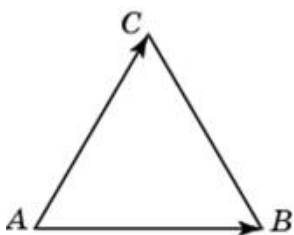
8.

Стороны правильного треугольника  $ABC$  равны 25. Найдите скалярное произведение векторов  $\vec{AB}$  и  $\vec{AC}$ .



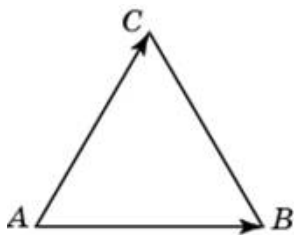
9.

Стороны правильного треугольника  $ABC$  равны 28. Найдите скалярное произведение векторов  $\vec{AB}$  и  $\vec{AC}$ .



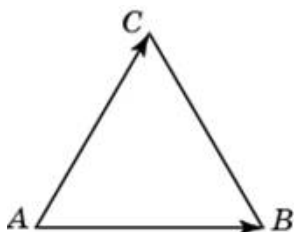
10.

Стороны правильного треугольника  $ABC$  равны 27. Найдите скалярное произведение векторов  $\vec{AB}$  и  $\vec{AC}$ .



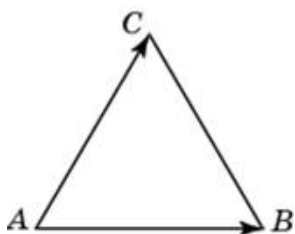
11.

Стороны правильного треугольника  $ABC$  равны 16. Найдите скалярное произведение векторов  $\vec{AB}$  и  $\vec{AC}$ .



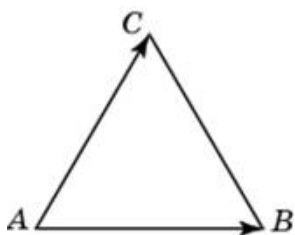
12.

Стороны правильного треугольника  $ABC$  равны 45. Найдите скалярное произведение векторов  $\vec{AB}$  и  $\vec{AC}$ .



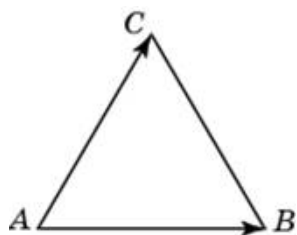
13.

Стороны правильного треугольника  $ABC$  равны 11. Найдите скалярное произведение векторов  $\vec{AB}$  и  $\vec{AC}$ .



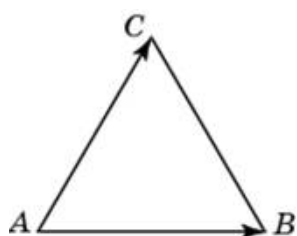
14.

Стороны правильного треугольника  $ABC$  равны 43. Найдите скалярное произведение векторов  $\vec{AB}$  и  $\vec{AC}$ .



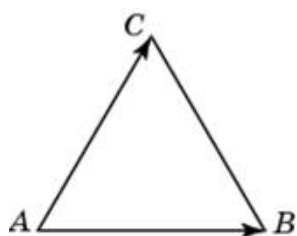
15.

Стороны правильного треугольника  $ABC$  равны 5. Найдите скалярное произведение векторов  $\vec{AB}$  и  $\vec{AC}$ .



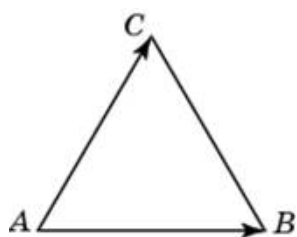
16.

Стороны правильного треугольника  $ABC$  равны 26. Найдите скалярное произведение векторов  $\vec{AB}$  и  $\vec{AC}$ .



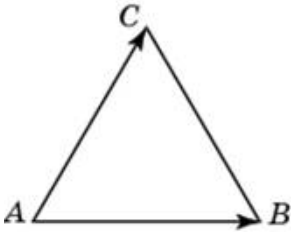
17.

Стороны правильного треугольника  $ABC$  равны 46. Найдите скалярное произведение векторов  $\vec{AB}$  и  $\vec{AC}$ .



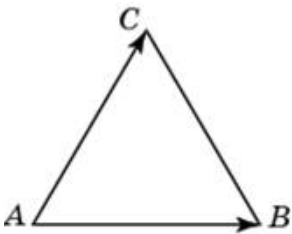
18.

Стороны правильного треугольника  $ABC$  равны 8. Найдите скалярное произведение векторов  $\vec{AB}$  и  $\vec{AC}$ .



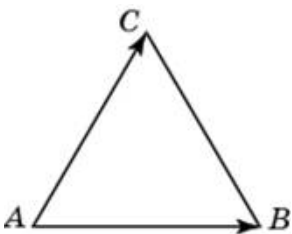
19.

Стороны правильного треугольника  $ABC$  равны 44. Найдите скалярное произведение векторов  $\vec{AB}$  и  $\vec{AC}$ .



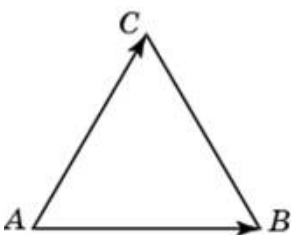
20.

Стороны правильного треугольника  $ABC$  равны 48. Найдите скалярное произведение векторов  $\vec{AB}$  и  $\vec{AC}$ .



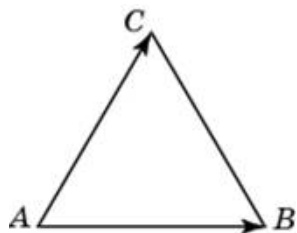
21.

Стороны правильного треугольника  $ABC$  равны 24. Найдите скалярное произведение векторов  $\vec{AB}$  и  $\vec{AC}$ .



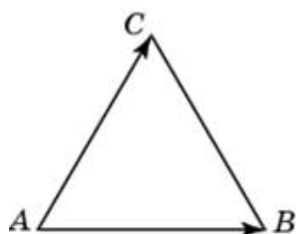
22.

Стороны правильного треугольника  $ABC$  равны 17. Найдите скалярное произведение векторов  $\vec{AB}$  и  $\vec{AC}$ .



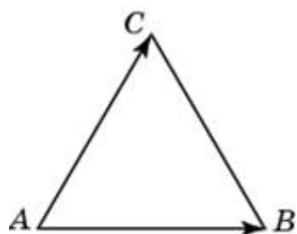
23.

Стороны правильного треугольника  $ABC$  равны 30. Найдите скалярное произведение векторов  $\vec{AB}$  и  $\vec{AC}$ .



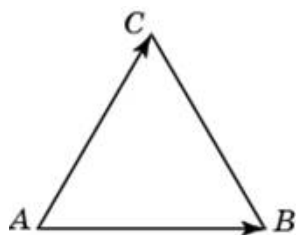
24.

Стороны правильного треугольника  $ABC$  равны 20. Найдите скалярное произведение векторов  $\vec{AB}$  и  $\vec{AC}$ .



25.

Стороны правильного треугольника  $ABC$  равны 21. Найдите скалярное произведение векторов  $\vec{AB}$  и  $\vec{AC}$ .



26.

Стороны правильного треугольника  $ABC$  равны 15. Найдите скалярное произведение векторов  $\vec{AB}$  и  $\vec{AC}$ .

