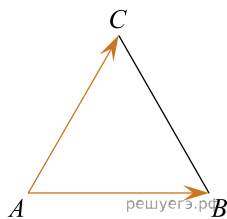
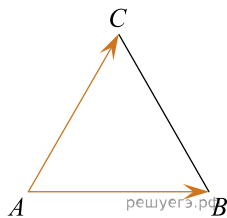


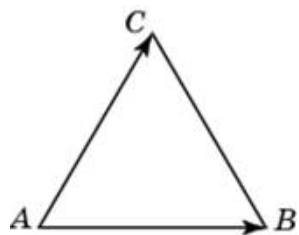
1. Стороны правильного треугольника ABC равны 3. Найдите длину вектора $\vec{AB} - \vec{AC}$.



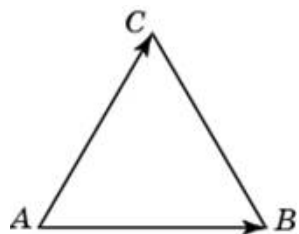
2. Стороны правильного треугольника ABC равны 38. Найдите длину вектора $\vec{AB} - \vec{AC}$.



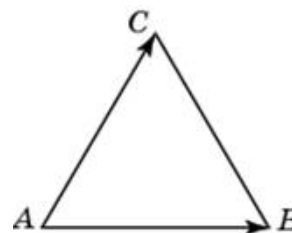
3. Стороны правильного треугольника ABC равны 33. Найдите длину вектора $\vec{AB} - \vec{AC}$.



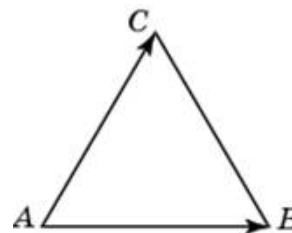
4. Стороны правильного треугольника ABC равны 17. Найдите длину вектора $\vec{AB} - \vec{AC}$.



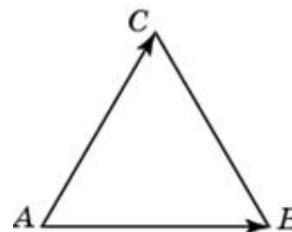
5. Стороны правильного треугольника ABC равны 30. Найдите длину вектора $\vec{AB} - \vec{AC}$.



6. Стороны правильного треугольника ABC равны 6. Найдите длину вектора $\vec{AB} - \vec{AC}$.

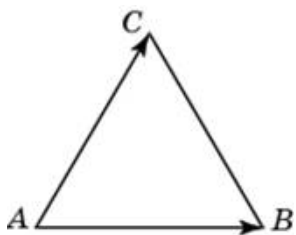


7. Стороны правильного треугольника ABC равны 4. Найдите длину вектора $\vec{AB} - \vec{AC}$.



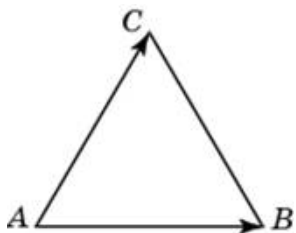
8.

Стороны правильного треугольника ABC равны 29. Найдите длину вектора $\vec{AB} - \vec{AC}$.



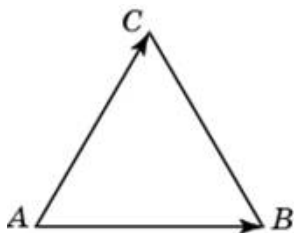
9.

Стороны правильного треугольника ABC равны 23. Найдите длину вектора $\vec{AB} - \vec{AC}$.



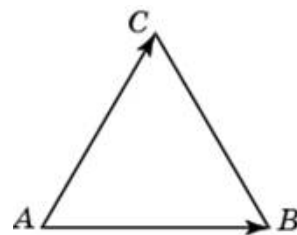
10.

Стороны правильного треугольника ABC равны 49. Найдите длину вектора $\vec{AB} - \vec{AC}$.



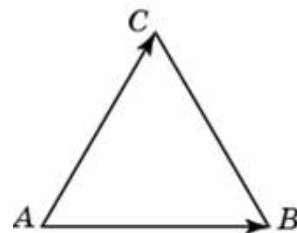
11.

Стороны правильного треугольника ABC равны 22. Найдите длину вектора $\vec{AB} - \vec{AC}$.



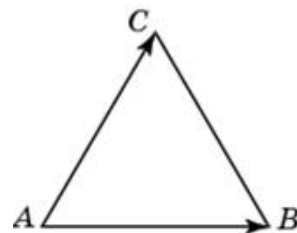
12.

Стороны правильного треугольника ABC равны 50. Найдите длину вектора $\vec{AB} - \vec{AC}$.



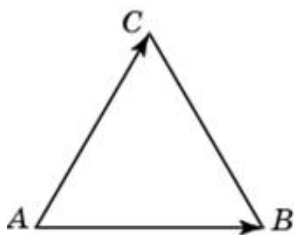
13.

Стороны правильного треугольника ABC равны 13. Найдите длину вектора $\vec{AB} - \vec{AC}$.



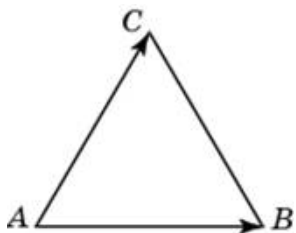
14.

Стороны правильного треугольника ABC равны 46. Найдите длину вектора $\vec{AB} - \vec{AC}$.



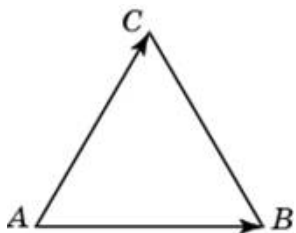
15.

Стороны правильного треугольника ABC равны 5. Найдите длину вектора $\vec{AB} - \vec{AC}$.



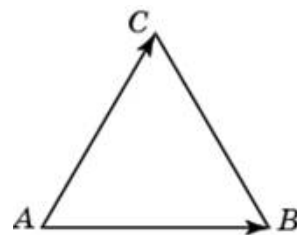
16.

Стороны правильного треугольника ABC равны 43. Найдите длину вектора $\vec{AB} - \vec{AC}$.



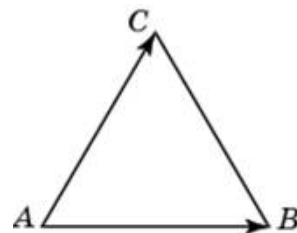
17.

Стороны правильного треугольника ABC равны 20. Найдите длину вектора $\vec{AB} - \vec{AC}$.



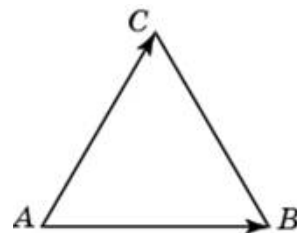
18.

Стороны правильного треугольника ABC равны 26. Найдите длину вектора $\vec{AB} - \vec{AC}$.



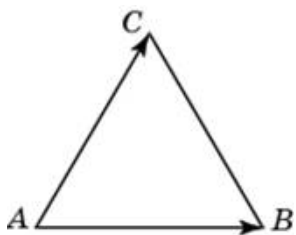
19.

Стороны правильного треугольника ABC равны 8. Найдите длину вектора $\vec{AB} - \vec{AC}$.



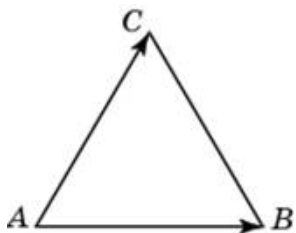
20.

Стороны правильного треугольника ABC равны 2. Найдите длину вектора $\vec{AB} - \vec{AC}$.



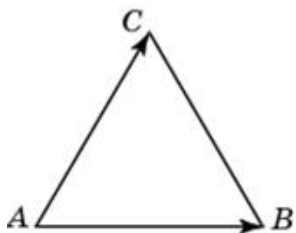
21.

Стороны правильного треугольника ABC равны 47. Найдите длину вектора $\vec{AB} - \vec{AC}$.



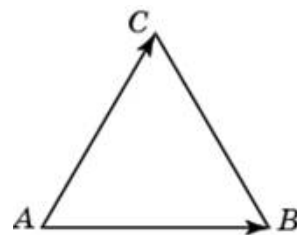
22.

Стороны правильного треугольника ABC равны 31. Найдите длину вектора $\vec{AB} - \vec{AC}$.



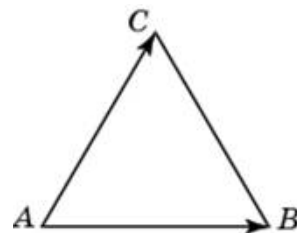
23.

Стороны правильного треугольника ABC равны 18. Найдите длину вектора $\vec{AB} - \vec{AC}$.



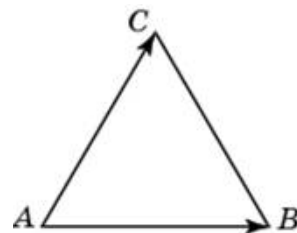
24.

Стороны правильного треугольника ABC равны 16. Найдите длину вектора $\vec{AB} - \vec{AC}$.



25.

Стороны правильного треугольника ABC равны 3. Найдите длину вектора $\vec{AB} - \vec{AC}$.



26.

Стороны правильного треугольника ABC равны 40. Найдите длину вектора $\vec{AB} - \vec{AC}$.

