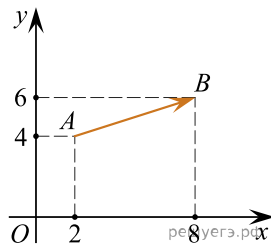
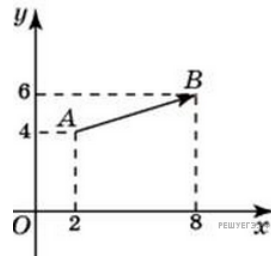


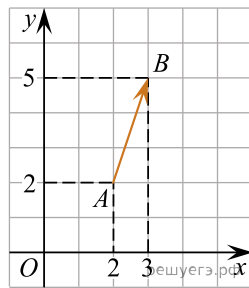
1. Найдите квадрат длины вектора  $\vec{AB}$ .



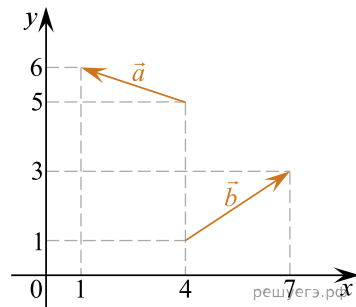
2. Найдите квадрат длины вектора  $\vec{AB}$ .



3. Найдите квадрат длины вектора  $\vec{AB}$ .



4. Найдите квадрат длины вектора  $\vec{a} + \vec{b}$ .



5. Найдите квадрат длины вектора  $\vec{a} + \vec{b}$ .

