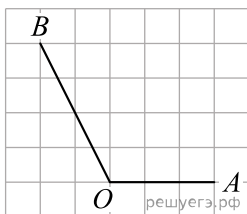
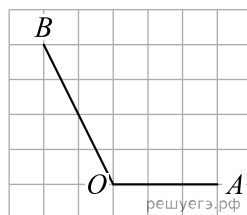


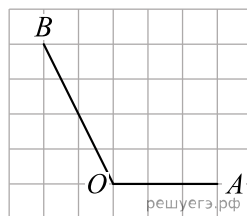
1. Найдите синус угла AOB . В ответе укажите значение синуса, умноженное на $\frac{\sqrt{5}}{2}$.



2. Найдите косинус угла AOB . В ответе укажите значение косинуса, умноженное на $2\sqrt{5}$.



3. Найдите тангенс угла AOB .



4. На клетчатой бумаге с размером клетки 1×1 изображен угол. Найдите синус этого угла

