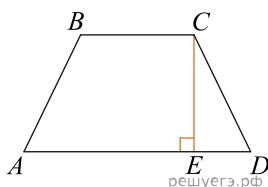
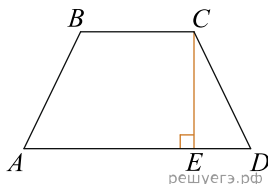


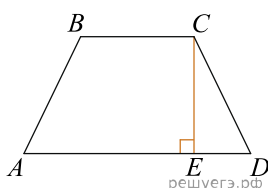
1. Основания равнобедренной трапеции равны 17 и 87. Высота трапеции равна 14. Найдите тангенс острого угла.



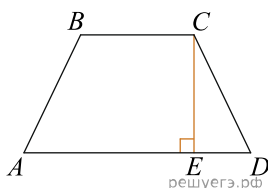
2. Основания равнобедренной трапеции равны 25 и 23. Высота трапеции равна 1. Найдите тангенс острого угла.



3. Основания равнобедренной трапеции равны 43 и 7. Высота трапеции равна 27. Найдите тангенс острого угла трапеции.



4. Основания равнобедренной трапеции равны 43 и 23. Высота трапеции равна 20. Найдите тангенс острого угла трапеции.



5. Основания равнобедренной трапеции равны 25 и 7. Высота трапеции равна 4,5. Найдите тангенс острого угла.

6. Основания равнобедренной трапеции равны 35 и 14. Высота трапеции равна 4,2. Найдите тангенс острого угла.

7. Основания равнобедренной трапеции равны 25 и 14. Высота трапеции равна 2,75. Найдите тангенс острого угла.

8. Основания равнобедренной трапеции равны 45 и 14. Высота трапеции равна 9,3. Найдите тангенс острого угла.

9. Основания равнобедренной трапеции равны 43 и 14. Высота трапеции равна 29. Найдите тангенс острого угла.

10. Основания равнобедренной трапеции равны 26 и 23. Высота трапеции равна 0,9. Найдите тангенс острого угла.

11. Основания равнобедренной трапеции равны 26 и 11. Высота трапеции равна 11,25. Найдите тангенс острого угла.

12. Основания равнобедренной трапеции равны 35 и 14. Высота трапеции равна 26,25. Найдите тангенс острого угла.

13. Основания равнобедренной трапеции равны 25 и 21. Высота трапеции равна 2. Найдите тангенс острого угла.

14. Основания равнобедренной трапеции равны 25 и 16. Высота трапеции равна 2,25. Найдите тангенс острого угла.

15. Основания равнобедренной трапеции равны 26 и 16. Высота трапеции равна 1,25. Найдите тангенс острого угла.

16. Основания равнобедренной трапеции равны 43 и 7. Высота трапеции равна 27. Найдите тангенс острого угла.

17. Основания равнобедренной трапеции равны 43 и 23. Высота трапеции равна 20. Найдите тангенс острого угла.

18. Основания равнобедренной трапеции равны 49 и 16. Высота трапеции равна 0. Найдите тангенс острого угла.

19. Основания равнобедренной трапеции равны 35 и 21. Высота трапеции равна 2,8. Найдите тангенс острого угла.

20. Основания равнобедренной трапеции равны 35 и 16. Высота трапеции равна 3,8. Найдите тангенс острого угла.

21. Основания равнобедренной трапеции равны 26 и 9. Высота трапеции равна 2,125. Найдите тангенс острого угла.

22. Основания равнобедренной трапеции равны 45 и 23. Высота трапеции равна 33. Найдите тангенс острого угла.

23. Основания равнобедренной трапеции равны 47 и 16. Высота трапеции равна 23,25. Найдите тангенс острого угла.

24. Основания равнобедренной трапеции равны 26 и 21. Высота трапеции равна 1,25. Найдите тангенс острого угла.

25. Основания равнобедренной трапеции равны 25 и 11. Высота трапеции равна 17,5. Найдите тангенс острого угла.

26. Основания равнобедренной трапеции равны 35 и 23. Высота трапеции равна 2,4. Найдите тангенс острого угла.

27. Основания равнобедренной трапеции равны 53 и 7. Высота трапеции равна 13,8. Найдите тангенс острого угла.

28. Основания равнобедренной трапеции равны 47 и 9. Высота трапеции равна 11,4. Найдите тангенс острого угла.