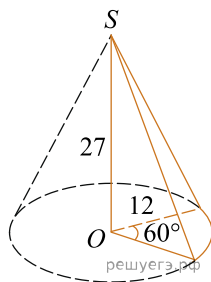
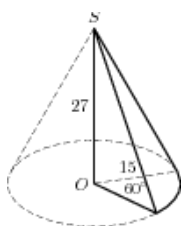


1. Найдите объем V части конуса, изображенной на рисунке. В ответе укажите $\frac{V}{\pi}$.



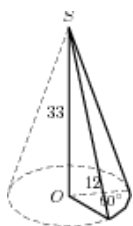
2.

Найдите объем V части конуса, изображенной на рисунке. В ответе укажите V/π .



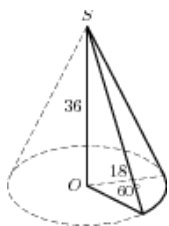
3.

Найдите объем V части конуса, изображенной на рисунке. В ответе укажите V/π .



4.

Найдите объем V части конуса, изображенной на рисунке. В ответе укажите V/π .



5. Найдите объем V части конуса, изображенной на рисунке. В ответе укажите V/π .

