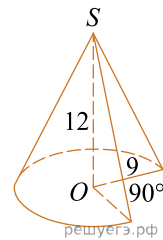
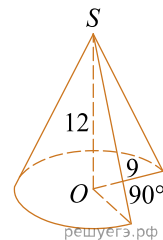


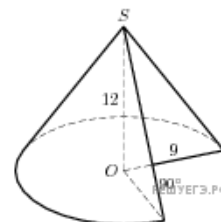
1. Найдите объем V части конуса, изображенной на рисунке. В ответе укажите $\frac{V}{\pi}$.



2. Найдите объем V части конуса, изображенной на рисунке. В ответе укажите V/π .

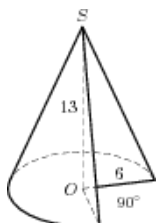


3. Найдите объем V части конуса, изображенной на рисунке. В ответе укажите V/π .



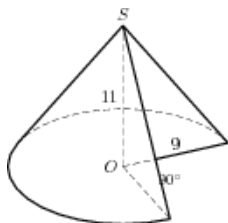
4.

Найдите объем V части конуса, изображенной на рисунке. В ответе укажите V/π .



5.

Найдите объем V части конуса, изображенной на рисунке. В ответе укажите V/π .



6.

Найдите объем V части конуса, изображенной на рисунке. В ответе укажите V/π .

