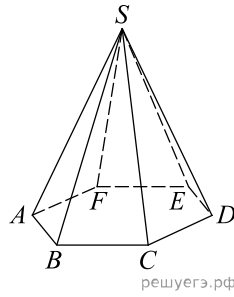
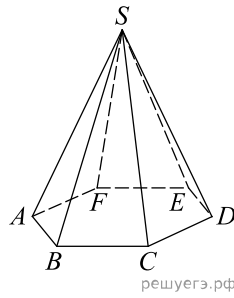


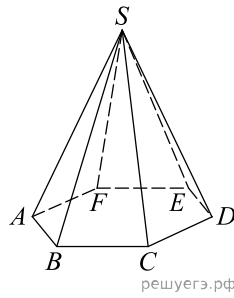
1. Объем правильной шестиугольной пирамиды равен 6. Сторона основания равна 1. Найдите боковое ребро.



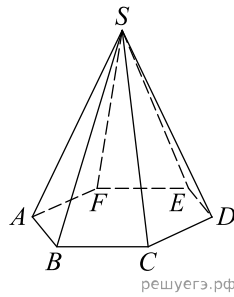
2. Объем правильной шестиугольной пирамиды 2592. Сторона основания равна 12. Найдите боковое ребро.



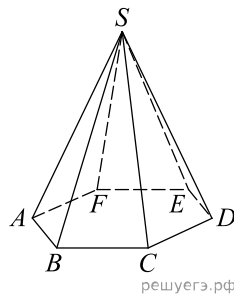
3. Объем правильной шестиугольной пирамиды 324. Сторона основания равна 6. Найдите боковое ребро.



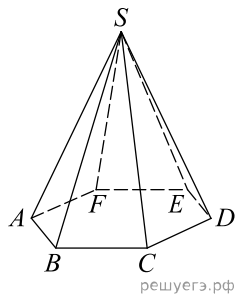
4. Объем правильной шестиугольной пирамиды 40,5. Сторона основания равна 3. Найдите боковое ребро.



5. Объем правильной шестиугольной пирамиды 1093,5. Сторона основания равна 9. Найдите боковое ребро.



6. Объем правильной шестиугольной пирамиды 96. Сторона основания равна 4. Найдите боковое ребро.



7. Объем правильной шестиугольной пирамиды 768. Сторона основания равна 8. Найдите боковое ребро.

