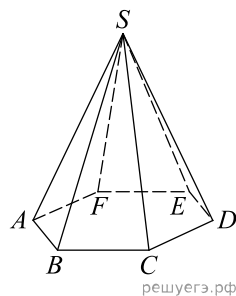
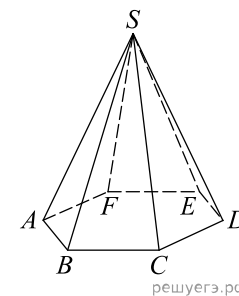


1. Объем правильной шестиугольной пирамиды равен 6. Сторона основания равна 1. Найдите боковое ребро.



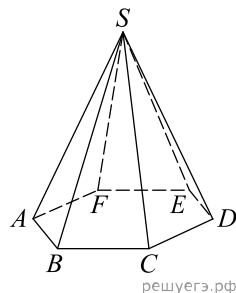
решуегэ.рф

4. Объем правильной шестиугольной пирамиды 40,5. Сторона основания равна 3. Найдите боковое ребро.



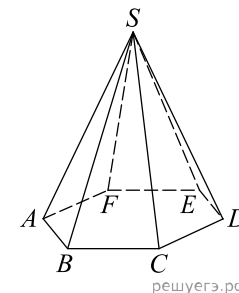
решуегэ.рф

2. Объем правильной шестиугольной пирамиды 2592. Сторона основания равна 12. Найдите боковое ребро.



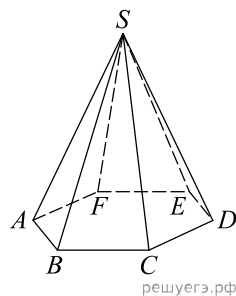
решуегэ.рф

5. Объем правильной шестиугольной пирамиды 1093,5. Сторона основания равна 9. Найдите боковое ребро.



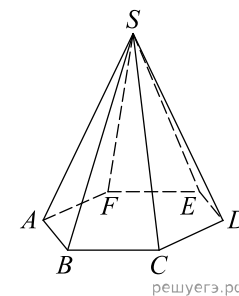
решуегэ.рф

3. Объем правильной шестиугольной пирамиды 324. Сторона основания равна 6. Найдите боковое ребро.



решуегэ.рф

6. Объем правильной шестиугольной пирамиды 96. Сторона основания равна 4. Найдите боковое ребро.



решуегэ.рф

7. Объем правильной шестиугольной пирамиды 768. Сторона основания равна 8. Найдите боковое ребро.

