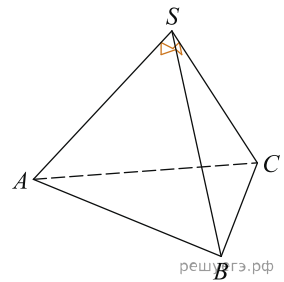
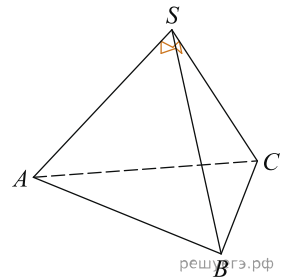


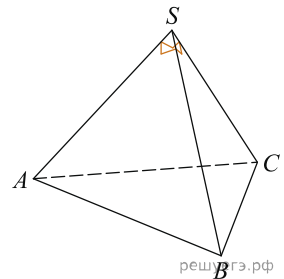
1. Боковые ребра треугольной пирамиды взаимно перпендикулярны, каждое из них равно 3. Найдите объем пирамиды.



2. Боковые ребра треугольной пирамиды взаимно перпендикулярны, каждое из них равно 27. Найдите объем пирамиды.



3. Боковые ребра треугольной пирамиды взаимно перпендикулярны, каждое из них равно 24. Найдите объем пирамиды.



4. Боковые ребра треугольной пирамиды взаимно перпендикулярны, каждое из них равно 12. Найдите объем пирамиды.

5. Боковые ребра треугольной пирамиды взаимно перпендикулярны, каждое из них равно 15. Найдите объем пирамиды.

6. Боковые ребра треугольной пирамиды взаимно перпендикулярны, каждое из них равно 48. Найдите объем пирамиды.

7. Боковые ребра треугольной пирамиды взаимно перпендикулярны, каждое из них равно 54. Найдите объем пирамиды.

8. Боковые ребра треугольной пирамиды взаимно перпендикулярны, каждое из них равно 6. Найдите объем пирамиды.