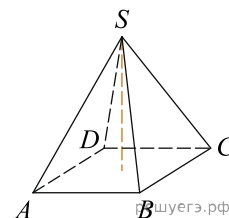
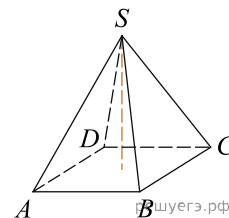


1. В правильной четырехугольной пирамиде высота равна 6, боковое ребро равно 10. Найдите ее объем.

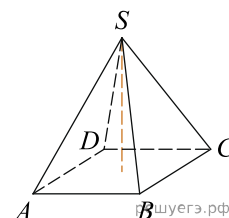


2. В правильной четырехугольной пирамиде высота равна 3, боковое ребро равно 10. Найдите ее объем.

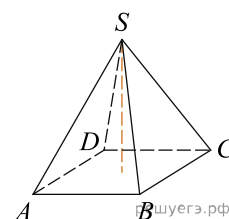


3. В правильной четырехугольной пирамиде высота равна 4, боковое ребро равно 13. Найдите ее объем.

4. В правильной четырехугольной пирамиде высота равна 8, боковое ребро равно 10. Найдите ее объем.



5. В правильной четырехугольной пирамиде высота равна 3, боковое ребро равно 5. Найдите ее объем.



6. В правильной четырехугольной пирамиде высота равна 7, боковое ребро равно 8. Найдите ее объем.

7. В правильной четырехугольной пирамиде высота равна 2, боковое ребро равно 11. Найдите ее объем.

8. В правильной четырехугольной пирамиде высота равна 3, боковое ребро равно 8. Найдите ее объем.

9. В правильной четырехугольной пирамиде высота равна 4, боковое ребро равно 10. Найдите ее объем.

10. В правильной четырехугольной пирамиде высота равна 8, боковое ребро равно 11. Найдите ее объем.

11. В правильной четырехугольной пирамиде высота равна 6, боковое ребро равно 11. Найдите ее объем.

12. В правильной четырехугольной пирамиде высота равна 4, боковое ребро равно 14. Найдите ее объем.

13. В правильной четырехугольной пирамиде высота равна 2, боковое ребро равно 14. Найдите ее объем.

14. В правильной четырехугольной пирамиде высота равна 2, боковое ребро равно 13. Найдите ее объем.

15. В правильной четырехугольной пирамиде высота равна 9, боковое ребро равно 11. Найдите ее объем.

16. В правильной четырехугольной пирамиде высота равна 7, боковое ребро равно 13. Найдите ее объем.

17. В правильной четырехугольной пирамиде высота равна 5, боковое ребро равно 14. Найдите ее объем.

18. В правильной четырехугольной пирамиде высота равна 3, боковое ребро равно 9. Найдите ее объем.

19. В правильной четырехугольной пирамиде высота равна 5, боковое ребро равно 7. Найдите ее объем.

20. В правильной четырехугольной пирамиде высота равна 2, боковое ребро равно 7. Найдите ее объем.
21. В правильной четырехугольной пирамиде высота равна 5, боковое ребро равно 16. Найдите ее объем.
22. В правильной четырехугольной пирамиде высота равна 3, боковое ребро равно 6. Найдите ее объем.
23. В правильной четырехугольной пирамиде высота равна 2, боковое ребро равно 16. Найдите ее объем.
24. В правильной четырехугольной пирамиде высота равна 7, боковое ребро равно 11. Найдите ее объем.