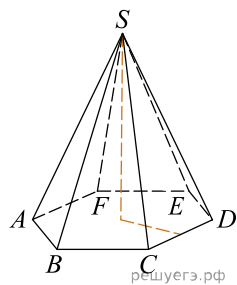
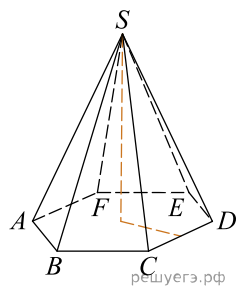


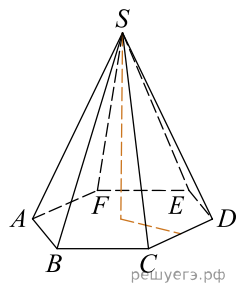
1. Во сколько раз увеличится объем пирамиды, если ее высоту увеличить в четыре раза?



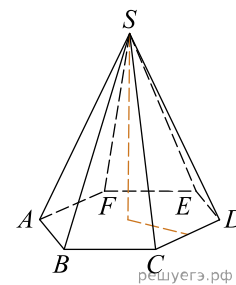
2. Во сколько раз увеличится объем пирамиды, если ее высоту увеличить в тридцать один раз?



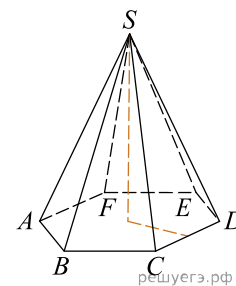
3. Во сколько раз увеличится объем пирамиды, если ее высоту увеличить в двенадцать раз?



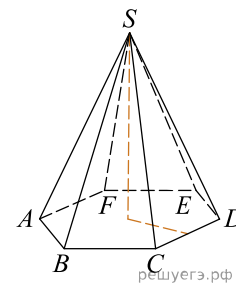
4. Во сколько раз увеличится объем пирамиды, если ее высоту увеличить в два раза?



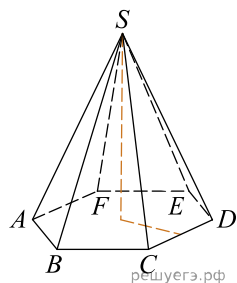
5. Во сколько раз увеличится объем пирамиды, если ее высоту увеличить в сорок шесть раз?



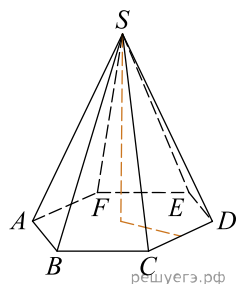
6. Во сколько раз увеличится объем пирамиды, если ее высоту увеличить в десять раз?



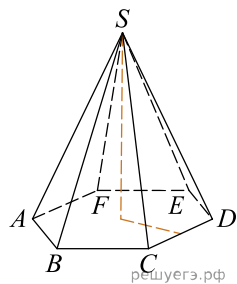
7. Во сколько раз увеличится объем пирамиды, если ее высоту увеличить в сорок четыре раза?



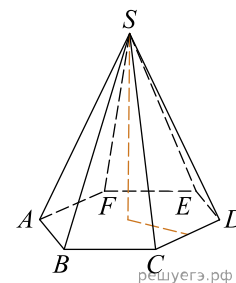
8. Во сколько раз увеличится объем пирамиды, если ее высоту увеличить в тридцать девять раз?



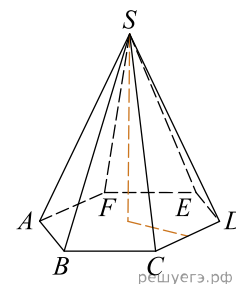
9. Во сколько раз увеличится объем пирамиды, если ее высоту увеличить в шесть раз?



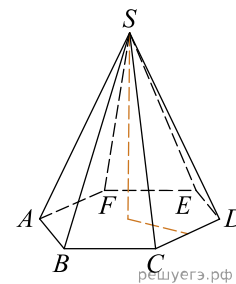
10. Во сколько раз увеличится объем пирамиды, если ее высоту увеличить в тридцать пять раз?



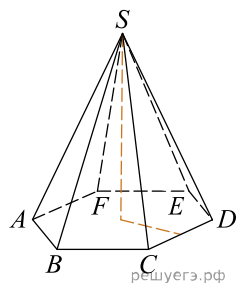
11. Во сколько раз увеличится объем пирамиды, если ее высоту увеличить в сорок один раз?



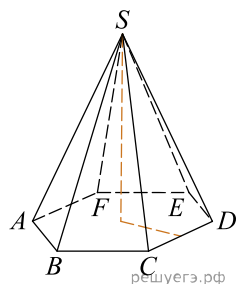
12. Во сколько раз увеличится объем пирамиды, если ее высоту увеличить в двадцать два раза?



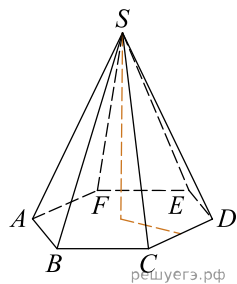
13. Во сколько раз увеличится объем пирамиды, если ее высоту увеличить в двадцать четыре раза?



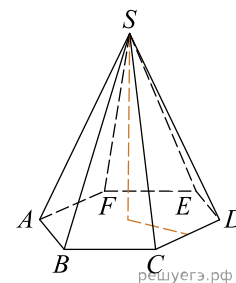
14. Во сколько раз увеличится объем пирамиды, если ее высоту увеличить в двадцать три раза?



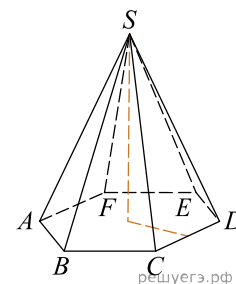
15. Во сколько раз увеличится объем пирамиды, если ее высоту увеличить в сорок раз?



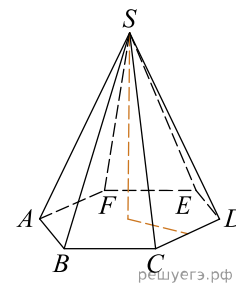
16. Во сколько раз увеличится объем пирамиды, если ее высоту увеличить в пять раз?



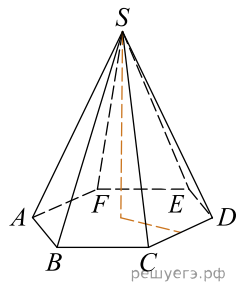
17. Во сколько раз увеличится объем пирамиды, если ее высоту увеличить в восемнадцать раз?



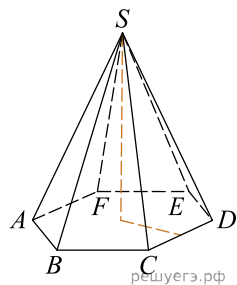
18. Во сколько раз увеличится объем пирамиды, если ее высоту увеличить в двадцать один раз?



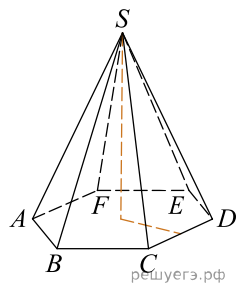
19. Во сколько раз увеличится объем пирамиды, если ее высоту увеличить в тридцать шесть раз?



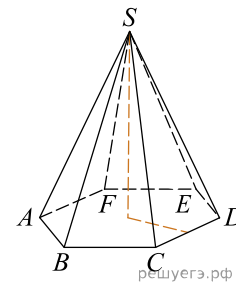
20. Во сколько раз увеличится объем пирамиды, если ее высоту увеличить в тридцать семь раз?



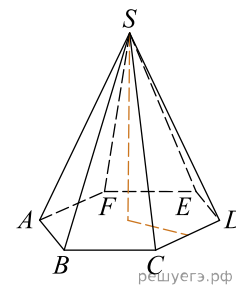
21. Во сколько раз увеличится объем пирамиды, если ее высоту увеличить в двадцать пять раз?



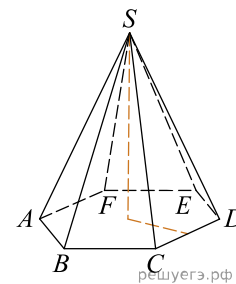
22. Во сколько раз увеличится объем пирамиды, если ее высоту увеличить в тридцать четыре раза?



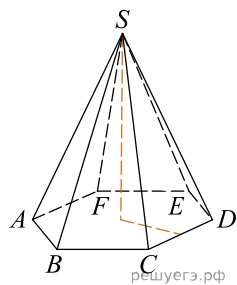
23. Во сколько раз увеличится объем пирамиды, если ее высоту увеличить в двадцать семь раз?



24. Во сколько раз увеличится объем пирамиды, если ее высоту увеличить в восемь раз?



25. Во сколько раз увеличится объем пирамиды, если ее высоту увеличить в двадцать девять раз?



26. Во сколько раз увеличится объем пирамиды, если ее высоту увеличить в двадцать шесть раз?