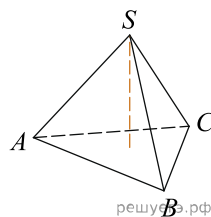
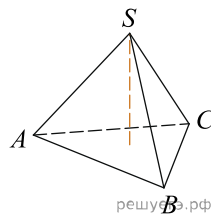


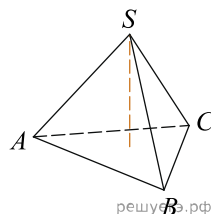
1. Найдите объем правильной треугольной пирамиды, стороны основания которой равны 1, а высота равна $\sqrt{3}$.



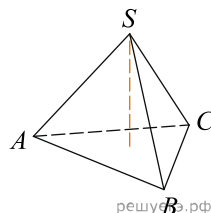
2. Найдите объем правильной треугольной пирамиды, стороны основания которой равны 3, а высота равна $6\sqrt{3}$.



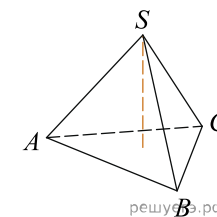
3. Найдите объем правильной треугольной пирамиды, стороны основания которой равны 11, а высота равна $4\sqrt{3}$.



4. Найдите объем правильной треугольной пирамиды, стороны основания которой равны 6, а высота равна $4\sqrt{3}$.



5. Найдите объем правильной треугольной пирамиды, стороны основания которой равны 8, а высота равна $6\sqrt{3}$.



6. Найдите объем правильной треугольной пирамиды, стороны основания которой равны 2, а высота равна $4\sqrt{3}$.

7. Найдите объем правильной треугольной пирамиды, стороны основания которой равны 11, а высота равна $2\sqrt{3}$.

8. Найдите объем правильной треугольной пирамиды, стороны основания которой равны 11, а высота равна $\sqrt{3}$.

9. Найдите объем правильной треугольной пирамиды, стороны основания которой равны 9, а высота равна $2\sqrt{3}$.

10. Найдите объем правильной треугольной пирамиды, стороны основания которой равны 5, а высота равна $4\sqrt{3}$.

11. Найдите объем правильной треугольной пирамиды, стороны основания которой равны 9, а высота равна $6\sqrt{3}$.

12. Найдите объем правильной треугольной пирамиды, стороны основания которой равны 6, а высота равна $2\sqrt{3}$.

13. Найдите объем правильной треугольной пирамиды, стороны основания которой равны 4, а высота равна $2\sqrt{3}$.

14. Найдите объем правильной треугольной пирамиды, стороны основания которой равны 4, а высота равна $4\sqrt{3}$.

15. Найдите объем правильной треугольной пирамиды, стороны основания которой равны 3, а высота равна $4\sqrt{3}$.

16. Найдите объем правильной треугольной пирамиды, стороны основания которой равны 7, а высота равна $2\sqrt{3}$.

17. Найдите объем правильной треугольной пирамиды, стороны основания которой равны 12, а высота равна $\sqrt{3}$.

18. Найдите объем правильной треугольной пирамиды, стороны основания которой равны 12, а высота равна $2\sqrt{3}$.

19. Найдите объем правильной треугольной пирамиды, стороны основания которой равны 12, а высота равна $6\sqrt{3}$.

20. Найдите объем правильной треугольной пирамиды, стороны основания которой равны 8, а высота равна $4\sqrt{3}$.

21. Найдите объем правильной треугольной пирамиды, стороны основания которой равны 5, а высота равна $6\sqrt{3}$.

22. Найдите объем правильной треугольной пирамиды, стороны основания которой равны 1, а высота равна $6\sqrt{3}$.

23. Найдите объем правильной треугольной пирамиды, стороны основания которой равны 5, а высота равна $\sqrt{3}$.

24. Найдите объем правильной треугольной пирамиды, стороны основания которой равны 6, а высота равна $6\sqrt{3}$.

25. Найдите объем правильной треугольной пирамиды, стороны основания которой равны 9, а высота равна $4\sqrt{3}$.

26. Найдите объем правильной треугольной пирамиды, стороны основания которой равны 3, а высота равна $\sqrt{3}$.

27. Найдите объем правильной треугольной пирамиды, стороны основания которой равны 5, а высота равна $2\sqrt{3}$.