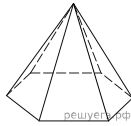
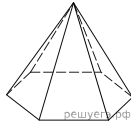


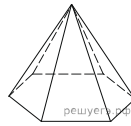
1. Стороны основания правильной шестиугольной пирамиды равны 10, боковые ребра равны 13. Найдите площадь боковой поверхности этой пирамиды.



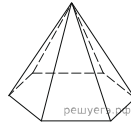
2. Стороны основания правильной шестиугольной пирамиды равны 14, боковые ребра равны 25. Найдите площадь боковой поверхности этой пирамиды.



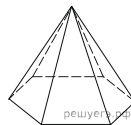
3. Стороны основания правильной шестиугольной пирамиды равны 48, боковые ребра равны 51. Найдите площадь боковой поверхности этой пирамиды.



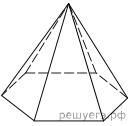
4. Стороны основания правильной шестиугольной пирамиды равны 24, боковые ребра равны 37. Найдите площадь боковой поверхности этой пирамиды.



5. Стороны основания правильной шестиугольной пирамиды равны 18, боковые ребра равны 41. Найдите площадь боковой поверхности этой пирамиды.



6. Стороны основания правильной шестиугольной пирамиды равны 16, боковые ребра равны 17. Найдите площадь боковой поверхности этой пирамиды.



7. Стороны основания правильной шестиугольной пирамиды равны 10, боковые ребра равны 13. Найдите площадь боковой поверхности этой пирамиды.

8. Стороны основания правильной шестиугольной пирамиды равны 48, боковые ребра равны 74. Найдите площадь боковой поверхности этой пирамиды.

9. Стороны основания правильной шестиугольной пирамиды равны 36, боковые ребра равны 82. Найдите площадь боковой поверхности этой пирамиды.

10. Стороны основания правильной шестиугольной пирамиды равны 54, боковые ребра равны 123. Найдите площадь боковой поверхности этой пирамиды.

11. Стороны основания правильной шестиугольной пирамиды равны 28, боковые ребра равны 50. Найдите площадь боковой поверхности этой пирамиды.

12. Стороны основания правильной шестиугольной пирамиды равны 30, боковые ребра равны 39. Найдите площадь боковой поверхности этой пирамиды.

13. Стороны основания правильной шестиугольной пирамиды равны 20, боковые ребра равны 26. Найдите площадь боковой поверхности этой пирамиды.

14. Стороны основания правильной шестиугольной пирамиды равны 14, боковые ребра равны 25. Найдите площадь боковой поверхности этой пирамиды.