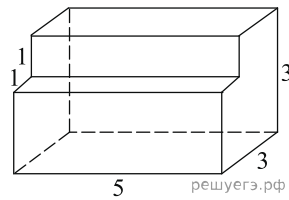
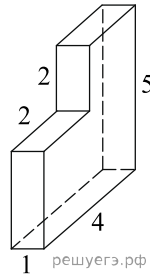


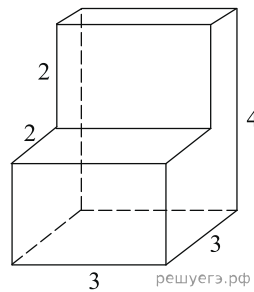
1. Найдите площадь поверхности многогранника, изображенного на рисунке (все двугранные углы прямые).



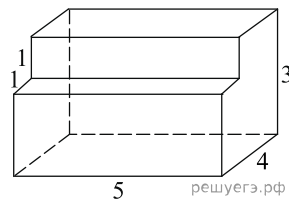
2. Найдите площадь поверхности многогранника, изображенного на рисунке (все двугранные углы прямые).



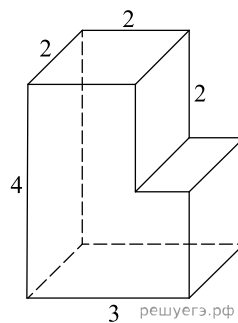
3. Найдите площадь поверхности многогранника, изображенного на рисунке (все двугранные углы прямые).



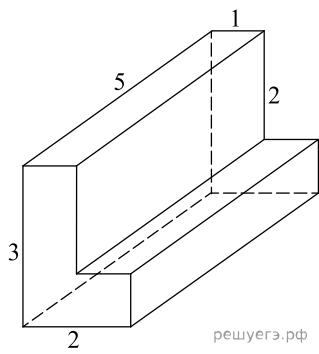
4. Найдите площадь поверхности многогранника, изображенного на рисунке (все двугранные углы прямые).



5. Найдите площадь поверхности многогранника, изображенного на рисунке (все двугранные углы прямые).

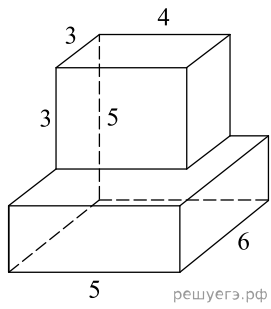


6. Найдите площадь поверхности многогранника, изображённого на рисунке (все двугранные углы прямые).



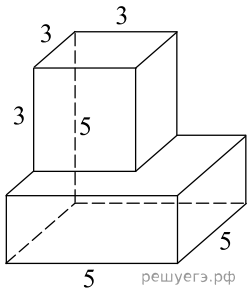
решуегэ.рф

7. Найдите площадь поверхности многогранника, изображённого на рисунке (все двугранные углы прямые).



решуегэ.рф

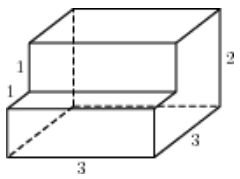
8. Найдите площадь поверхности многогранника, изображённого на рисунке (все двугранные углы прямые).



решуегэ.рф

9.

Найдите площадь поверхности многогранника, изображенного на рисунке (все двугранные углы прямые).



10.

Найдите площадь поверхности многогранника, изображенного на рисунке (все двугранные углы прямые).

