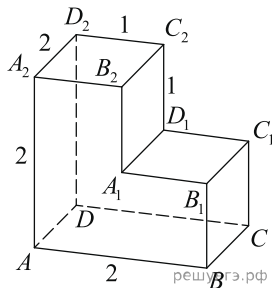
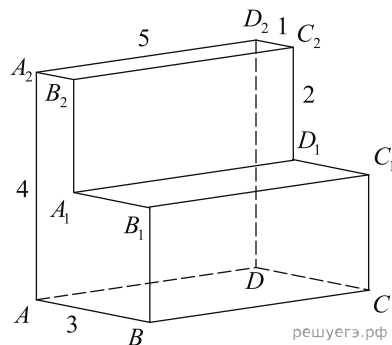


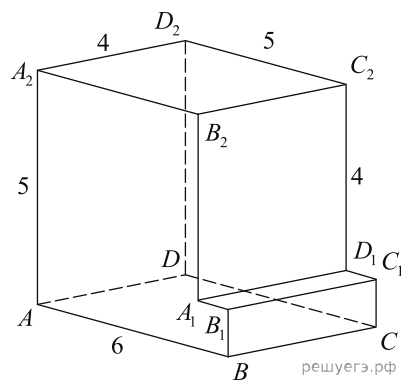
1. Найдите квадрат расстояния между вершинами D и C_2 многогранника, изображенного на рисунке. Все двугранные углы многогранника прямые.



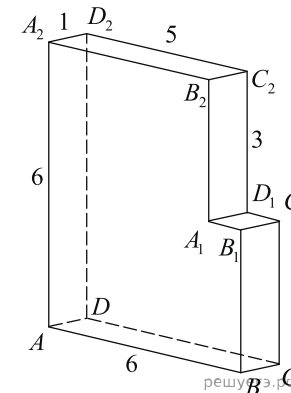
2. Найдите квадрат расстояния между вершинами A и B_2 многогранника, изображенного на рисунке. Все двугранные углы многогранника прямые.



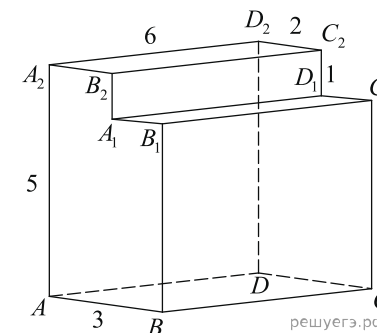
3. Найдите квадрат расстояния между вершинами A и B_1 многогранника, изображенного на рисунке. Все двугранные углы многогранника прямые.



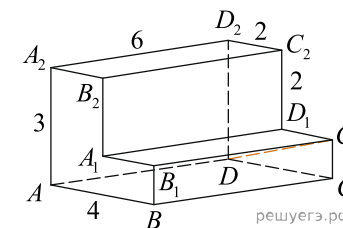
4. Найдите квадрат расстояния между вершинами A и B_2 многогранника, изображенного на рисунке. Все двугранные углы многогранника прямые.



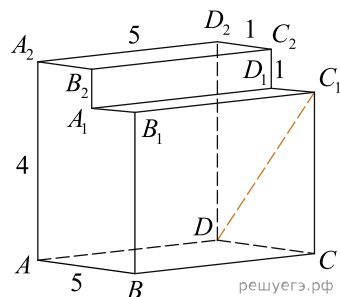
5. Найдите квадрат расстояния между вершинами A и B_1 многогранника, изображенного на рисунке. Все двугранные углы многогранника прямые.



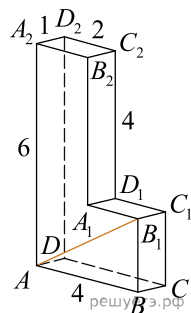
6. Найдите квадрат расстояния между вершинами D и C_1 многогранника, изображенного на рисунке. Все двугранные углы многогранника прямые.



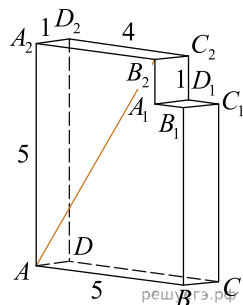
7. Найдите квадрат расстояния между вершинами D и C_1 многогранника, изображенного на рисунке. Все двугранные углы многогранника прямые.



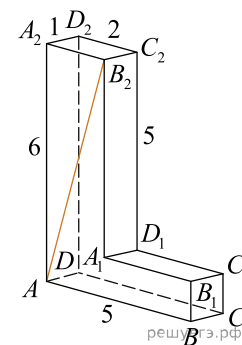
8. Найдите квадрат расстояния между вершинами A и B_1 многогранника, изображенного на рисунке. Все двугранные углы многогранника прямые.



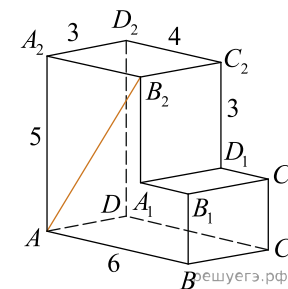
9. Найдите квадрат расстояния между вершинами A и B_2 многогранника, изображенного на рисунке. Все двугранные углы многогранника прямые.



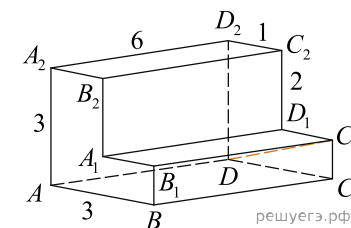
10. Найдите квадрат расстояния между вершинами A и B_2 многогранника, изображенного на рисунке. Все двугранные углы многогранника прямые.



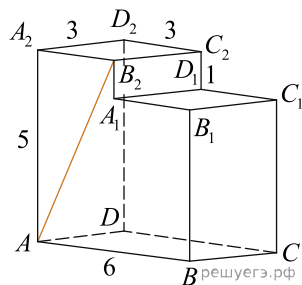
11. Найдите квадрат расстояния между вершинами A и B_2 многогранника, изображенного на рисунке. Все двугранные углы многогранника прямые.



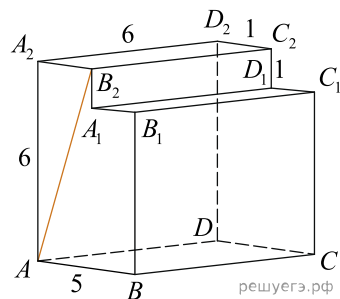
12. Найдите квадрат расстояния между вершинами D и C_1 многогранника, изображенного на рисунке. Все двугранные углы многогранника прямые.



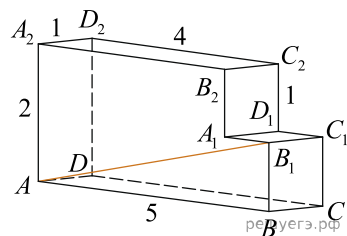
13. Найдите квадрат расстояния между вершинами A и B_2 многогранника, изображенного на рисунке. Все двугранные углы многогранника прямые.



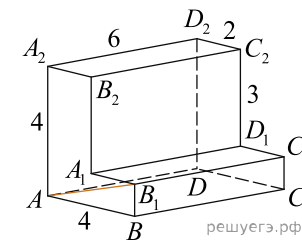
14. Найдите квадрат расстояния между вершинами A и B_2 многогранника, изображенного на рисунке. Все двугранные углы многогранника прямые.



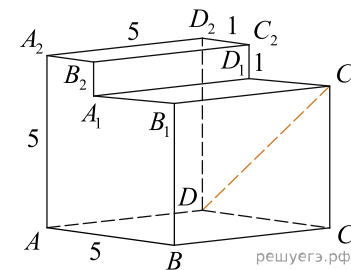
15. Найдите квадрат расстояния между вершинами A и B_1 многогранника, изображенного на рисунке. Все двугранные углы многогранника прямые.



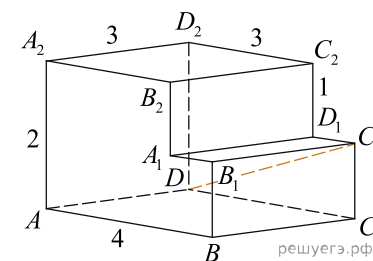
16. Найдите квадрат расстояния между вершинами A и B_1 многогранника, изображенного на рисунке. Все двугранные углы многогранника прямые.



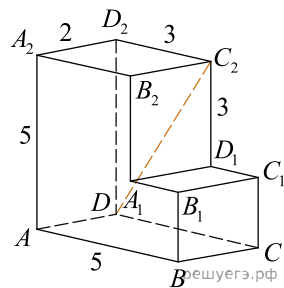
17. Найдите квадрат расстояния между вершинами D и C_1 многогранника, изображенного на рисунке. Все двугранные углы многогранника прямые.



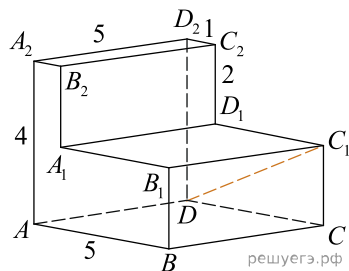
18. Найдите квадрат расстояния между вершинами D и C_1 многогранника, изображенного на рисунке. Все двугранные углы многогранника прямые.



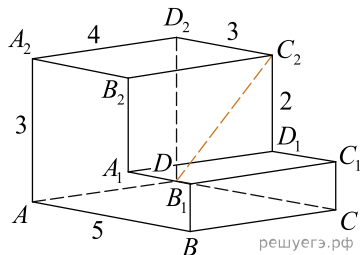
19. Найдите квадрат расстояния между вершинами D и C_2 многогранника, изображенного на рисунке. Все двугранные углы многогранника прямые.



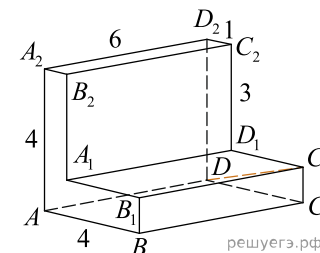
20. Найдите квадрат расстояния между вершинами D и C_1 многогранника, изображенного на рисунке. Все двугранные углы многогранника прямые.



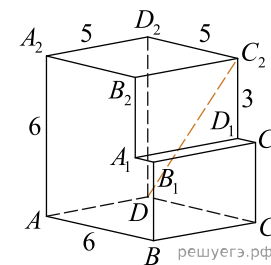
21. Найдите квадрат расстояния между вершинами D и C_2 многогранника, изображенного на рисунке. Все двугранные углы многогранника прямые.



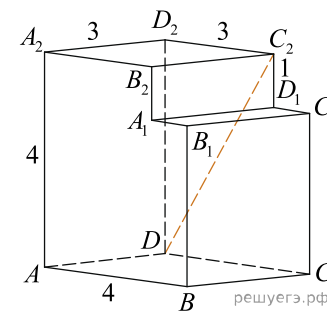
22. Найдите квадрат расстояния между вершинами D и C_1 многогранника, изображенного на рисунке. Все двугранные углы многогранника прямые.



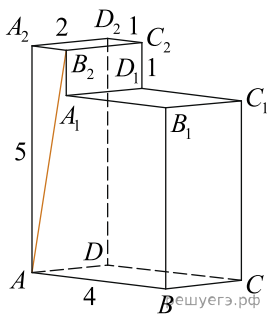
23. Найдите квадрат расстояния между вершинами D и C_2 многогранника, изображенного на рисунке. Все двугранные углы многогранника прямые.



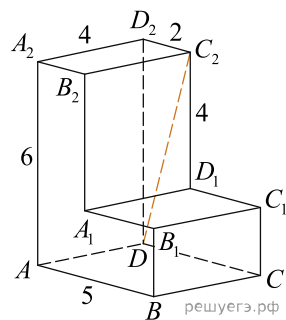
24. Найдите квадрат расстояния между вершинами D и C_2 многогранника, изображенного на рисунке. Все двугранные углы многогранника прямые.



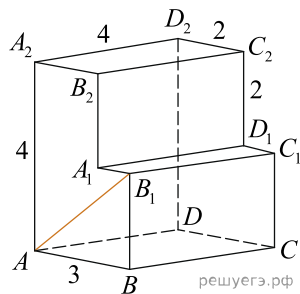
25. Найдите квадрат расстояния между вершинами A и B_2 многогранника, изображенного на рисунке. Все двугранные углы многогранника прямые.



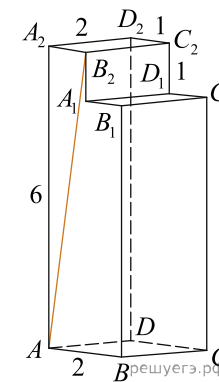
26. Найдите квадрат расстояния между вершинами D и C_2 многогранника, изображенного на рисунке. Все двугранные углы многогранника прямые.



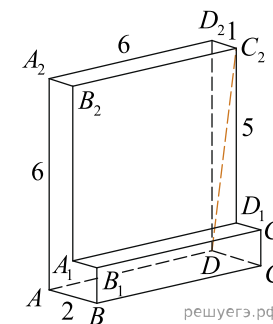
27. Найдите квадрат расстояния между вершинами A и B_1 многогранника, изображенного на рисунке. Все двугранные углы многогранника прямые.



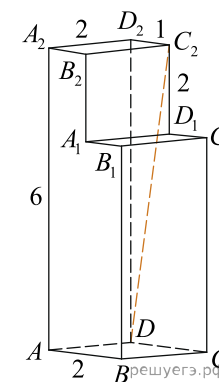
28. Найдите квадрат расстояния между вершинами A и B_2 многогранника, изображенного на рисунке. Все двугранные углы многогранника прямые.



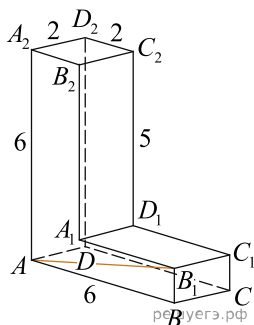
29. Найдите квадрат расстояния между вершинами D и C_2 многогранника, изображенного на рисунке. Все двугранные углы многогранника прямые.



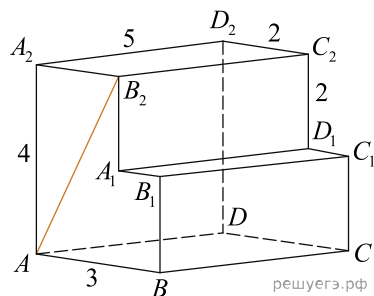
30. Найдите квадрат расстояния между вершинами D и C_2 многогранника, изображенного на рисунке. Все двугранные углы многогранника прямые.



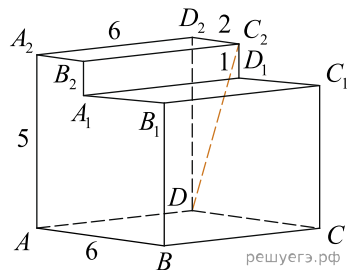
31. Найдите квадрат расстояния между вершинами A и B_1 многогранника, изображенного на рисунке. Все двугранные углы многогранника прямые.



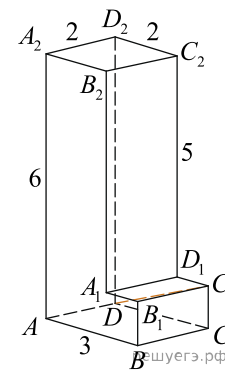
32. Найдите квадрат расстояния между вершинами A и B_2 многогранника, изображенного на рисунке. Все двугранные углы многогранника прямые.



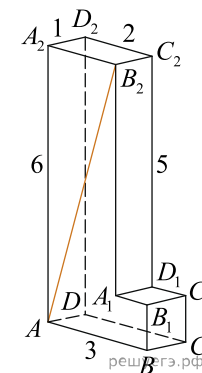
33. Найдите квадрат расстояния между вершинами D и C_2 многогранника, изображенного на рисунке. Все двугранные углы многогранника прямые.



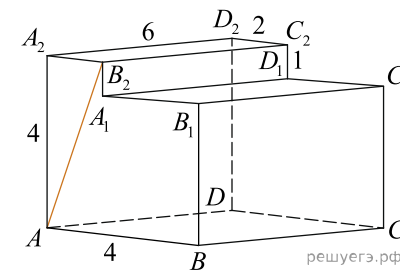
34. Найдите квадрат расстояния между вершинами D и C_1 многогранника, изображенного на рисунке. Все двугранные углы многогранника прямые.



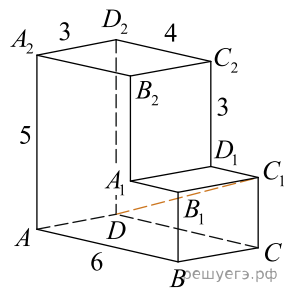
35. Найдите квадрат расстояния между вершинами A и B_2 многогранника, изображенного на рисунке. Все двугранные углы многогранника прямые.



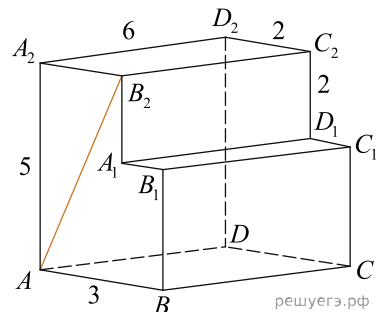
36. Найдите квадрат расстояния между вершинами A и B_2 многогранника, изображенного на рисунке. Все двугранные углы многогранника прямые.



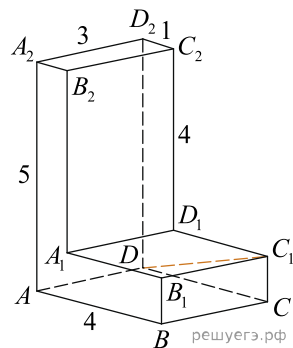
37. Найдите квадрат расстояния между вершинами D и C_1 многогранника, изображенного на рисунке. Все двугранные углы многогранника прямые.



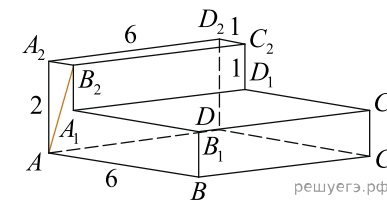
38. Найдите квадрат расстояния между вершинами A и B_2 многогранника, изображенного на рисунке. Все двугранные углы многогранника прямые.



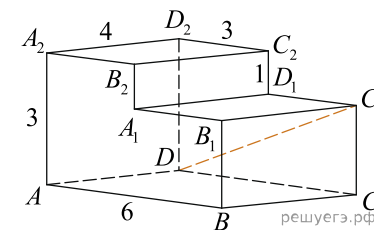
39. Найдите квадрат расстояния между вершинами D и C_1 многогранника, изображенного на рисунке. Все двугранные углы многогранника прямые.



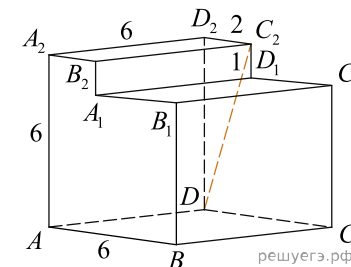
40. Найдите квадрат расстояния между вершинами A и B_2 многогранника, изображенного на рисунке. Все двугранные углы многогранника прямые.



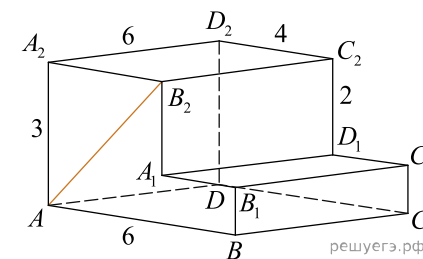
41. Найдите квадрат расстояния между вершинами D и C_1 многогранника, изображенного на рисунке. Все двугранные углы многогранника прямые.



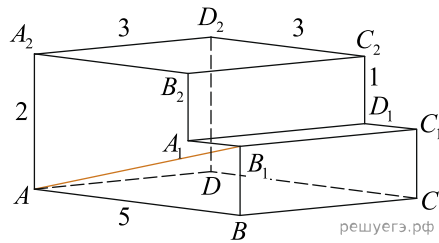
42. Найдите квадрат расстояния между вершинами D и C_2 многогранника, изображенного на рисунке. Все двугранные углы многогранника прямые.



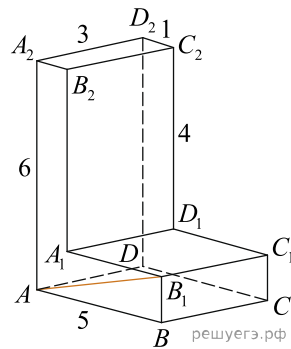
43. Найдите квадрат расстояния между вершинами A и B_2 многогранника, изображенного на рисунке. Все двугранные углы многогранника прямые.



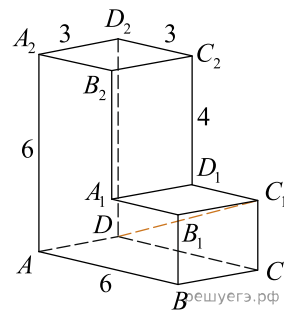
44. Найдите квадрат расстояния между вершинами A и B_1 многогранника, изображенного на рисунке. Все двугранные углы многогранника прямые.



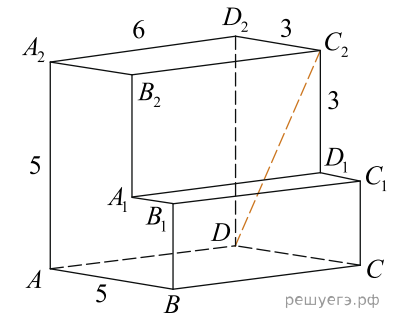
45. Найдите квадрат расстояния между вершинами A и B_1 многогранника, изображенного на рисунке. Все двугранные углы многогранника прямые.



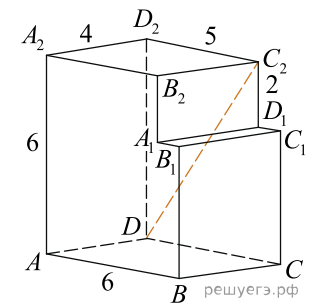
46. Найдите квадрат расстояния между вершинами D и C_1 многогранника, изображенного на рисунке. Все двугранные углы многогранника прямые.



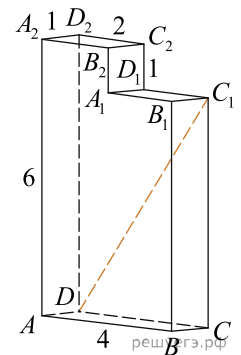
47. Найдите квадрат расстояния между вершинами D и C_2 многогранника, изображенного на рисунке. Все двугранные углы многогранника прямые.



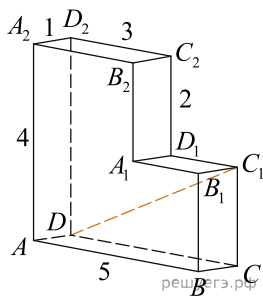
48. Найдите квадрат расстояния между вершинами D и C_2 многогранника, изображенного на рисунке. Все двугранные углы многогранника прямые.



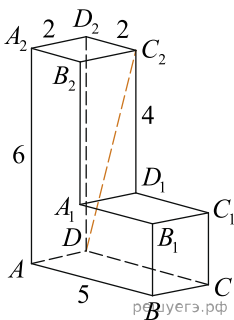
49. Найдите квадрат расстояния между вершинами D и C_1 многогранника, изображенного на рисунке. Все двугранные углы многогранника прямые.



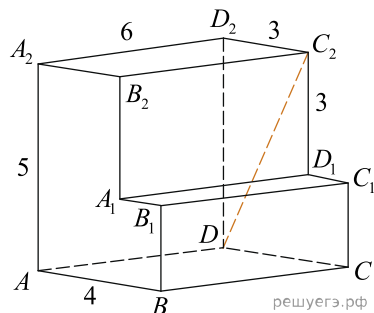
50. Найдите квадрат расстояния между вершинами D и C_1 многогранника, изображенного на рисунке. Все двугранные углы многогранника прямые.



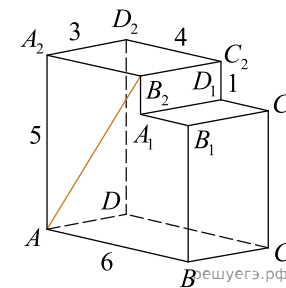
51. Найдите квадрат расстояния между вершинами D и C_2 многогранника, изображенного на рисунке. Все двугранные углы многогранника прямые.



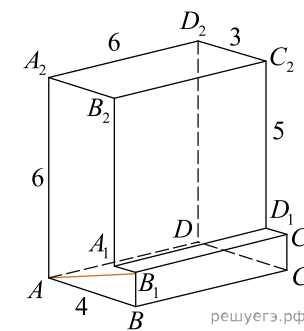
52. Найдите квадрат расстояния между вершинами D и C_2 многогранника, изображенного на рисунке. Все двугранные углы многогранника прямые.



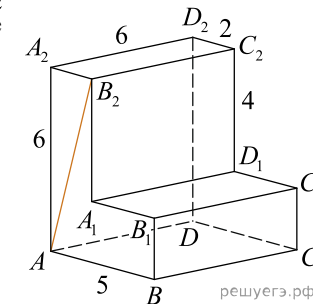
53. Найдите квадрат расстояния между вершинами A и B_2 многогранника, изображенного на рисунке. Все двугранные углы многогранника прямые.



54. Найдите квадрат расстояния между вершинами A и B_1 многогранника, изображенного на рисунке. Все двугранные углы многогранника прямые.

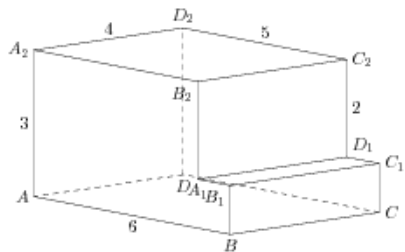


55. Найдите квадрат расстояния между вершинами A и B_2 многогранника, изображенного на рисунке. Все двугранные углы многогранника прямые.



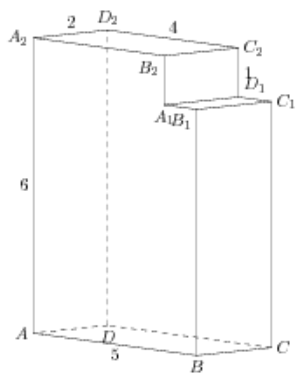
56.

Найдите квадрат расстояния между вершинами D и C_2 многогранника, изображенного на рисунке. Все двугранные углы многогранника прямые.



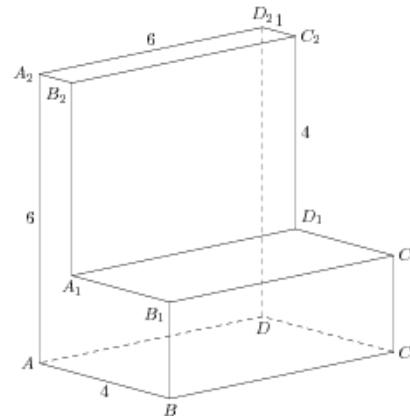
57.

Найдите квадрат расстояния между вершинами A и B_1 многогранника, изображенного на рисунке. Все двугранные углы многогранника прямые.



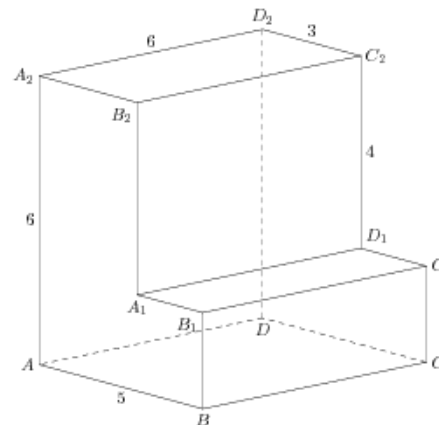
58.

Найдите квадрат расстояния между вершинами A и B_2 многогранника, изображенного на рисунке. Все двугранные углы многогранника прямые.



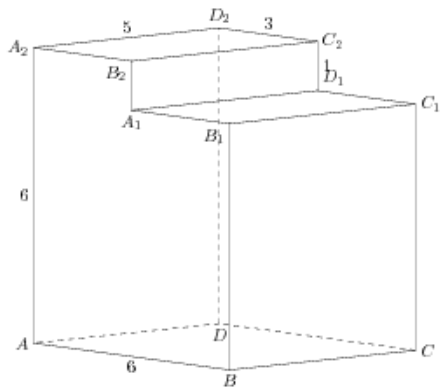
59.

Найдите квадрат расстояния между вершинами A и B_1 многогранника, изображенного на рисунке. Все двугранные углы многогранника прямые.



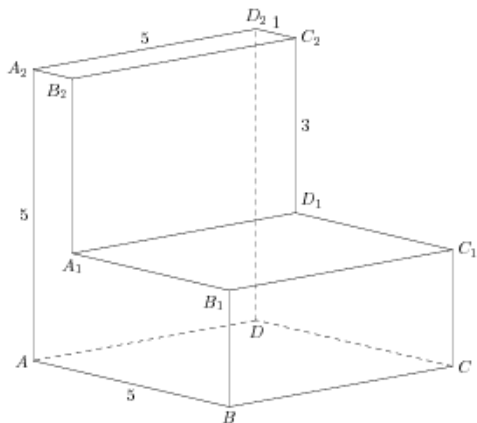
60.

Найдите квадрат расстояния между вершинами D и C_1 многогранника, изображенного на рисунке. Все двугранные углы многогранника прямые.



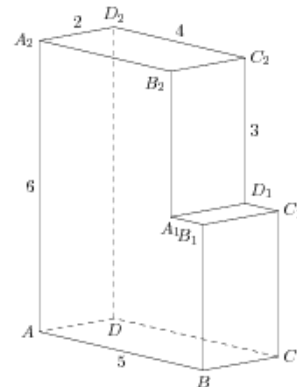
61.

Найдите квадрат расстояния между вершинами A и B_2 многогранника, изображенного на рисунке. Все двугранные углы многогранника прямые.



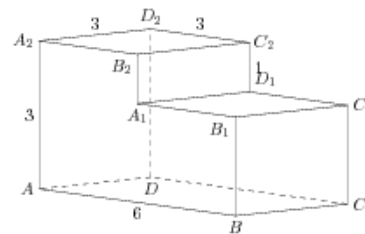
62.

Найдите квадрат расстояния между вершинами A и B_2 многогранника, изображенного на рисунке. Все двугранные углы многогранника прямые.



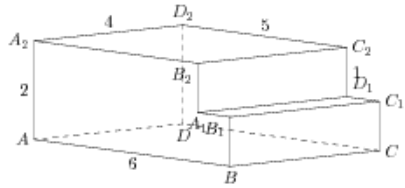
63.

Найдите квадрат расстояния между вершинами D и C_2 многогранника, изображенного на рисунке. Все двугранные углы многогранника прямые.



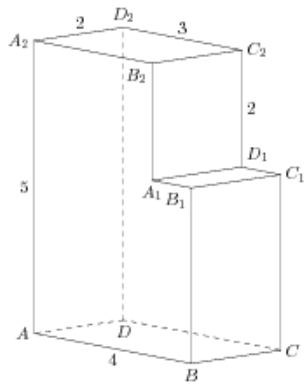
68.

Найдите квадрат расстояния между вершинами D и C_1 многогранника, изображенного на рисунке. Все двугранные углы многогранника прямые.



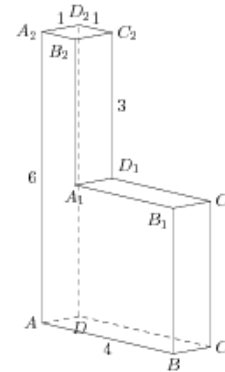
69.

Найдите квадрат расстояния между вершинами A и B_1 многогранника, изображенного на рисунке. Все двугранные углы многогранника прямые.



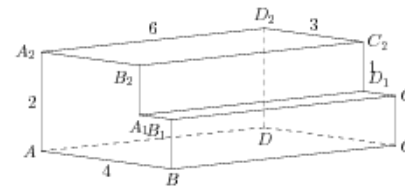
70.

Найдите квадрат расстояния между вершинами D и C_2 многогранника, изображенного на рисунке. Все двугранные углы многогранника прямые.



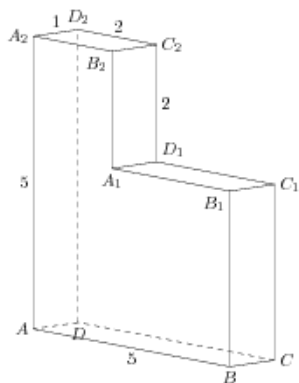
71.

Найдите квадрат расстояния между вершинами A и B_2 многогранника, изображенного на рисунке. Все двугранные углы многогранника прямые.



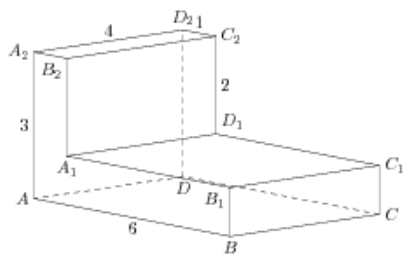
72.

Найдите квадрат расстояния между вершинами A и B_1 многогранника, изображенного на рисунке. Все двугранные углы многогранника прямые.



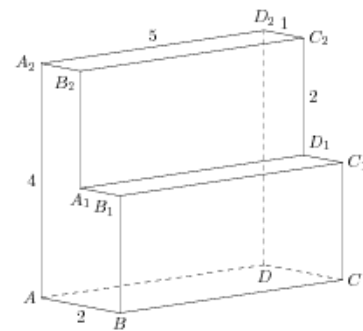
73.

Найдите квадрат расстояния между вершинами D и C_1 многогранника, изображенного на рисунке. Все двугранные углы многогранника прямые.



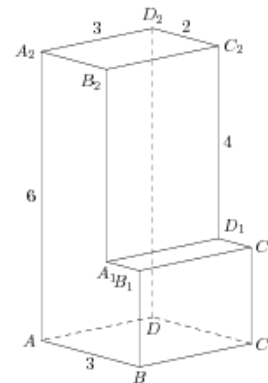
74.

Найдите квадрат расстояния между вершинами D и C_1 многогранника, изображенного на рисунке. Все двугранные углы многогранника прямые.



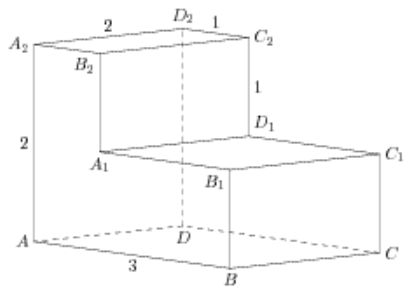
75.

Найдите квадрат расстояния между вершинами A и B_1 многогранника, изображенного на рисунке. Все двугранные углы многогранника прямые.



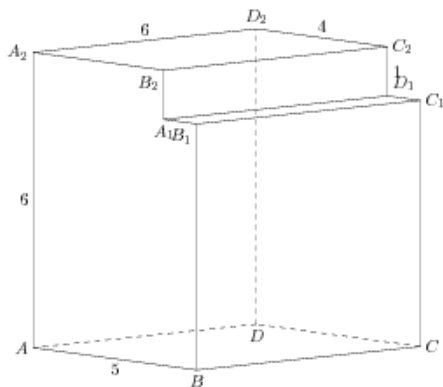
76.

Найдите квадрат расстояния между вершинами D и C_1 многогранника, изображенного на рисунке. Все двугранные углы многогранника прямые.



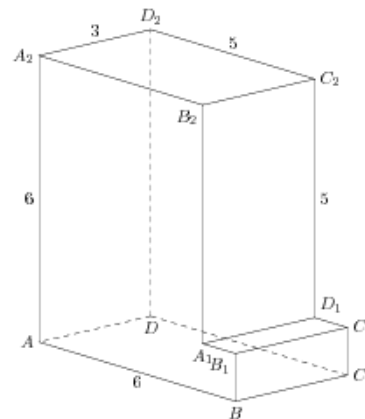
77.

Найдите квадрат расстояния между вершинами D и C_1 многогранника, изображенного на рисунке. Все двугранные углы многогранника прямые.



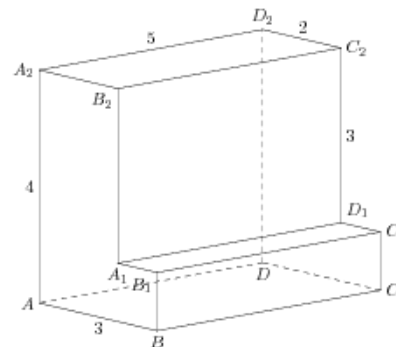
78.

Найдите квадрат расстояния между вершинами A и B_2 многогранника, изображенного на рисунке. Все двугранные углы многогранника прямые.



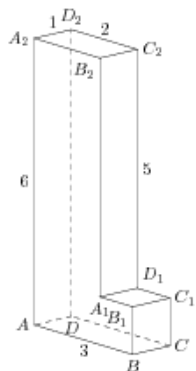
79.

Найдите квадрат расстояния между вершинами D и C_2 многогранника, изображенного на рисунке. Все двугранные углы многогранника прямые.



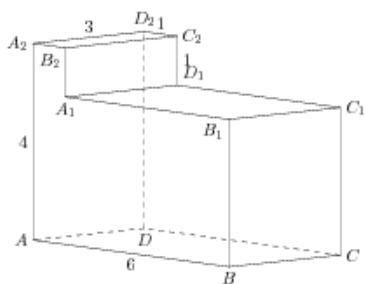
80.

Найдите квадрат расстояния между вершинами D и C_2 многогранника, изображенного на рисунке. Все двугранные углы многогранника прямые.



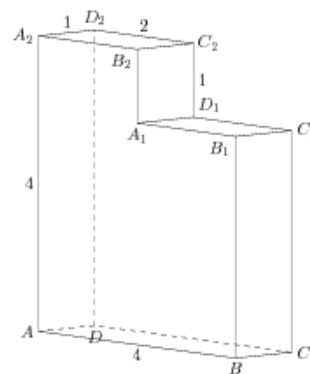
81.

Найдите квадрат расстояния между вершинами A и B_2 многогранника, изображенного на рисунке. Все двугранные углы многогранника прямые.



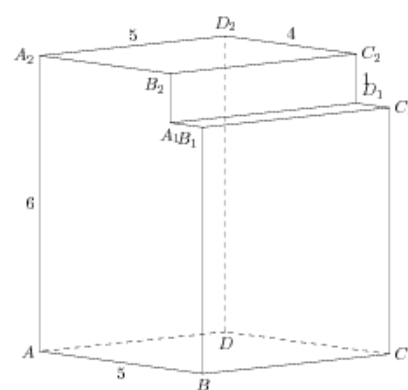
82.

Найдите квадрат расстояния между вершинами D и C_2 многогранника, изображенного на рисунке. Все двугранные углы многогранника прямые.



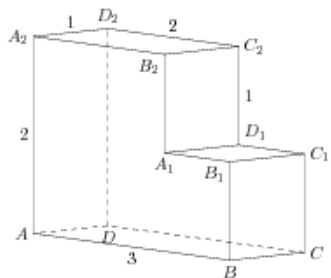
83.

Найдите квадрат расстояния между вершинами A и B_1 многогранника, изображенного на рисунке. Все двугранные углы многогранника прямые.



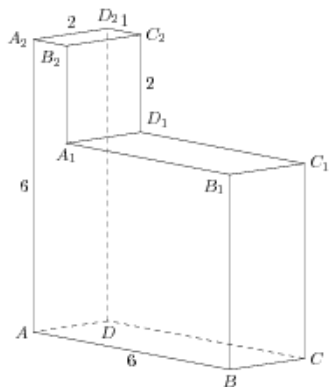
84.

Найдите квадрат расстояния между вершинами D и C_2 многогранника, изображенного на рисунке. Все двугранные углы многогранника прямые.



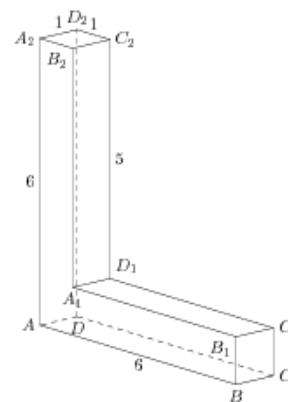
85.

Найдите квадрат расстояния между вершинами D и C_1 многогранника, изображенного на рисунке. Все двугранные углы многогранника прямые.



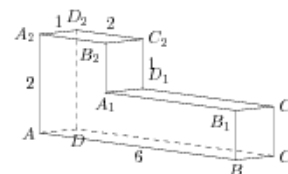
86.

Найдите квадрат расстояния между вершинами D и C_1 многогранника, изображенного на рисунке. Все двугранные углы многогранника прямые.



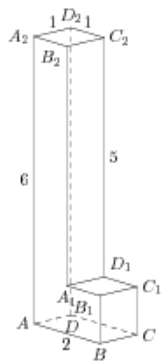
87.

Найдите квадрат расстояния между вершинами D и C_1 многогранника, изображенного на рисунке. Все двугранные углы многогранника прямые.



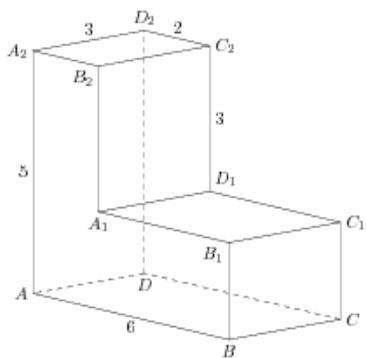
88.

Найдите квадрат расстояния между вершинами D и C_1 многогранника, изображенного на рисунке. Все двугранные углы многогранника прямые.



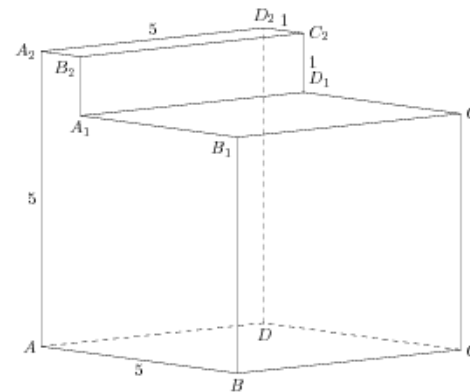
89.

Найдите квадрат расстояния между вершинами D и C_1 многогранника, изображенного на рисунке. Все двугранные углы многогранника прямые.



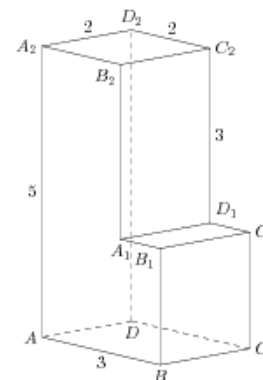
90.

Найдите квадрат расстояния между вершинами D и C_2 многогранника, изображенного на рисунке. Все двугранные углы многогранника прямые.



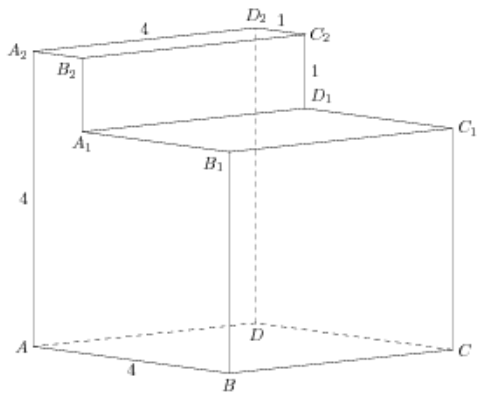
91.

Найдите квадрат расстояния между вершинами A и B_1 многогранника, изображенного на рисунке. Все двугранные углы многогранника прямые.



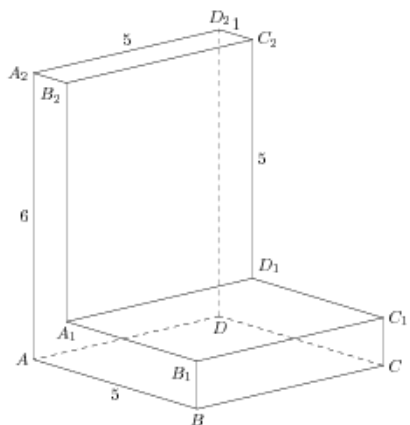
92.

Найдите квадрат расстояния между вершинами A и B_1 многогранника, изображенного на рисунке. Все двугранные углы многогранника прямые.



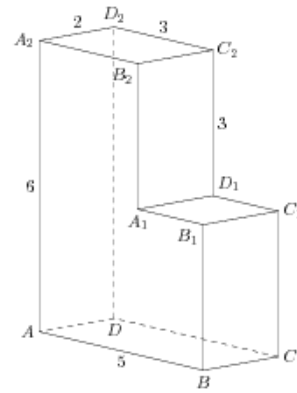
93.

Найдите квадрат расстояния между вершинами D и C_2 многогранника, изображенного на рисунке. Все двугранные углы многогранника прямые.



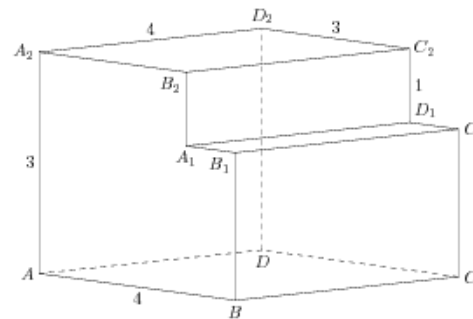
94.

Найдите квадрат расстояния между вершинами A и B_2 многогранника, изображенного на рисунке. Все двугранные углы многогранника прямые.



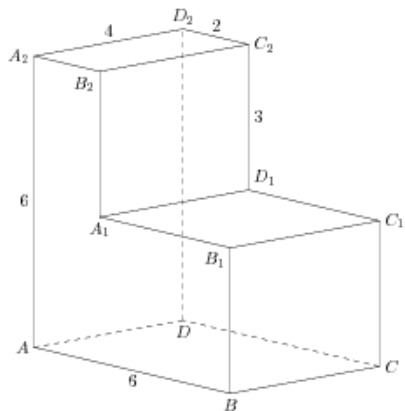
95.

Найдите квадрат расстояния между вершинами A и B_1 многогранника, изображенного на рисунке. Все двугранные углы многогранника прямые.



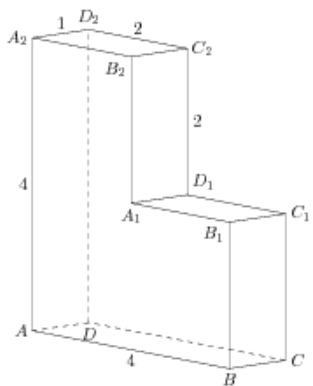
96.

Найдите квадрат расстояния между вершинами A и B_2 многогранника, изображенного на рисунке. Все двугранные углы многогранника прямые.



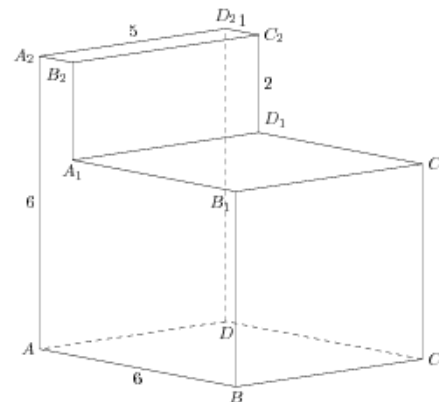
97.

Найдите квадрат расстояния между вершинами A и B_2 многогранника, изображенного на рисунке. Все двугранные углы многогранника прямые.



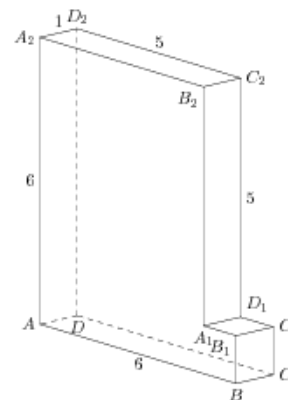
98.

Найдите квадрат расстояния между вершинами D и C_1 многогранника, изображенного на рисунке. Все двугранные углы многогранника прямые.



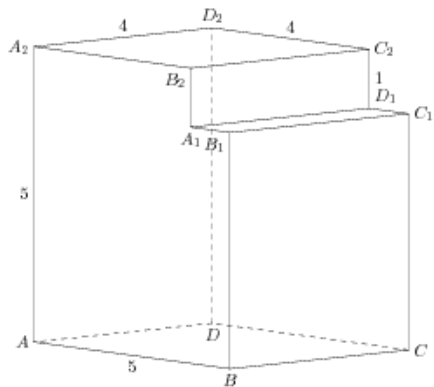
99.

Найдите квадрат расстояния между вершинами D и C_1 многогранника, изображенного на рисунке. Все двугранные углы многогранника прямые.



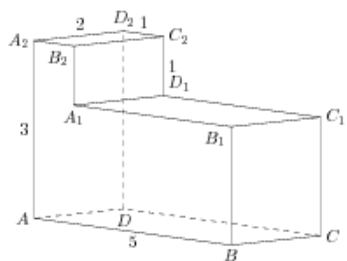
100.

Найдите квадрат расстояния между вершинами D и C_2 многогранника, изображенного на рисунке. Все двугранные углы многогранника прямые.



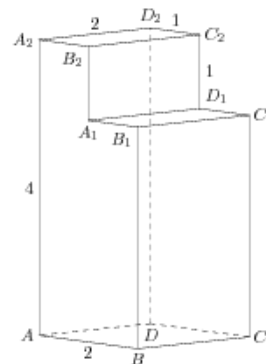
101.

Найдите квадрат расстояния между вершинами A и B_1 многогранника, изображенного на рисунке. Все двугранные углы многогранника прямые.



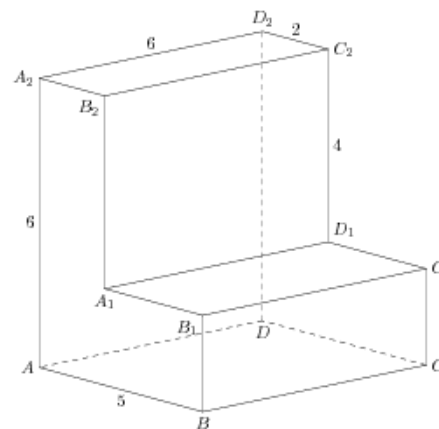
102.

Найдите квадрат расстояния между вершинами A и B_1 многогранника, изображенного на рисунке. Все двугранные углы многогранника прямые.



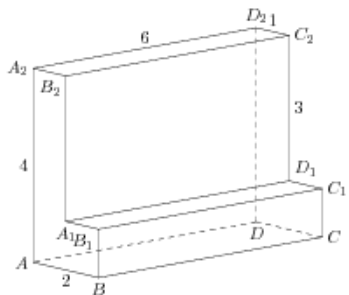
103.

Найдите квадрат расстояния между вершинами A и B_1 многогранника, изображенного на рисунке. Все двугранные углы многогранника прямые.



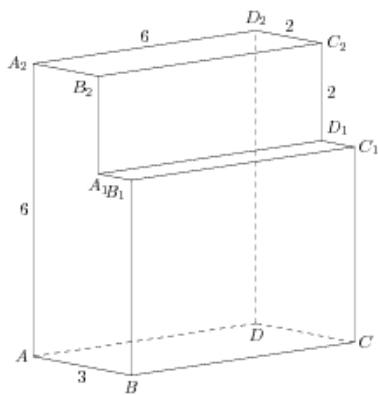
104.

Найдите квадрат расстояния между вершинами D и C_1 многогранника, изображенного на рисунке. Все двугранные углы многогранника прямые.



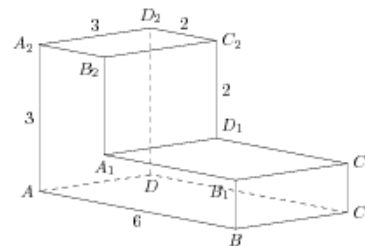
105.

Найдите квадрат расстояния между вершинами D и C_2 многогранника, изображенного на рисунке. Все двугранные углы многогранника прямые.



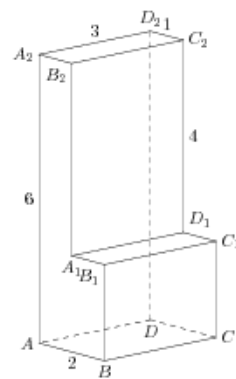
106.

Найдите квадрат расстояния между вершинами D и C_1 многогранника, изображенного на рисунке. Все двугранные углы многогранника прямые.



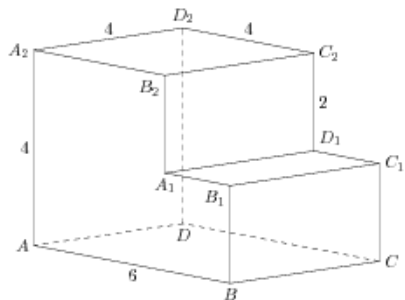
107.

Найдите квадрат расстояния между вершинами A и B_2 многогранника, изображенного на рисунке. Все двугранные углы многогранника прямые.



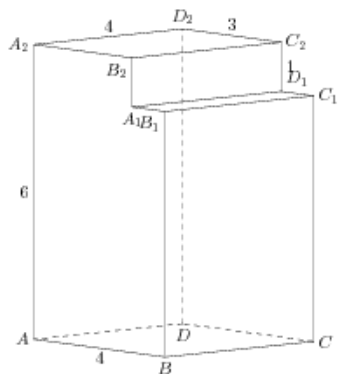
108.

Найдите квадрат расстояния между вершинами D и C_1 многогранника, изображенного на рисунке. Все двугранные углы многогранника прямые.



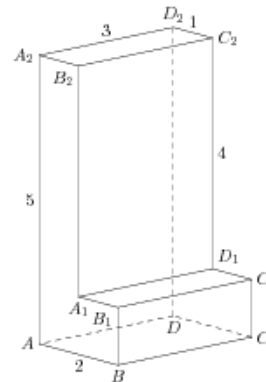
109.

Найдите квадрат расстояния между вершинами A и B_1 многогранника, изображенного на рисунке. Все двугранные углы многогранника прямые.



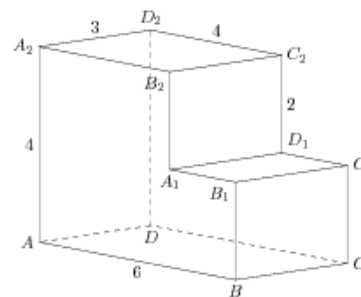
110.

Найдите квадрат расстояния между вершинами D и C_1 многогранника, изображенного на рисунке. Все двугранные углы многогранника прямые.



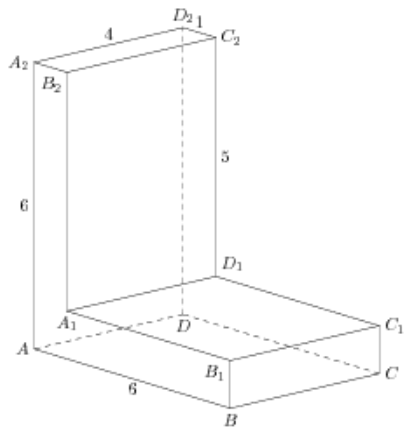
111.

Найдите квадрат расстояния между вершинами D и C_2 многогранника, изображенного на рисунке. Все двугранные углы многогранника прямые.



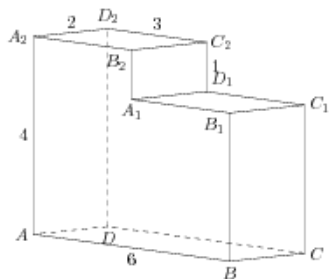
112.

Найдите квадрат расстояния между вершинами A и B_2 многогранника, изображенного на рисунке. Все двугранные углы многогранника прямые.



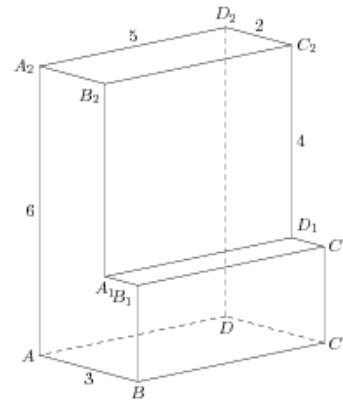
113.

Найдите квадрат расстояния между вершинами D и C_2 многогранника, изображенного на рисунке. Все двугранные углы многогранника прямые.



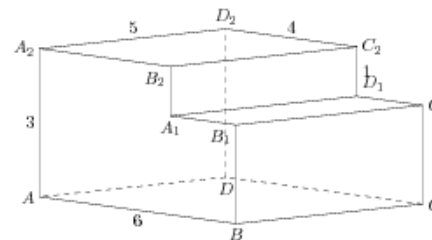
114.

Найдите квадрат расстояния между вершинами A и B_2 многогранника, изображенного на рисунке. Все двугранные углы многогранника прямые.



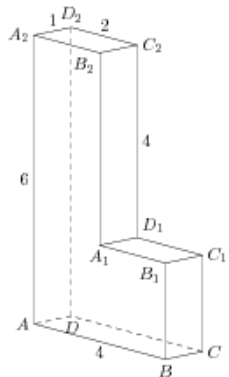
115.

Найдите квадрат расстояния между вершинами A и B_1 многогранника, изображенного на рисунке. Все двугранные углы многогранника прямые.



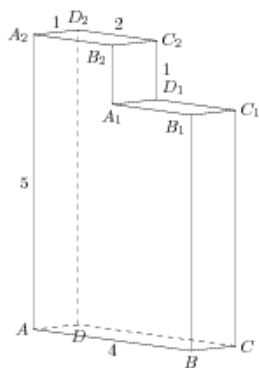
116.

Найдите квадрат расстояния между вершинами D и C_1 многогранника, изображенного на рисунке. Все двугранные углы многогранника прямые.



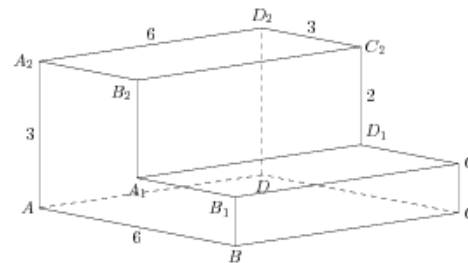
117.

Найдите квадрат расстояния между вершинами A и B_1 многогранника, изображенного на рисунке. Все двугранные углы многогранника прямые.



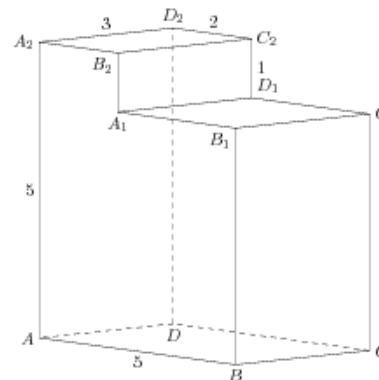
118.

Найдите квадрат расстояния между вершинами A и B_2 многогранника, изображенного на рисунке. Все двугранные углы многогранника прямые.



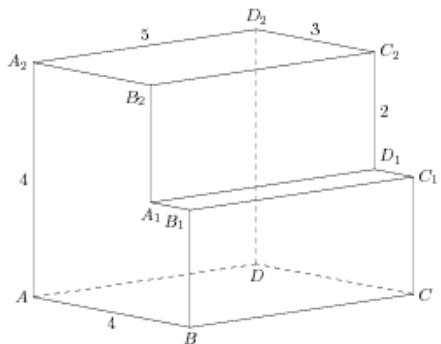
119.

Найдите квадрат расстояния между вершинами D и C_1 многогранника, изображенного на рисунке. Все двугранные углы многогранника прямые.



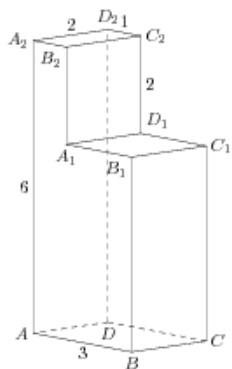
120.

Найдите квадрат расстояния между вершинами D и C_1 многогранника, изображенного на рисунке. Все двугранные углы многогранника прямые.



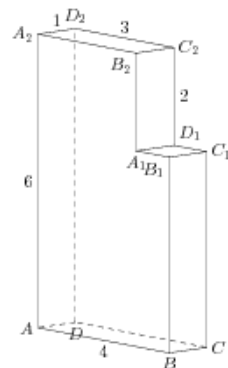
121.

Найдите квадрат расстояния между вершинами A и B_1 многогранника, изображенного на рисунке. Все двугранные углы многогранника прямые.



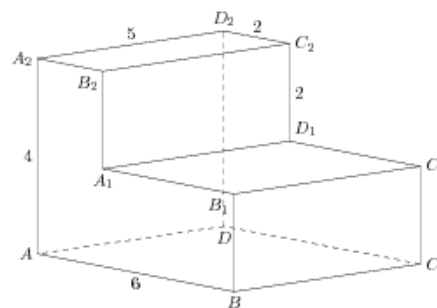
122.

Найдите квадрат расстояния между вершинами D и C_2 многогранника, изображенного на рисунке. Все двугранные углы многогранника прямые.



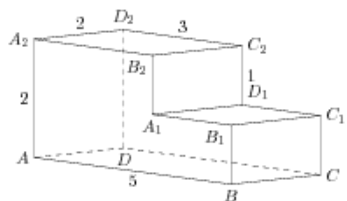
123.

Найдите квадрат расстояния между вершинами D и C_2 многогранника, изображенного на рисунке. Все двугранные углы многогранника прямые.



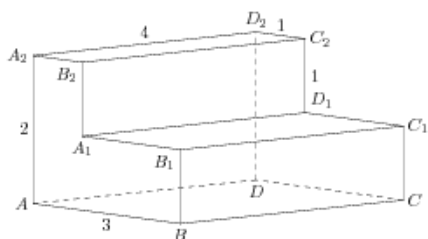
124.

Найдите квадрат расстояния между вершинами A и B_2 многогранника, изображенного на рисунке. Все двугранные углы многогранника прямые.



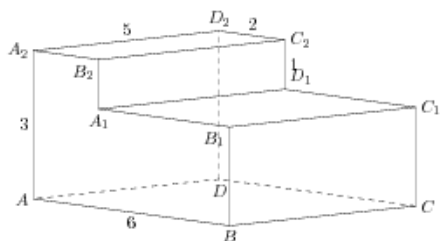
125.

Найдите квадрат расстояния между вершинами D и C_1 многогранника, изображенного на рисунке. Все двугранные углы многогранника прямые.



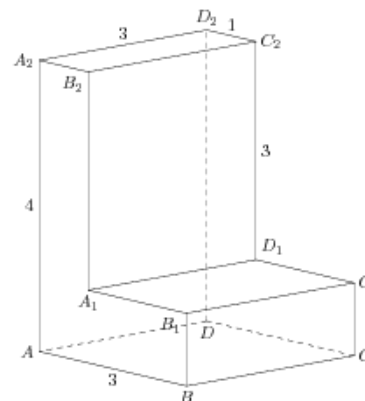
126.

Найдите квадрат расстояния между вершинами D и C_2 многогранника, изображенного на рисунке. Все двугранные углы многогранника прямые.



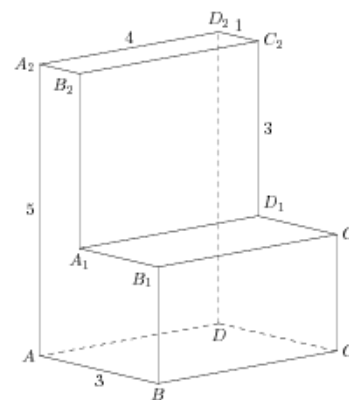
127.

Найдите квадрат расстояния между вершинами D и C_1 многогранника, изображенного на рисунке. Все двугранные углы многогранника прямые.



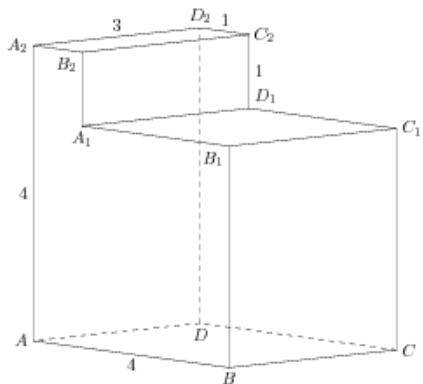
128.

Найдите квадрат расстояния между вершинами A и B_1 многогранника, изображенного на рисунке. Все двугранные углы многогранника прямые.



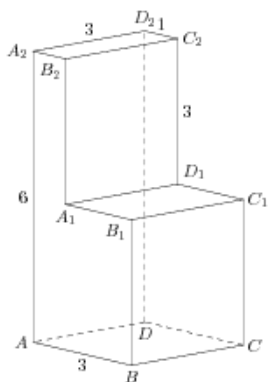
129.

Найдите квадрат расстояния между вершинами D и C_2 многогранника, изображенного на рисунке. Все двугранные углы многогранника прямые.



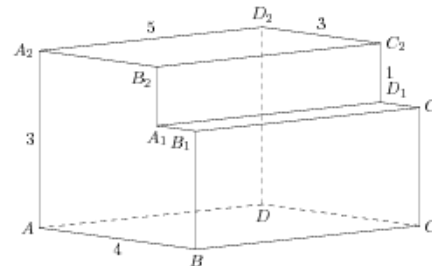
130.

Найдите квадрат расстояния между вершинами D и C_1 многогранника, изображенного на рисунке. Все двугранные углы многогранника прямые.



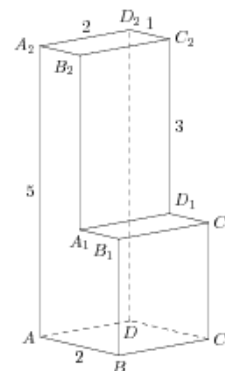
131.

Найдите квадрат расстояния между вершинами A и B_1 многогранника, изображенного на рисунке. Все двугранные углы многогранника прямые.



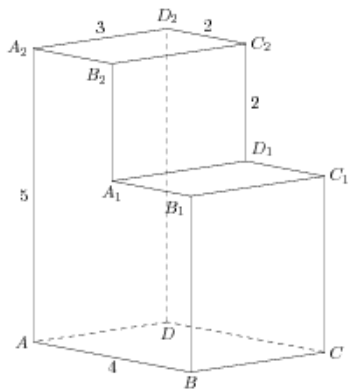
132.

Найдите квадрат расстояния между вершинами D и C_1 многогранника, изображенного на рисунке. Все двугранные углы многогранника прямые.



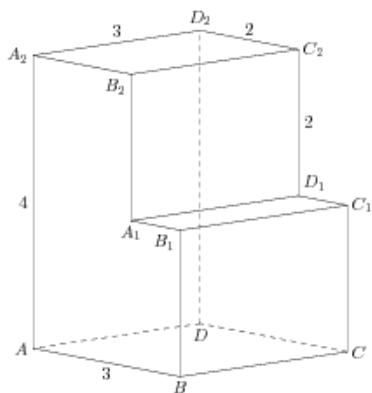
133.

Найдите квадрат расстояния между вершинами D и C_2 многогранника, изображенного на рисунке. Все двугранные углы многогранника прямые.



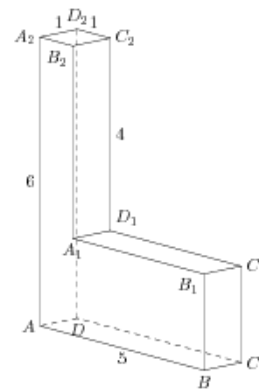
134.

Найдите квадрат расстояния между вершинами D и C_1 многогранника, изображенного на рисунке. Все двугранные углы многогранника прямые.



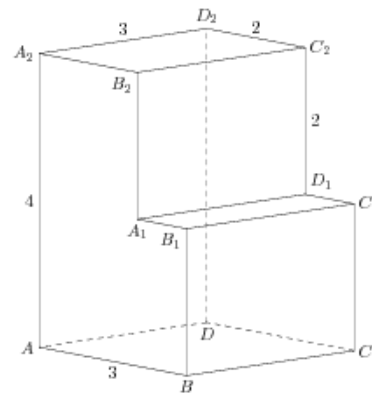
135.

Найдите квадрат расстояния между вершинами A и B_2 многогранника, изображенного на рисунке. Все двугранные углы многогранника прямые.



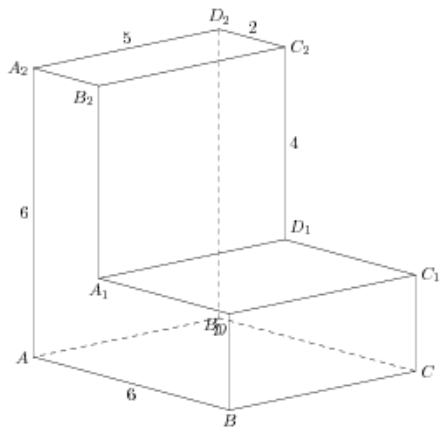
136.

Найдите квадрат расстояния между вершинами A и B_1 многогранника, изображенного на рисунке. Все двугранные углы многогранника прямые.



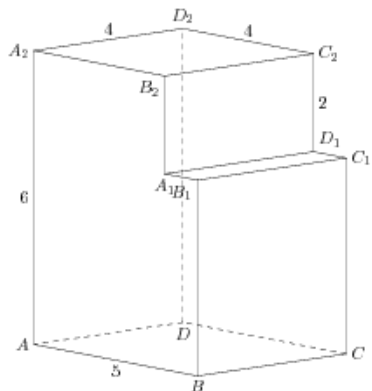
137.

Найдите квадрат расстояния между вершинами D и C_2 многогранника, изображенного на рисунке. Все двугранные углы многогранника прямые.



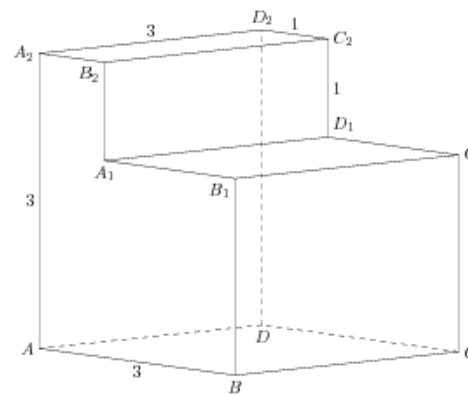
138.

Найдите квадрат расстояния между вершинами D и C_2 многогранника, изображенного на рисунке. Все двугранные углы многогранника прямые.



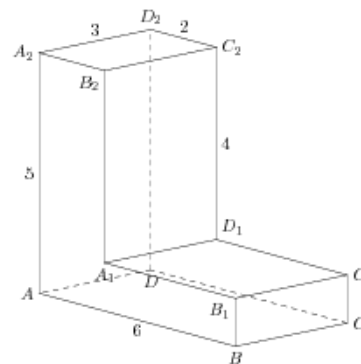
139.

Найдите квадрат расстояния между вершинами D и C_2 многогранника, изображенного на рисунке. Все двугранные углы многогранника прямые.



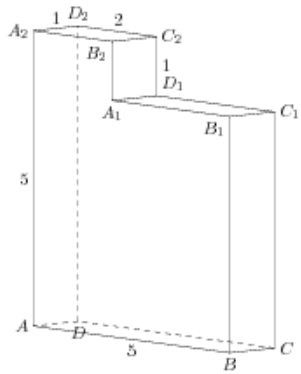
140.

Найдите квадрат расстояния между вершинами A и B_1 многогранника, изображенного на рисунке. Все двугранные углы многогранника прямые.



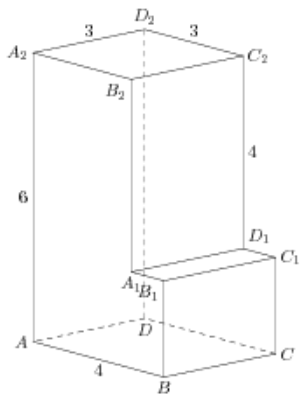
141.

Найдите квадрат расстояния между вершинами A и B_1 многогранника, изображенного на рисунке. Все двугранные углы многогранника прямые.



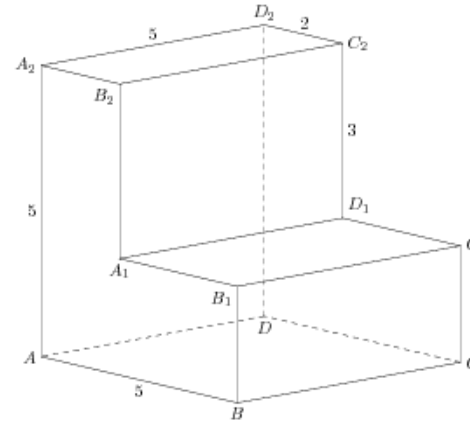
142.

Найдите квадрат расстояния между вершинами A и B_2 многогранника, изображенного на рисунке. Все двугранные углы многогранника прямые.



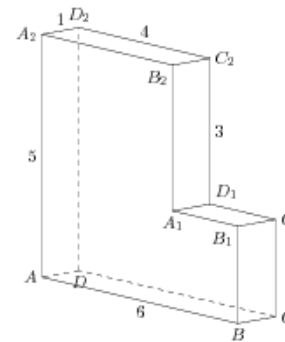
143.

Найдите квадрат расстояния между вершинами D и C_2 многогранника, изображенного на рисунке. Все двугранные углы многогранника прямые.



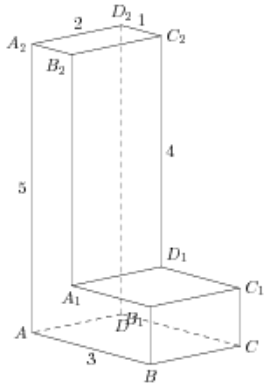
144.

Найдите квадрат расстояния между вершинами D и C_2 многогранника, изображенного на рисунке. Все двугранные углы многогранника прямые.



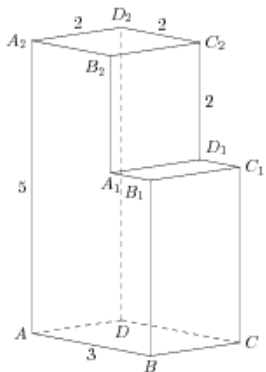
145.

Найдите квадрат расстояния между вершинами D и C_1 многогранника, изображенного на рисунке. Все двугранные углы многогранника прямые.



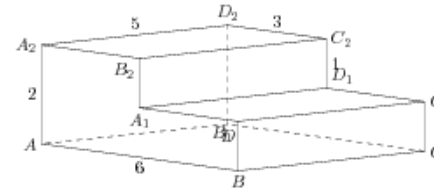
146.

Найдите квадрат расстояния между вершинами A и B_2 многогранника, изображенного на рисунке. Все двугранные углы многогранника прямые.



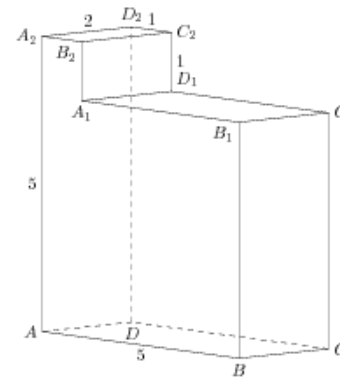
147.

Найдите квадрат расстояния между вершинами A и B_2 многогранника, изображенного на рисунке. Все двугранные углы многогранника прямые.



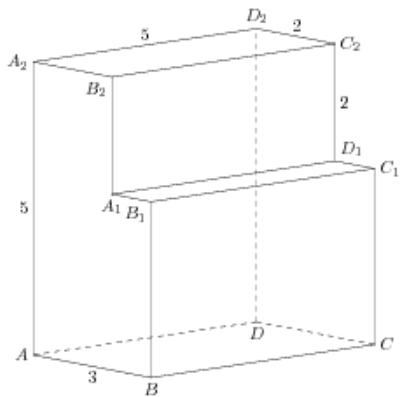
148.

Найдите квадрат расстояния между вершинами A и B_1 многогранника, изображенного на рисунке. Все двугранные углы многогранника прямые.



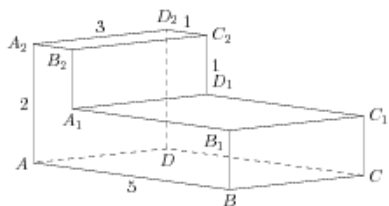
149.

Найдите квадрат расстояния между вершинами D и C_1 многогранника, изображенного на рисунке. Все двугранные углы многогранника прямые.



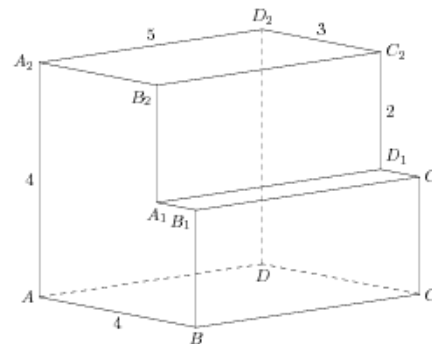
150.

Найдите квадрат расстояния между вершинами D и C_1 многогранника, изображенного на рисунке. Все двугранные углы многогранника прямые.



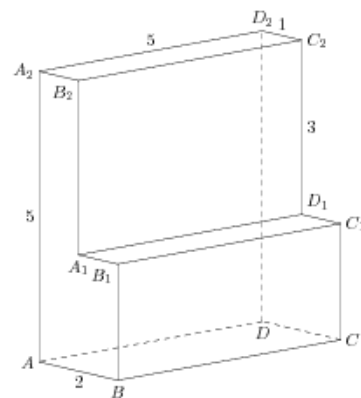
151.

Найдите квадрат расстояния между вершинами D и C_2 многогранника, изображенного на рисунке. Все двугранные углы многогранника прямые.



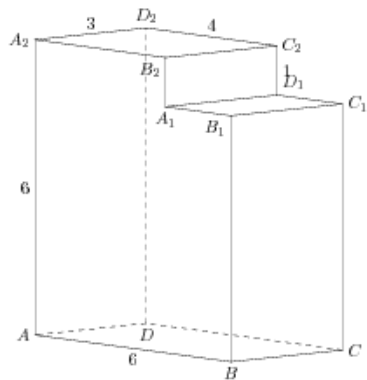
152.

Найдите квадрат расстояния между вершинами D и C_1 многогранника, изображенного на рисунке. Все двугранные углы многогранника прямые.



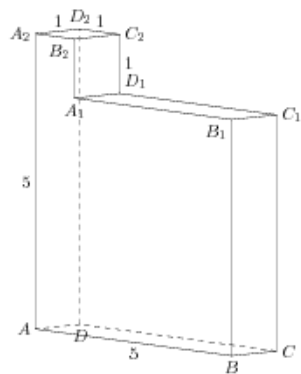
153.

Найдите квадрат расстояния между вершинами D и C_2 многогранника, изображенного на рисунке. Все двугранные углы многогранника прямые.



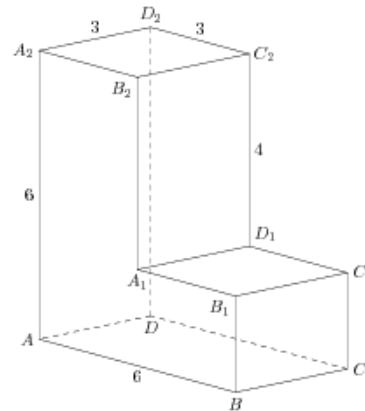
154.

Найдите квадрат расстояния между вершинами A и B_1 многогранника, изображенного на рисунке. Все двугранные углы многогранника прямые.



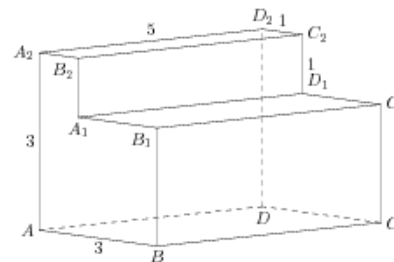
155.

Найдите квадрат расстояния между вершинами A и B_2 многогранника, изображенного на рисунке. Все двугранные углы многогранника прямые.



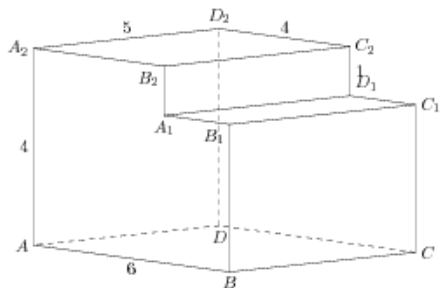
156.

Найдите квадрат расстояния между вершинами D и C_2 многогранника, изображенного на рисунке. Все двугранные углы многогранника прямые.



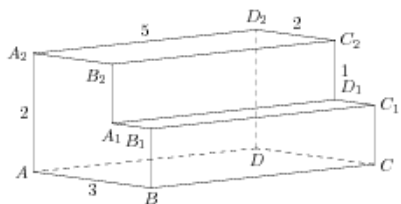
157.

Найдите квадрат расстояния между вершинами A и B_2 многогранника, изображенного на рисунке. Все двугранные углы многогранника прямые.



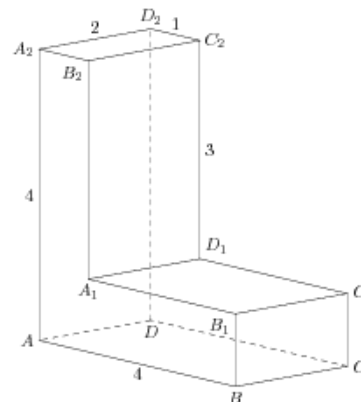
158.

Найдите квадрат расстояния между вершинами A и B_2 многогранника, изображенного на рисунке. Все двугранные углы многогранника прямые.



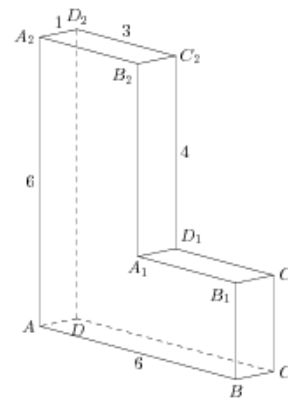
159.

Найдите квадрат расстояния между вершинами A и B_2 многогранника, изображенного на рисунке. Все двугранные углы многогранника прямые.



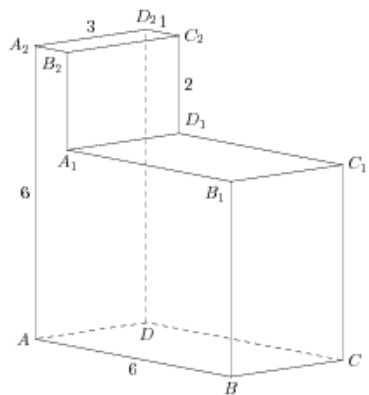
160.

Найдите квадрат расстояния между вершинами D и C_1 многогранника, изображенного на рисунке. Все двугранные углы многогранника прямые.



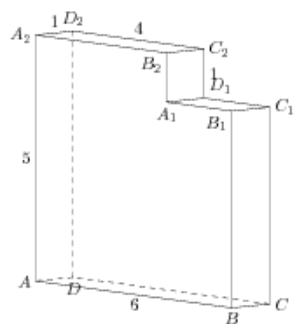
161.

Найдите квадрат расстояния между вершинами D и C_2 многогранника, изображенного на рисунке. Все двугранные углы многогранника прямые.



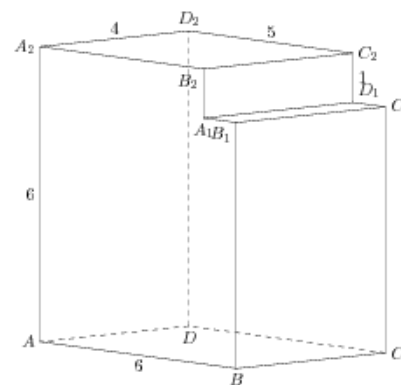
162.

Найдите квадрат расстояния между вершинами D и C_1 многогранника, изображенного на рисунке. Все двугранные углы многогранника прямые.



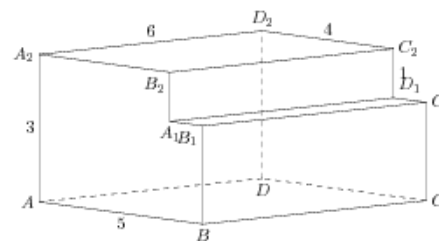
163.

Найдите квадрат расстояния между вершинами D и C_2 многогранника, изображенного на рисунке. Все двугранные углы многогранника прямые.



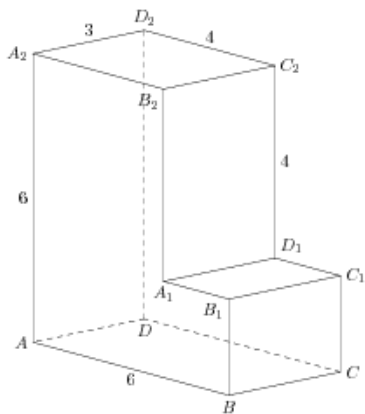
164.

Найдите квадрат расстояния между вершинами D и C_2 многогранника, изображенного на рисунке. Все двугранные углы многогранника прямые.



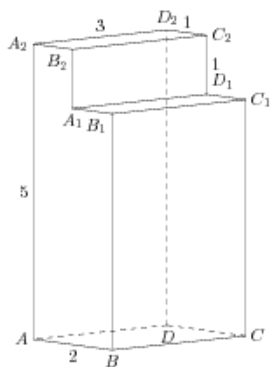
165.

Найдите квадрат расстояния между вершинами D и C_2 многогранника, изображенного на рисунке. Все двугранные углы многогранника прямые.



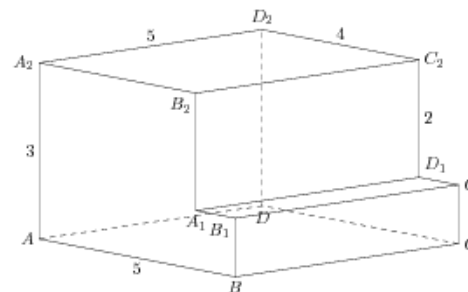
166.

Найдите квадрат расстояния между вершинами D и C_2 многогранника, изображенного на рисунке. Все двугранные углы многогранника прямые.



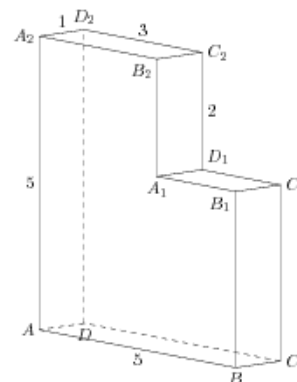
167.

Найдите квадрат расстояния между вершинами A и B_1 многогранника, изображенного на рисунке. Все двугранные углы многогранника прямые.



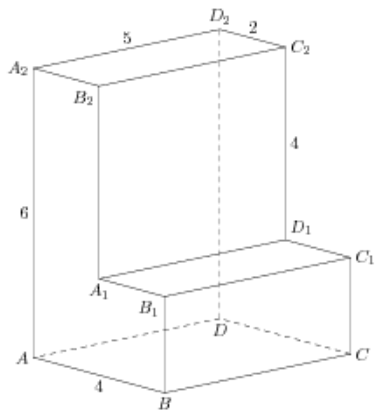
168.

Найдите квадрат расстояния между вершинами D и C_1 многогранника, изображенного на рисунке. Все двугранные углы многогранника прямые.



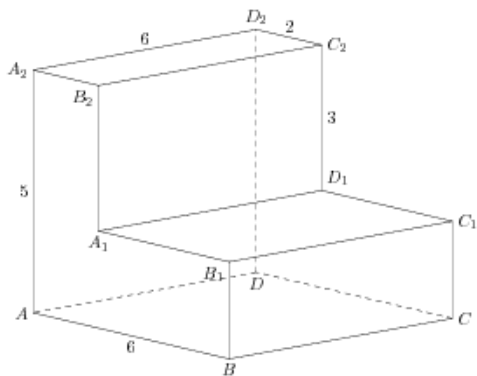
169.

Найдите квадрат расстояния между вершинами D и C_1 многогранника, изображенного на рисунке. Все двугранные углы многогранника прямые.



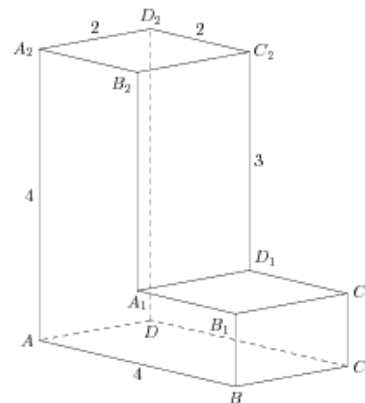
170.

Найдите квадрат расстояния между вершинами D и C_2 многогранника, изображенного на рисунке. Все двугранные углы многогранника прямые.



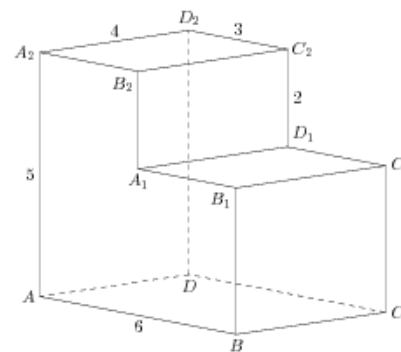
171.

Найдите квадрат расстояния между вершинами A и B_2 многогранника, изображенного на рисунке. Все двугранные углы многогранника прямые.



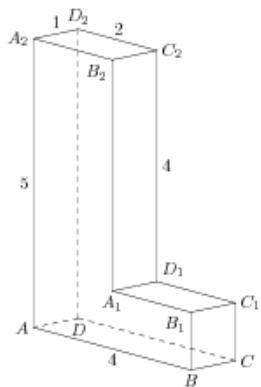
172.

Найдите квадрат расстояния между вершинами A и B_1 многогранника, изображенного на рисунке. Все двугранные углы многогранника прямые.



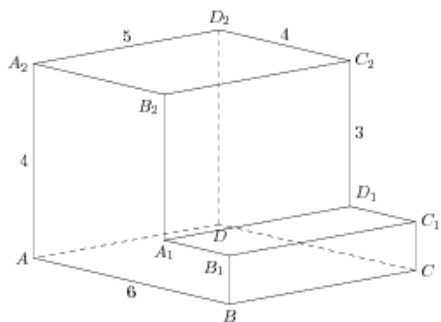
173.

Найдите квадрат расстояния между вершинами D и C_1 многогранника, изображенного на рисунке. Все двугранные углы многогранника прямые.



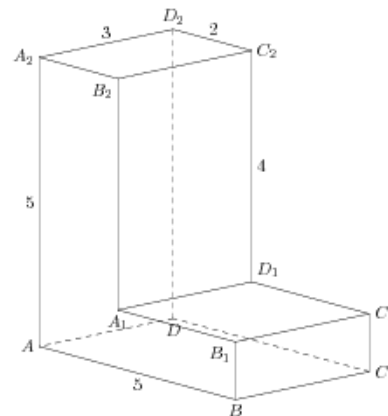
174.

Найдите квадрат расстояния между вершинами D и C_1 многогранника, изображенного на рисунке. Все двугранные углы многогранника прямые.



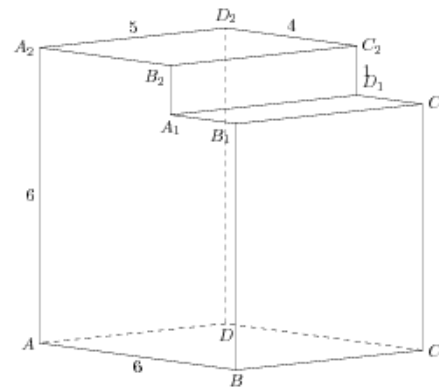
175.

Найдите квадрат расстояния между вершинами A и B_1 многогранника, изображенного на рисунке. Все двугранные углы многогранника прямые.



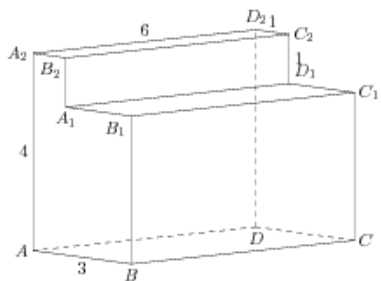
176.

Найдите квадрат расстояния между вершинами A и B_1 многогранника, изображенного на рисунке. Все двугранные углы многогранника прямые.



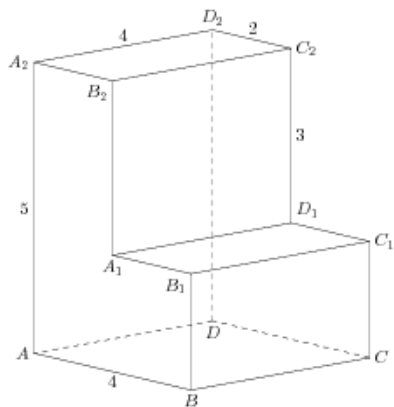
177.

Найдите квадрат расстояния между вершинами D и C_2 многогранника, изображенного на рисунке. Все двугранные углы многогранника прямые.



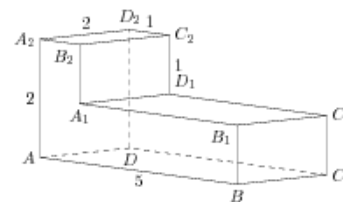
178.

Найдите квадрат расстояния между вершинами D и C_1 многогранника, изображенного на рисунке. Все двугранные углы многогранника прямые.



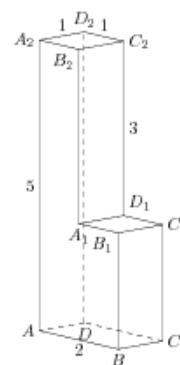
179.

Найдите квадрат расстояния между вершинами A и B_2 многогранника, изображенного на рисунке. Все двугранные углы многогранника прямые.



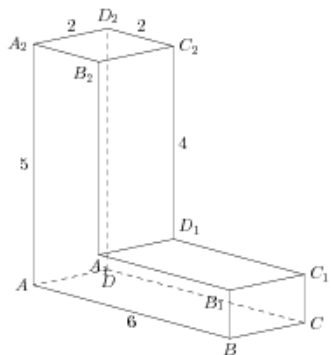
180.

Найдите квадрат расстояния между вершинами A и B_2 многогранника, изображенного на рисунке. Все двугранные углы многогранника прямые.



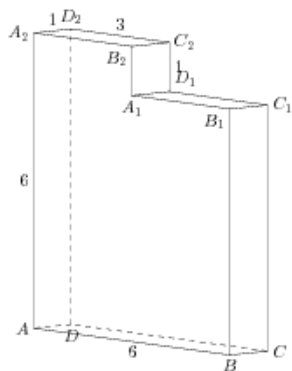
181.

Найдите квадрат расстояния между вершинами A и B_1 многогранника, изображенного на рисунке. Все двугранные углы многогранника прямые.



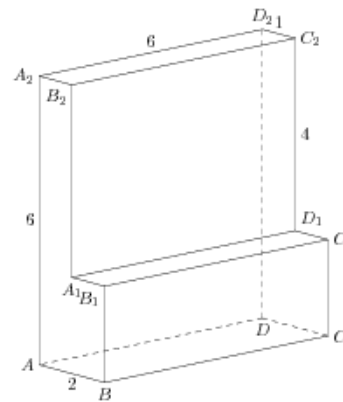
182.

Найдите квадрат расстояния между вершинами D и C_1 многогранника, изображенного на рисунке. Все двугранные углы многогранника прямые.



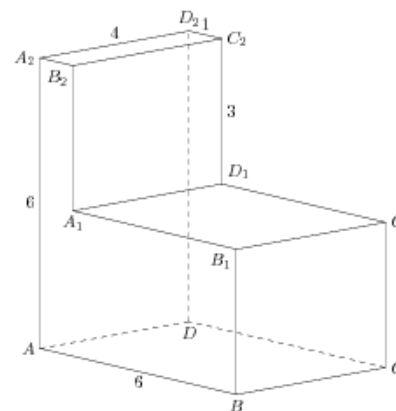
183.

Найдите квадрат расстояния между вершинами D и C_2 многогранника, изображенного на рисунке. Все двугранные углы многогранника прямые.



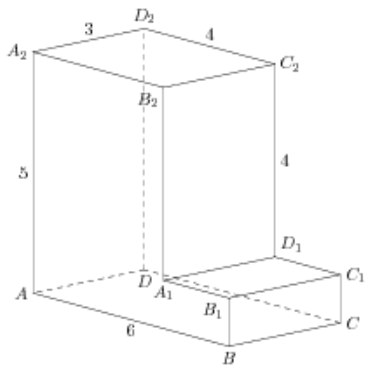
184.

Найдите квадрат расстояния между вершинами D и C_1 многогранника, изображенного на рисунке. Все двугранные углы многогранника прямые.



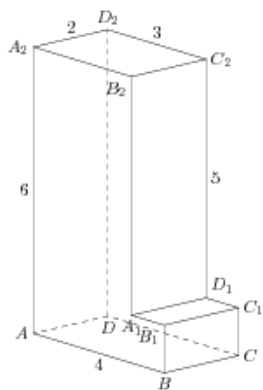
185.

Найдите квадрат расстояния между вершинами A и B_1 многогранника, изображенного на рисунке. Все двугранные углы многогранника прямые.



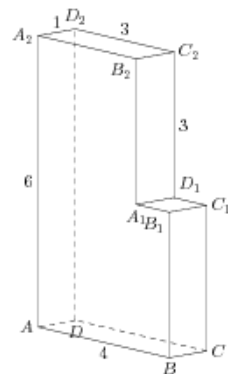
186.

Найдите квадрат расстояния между вершинами D и C_1 многогранника, изображенного на рисунке. Все двугранные углы многогранника прямые.



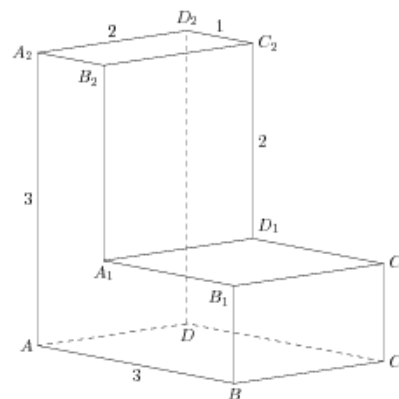
187.

Найдите квадрат расстояния между вершинами A и B_1 многогранника, изображенного на рисунке. Все двугранные углы многогранника прямые.



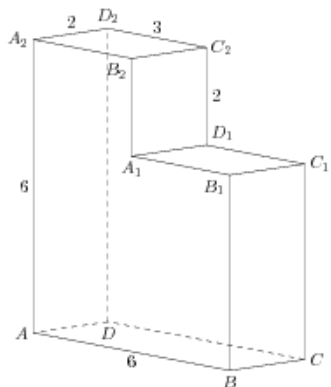
188.

Найдите квадрат расстояния между вершинами A и B_1 многогранника, изображенного на рисунке. Все двугранные углы многогранника прямые.



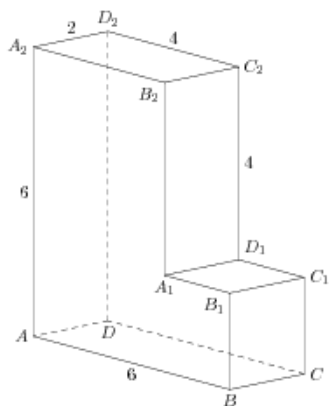
189.

Найдите квадрат расстояния между вершинами D и C_2 многогранника, изображенного на рисунке. Все двугранные углы многогранника прямые.



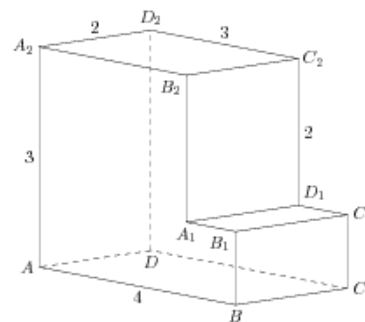
190.

Найдите квадрат расстояния между вершинами D и C_2 многогранника, изображенного на рисунке. Все двугранные углы многогранника прямые.



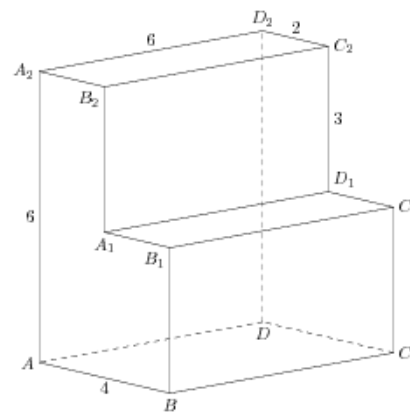
191.

Найдите квадрат расстояния между вершинами D и C_1 многогранника, изображенного на рисунке. Все двугранные углы многогранника прямые.



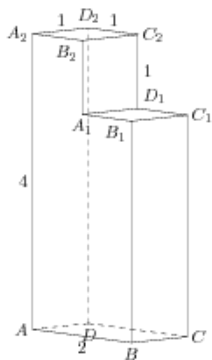
192.

Найдите квадрат расстояния между вершинами A и B_2 многогранника, изображенного на рисунке. Все двугранные углы многогранника прямые.



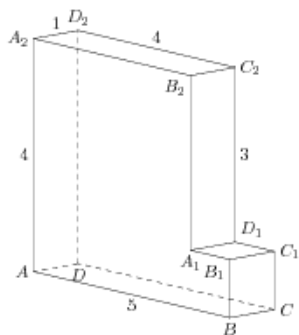
193.

Найдите квадрат расстояния между вершинами D и C_2 многогранника, изображенного на рисунке. Все двугранные углы многогранника прямые.



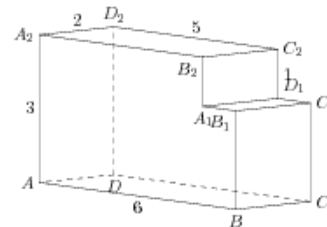
194.

Найдите квадрат расстояния между вершинами D и C_2 многогранника, изображенного на рисунке. Все двугранные углы многогранника прямые.



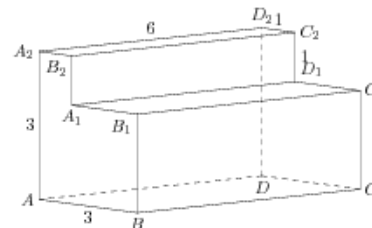
195.

Найдите квадрат расстояния между вершинами A и B_1 многогранника, изображенного на рисунке. Все двугранные углы многогранника прямые.



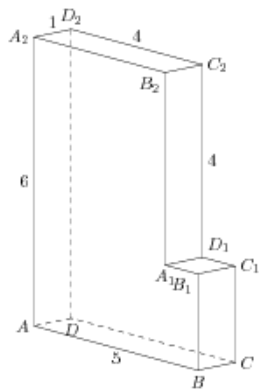
196.

Найдите квадрат расстояния между вершинами D и C_1 многогранника, изображенного на рисунке. Все двугранные углы многогранника прямые.



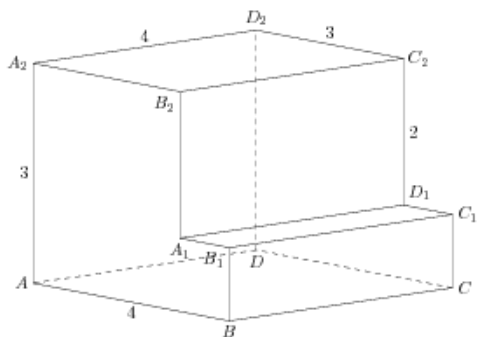
197.

Найдите квадрат расстояния между вершинами A и B_2 многогранника, изображенного на рисунке. Все двугранные углы многогранника прямые.



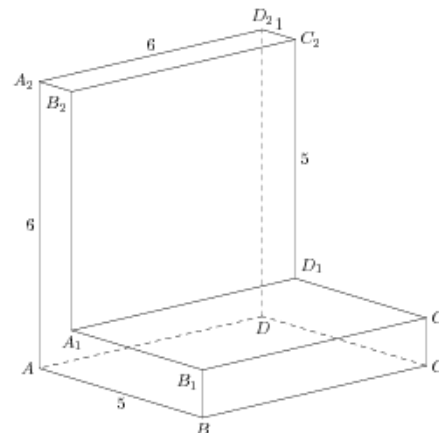
198.

Найдите квадрат расстояния между вершинами D и C_1 многогранника, изображенного на рисунке. Все двугранные углы многогранника прямые.



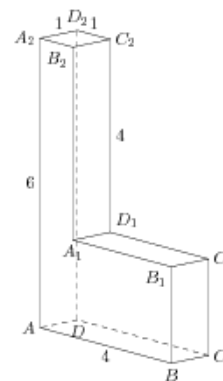
199.

Найдите квадрат расстояния между вершинами A и B_2 многогранника, изображенного на рисунке. Все двугранные углы многогранника прямые.



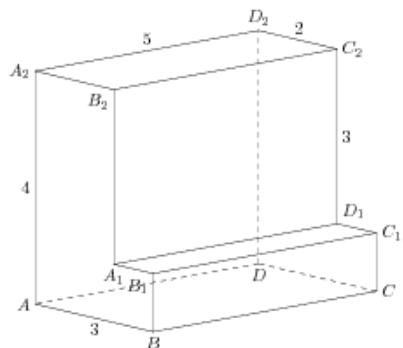
200.

Найдите квадрат расстояния между вершинами D и C_1 многогранника, изображенного на рисунке. Все двугранные углы многогранника прямые.



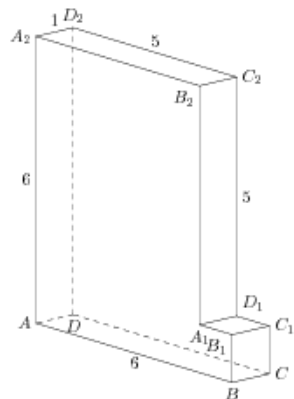
201.

Найдите квадрат расстояния между вершинами A и B_2 многогранника, изображенного на рисунке. Все двугранные углы многогранника прямые.



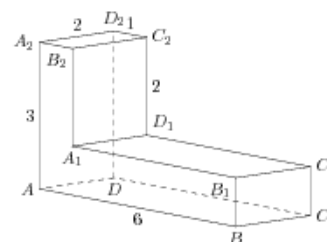
202.

Найдите квадрат расстояния между вершинами A и B_1 многогранника, изображенного на рисунке. Все двугранные углы многогранника прямые.



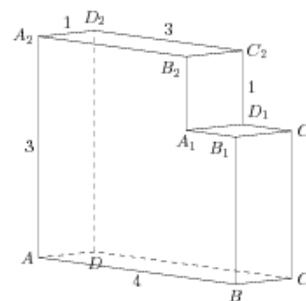
203.

Найдите квадрат расстояния между вершинами D и C_2 многогранника, изображенного на рисунке. Все двугранные углы многогранника прямые.



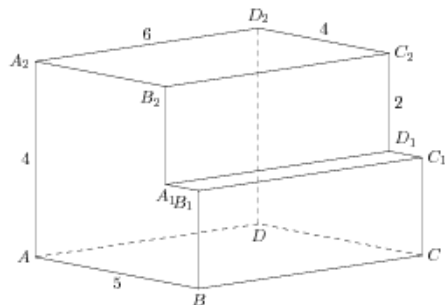
204.

Найдите квадрат расстояния между вершинами A и B_1 многогранника, изображенного на рисунке. Все двугранные углы многогранника прямые.



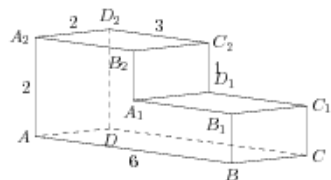
205.

Найдите квадрат расстояния между вершинами A и B_1 многогранника, изображенного на рисунке. Все двугранные углы многогранника прямые.



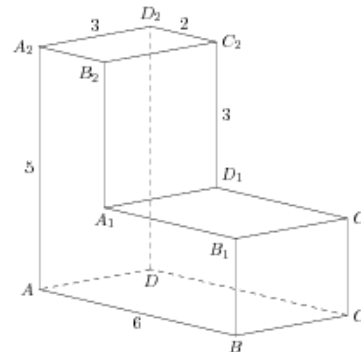
206.

Найдите квадрат расстояния между вершинами A и B_1 многогранника, изображенного на рисунке. Все двугранные углы многогранника прямые.



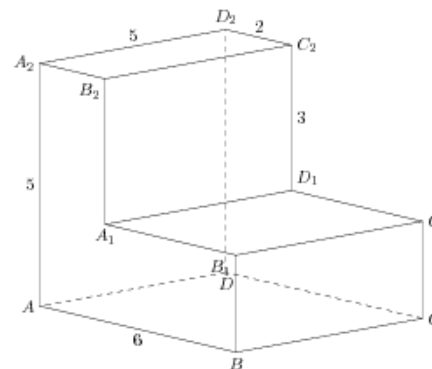
207.

Найдите квадрат расстояния между вершинами D и C_2 многогранника, изображенного на рисунке. Все двугранные углы многогранника прямые.



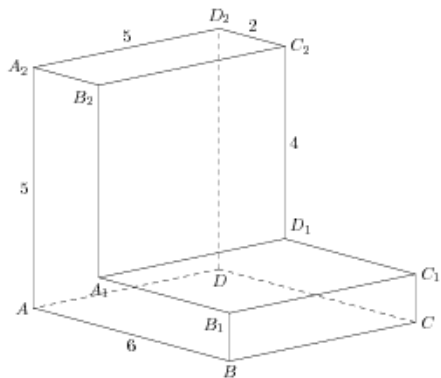
208.

Найдите квадрат расстояния между вершинами A и B_2 многогранника, изображенного на рисунке. Все двугранные углы многогранника прямые.



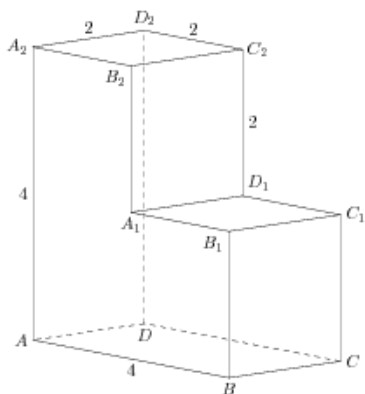
209.

Найдите квадрат расстояния между вершинами D и C_2 многогранника, изображенного на рисунке. Все двугранные углы многогранника прямые.



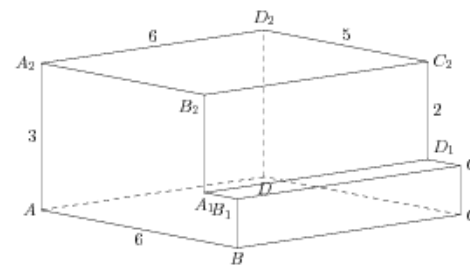
210.

Найдите квадрат расстояния между вершинами D и C_1 многогранника, изображенного на рисунке. Все двугранные углы многогранника прямые.



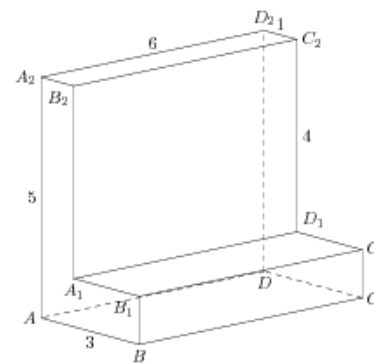
211.

Найдите квадрат расстояния между вершинами D и C_2 многогранника, изображенного на рисунке. Все двугранные углы многогранника прямые.



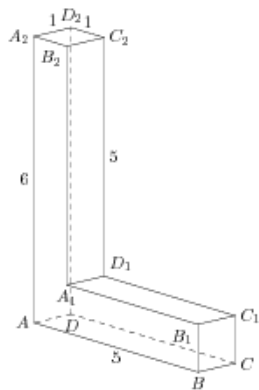
212.

Найдите квадрат расстояния между вершинами A и B_2 многогранника, изображенного на рисунке. Все двугранные углы многогранника прямые.



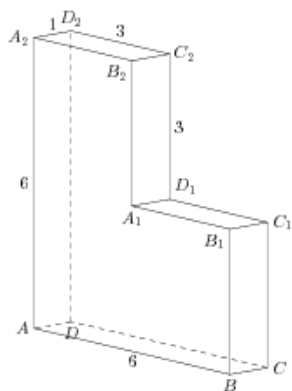
213.

Найдите квадрат расстояния между вершинами D и C_2 многогранника, изображенного на рисунке. Все двугранные углы многогранника прямые.



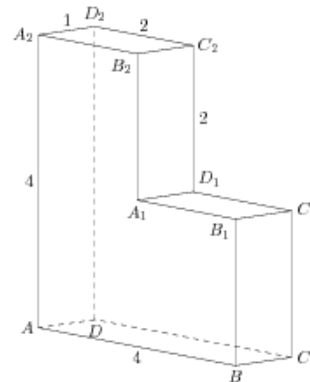
214.

Найдите квадрат расстояния между вершинами A и B_1 многогранника, изображенного на рисунке. Все двугранные углы многогранника прямые.



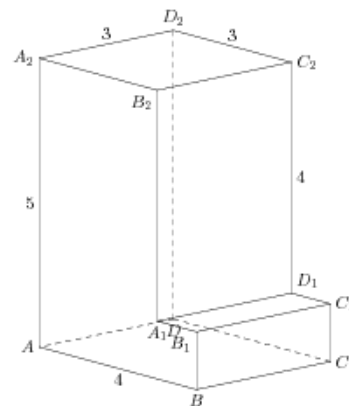
215.

Найдите квадрат расстояния между вершинами D и C_2 многогранника, изображенного на рисунке. Все двугранные углы многогранника прямые.



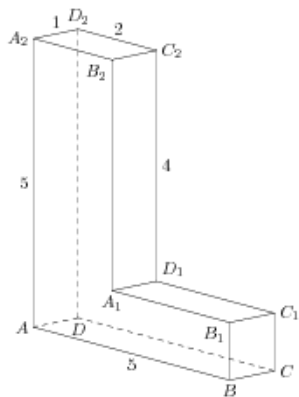
216.

Найдите квадрат расстояния между вершинами D и C_2 многогранника, изображенного на рисунке. Все двугранные углы многогранника прямые.



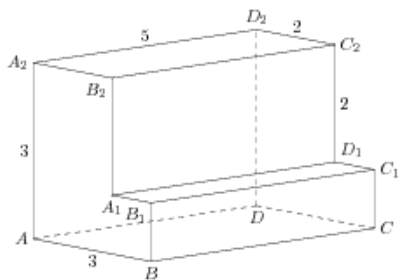
217.

Найдите квадрат расстояния между вершинами A и B_2 многогранника, изображенного на рисунке. Все двугранные углы многогранника прямые.



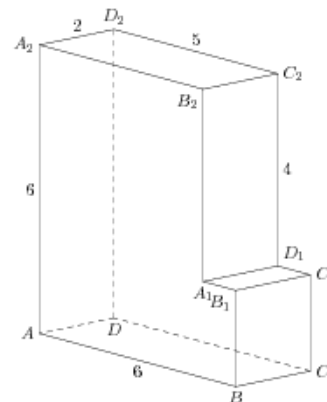
218.

Найдите квадрат расстояния между вершинами A и B_1 многогранника, изображенного на рисунке. Все двугранные углы многогранника прямые.



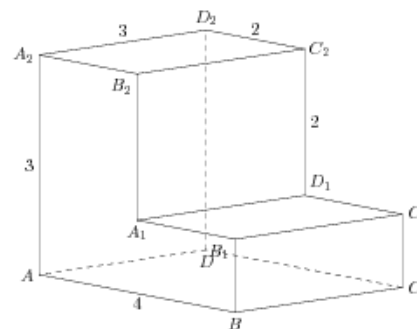
219.

Найдите квадрат расстояния между вершинами D и C_1 многогранника, изображенного на рисунке. Все двугранные углы многогранника прямые.



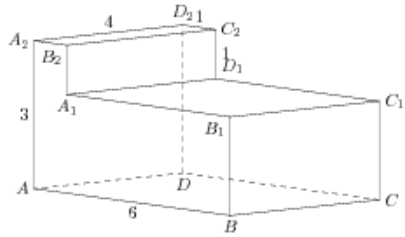
220.

Найдите квадрат расстояния между вершинами A и B_1 многогранника, изображенного на рисунке. Все двугранные углы многогранника прямые.



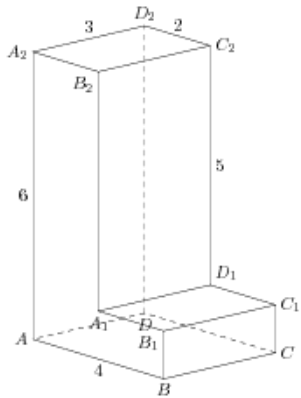
225.

Найдите квадрат расстояния между вершинами D и C_1 многогранника, изображенного на рисунке. Все двугранные углы многогранника прямые.



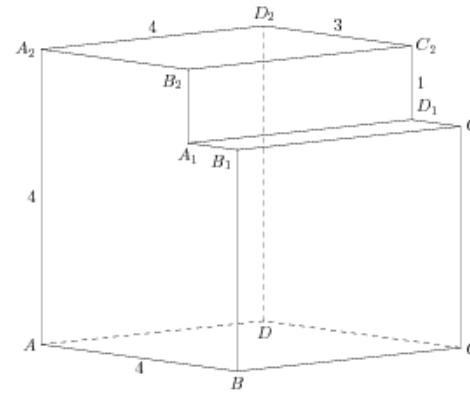
226.

Найдите квадрат расстояния между вершинами A и B_2 многогранника, изображенного на рисунке. Все двугранные углы многогранника прямые.



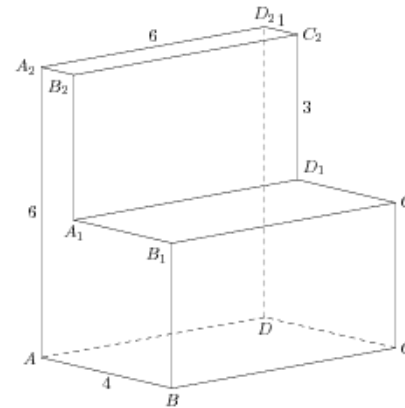
227.

Найдите квадрат расстояния между вершинами D и C_2 многогранника, изображенного на рисунке. Все двугранные углы многогранника прямые.



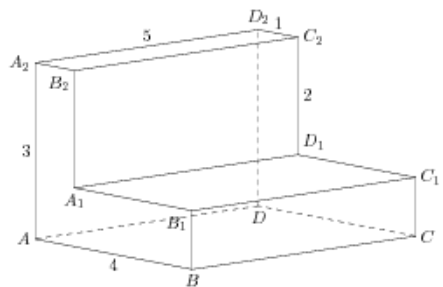
228.

Найдите квадрат расстояния между вершинами A и B_2 многогранника, изображенного на рисунке. Все двугранные углы многогранника прямые.



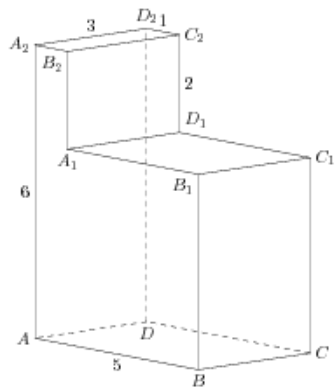
229.

Найдите квадрат расстояния между вершинами D и C_1 многогранника, изображенного на рисунке. Все двугранные углы многогранника прямые.



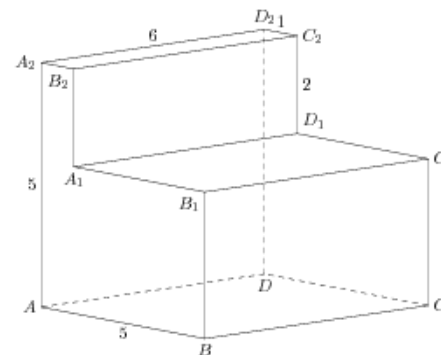
230.

Найдите квадрат расстояния между вершинами A и B_1 многогранника, изображенного на рисунке. Все двугранные углы многогранника прямые.



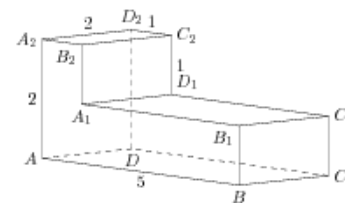
231.

Найдите квадрат расстояния между вершинами D и C_1 многогранника, изображенного на рисунке. Все двугранные углы многогранника прямые.



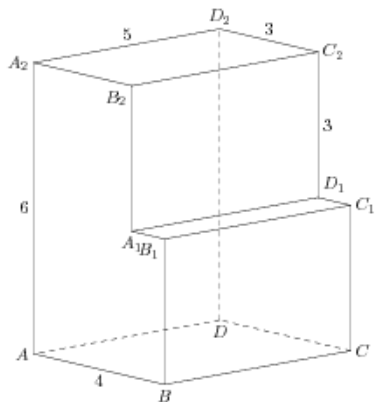
232.

Найдите квадрат расстояния между вершинами D и C_2 многогранника, изображенного на рисунке. Все двугранные углы многогранника прямые.



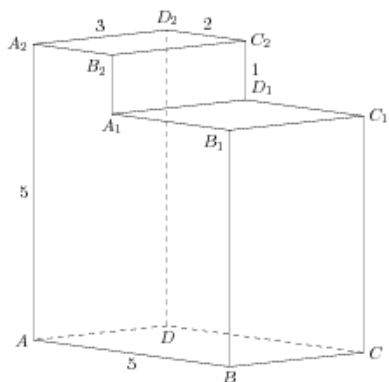
233.

Найдите квадрат расстояния между вершинами A и B_1 многогранника, изображенного на рисунке. Все двугранные углы многогранника прямые.



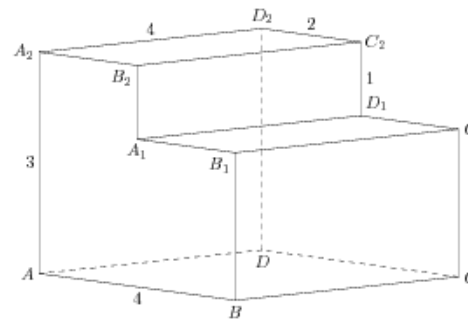
234.

Найдите квадрат расстояния между вершинами D и C_2 многогранника, изображенного на рисунке. Все двугранные углы многогранника прямые.



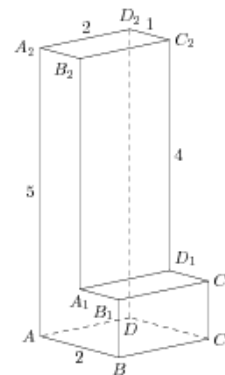
235.

Найдите квадрат расстояния между вершинами A и B_1 многогранника, изображенного на рисунке. Все двугранные углы многогранника прямые.



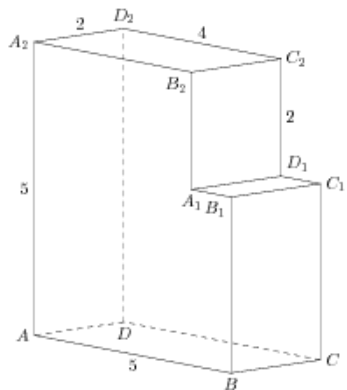
236.

Найдите квадрат расстояния между вершинами D и C_2 многогранника, изображенного на рисунке. Все двугранные углы многогранника прямые.



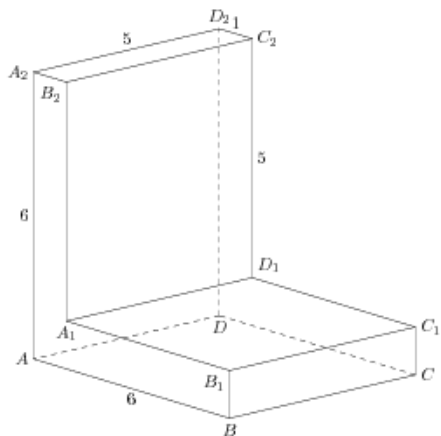
237.

Найдите квадрат расстояния между вершинами A и B_2 многогранника, изображенного на рисунке. Все двугранные углы многогранника прямые.



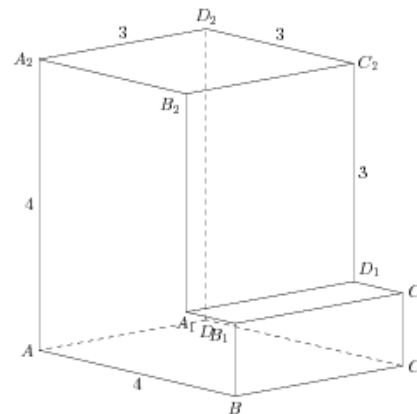
238.

Найдите квадрат расстояния между вершинами D и C_1 многогранника, изображенного на рисунке. Все двугранные углы многогранника прямые.



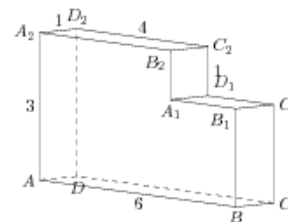
239.

Найдите квадрат расстояния между вершинами D и C_1 многогранника, изображенного на рисунке. Все двугранные углы многогранника прямые.



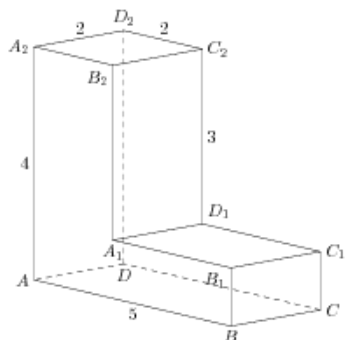
240.

Найдите квадрат расстояния между вершинами A и B_1 многогранника, изображенного на рисунке. Все двугранные углы многогранника прямые.



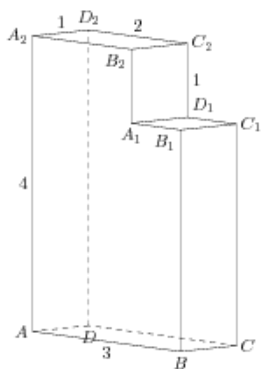
241.

Найдите квадрат расстояния между вершинами D и C_2 многогранника, изображенного на рисунке. Все двугранные углы многогранника прямые.



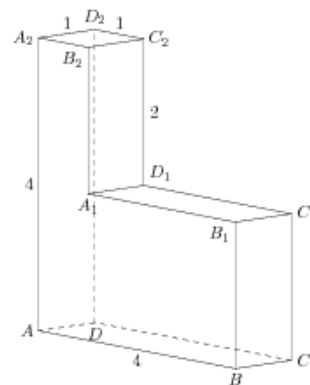
242.

Найдите квадрат расстояния между вершинами D и C_1 многогранника, изображенного на рисунке. Все двугранные углы многогранника прямые.



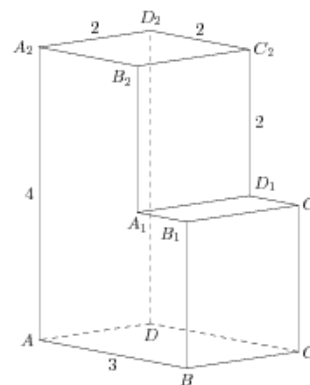
243.

Найдите квадрат расстояния между вершинами A и B_2 многогранника, изображенного на рисунке. Все двугранные углы многогранника прямые.



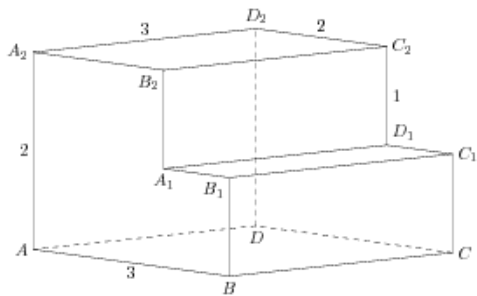
244.

Найдите квадрат расстояния между вершинами D и C_1 многогранника, изображенного на рисунке. Все двугранные углы многогранника прямые.



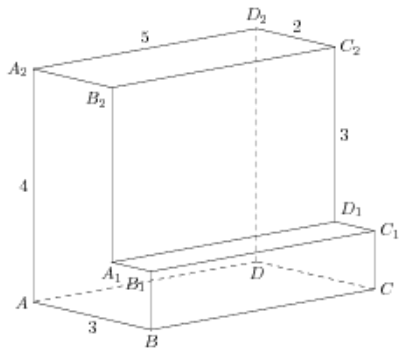
245.

Найдите квадрат расстояния между вершинами D и C_1 многогранника, изображенного на рисунке. Все двугранные углы многогранника прямые.



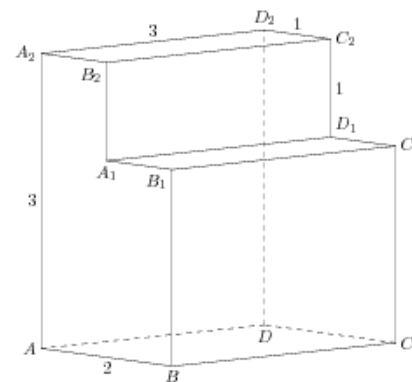
246.

Найдите квадрат расстояния между вершинами A и B_1 многогранника, изображенного на рисунке. Все двугранные углы многогранника прямые.



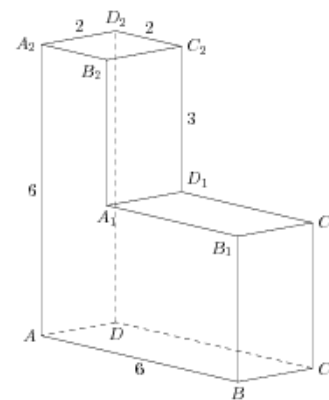
247.

Найдите квадрат расстояния между вершинами A и B_1 многогранника, изображенного на рисунке. Все двугранные углы многогранника прямые.



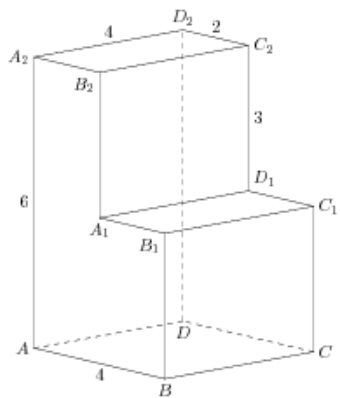
248.

Найдите квадрат расстояния между вершинами A и B_1 многогранника, изображенного на рисунке. Все двугранные углы многогранника прямые.



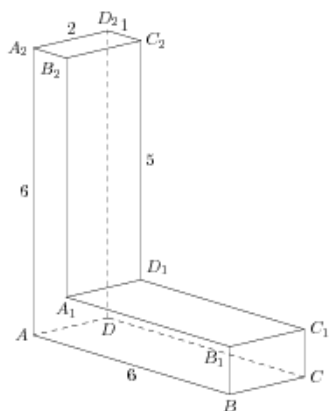
249.

Найдите квадрат расстояния между вершинами D и C_2 многогранника, изображенного на рисунке. Все двугранные углы многогранника прямые.



250.

Найдите квадрат расстояния между вершинами D и C_2 многогранника, изображенного на рисунке. Все двугранные углы многогранника прямые.



251.

Найдите квадрат расстояния между вершинами A и B_1 многогранника, изображенного на рисунке. Все двугранные углы многогранника прямые.

