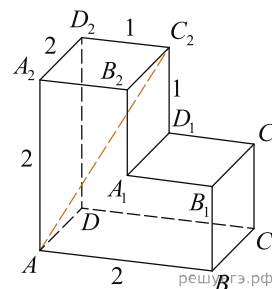
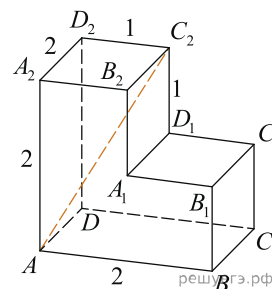


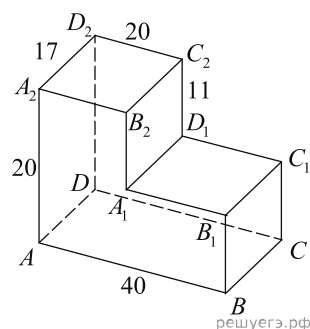
1. На рисунке изображён многогранник, все двугранные углы многогранника прямые. Найдите расстояние между вершинами  $A$  и  $C_2$ .



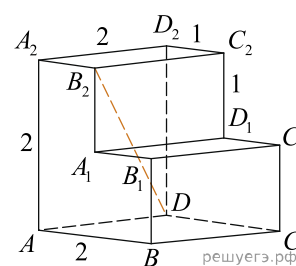
2. Найдите расстояние между вершинами  $A$  и  $C_2$  многогранника, изображенного на рисунке. Все двугранные углы многогранника прямые.



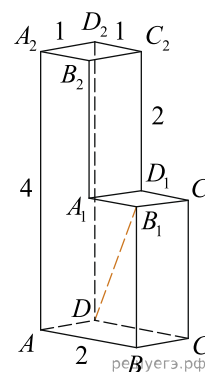
3. Найдите расстояние между вершинами  $D$  и  $B_2$  многогранника, изображенного на рисунке. Все двугранные углы многогранника прямые.



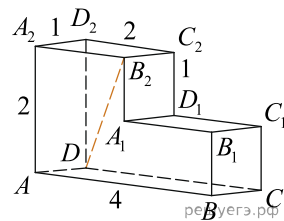
4. Найдите расстояние между вершинами  $D$  и  $B_2$  многогранника, изображенного на рисунке. Все двугранные углы многогранника прямые.



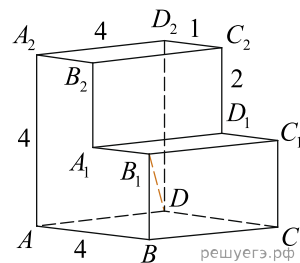
5. Найдите расстояние между вершинами  $D$  и  $B_1$  многогранника, изображенного на рисунке. Все двугранные углы многогранника прямые.



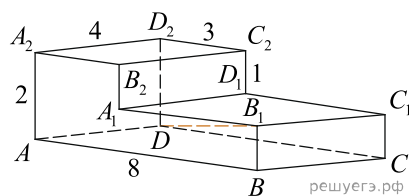
6. Найдите расстояние между вершинами  $D$  и  $B_2$  многогранника, изображенного на рисунке. Все двугранные углы многогранника прямые.



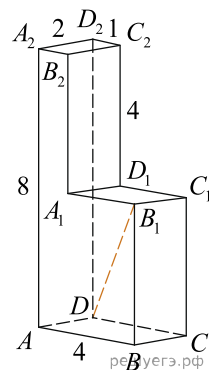
7. Найдите расстояние между вершинами  $D$  и  $B_1$  многогранника, изображенного на рисунке. Все двугранные углы многогранника прямые.



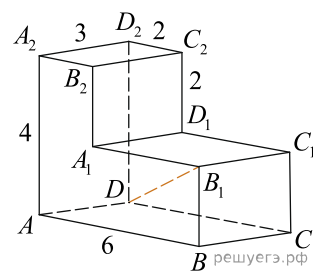
8. Найдите расстояние между вершинами  $D$  и  $B_1$  многогранника, изображенного на рисунке. Все двугранные углы многогранника прямые.



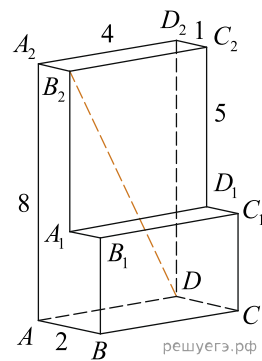
9. Найдите расстояние между вершинами  $D$  и  $B_1$  многогранника, изображенного на рисунке. Все двугранные углы многогранника прямые.



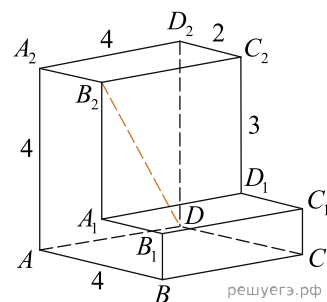
10. Найдите расстояние между вершинами  $D$  и  $B_1$  многогранника, изображенного на рисунке. Все двугранные углы многогранника прямые.



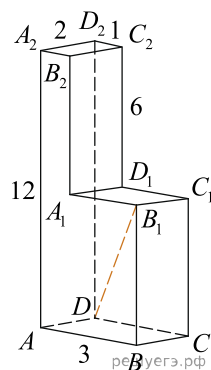
11. Найдите расстояние между вершинами  $D$  и  $B_2$  многогранника, изображенного на рисунке. Все двугранные углы многогранника прямые.



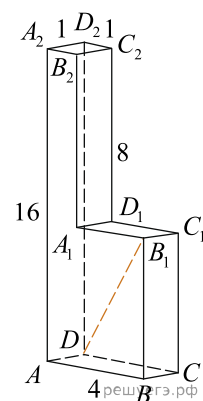
12. Найдите расстояние между вершинами  $D$  и  $B_2$  многогранника, изображенного на рисунке. Все двугранные углы многогранника прямые.



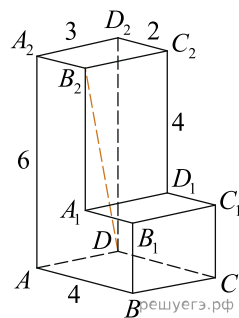
13. Найдите расстояние между вершинами  $D$  и  $B_1$  многогранника, изображенного на рисунке. Все двугранные углы многогранника прямые.



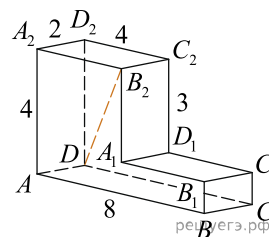
14. Найдите расстояние между вершинами  $D$  и  $B_1$  многогранника, изображенного на рисунке. Все двугранные углы многогранника прямые.



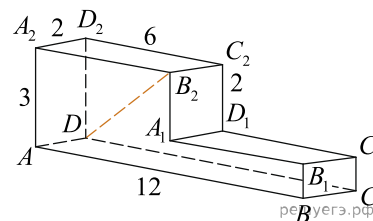
15. Найдите расстояние между вершинами  $D$  и  $B_2$  многогранника, изображенного на рисунке. Все двугранные углы многогранника прямые.



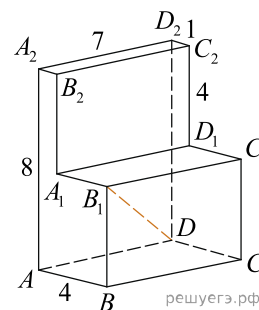
16. Найдите расстояние между вершинами  $D$  и  $B_2$  многогранника, изображенного на рисунке. Все двугранные углы многогранника прямые.



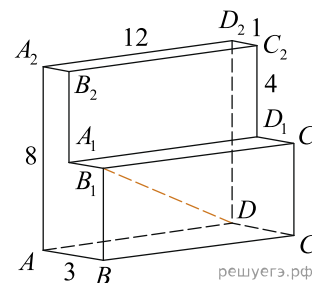
17. Найдите расстояние между вершинами  $D$  и  $B_2$  многогранника, изображенного на рисунке. Все двугранные углы многогранника прямые.



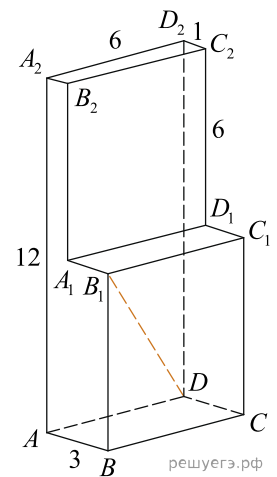
18. Найдите расстояние между вершинами  $D$  и  $B_1$  многогранника, изображенного на рисунке. Все двугранные углы многогранника прямые.



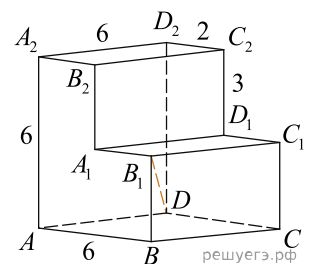
19. Найдите расстояние между вершинами  $D$  и  $B_1$  многогранника, изображенного на рисунке. Все двугранные углы многогранника прямые.



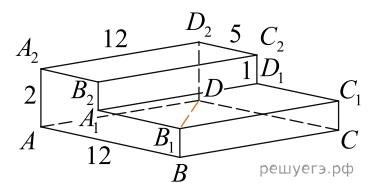
20. Найдите расстояние между вершинами  $D$  и  $B_1$  многогранника, изображенного на рисунке. Все двугранные углы многогранника прямые.



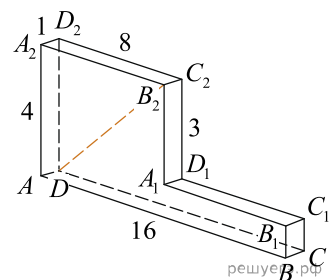
21. Найдите расстояние между вершинами  $D$  и  $B_1$  многогранника, изображенного на рисунке. Все двугранные углы многогранника прямые.



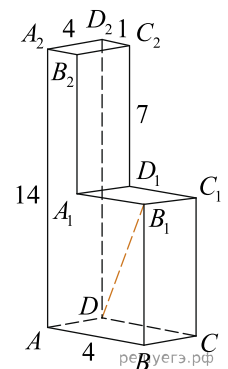
22. Найдите расстояние между вершинами  $D$  и  $B_1$  многогранника, изображенного на рисунке. Все двугранные углы многогранника прямые.



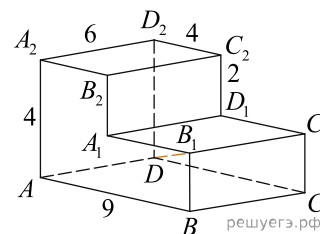
23. Найдите расстояние между вершинами  $D$  и  $B_2$  многогранника, изображенного на рисунке. Все двугранные углы многогранника прямые.



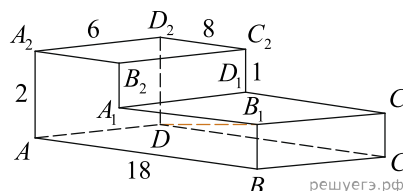
24. Найдите расстояние между вершинами  $D$  и  $B_1$  многогранника, изображенного на рисунке. Все двугранные углы многогранника прямые.



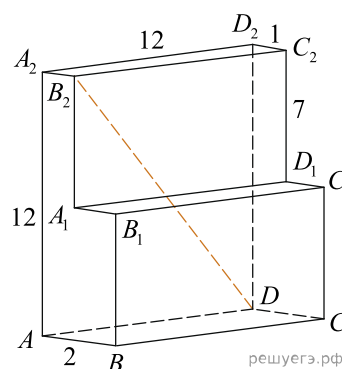
25. Найдите расстояние между вершинами  $D$  и  $B_1$  многогранника, изображенного на рисунке. Все двугранные углы многогранника прямые.



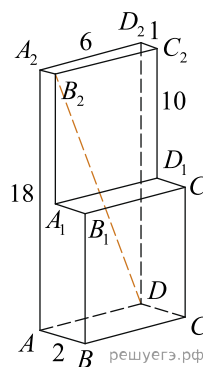
26. Найдите расстояние между вершинами  $D$  и  $B_1$  многогранника, изображенного на рисунке. Все двугранные углы многогранника прямые.



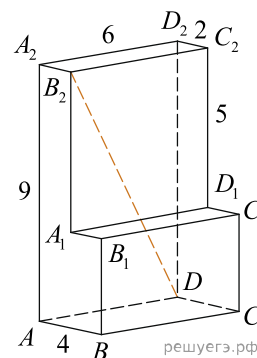
27. Найдите расстояние между вершинами  $D$  и  $B_2$  многогранника, изображенного на рисунке. Все двугранные углы многогранника прямые.



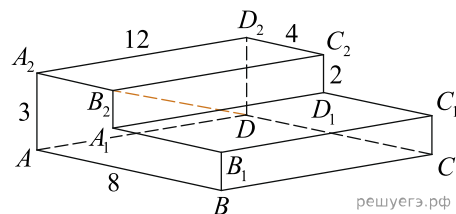
28. Найдите расстояние между вершинами  $D$  и  $B_2$  многогранника, изображенного на рисунке. Все двугранные углы многогранника прямые.



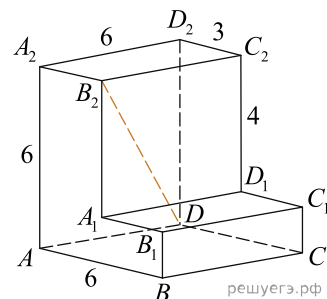
29. Найдите расстояние между вершинами  $D$  и  $B_2$  многогранника, изображенного на рисунке. Все двугранные углы многогранника прямые.



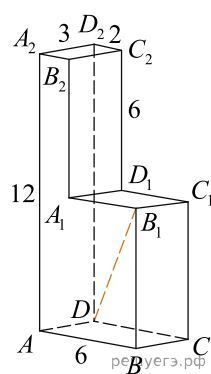
30. Найдите расстояние между вершинами  $D$  и  $B_2$  многогранника, изображенного на рисунке. Все двугранные углы многогранника прямые.



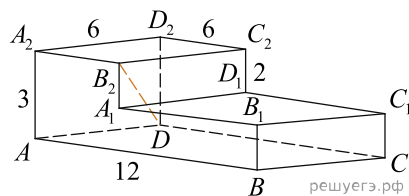
31. Найдите расстояние между вершинами  $D$  и  $B_2$  многогранника, изображенного на рисунке. Все двугранные углы многогранника прямые.



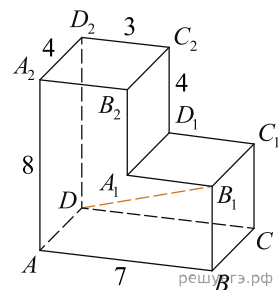
32. Найдите расстояние между вершинами  $D$  и  $B_1$  многогранника, изображенного на рисунке. Все двугранные углы многогранника прямые.



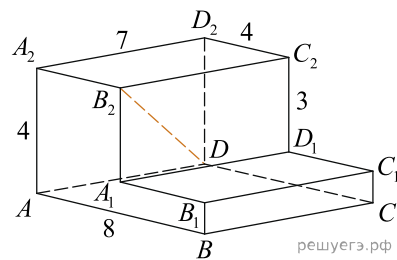
33. Найдите расстояние между вершинами  $D$  и  $B_2$  многогранника, изображенного на рисунке. Все двугранные углы многогранника прямые.



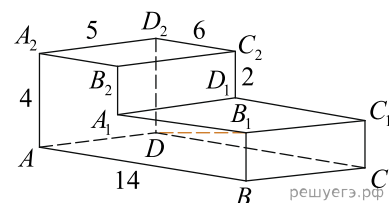
34. Найдите расстояние между вершинами  $D$  и  $B_1$  многогранника, изображенного на рисунке. Все двугранные углы многогранника прямые.



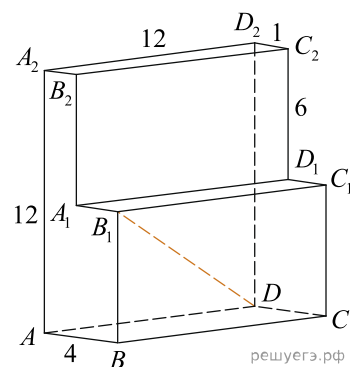
35. Найдите расстояние между вершинами  $D$  и  $B_2$  многогранника, изображенного на рисунке. Все двугранные углы многогранника прямые.



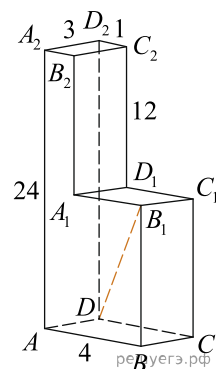
36. Найдите расстояние между вершинами  $D$  и  $B_1$  многогранника, изображенного на рисунке. Все двугранные углы многогранника прямые.



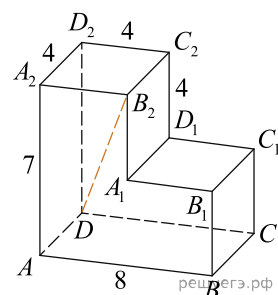
37. Найдите расстояние между вершинами  $D$  и  $B_1$  многогранника, изображенного на рисунке. Все двугранные углы многогранника прямые.



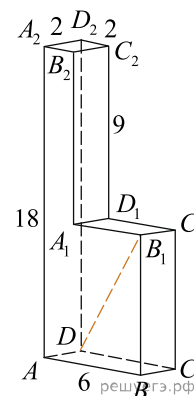
38. Найдите расстояние между вершинами  $D$  и  $B_1$  многогранника, изображенного на рисунке. Все двугранные углы многогранника прямые.



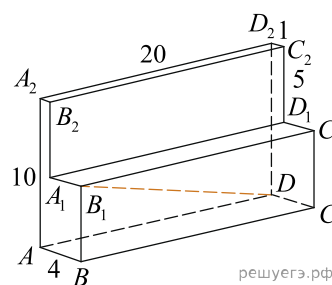
39. Найдите расстояние между вершинами  $D$  и  $B_2$  многогранника, изображенного на рисунке. Все двугранные углы многогранника прямые.



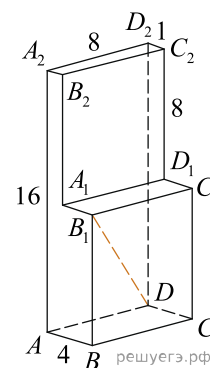
40. Найдите расстояние между вершинами  $D$  и  $B_1$  многогранника, изображенного на рисунке. Все двугранные углы многогранника прямые.



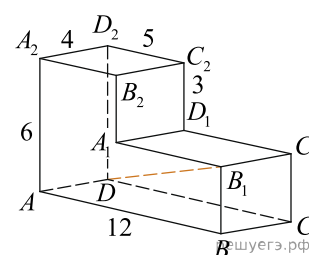
41. Найдите расстояние между вершинами  $D$  и  $B_1$  многогранника, изображенного на рисунке. Все двугранные углы многогранника прямые.



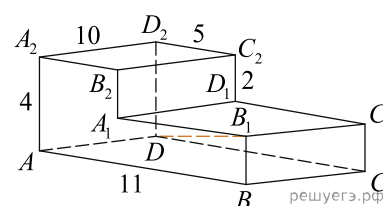
42. Найдите расстояние между вершинами  $D$  и  $B_1$  многогранника, изображенного на рисунке. Все двугранные углы многогранника прямые.



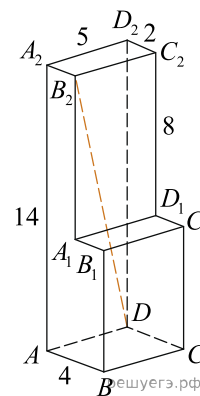
43. Найдите расстояние между вершинами  $D$  и  $B_1$  многогранника, изображенного на рисунке. Все двугранные углы многогранника прямые.



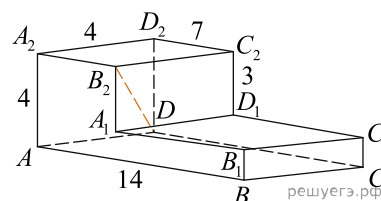
44. Найдите расстояние между вершинами  $D$  и  $B_1$  многогранника, изображенного на рисунке. Все двугранные углы многогранника прямые.



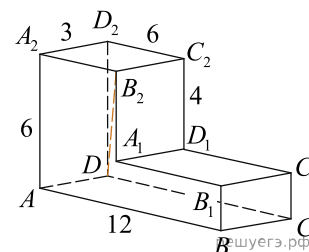
45. Найдите расстояние между вершинами  $D$  и  $B_2$  многогранника, изображенного на рисунке. Все двугранные углы многогранника прямые.



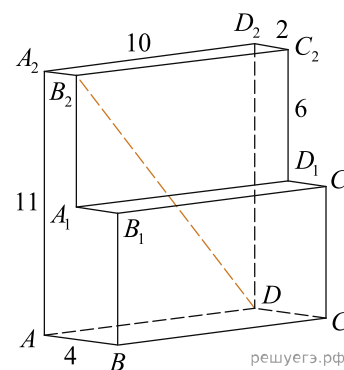
46. Найдите расстояние между вершинами  $D$  и  $B_2$  многогранника, изображенного на рисунке. Все двугранные углы многогранника прямые.



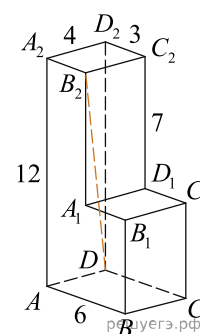
47. Найдите расстояние между вершинами  $D$  и  $B_2$  многогранника, изображенного на рисунке. Все двугранные углы многогранника прямые.



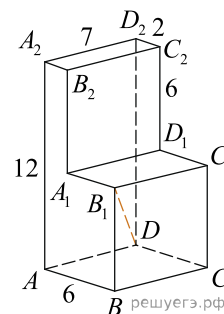
48. Найдите расстояние между вершинами  $D$  и  $B_2$  многогранника, изображенного на рисунке. Все двугранные углы многогранника прямые.



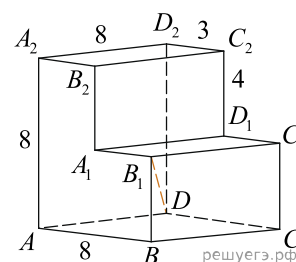
49. Найдите расстояние между вершинами  $D$  и  $B_2$  многогранника, изображенного на рисунке. Все двугранные углы многогранника прямые.



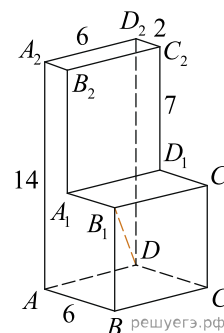
50. Найдите расстояние между вершинами  $D$  и  $B_1$  многогранника, изображенного на рисунке. Все двугранные углы многогранника прямые.



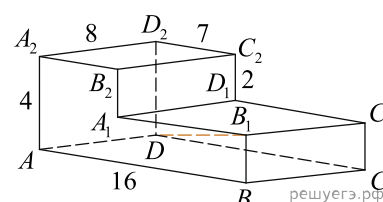
51. Найдите расстояние между вершинами  $D$  и  $B_1$  многогранника, изображенного на рисунке. Все двугранные углы многогранника прямые.



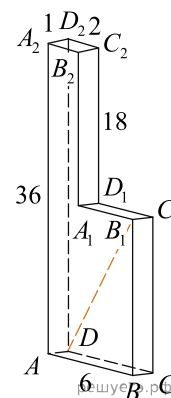
52. Найдите расстояние между вершинами  $D$  и  $B_1$  многогранника, изображенного на рисунке. Все двугранные углы многогранника прямые.



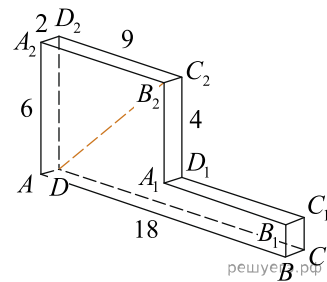
53. Найдите расстояние между вершинами  $D$  и  $B_1$  многогранника, изображенного на рисунке. Все двугранные углы многогранника прямые.



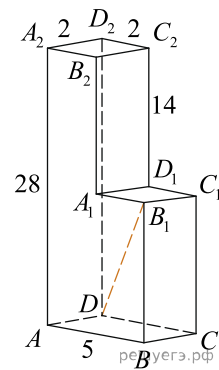
54. Найдите расстояние между вершинами  $D$  и  $B_1$  многогранника, изображенного на рисунке. Все двугранные углы многогранника прямые.



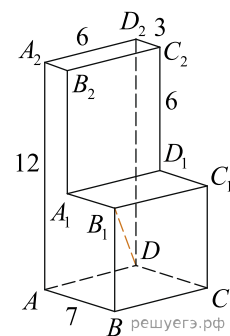
55. Найдите расстояние между вершинами  $D$  и  $B_2$  многогранника, изображенного на рисунке. Все двугранные углы многогранника прямые.



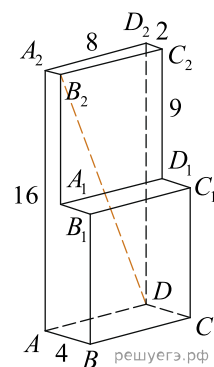
56. Найдите расстояние между вершинами  $D$  и  $B_1$  многогранника, изображенного на рисунке. Все двугранные углы многогранника прямые.



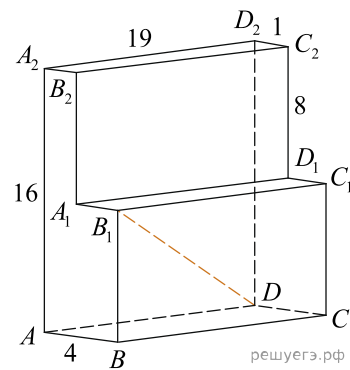
57. Найдите расстояние между вершинами  $D$  и  $B_1$  многогранника, изображенного на рисунке. Все двугранные углы многогранника прямые.



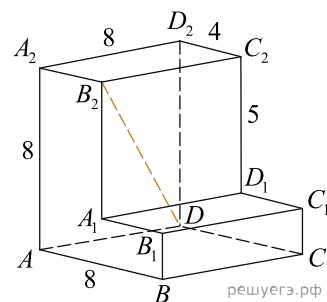
58. Найдите расстояние между вершинами  $D$  и  $B_2$  многогранника, изображенного на рисунке. Все двугранные углы многогранника прямые.



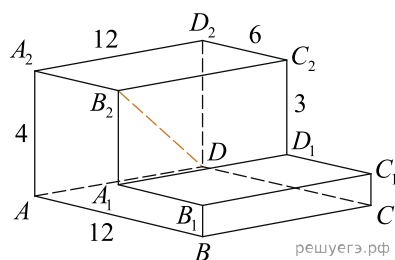
59. Найдите расстояние между вершинами  $D$  и  $B_1$  многогранника, изображенного на рисунке. Все двугранные углы многогранника прямые.



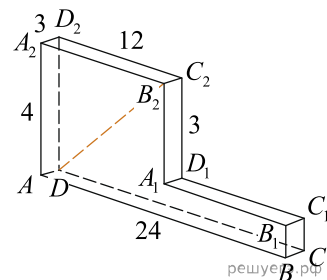
60. Найдите расстояние между вершинами  $D$  и  $B_2$  многогранника, изображенного на рисунке. Все двугранные углы многогранника прямые.



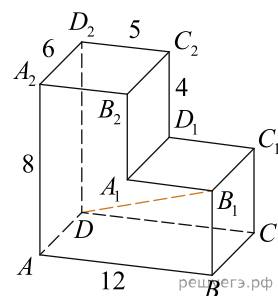
61. Найдите расстояние между вершинами  $D$  и  $B_2$  многогранника, изображенного на рисунке. Все двугранные углы многогранника прямые.



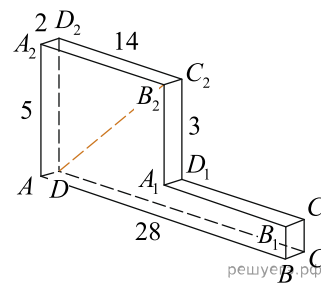
62. Найдите расстояние между вершинами  $D$  и  $B_2$  многогранника, изображенного на рисунке. Все двугранные углы многогранника прямые.



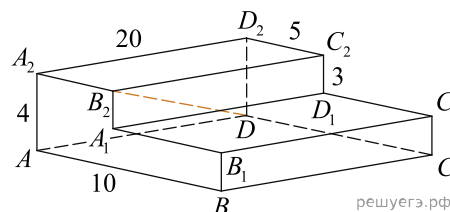
63. Найдите расстояние между вершинами  $D$  и  $B_1$  многогранника, изображенного на рисунке. Все двугранные углы многогранника прямые.



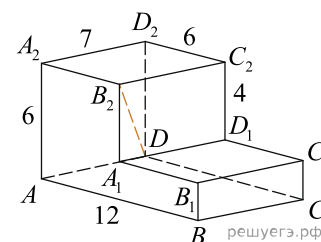
64. Найдите расстояние между вершинами  $D$  и  $B_2$  многогранника, изображенного на рисунке. Все двугранные углы многогранника прямые.



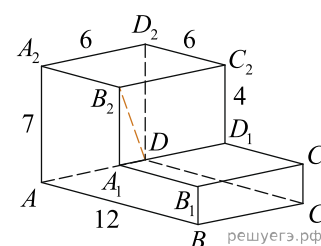
65. Найдите расстояние между вершинами  $D$  и  $B_2$  многогранника, изображенного на рисунке. Все двугранные углы многогранника прямые.



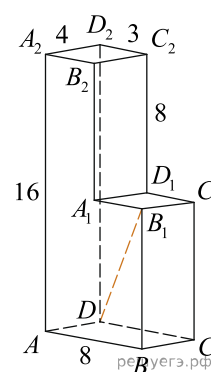
66. Найдите расстояние между вершинами  $D$  и  $B_2$  многогранника, изображенного на рисунке. Все двугранные углы многогранника прямые.



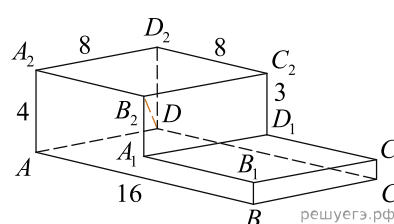
67. Найдите расстояние между вершинами  $D$  и  $B_2$  многогранника, изображенного на рисунке. Все двугранные углы многогранника прямые.



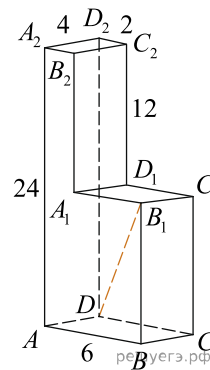
68. Найдите расстояние между вершинами  $D$  и  $B_1$  многогранника, изображенного на рисунке. Все двугранные углы многогранника прямые.



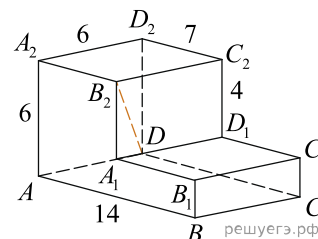
69. Найдите расстояние между вершинами  $D$  и  $B_2$  многогранника, изображенного на рисунке. Все двугранные углы многогранника прямые.



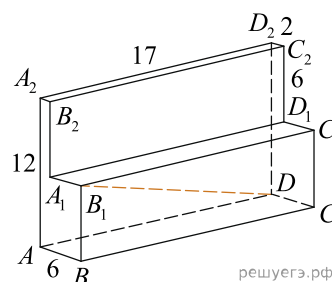
70. Найдите расстояние между вершинами  $D$  и  $B_1$  многогранника, изображенного на рисунке. Все двугранные углы многогранника прямые.



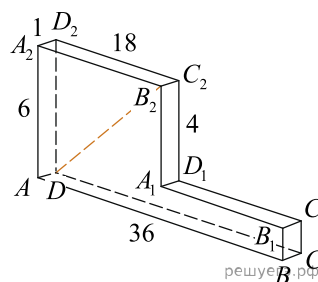
71. Найдите расстояние между вершинами  $D$  и  $B_2$  многогранника, изображенного на рисунке. Все двугранные углы многогранника прямые.



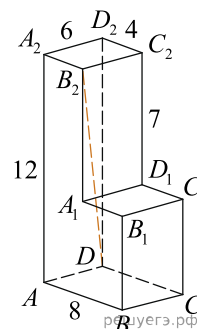
72. Найдите расстояние между вершинами  $D$  и  $B_1$  многогранника, изображенного на рисунке. Все двугранные углы многогранника прямые.



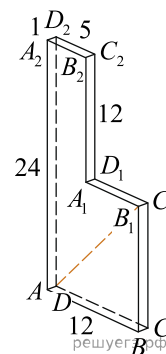
73. Найдите расстояние между вершинами  $D$  и  $B_2$  многогранника, изображенного на рисунке. Все двугранные углы многогранника прямые.



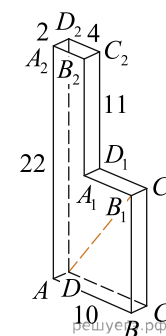
74. Найдите расстояние между вершинами  $D$  и  $B_2$  многогранника, изображенного на рисунке. Все двугранные углы многогранника прямые.



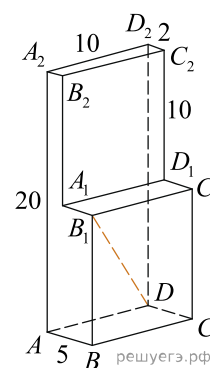
75. Найдите расстояние между вершинами  $D$  и  $B_1$  многогранника, изображенного на рисунке. Все двугранные углы многогранника прямые.



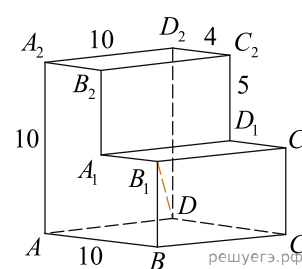
76. Найдите расстояние между вершинами  $D$  и  $B_1$  многогранника, изображенного на рисунке. Все двугранные углы многогранника прямые.



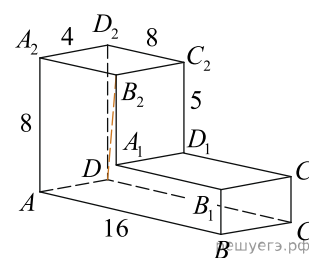
77. Найдите расстояние между вершинами  $D$  и  $B_1$  многогранника, изображенного на рисунке. Все двугранные углы многогранника прямые.



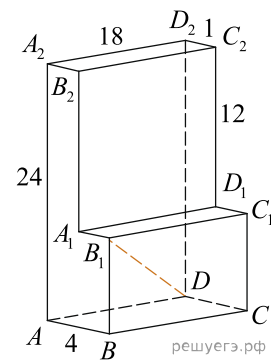
78. Найдите расстояние между вершинами  $D$  и  $B_1$  многогранника, изображенного на рисунке. Все двугранные углы многогранника прямые.



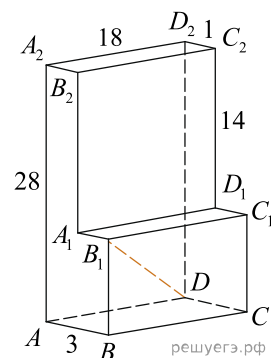
79. Найдите расстояние между вершинами  $D$  и  $B_2$  многогранника, изображенного на рисунке. Все двугранные углы многогранника прямые.



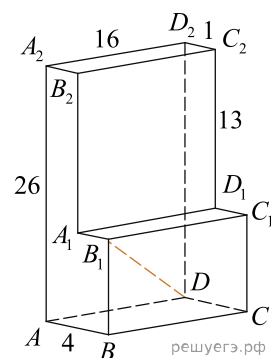
80. Найдите расстояние между вершинами  $D$  и  $B_1$  многогранника, изображенного на рисунке. Все двугранные углы многогранника прямые.



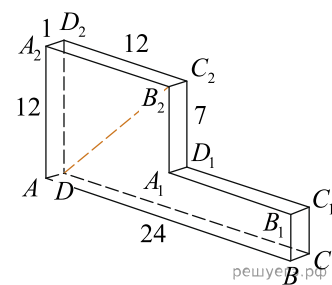
81. Найдите расстояние между вершинами  $D$  и  $B_1$  многогранника, изображенного на рисунке. Все двугранные углы многогранника прямые.



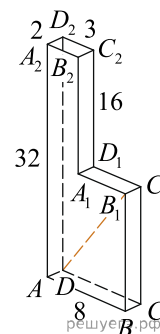
82. Найдите расстояние между вершинами  $D$  и  $B_1$  многогранника, изображенного на рисунке. Все двугранные углы многогранника прямые.



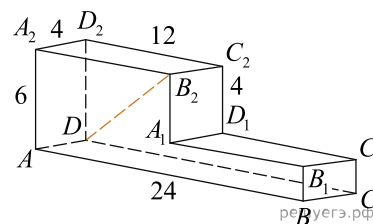
83. Найдите расстояние между вершинами  $D$  и  $B_2$  многогранника, изображенного на рисунке. Все двугранные углы многогранника прямые.



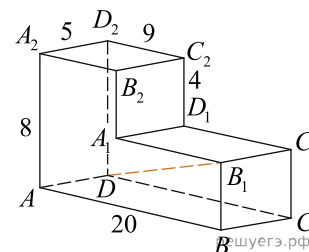
84. Найдите расстояние между вершинами  $D$  и  $B_1$  многогранника, изображенного на рисунке. Все двугранные углы многогранника прямые.



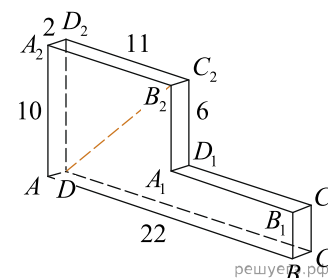
85. Найдите расстояние между вершинами  $D$  и  $B_2$  многогранника, изображенного на рисунке. Все двугранные углы многогранника прямые.



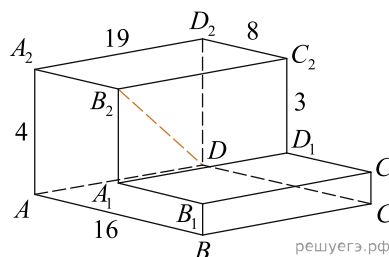
86. Найдите расстояние между вершинами  $D$  и  $B_1$  многогранника, изображенного на рисунке. Все двугранные углы многогранника прямые.



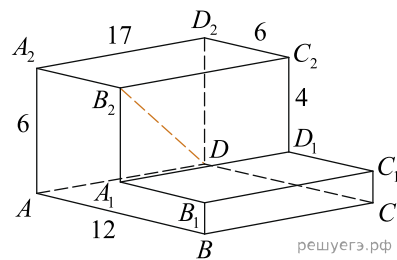
87. Найдите расстояние между вершинами  $D$  и  $B_2$  многогранника, изображенного на рисунке. Все двугранные углы многогранника прямые.



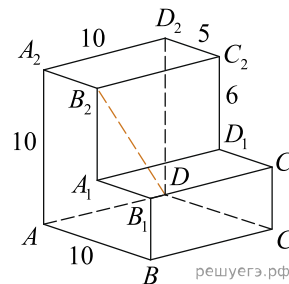
88. Найдите расстояние между вершинами  $D$  и  $B_2$  многогранника, изображенного на рисунке. Все двугранные углы многогранника прямые.



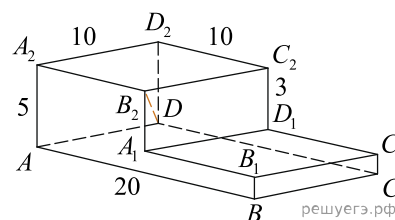
89. Найдите расстояние между вершинами  $D$  и  $B_2$  многогранника, изображенного на рисунке. Все двугранные углы многогранника прямые.



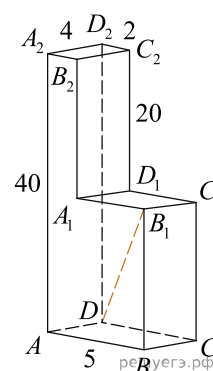
90. Найдите расстояние между вершинами  $D$  и  $B_2$  многогранника, изображенного на рисунке. Все двугранные углы многогранника прямые.



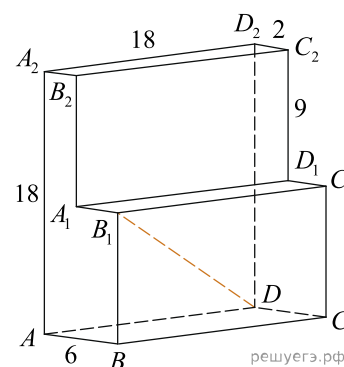
91. Найдите расстояние между вершинами  $D$  и  $B_2$  многогранника, изображенного на рисунке. Все двугранные углы многогранника прямые.



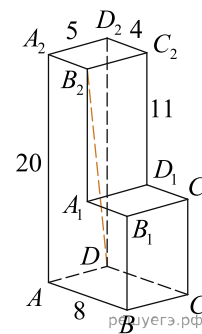
92. Найдите расстояние между вершинами  $D$  и  $B_1$  многогранника, изображенного на рисунке. Все двугранные углы многогранника прямые.



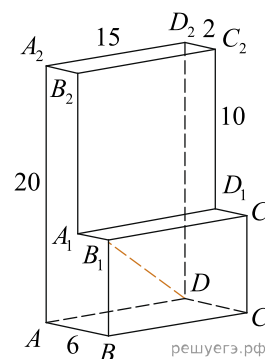
93. Найдите расстояние между вершинами  $D$  и  $B_1$  многогранника, изображенного на рисунке. Все двугранные углы многогранника прямые.



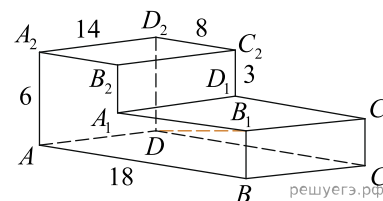
94. Найдите расстояние между вершинами  $D$  и  $B_2$  многогранника, изображенного на рисунке. Все двугранные углы многогранника прямые.



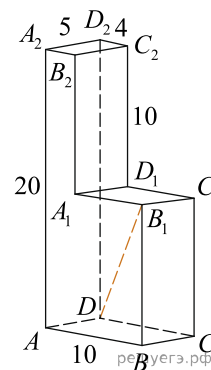
95. Найдите расстояние между вершинами  $D$  и  $B_1$  многогранника, изображенного на рисунке. Все двугранные углы многогранника прямые.



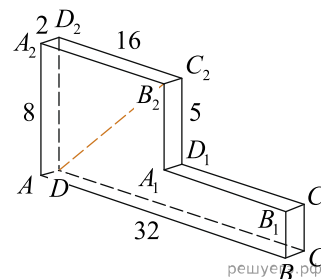
96. Найдите расстояние между вершинами  $D$  и  $B_1$  многогранника, изображенного на рисунке. Все двугранные углы многогранника прямые.



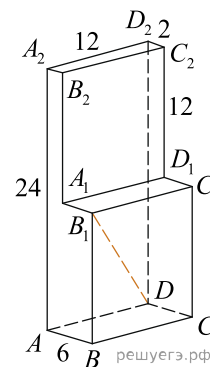
97. Найдите расстояние между вершинами  $D$  и  $B_1$  многогранника, изображенного на рисунке. Все двугранные углы многогранника прямые.



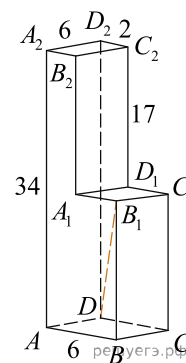
98. Найдите расстояние между вершинами  $D$  и  $B_2$  многогранника, изображенного на рисунке. Все двугранные углы многогранника прямые.



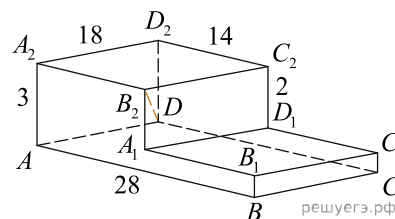
99. Найдите расстояние между вершинами  $D$  и  $B_1$  многогранника, изображенного на рисунке. Все двугранные углы многогранника прямые.



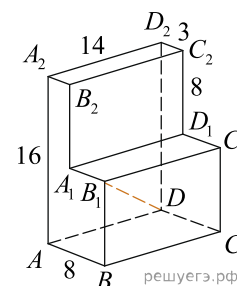
100. Найдите расстояние между вершинами  $D$  и  $B_1$  многогранника, изображенного на рисунке. Все двугранные углы многогранника прямые.



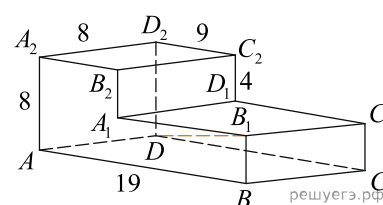
101. Найдите расстояние между вершинами  $D$  и  $B_2$  многогранника, изображенного на рисунке. Все двугранные углы многогранника прямые.



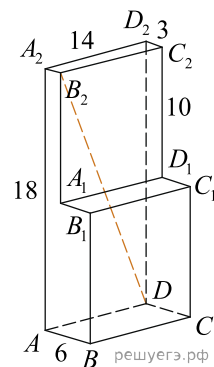
102. Найдите расстояние между вершинами  $D$  и  $B_1$  многогранника, изображенного на рисунке. Все двугранные углы многогранника прямые.



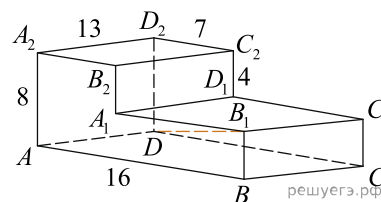
103. Найдите расстояние между вершинами  $D$  и  $B_1$  многогранника, изображенного на рисунке. Все двугранные углы многогранника прямые.



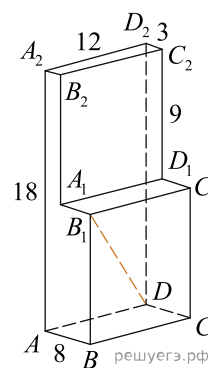
104. Найдите расстояние между вершинами  $D$  и  $B_2$  многогранника, изображенного на рисунке. Все двугранные углы многогранника прямые.



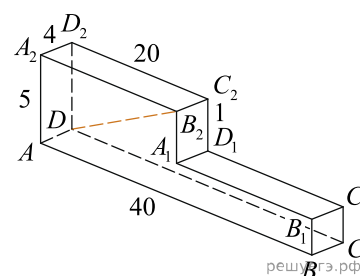
105. Найдите расстояние между вершинами  $D$  и  $B_1$  многогранника, изображенного на рисунке. Все двугранные углы многогранника прямые.



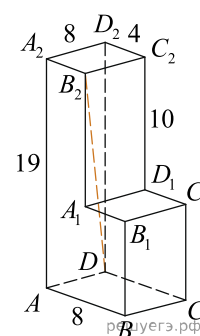
106. Найдите расстояние между вершинами  $D$  и  $B_1$  многогранника, изображенного на рисунке. Все двугранные углы многогранника прямые.



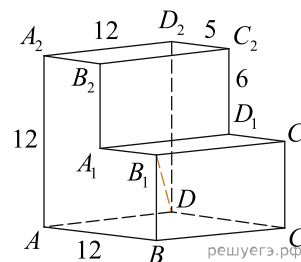
107. Найдите расстояние между вершинами  $D$  и  $B_2$  многогранника, изображенного на рисунке. Все двугранные углы многогранника прямые.



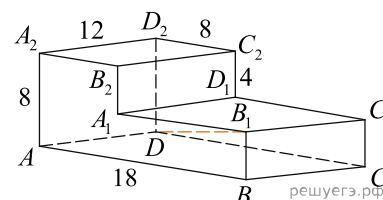
108. Найдите расстояние между вершинами  $D$  и  $B_2$  многогранника, изображенного на рисунке. Все двугранные углы многогранника прямые.



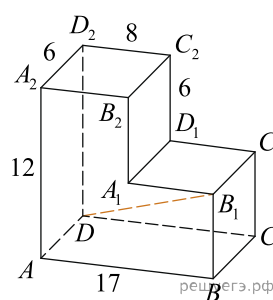
109. Найдите расстояние между вершинами  $D$  и  $B_1$  многогранника, изображенного на рисунке. Все двугранные углы многогранника прямые.



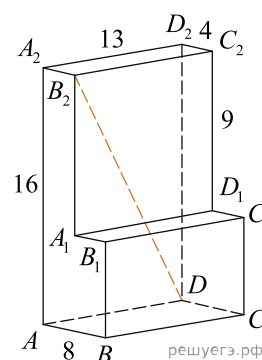
110. Найдите расстояние между вершинами  $D$  и  $B_1$  многогранника, изображенного на рисунке. Все двугранные углы многогранника прямые.



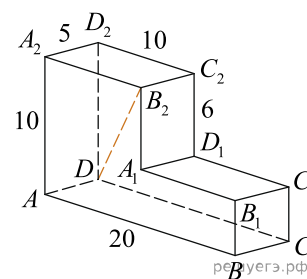
111. Найдите расстояние между вершинами  $D$  и  $B_1$  многогранника, изображенного на рисунке. Все двугранные углы многогранника прямые.



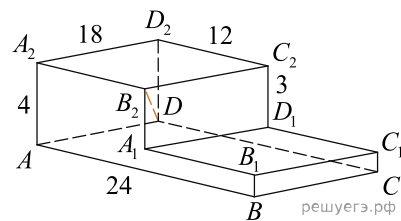
112. Найдите расстояние между вершинами  $D$  и  $B_2$  многогранника, изображенного на рисунке. Все двугранные углы многогранника прямые.



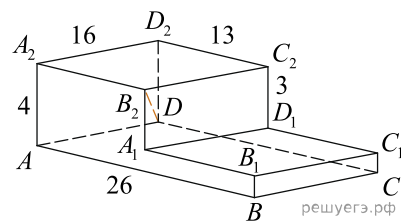
113. Найдите расстояние между вершинами  $D$  и  $B_2$  многогранника, изображенного на рисунке. Все двугранные углы многогранника прямые.



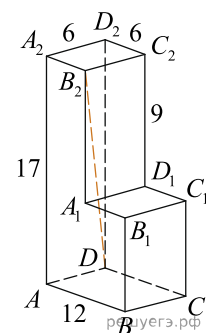
114. Найдите расстояние между вершинами  $D$  и  $B_2$  многогранника, изображенного на рисунке. Все двугранные углы многогранника прямые.



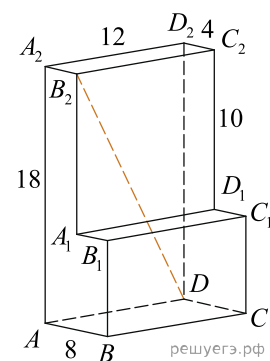
115. Найдите расстояние между вершинами  $D$  и  $B_2$  многогранника, изображенного на рисунке. Все двугранные углы многогранника прямые.



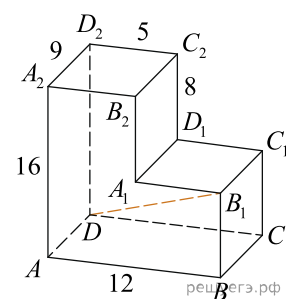
116. Найдите расстояние между вершинами  $D$  и  $B_2$  многогранника, изображенного на рисунке. Все двугранные углы многогранника прямые.



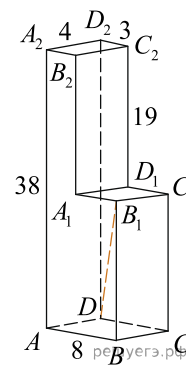
117. Найдите расстояние между вершинами  $D$  и  $B_2$  многогранника, изображенного на рисунке. Все двугранные углы многогранника прямые.



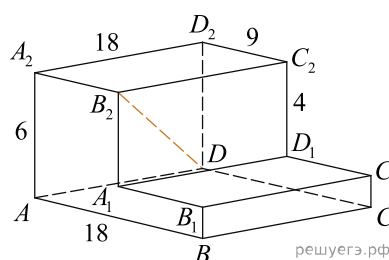
118. Найдите расстояние между вершинами  $D$  и  $B_1$  многогранника, изображенного на рисунке. Все двугранные углы многогранника прямые.



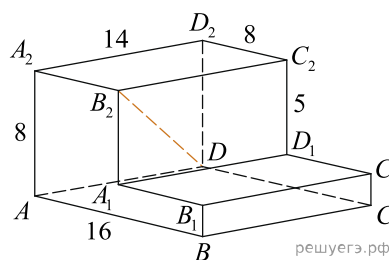
119. Найдите расстояние между вершинами  $D$  и  $B_1$  многогранника, изображенного на рисунке. Все двугранные углы многогранника прямые.



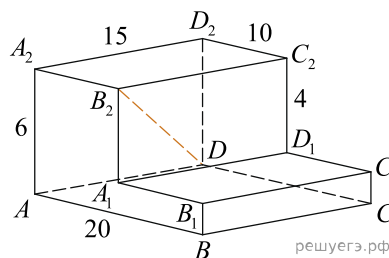
120. Найдите расстояние между вершинами  $D$  и  $B_2$  многогранника, изображенного на рисунке. Все двугранные углы многогранника прямые.



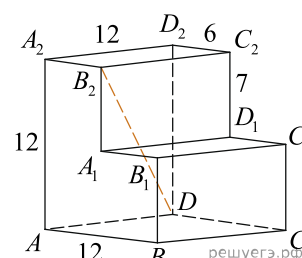
121. Найдите расстояние между вершинами  $D$  и  $B_2$  многогранника, изображенного на рисунке. Все двугранные углы многогранника прямые.



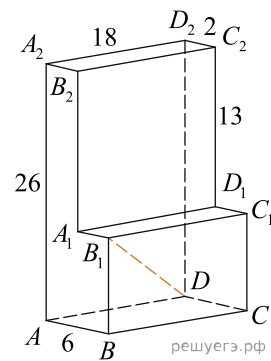
122. Найдите расстояние между вершинами  $D$  и  $B_2$  многогранника, изображенного на рисунке. Все двугранные углы многогранника прямые.



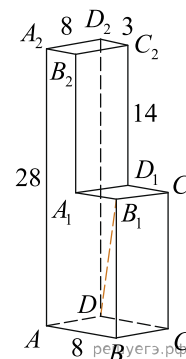
123. Найдите расстояние между вершинами  $D$  и  $B_2$  многогранника, изображенного на рисунке. Все двугранные углы многогранника прямые.



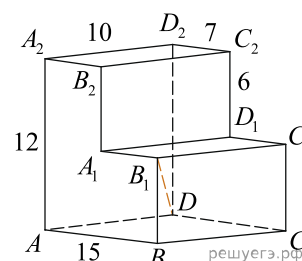
124. Найдите расстояние между вершинами  $D$  и  $B_1$  многогранника, изображенного на рисунке. Все двугранные углы многогранника прямые.



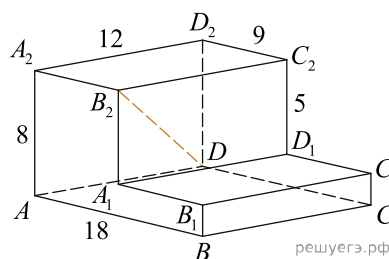
125. Найдите расстояние между вершинами  $D$  и  $B_1$  многогранника, изображенного на рисунке. Все двугранные углы многогранника прямые.



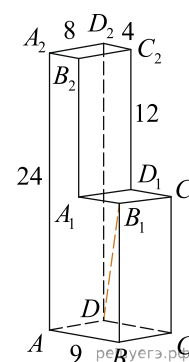
126. Найдите расстояние между вершинами  $D$  и  $B_1$  многогранника, изображенного на рисунке. Все двугранные углы многогранника прямые.



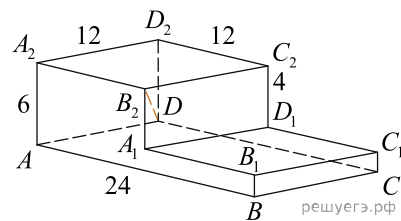
127. Найдите расстояние между вершинами  $D$  и  $B_2$  многогранника, изображенного на рисунке. Все двугранные углы многогранника прямые.



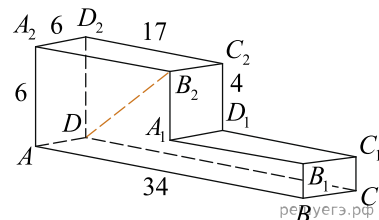
128. Найдите расстояние между вершинами  $D$  и  $B_1$  многогранника, изображенного на рисунке. Все двугранные углы многогранника прямые.



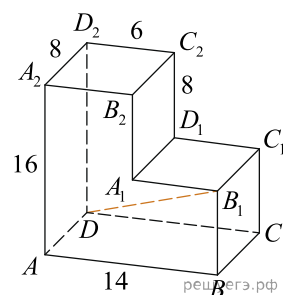
129. Найдите расстояние между вершинами  $D$  и  $B_2$  многогранника, изображенного на рисунке. Все двугранные углы многогранника прямые.



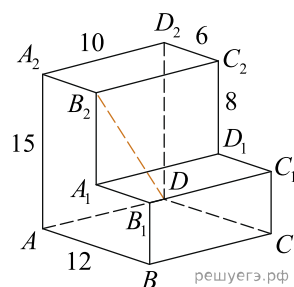
130. Найдите расстояние между вершинами  $D$  и  $B_2$  многогранника, изображенного на рисунке. Все двугранные углы многогранника прямые.



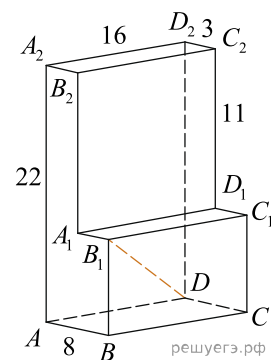
131. Найдите расстояние между вершинами  $D$  и  $B_1$  многогранника, изображенного на рисунке. Все двугранные углы многогранника прямые.



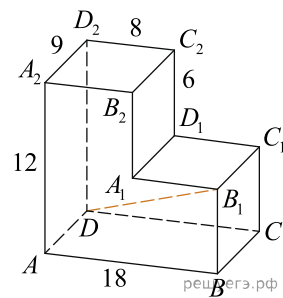
132. Найдите расстояние между вершинами  $D$  и  $B_2$  многогранника, изображенного на рисунке. Все двугранные углы многогранника прямые.



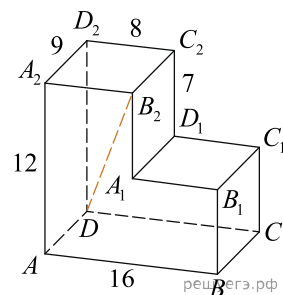
133. Найдите расстояние между вершинами  $D$  и  $B_1$  многогранника, изображенного на рисунке. Все двугранные углы многогранника прямые.



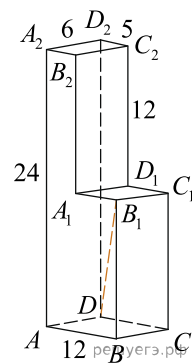
134. Найдите расстояние между вершинами  $D$  и  $B_1$  многогранника, изображенного на рисунке. Все двугранные углы многогранника прямые.



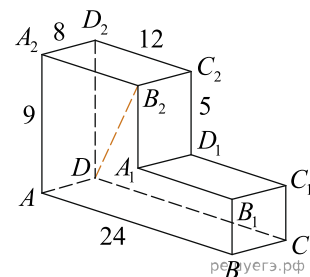
135. Найдите расстояние между вершинами  $D$  и  $B_2$  многогранника, изображенного на рисунке. Все двугранные углы многогранника прямые.



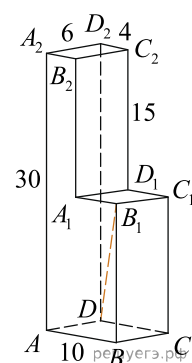
136. Найдите расстояние между вершинами  $D$  и  $B_1$  многогранника, изображенного на рисунке. Все двугранные углы многогранника прямые.



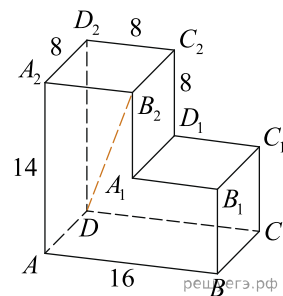
137. Найдите расстояние между вершинами  $D$  и  $B_2$  многогранника, изображенного на рисунке. Все двугранные углы многогранника прямые.



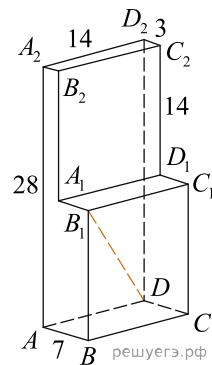
138. Найдите расстояние между вершинами  $D$  и  $B_1$  многогранника, изображенного на рисунке. Все двугранные углы многогранника прямые.



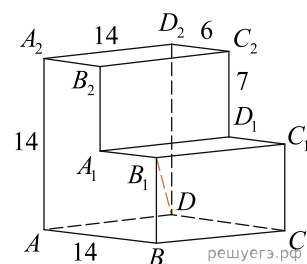
139. Найдите расстояние между вершинами  $D$  и  $B_2$  многогранника, изображенного на рисунке. Все двугранные углы многогранника прямые.



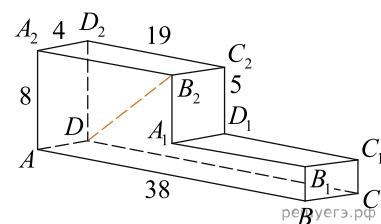
140. Найдите расстояние между вершинами  $D$  и  $B_1$  многогранника, изображенного на рисунке. Все двугранные углы многогранника прямые.



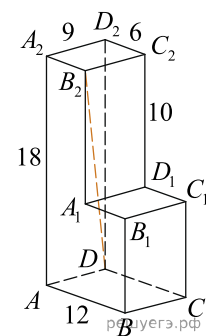
141. Найдите расстояние между вершинами  $D$  и  $B_1$  многогранника, изображенного на рисунке. Все двугранные углы многогранника прямые.



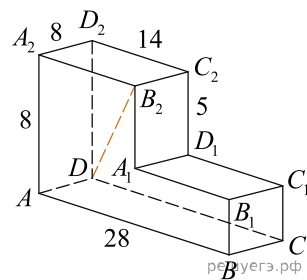
142. Найдите расстояние между вершинами  $D$  и  $B_2$  многогранника, изображенного на рисунке. Все двугранные углы многогранника прямые.



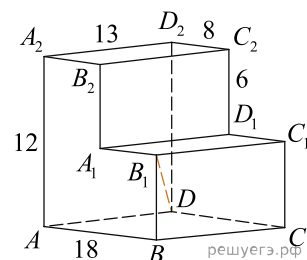
143. Найдите расстояние между вершинами  $D$  и  $B_2$  многогранника, изображенного на рисунке. Все двугранные углы многогранника прямые.



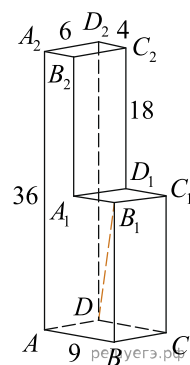
144. Найдите расстояние между вершинами  $D$  и  $B_2$  многогранника, изображенного на рисунке. Все двугранные углы многогранника прямые.



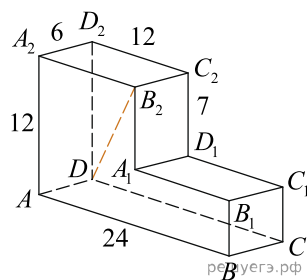
145. Найдите расстояние между вершинами  $D$  и  $B_1$  многогранника, изображенного на рисунке. Все двугранные углы многогранника прямые.



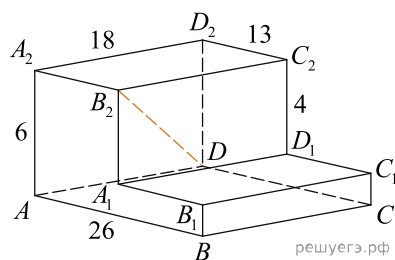
146. Найдите расстояние между вершинами  $D$  и  $B_1$  многогранника, изображенного на рисунке. Все двугранные углы многогранника прямые.



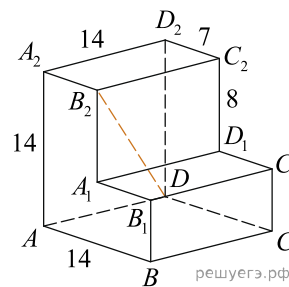
147. Найдите расстояние между вершинами  $D$  и  $B_2$  многогранника, изображенного на рисунке. Все двугранные углы многогранника прямые.



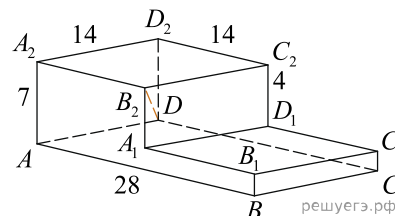
148. Найдите расстояние между вершинами  $D$  и  $B_2$  многогранника, изображенного на рисунке. Все двугранные углы многогранника прямые.



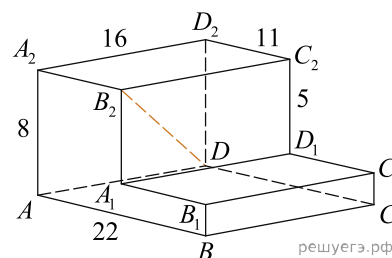
149. Найдите расстояние между вершинами  $D$  и  $B_2$  многогранника, изображенного на рисунке. Все двугранные углы многогранника прямые.



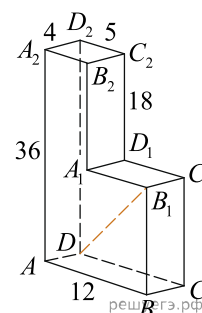
150. Найдите расстояние между вершинами  $D$  и  $B_2$  многогранника, изображенного на рисунке. Все двугранные углы многогранника прямые.



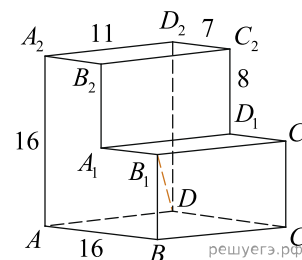
151. Найдите расстояние между вершинами  $D$  и  $B_2$  многогранника, изображенного на рисунке. Все двугранные углы многогранника прямые.



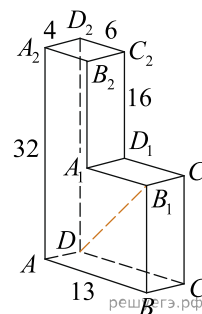
152. Найдите расстояние между вершинами  $D$  и  $B_1$  многогранника, изображенного на рисунке. Все двугранные углы многогранника прямые.



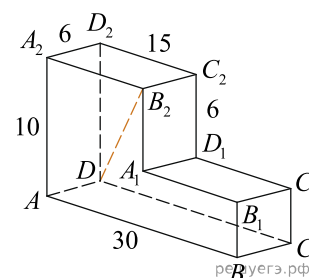
153. Найдите расстояние между вершинами  $D$  и  $B_1$  многогранника, изображенного на рисунке. Все двугранные углы многогранника прямые.



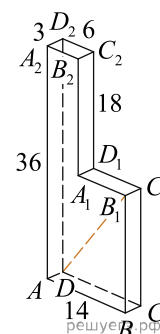
154. Найдите расстояние между вершинами  $D$  и  $B_1$  многогранника, изображенного на рисунке. Все двугранные углы многогранника прямые.



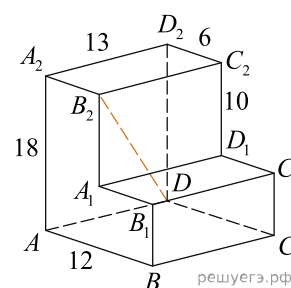
155. Найдите расстояние между вершинами  $D$  и  $B_2$  многогранника, изображенного на рисунке. Все двугранные углы многогранника прямые.



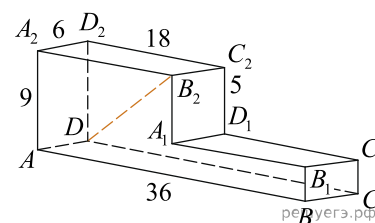
156. Найдите расстояние между вершинами  $D$  и  $B_1$  многогранника, изображенного на рисунке. Все двугранные углы многогранника прямые.



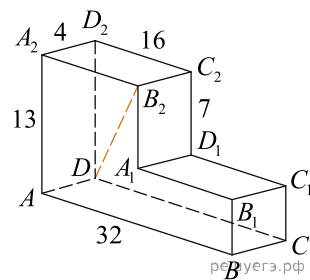
157. Найдите расстояние между вершинами  $D$  и  $B_2$  многогранника, изображенного на рисунке. Все двугранные углы многогранника прямые.



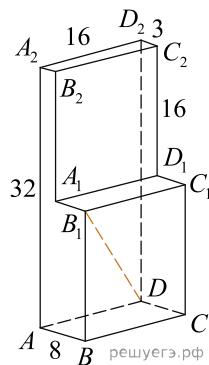
158. Найдите расстояние между вершинами  $D$  и  $B_2$  многогранника, изображенного на рисунке. Все двугранные углы многогранника прямые.



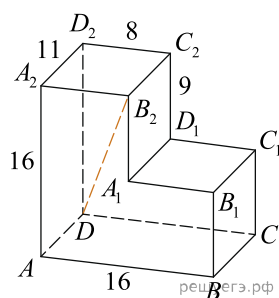
159. Найдите расстояние между вершинами  $D$  и  $B_2$  многогранника, изображенного на рисунке. Все двугранные углы многогранника прямые.



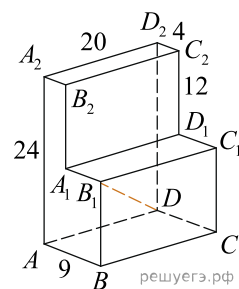
160. Найдите расстояние между вершинами  $D$  и  $B_1$  многогранника, изображенного на рисунке. Все двугранные углы многогранника прямые.



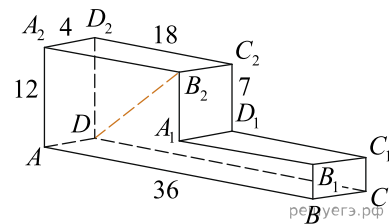
161. Найдите расстояние между вершинами  $D$  и  $B_2$  многогранника, изображенного на рисунке. Все двугранные углы многогранника прямые.



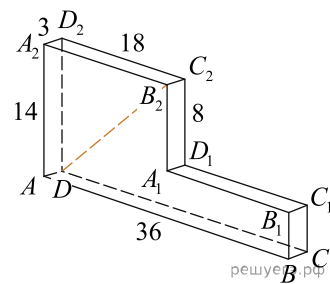
162. Найдите расстояние между вершинами  $D$  и  $B_1$  многогранника, изображенного на рисунке. Все двугранные углы многогранника прямые.



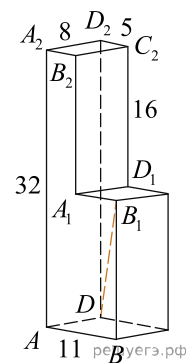
163. Найдите расстояние между вершинами  $D$  и  $B_2$  многогранника, изображенного на рисунке. Все двугранные углы многогранника прямые.



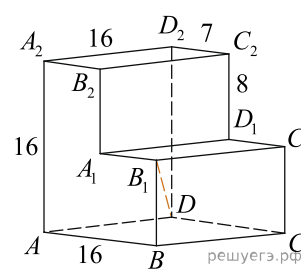
164. Найдите расстояние между вершинами  $D$  и  $B_2$  многогранника, изображенного на рисунке. Все двугранные углы многогранника прямые.



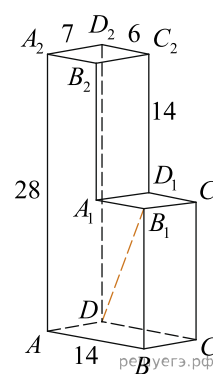
165. Найдите расстояние между вершинами  $D$  и  $B_1$  многогранника, изображенного на рисунке. Все двугранные углы многогранника прямые.



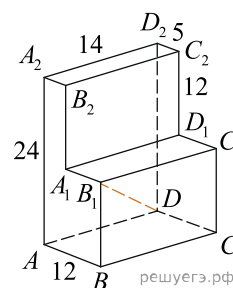
166. Найдите расстояние между вершинами  $D$  и  $B_1$  многогранника, изображенного на рисунке. Все двугранные углы многогранника прямые.



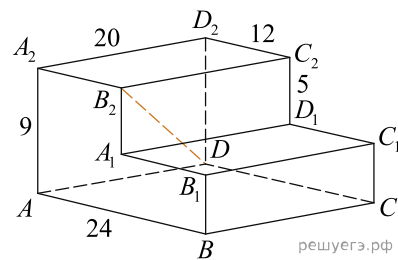
167. Найдите расстояние между вершинами  $D$  и  $B_1$  многогранника, изображенного на рисунке. Все двугранные углы многогранника прямые.



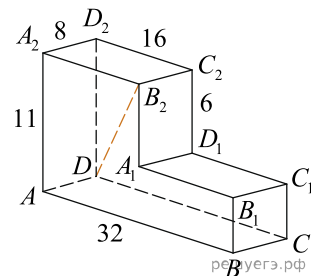
168. Найдите расстояние между вершинами  $D$  и  $B_1$  многогранника, изображенного на рисунке. Все двугранные углы многогранника прямые.



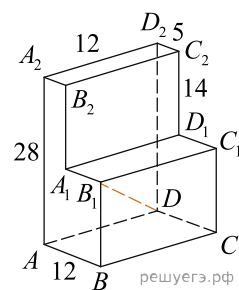
169. Найдите расстояние между вершинами  $D$  и  $B_2$  многогранника, изображенного на рисунке. Все двугранные углы многогранника прямые.



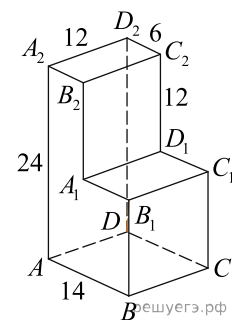
170. Найдите расстояние между вершинами  $D$  и  $B_2$  многогранника, изображенного на рисунке. Все двугранные углы многогранника прямые.



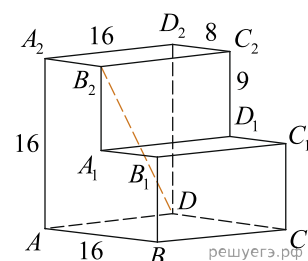
171. Найдите расстояние между вершинами  $D$  и  $B_1$  многогранника, изображенного на рисунке. Все двугранные углы многогранника прямые.



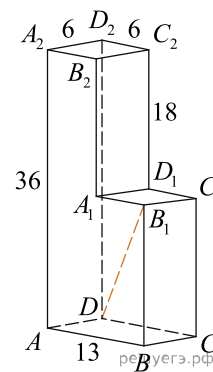
172. Найдите расстояние между вершинами  $D$  и  $B_1$  многогранника, изображенного на рисунке. Все двугранные углы многогранника прямые.



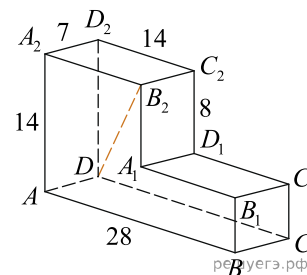
173. Найдите расстояние между вершинами  $D$  и  $B_2$  многогранника, изображенного на рисунке. Все двугранные углы многогранника прямые.



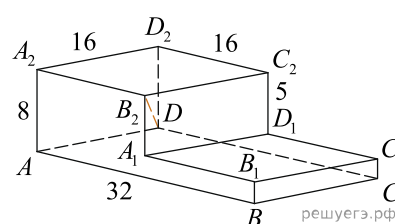
174. Найдите расстояние между вершинами  $D$  и  $B_1$  многогранника, изображенного на рисунке. Все двугранные углы многогранника прямые.



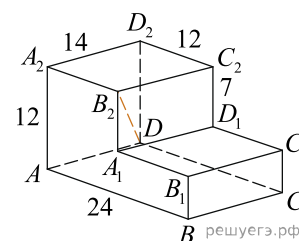
175. Найдите расстояние между вершинами  $D$  и  $B_2$  многогранника, изображенного на рисунке. Все двугранные углы многогранника прямые.



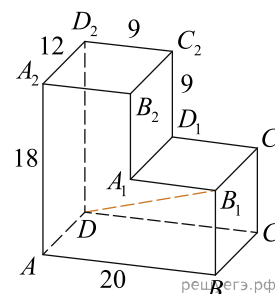
176. Найдите расстояние между вершинами  $D$  и  $B_2$  многогранника, изображенного на рисунке. Все двугранные углы многогранника прямые.



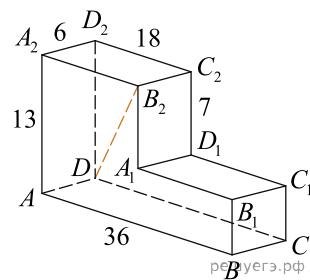
177. Найдите расстояние между вершинами  $D$  и  $B_2$  многогранника, изображенного на рисунке. Все двугранные углы многогранника прямые.



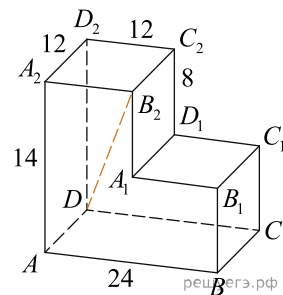
178. Найдите расстояние между вершинами  $D$  и  $B_1$  многогранника, изображенного на рисунке. Все двугранные углы многогранника прямые.



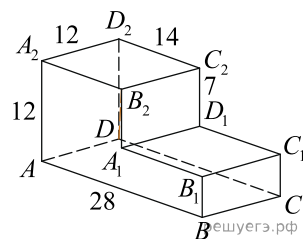
179. Найдите расстояние между вершинами  $D$  и  $B_2$  многогранника, изображенного на рисунке. Все двугранные углы многогранника прямые.



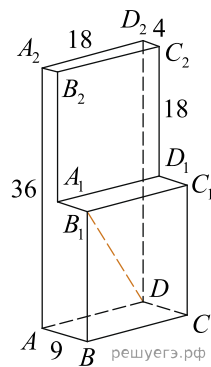
180. Найдите расстояние между вершинами  $D$  и  $B_2$  многогранника, изображенного на рисунке. Все двугранные углы многогранника прямые.



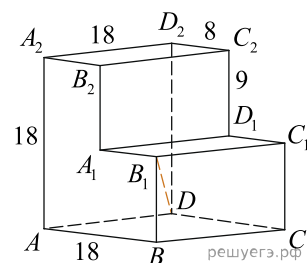
181. Найдите расстояние между вершинами  $D$  и  $B_2$  многогранника, изображенного на рисунке. Все двугранные углы многогранника прямые.



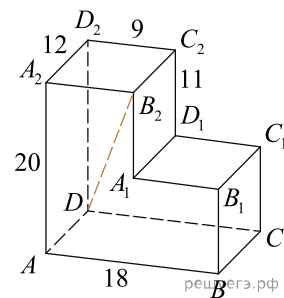
182. Найдите расстояние между вершинами  $D$  и  $B_1$  многогранника, изображенного на рисунке. Все двугранные углы многогранника прямые.



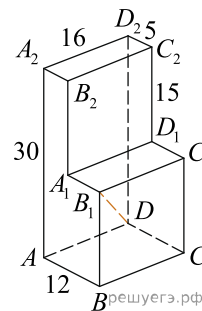
183. Найдите расстояние между вершинами  $D$  и  $B_1$  многогранника, изображенного на рисунке. Все двугранные углы многогранника прямые.



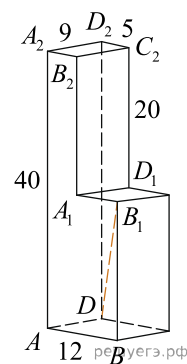
184. Найдите расстояние между вершинами  $D$  и  $B_2$  многогранника, изображенного на рисунке. Все двугранные углы многогранника прямые.



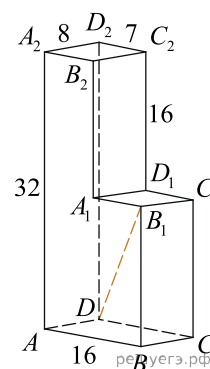
185. Найдите расстояние между вершинами  $D$  и  $B_1$  многогранника, изображенного на рисунке. Все двугранные углы многогранника прямые.



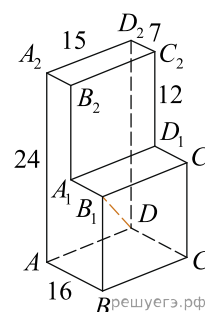
186. Найдите расстояние между вершинами  $D$  и  $B_1$  многогранника, изображенного на рисунке. Все двугранные углы многогранника прямые.



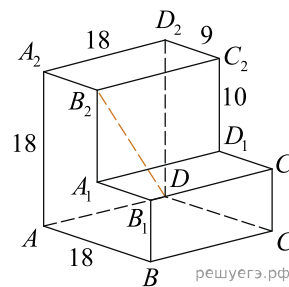
187. Найдите расстояние между вершинами  $D$  и  $B_1$  многогранника, изображенного на рисунке. Все двугранные углы многогранника прямые.



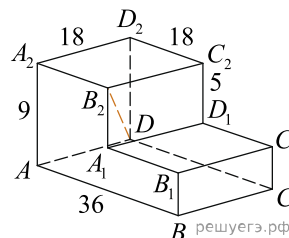
188. Найдите расстояние между вершинами  $D$  и  $B_1$  многогранника, изображенного на рисунке. Все двугранные углы многогранника прямые.



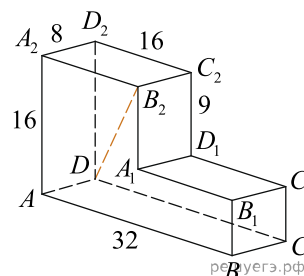
189. Найдите расстояние между вершинами  $D$  и  $B_2$  многогранника, изображенного на рисунке. Все двугранные углы многогранника прямые.



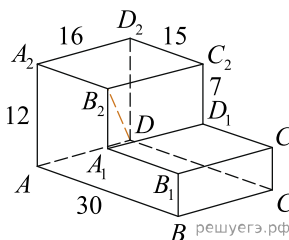
190. Найдите расстояние между вершинами  $D$  и  $B_2$  многогранника, изображенного на рисунке. Все двугранные углы многогранника прямые.



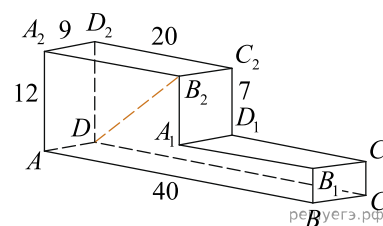
191. Найдите расстояние между вершинами  $D$  и  $B_2$  многогранника, изображенного на рисунке. Все двугранные углы многогранника прямые.



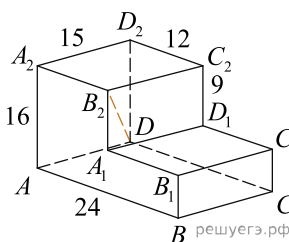
192. Найдите расстояние между вершинами  $D$  и  $B_2$  многогранника, изображенного на рисунке. Все двугранные углы многогранника прямые.



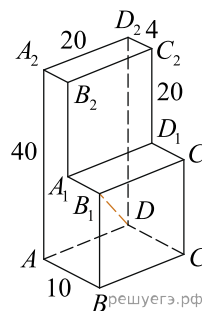
193. Найдите расстояние между вершинами  $D$  и  $B_2$  многогранника, изображенного на рисунке. Все двугранные углы многогранника прямые.



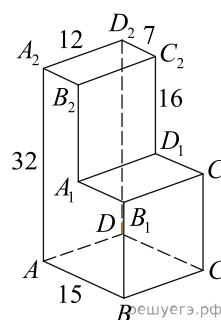
194. Найдите расстояние между вершинами  $D$  и  $B_2$  многогранника, изображенного на рисунке. Все двугранные углы многогранника прямые.



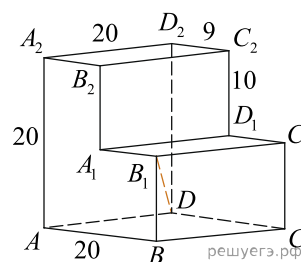
195. Найдите расстояние между вершинами  $D$  и  $B_1$  многогранника, изображенного на рисунке. Все двугранные углы многогранника прямые.



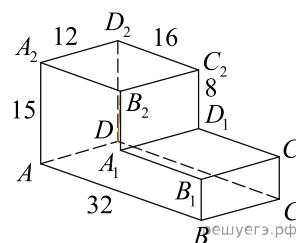
196. Найдите расстояние между вершинами  $D$  и  $B_1$  многогранника, изображенного на рисунке. Все двугранные углы многогранника прямые.



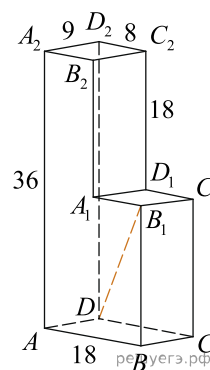
197. Найдите расстояние между вершинами  $D$  и  $B_1$  многогранника, изображенного на рисунке. Все двугранные углы многогранника прямые.



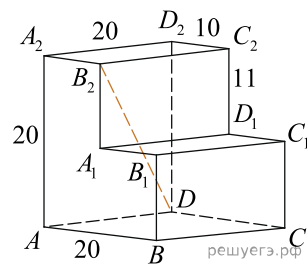
198. Найдите расстояние между вершинами  $D$  и  $B_2$  многогранника, изображенного на рисунке. Все двугранные углы многогранника прямые.



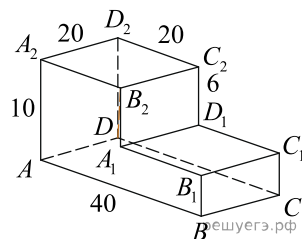
199. Найдите расстояние между вершинами  $D$  и  $B_1$  многогранника, изображенного на рисунке. Все двугранные углы многогранника прямые.



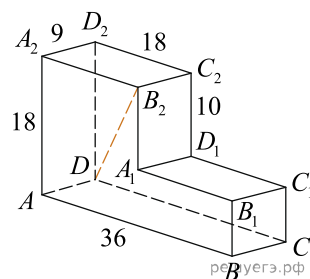
200. Найдите расстояние между вершинами  $D$  и  $B_2$  многогранника, изображенного на рисунке. Все двугранные углы многогранника прямые.



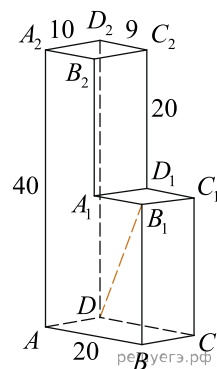
201. Найдите расстояние между вершинами  $D$  и  $B_2$  многогранника, изображенного на рисунке. Все двугранные углы многогранника прямые.



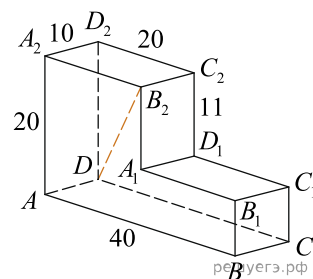
202. Найдите расстояние между вершинами  $D$  и  $B_2$  многогранника, изображенного на рисунке. Все двугранные углы многогранника прямые.



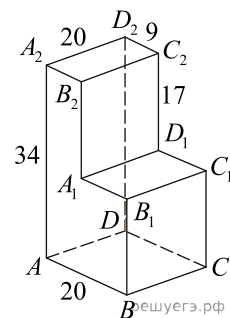
203. Найдите расстояние между вершинами  $D$  и  $B_1$  многогранника, изображенного на рисунке. Все двугранные углы многогранника прямые.



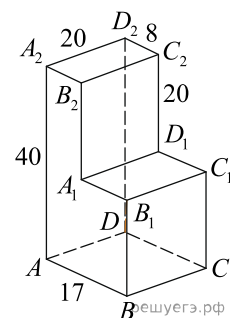
204. Найдите расстояние между вершинами  $D$  и  $B_2$  многогранника, изображенного на рисунке. Все двугранные углы многогранника прямые.



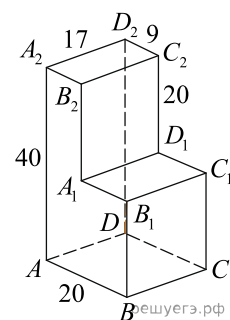
205. Найдите расстояние между вершинами  $D$  и  $B_1$  многогранника, изображенного на рисунке. Все двугранные углы многогранника прямые.



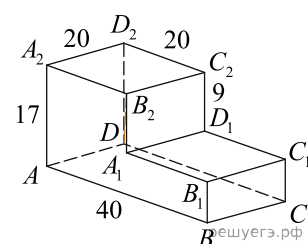
206. Найдите расстояние между вершинами  $D$  и  $B_1$  многогранника, изображенного на рисунке. Все двугранные углы многогранника прямые.



207. Найдите расстояние между вершинами  $D$  и  $B_1$  многогранника, изображенного на рисунке. Все двугранные углы многогранника прямые.



208. Найдите расстояние между вершинами  $D$  и  $B_2$  многогранника, изображенного на рисунке. Все двугранные углы многогранника прямые.



209. Найдите расстояние между вершинами  $D$  и  $B_2$  многогранника, изображенного на рисунке. Все двугранные углы многогранника прямые.

