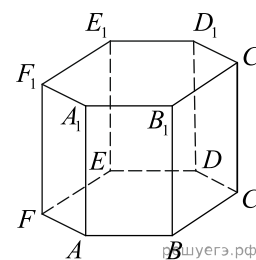
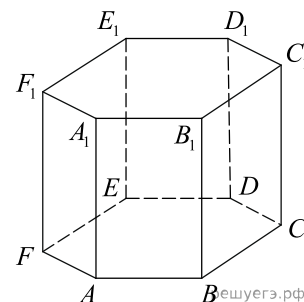


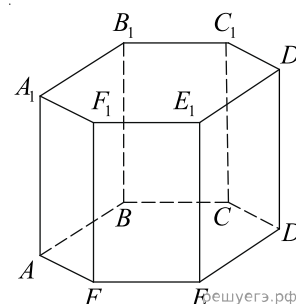
1. В правильной шестиугольной призме  $ABCDEF A_1 B_1 C_1 D_1 E_1 F_1$  все ребра равны 1. Найдите тангенс угла  $AD_1 D$ .



2. В правильной шестиугольной призме  $ABCDEF A_1 B_1 C_1 D_1 E_1 F_1$  все ребра равны 31. Найдите тангенс угла  $A_1 D D_1$ .



3. В правильной шестиугольной призме  $ABCDEF A_1 B_1 C_1 D_1 E_1 F_1$  все ребра равны 19. Найдите тангенс угла  $AD_1 D$ .



4. В правильной шестиугольной призме  $ABCDEF A_1 B_1 C_1 D_1 E_1 F_1$  все ребра равны 45. Найдите тангенс угла  $BE_1 E$ .

5. В правильной шестиугольной призме  $ABCDEF A_1 B_1 C_1 D_1 E_1 F_1$  все ребра равны 8. Найдите тангенс угла  $A_1 D D_1$ .

6. В правильной шестиугольной призме  $ABCDEF A_1 B_1 C_1 D_1 E_1 F_1$  все ребра равны 42. Найдите тангенс угла  $B_1 E E_1$ .

7. В правильной шестиугольной призме  $ABCDEF A_1 B_1 C_1 D_1 E_1 F_1$  все ребра равны 30. Найдите тангенс угла  $A_1 D D_1$ .

8. В правильной шестиугольной призме  $ABCDEF A_1 B_1 C_1 D_1 E_1 F_1$  все ребра равны 44. Найдите тангенс угла  $A_1 D D_1$ .

9. В правильной шестиугольной призме  $ABCDEF A_1 B_1 C_1 D_1 E_1 F_1$  все ребра равны 45. Найдите тангенс угла  $CF_1 F$ .

10. В правильной шестиугольной призме  $ABCDEF A_1 B_1 C_1 D_1 E_1 F_1$  все ребра равны 8. Найдите тангенс угла  $B_1 E E_1$ .

11. В правильной шестиугольной призме  $ABCDEF A_1 B_1 C_1 D_1 E_1 F_1$  все ребра равны 11. Найдите тангенс угла  $B_1 E E_1$ .

12. В правильной шестиугольной призме  $ABCDEF A_1 B_1 C_1 D_1 E_1 F_1$  все ребра равны 10. Найдите тангенс угла  $BE_1 E$ .

13. В правильной шестиугольной призме  $ABCDEF A_1 B_1 C_1 D_1 E_1 F_1$  все ребра равны 23. Найдите тангенс угла  $B_1 E E_1$ .
14. В правильной шестиугольной призме  $ABCDEF A_1 B_1 C_1 D_1 E_1 F_1$  все ребра равны 18. Найдите тангенс угла  $C F_1 F$ .
15. В правильной шестиугольной призме  $ABCDEF A_1 B_1 C_1 D_1 E_1 F_1$  все ребра равны 31. Найдите тангенс угла  $B_1 E E_1$ .
16. В правильной шестиугольной призме  $ABCDEF A_1 B_1 C_1 D_1 E_1 F_1$  все ребра равны 10. Найдите тангенс угла  $C_1 F F_1$ .
17. В правильной шестиугольной призме  $ABCDEF A_1 B_1 C_1 D_1 E_1 F_1$  все ребра равны 38. Найдите тангенс угла  $A_1 D D_1$ .
18. В правильной шестиугольной призме  $ABCDEF A_1 B_1 C_1 D_1 E_1 F_1$  все ребра равны 44. Найдите тангенс угла  $A D_1 D$ .
19. В правильной шестиугольной призме  $ABCDEF A_1 B_1 C_1 D_1 E_1 F_1$  все ребра равны 29. Найдите тангенс угла  $B_1 E E_1$ .
20. В правильной шестиугольной призме  $ABCDEF A_1 B_1 C_1 D_1 E_1 F_1$  все ребра равны 49. Найдите тангенс угла  $C_1 F F_1$ .
21. В правильной шестиугольной призме  $ABCDEF A_1 B_1 C_1 D_1 E_1 F_1$  все ребра равны 16. Найдите тангенс угла  $C_1 F F_1$ .
22. В правильной шестиугольной призме  $ABCDEF A_1 B_1 C_1 D_1 E_1 F_1$  все ребра равны 35. Найдите тангенс угла  $C_1 F F_1$ .
23. В правильной шестиугольной призме  $ABCDEF A_1 B_1 C_1 D_1 E_1 F_1$  все ребра равны 16. Найдите тангенс угла  $A_1 D D_1$ .
24. В правильной шестиугольной призме  $ABCDEF A_1 B_1 C_1 D_1 E_1 F_1$  все ребра равны 13. Найдите тангенс угла  $A_1 D D_1$ .
25. В правильной шестиугольной призме  $ABCDEF A_1 B_1 C_1 D_1 E_1 F_1$  все ребра равны 35. Найдите тангенс угла  $A_1 D D_1$ .
26. В правильной шестиугольной призме  $ABCDEF A_1 B_1 C_1 D_1 E_1 F_1$  все ребра равны 36. Найдите тангенс угла  $B_1 E E_1$ .
27. В правильной шестиугольной призме  $ABCDEF A_1 B_1 C_1 D_1 E_1 F_1$  все ребра равны 33. Найдите тангенс угла  $A_1 D D_1$ .
28. В правильной шестиугольной призме  $ABCDEF A_1 B_1 C_1 D_1 E_1 F_1$  все ребра равны 26. Найдите тангенс угла  $A D_1 D$ .
29. В правильной шестиугольной призме  $ABCDEF A_1 B_1 C_1 D_1 E_1 F_1$  все ребра равны 4. Найдите тангенс угла  $A_1 D D_1$ .
30. В правильной шестиугольной призме  $ABCDEF A_1 B_1 C_1 D_1 E_1 F_1$  все ребра равны 13. Найдите тангенс угла  $A D_1 D$ .
31. В правильной шестиугольной призме  $ABCDEF A_1 B_1 C_1 D_1 E_1 F_1$  все ребра равны 1. Найдите тангенс угла  $A_1 D D_1$ .

32. В правильной шестиугольной призме  $ABCDEF A_1 B_1 C_1 D_1 E_1 F_1$  все ребра равны 30. Найдите тангенс угла  $AD_1 D$ .
33. В правильной шестиугольной призме  $ABCDEF A_1 B_1 C_1 D_1 E_1 F_1$  все ребра равны 15. Найдите тангенс угла  $B_1 E E_1$ .
34. В правильной шестиугольной призме  $ABCDEF A_1 B_1 C_1 D_1 E_1 F_1$  все ребра равны 28. Найдите тангенс угла  $C_1 F F_1$ .
35. В правильной шестиугольной призме  $ABCDEF A_1 B_1 C_1 D_1 E_1 F_1$  все ребра равны 29. Найдите тангенс угла  $C_1 F F_1$ .
36. В правильной шестиугольной призме  $ABCDEF A_1 B_1 C_1 D_1 E_1 F_1$  все ребра равны 39. Найдите тангенс угла  $CF_1 F$ .
37. В правильной шестиугольной призме  $ABCDEF A_1 B_1 C_1 D_1 E_1 F_1$  все ребра равны 5. Найдите тангенс угла  $BE_1 E$ .
38. В правильной шестиугольной призме  $ABCDEF A_1 B_1 C_1 D_1 E_1 F_1$  все ребра равны 26. Найдите тангенс угла  $CF_1 F$ .
39. В правильной шестиугольной призме  $ABCDEF A_1 B_1 C_1 D_1 E_1 F_1$  все ребра равны 21. Найдите тангенс угла  $A_1 D D_1$ .
40. В правильной шестиугольной призме  $ABCDEF A_1 B_1 C_1 D_1 E_1 F_1$  все ребра равны 5. Найдите тангенс угла  $A_1 D D_1$ .
41. В правильной шестиугольной призме  $ABCDEF A_1 B_1 C_1 D_1 E_1 F_1$  все ребра равны 25. Найдите тангенс угла  $B_1 E E_1$ .
42. В правильной шестиугольной призме  $ABCDEF A_1 B_1 C_1 D_1 E_1 F_1$  все ребра равны 49. Найдите тангенс угла  $CF_1 F$ .
43. В правильной шестиугольной призме  $ABCDEF A_1 B_1 C_1 D_1 E_1 F_1$  все ребра равны 35. Найдите тангенс угла  $CF_1 F$ .
44. В правильной шестиугольной призме  $ABCDEF A_1 B_1 C_1 D_1 E_1 F_1$  все ребра равны 8. Найдите тангенс угла  $BE_1 E$ .
45. В правильной шестиугольной призме  $ABCDEF A_1 B_1 C_1 D_1 E_1 F_1$  все ребра равны 9. Найдите тангенс угла  $C_1 F F_1$ .
46. В правильной шестиугольной призме  $ABCDEF A_1 B_1 C_1 D_1 E_1 F_1$  все ребра равны 1. Найдите тангенс угла  $BE_1 E$ .
47. В правильной шестиугольной призме  $ABCDEF A_1 B_1 C_1 D_1 E_1 F_1$  все ребра равны 20. Найдите тангенс угла  $BE_1 E$ .
48. В правильной шестиугольной призме  $ABCDEF A_1 B_1 C_1 D_1 E_1 F_1$  все ребра равны 5. Найдите тангенс угла  $B_1 E E_1$ .
49. В правильной шестиугольной призме  $ABCDEF A_1 B_1 C_1 D_1 E_1 F_1$  все ребра равны 2. Найдите тангенс угла  $B_1 E E_1$ .
50. В правильной шестиугольной призме  $ABCDEF A_1 B_1 C_1 D_1 E_1 F_1$  все ребра равны 2. Найдите тангенс угла  $CF_1 F$ .

51. В правильной шестиугольной призме  $ABCDEF A_1 B_1 C_1 D_1 E_1 F_1$  все ребра равны 19. Найдите тангенс угла  $A_1 D D_1$ .
52. В правильной шестиугольной призме  $ABCDEF A_1 B_1 C_1 D_1 E_1 F_1$  все ребра равны 43. Найдите тангенс угла  $C_1 F F_1$ .
53. В правильной шестиугольной призме  $ABCDEF A_1 B_1 C_1 D_1 E_1 F_1$  все ребра равны 45. Найдите тангенс угла  $C_1 F F_1$ .
54. В правильной шестиугольной призме  $ABCDEF A_1 B_1 C_1 D_1 E_1 F_1$  все ребра равны 37. Найдите тангенс угла  $A_1 D D_1$ .
55. В правильной шестиугольной призме  $ABCDEF A_1 B_1 C_1 D_1 E_1 F_1$  все ребра равны 20. Найдите тангенс угла  $A_1 D D_1$ .
56. В правильной шестиугольной призме  $ABCDEF A_1 B_1 C_1 D_1 E_1 F_1$  все ребра равны 35. Найдите тангенс угла  $B_1 E E_1$ .
57. В правильной шестиугольной призме  $ABCDEF A_1 B_1 C_1 D_1 E_1 F_1$  все ребра равны 13. Найдите тангенс угла  $B E_1 E$ .
58. В правильной шестиугольной призме  $ABCDEF A_1 B_1 C_1 D_1 E_1 F_1$  все ребра равны 32. Найдите тангенс угла  $A D_1 D$ .
59. В правильной шестиугольной призме  $ABCDEF A_1 B_1 C_1 D_1 E_1 F_1$  все ребра равны 33. Найдите тангенс угла  $C_1 F F_1$ .
60. В правильной шестиугольной призме  $ABCDEF A_1 B_1 C_1 D_1 E_1 F_1$  все ребра равны 20. Найдите тангенс угла  $B_1 E E_1$ .
61. В правильной шестиугольной призме  $ABCDEF A_1 B_1 C_1 D_1 E_1 F_1$  все ребра равны 6. Найдите тангенс угла  $A D_1 D$ .
62. В правильной шестиугольной призме  $ABCDEF A_1 B_1 C_1 D_1 E_1 F_1$  все ребра равны 32. Найдите тангенс угла  $C F_1 F$ .
63. В правильной шестиугольной призме  $ABCDEF A_1 B_1 C_1 D_1 E_1 F_1$  все ребра равны 48. Найдите тангенс угла  $B_1 E E_1$ .
64. В правильной шестиугольной призме  $ABCDEF A_1 B_1 C_1 D_1 E_1 F_1$  все ребра равны 24. Найдите тангенс угла  $C_1 F F_1$ .
65. В правильной шестиугольной призме  $ABCDEF A_1 B_1 C_1 D_1 E_1 F_1$  все ребра равны 39. Найдите тангенс угла  $A D_1 D$ .
66. В правильной шестиугольной призме  $ABCDEF A_1 B_1 C_1 D_1 E_1 F_1$  все ребра равны 26. Найдите тангенс угла  $C_1 F F_1$ .
67. В правильной шестиугольной призме  $ABCDEF A_1 B_1 C_1 D_1 E_1 F_1$  все ребра равны 41. Найдите тангенс угла  $C F_1 F$ .
68. В правильной шестиугольной призме  $ABCDEF A_1 B_1 C_1 D_1 E_1 F_1$  все ребра равны 31. Найдите тангенс угла  $C F_1 F$ .
69. В правильной шестиугольной призме  $ABCDEF A_1 B_1 C_1 D_1 E_1 F_1$  все ребра равны 35. Найдите тангенс угла  $B E_1 E$ .

70. В правильной шестиугольной призме  $ABCDEF A_1 B_1 C_1 D_1 E_1 F_1$  все ребра равны 41. Найдите тангенс угла  $BE_1 E$ .
71. В правильной шестиугольной призме  $ABCDEF A_1 B_1 C_1 D_1 E_1 F_1$  все ребра равны 48. Найдите тангенс угла  $A_1 D D_1$ .
72. В правильной шестиугольной призме  $ABCDEF A_1 B_1 C_1 D_1 E_1 F_1$  все ребра равны 12. Найдите тангенс угла  $BE_1 E$ .
73. В правильной шестиугольной призме  $ABCDEF A_1 B_1 C_1 D_1 E_1 F_1$  все ребра равны 22. Найдите тангенс угла  $A_1 D D_1$ .
74. В правильной шестиугольной призме  $ABCDEF A_1 B_1 C_1 D_1 E_1 F_1$  все ребра равны 44. Найдите тангенс угла  $C_1 F F_1$ .
75. В правильной шестиугольной призме  $ABCDEF A_1 B_1 C_1 D_1 E_1 F_1$  все ребра равны 29. Найдите тангенс угла  $CF_1 F$ .
76. В правильной шестиугольной призме  $ABCDEF A_1 B_1 C_1 D_1 E_1 F_1$  все ребра равны 18. Найдите тангенс угла  $AD_1 D$ .
77. В правильной шестиугольной призме  $ABCDEF A_1 B_1 C_1 D_1 E_1 F_1$  все ребра равны 25. Найдите тангенс угла  $AD_1 D$ .
78. В правильной шестиугольной призме  $ABCDEF A_1 B_1 C_1 D_1 E_1 F_1$  все ребра равны 47. Найдите тангенс угла  $B_1 E E_1$ .
79. В правильной шестиугольной призме  $ABCDEF A_1 B_1 C_1 D_1 E_1 F_1$  все ребра равны 14. Найдите тангенс угла  $BE_1 E$ .
80. В правильной шестиугольной призме  $ABCDEF A_1 B_1 C_1 D_1 E_1 F_1$  все ребра равны 31. Найдите тангенс угла  $BE_1 E$ .
81. В правильной шестиугольной призме  $ABCDEF A_1 B_1 C_1 D_1 E_1 F_1$  все ребра равны 14. Найдите тангенс угла  $A_1 D D_1$ .
82. В правильной шестиугольной призме  $ABCDEF A_1 B_1 C_1 D_1 E_1 F_1$  все ребра равны 42. Найдите тангенс угла  $C_1 F F_1$ .
83. В правильной шестиугольной призме  $ABCDEF A_1 B_1 C_1 D_1 E_1 F_1$  все ребра равны 10. Найдите тангенс угла  $AD_1 D$ .
84. В правильной шестиугольной призме  $ABCDEF A_1 B_1 C_1 D_1 E_1 F_1$  все ребра равны 49. Найдите тангенс угла  $BE_1 E$ .
85. В правильной шестиугольной призме  $ABCDEF A_1 B_1 C_1 D_1 E_1 F_1$  все ребра равны 18. Найдите тангенс угла  $BE_1 E$ .
86. В правильной шестиугольной призме  $ABCDEF A_1 B_1 C_1 D_1 E_1 F_1$  все ребра равны 34. Найдите тангенс угла  $A_1 D D_1$ .
87. В правильной шестиугольной призме  $ABCDEF A_1 B_1 C_1 D_1 E_1 F_1$  все ребра равны 48. Найдите тангенс угла  $CF_1 F$ .
88. В правильной шестиугольной призме  $ABCDEF A_1 B_1 C_1 D_1 E_1 F_1$  все ребра равны 24. Найдите тангенс угла  $B_1 E E_1$ .

89. В правильной шестиугольной призме  $ABCDEF A_1 B_1 C_1 D_1 E_1 F_1$  все ребра равны 1. Найдите тангенс угла  $CF_1 F$ .
90. В правильной шестиугольной призме  $ABCDEF A_1 B_1 C_1 D_1 E_1 F_1$  все ребра равны 49. Найдите тангенс угла  $A_1 D D_1$ .
91. В правильной шестиугольной призме  $ABCDEF A_1 B_1 C_1 D_1 E_1 F_1$  все ребра равны 27. Найдите тангенс угла  $CF_1 F$ .
92. В правильной шестиугольной призме  $ABCDEF A_1 B_1 C_1 D_1 E_1 F_1$  все ребра равны 24. Найдите тангенс угла  $BE_1 E$ .
93. В правильной шестиугольной призме  $ABCDEF A_1 B_1 C_1 D_1 E_1 F_1$  все ребра равны 50. Найдите тангенс угла  $CF_1 F$ .
94. В правильной шестиугольной призме  $ABCDEF A_1 B_1 C_1 D_1 E_1 F_1$  все ребра равны 13. Найдите тангенс угла  $CF_1 F$ .
95. В правильной шестиугольной призме  $ABCDEF A_1 B_1 C_1 D_1 E_1 F_1$  все ребра равны 24. Найдите тангенс угла  $A_1 D D_1$ .
96. В правильной шестиугольной призме  $ABCDEF A_1 B_1 C_1 D_1 E_1 F_1$  все ребра равны 19. Найдите тангенс угла  $BE_1 E$ .
97. В правильной шестиугольной призме  $ABCDEF A_1 B_1 C_1 D_1 E_1 F_1$  все ребра равны 21. Найдите тангенс угла  $B_1 E E_1$ .
98. В правильной шестиугольной призме  $ABCDEF A_1 B_1 C_1 D_1 E_1 F_1$  все ребра равны 17. Найдите тангенс угла  $BE_1 E$ .
99. В правильной шестиугольной призме  $ABCDEF A_1 B_1 C_1 D_1 E_1 F_1$  все ребра равны 11. Найдите тангенс угла  $CF_1 F$ .
100. В правильной шестиугольной призме  $ABCDEF A_1 B_1 C_1 D_1 E_1 F_1$  все ребра равны 30. Найдите тангенс угла  $B_1 E E_1$ .
101. В правильной шестиугольной призме  $ABCDEF A_1 B_1 C_1 D_1 E_1 F_1$  все ребра равны 1. Найдите тангенс угла  $C_1 F F_1$ .
102. В правильной шестиугольной призме  $ABCDEF A_1 B_1 C_1 D_1 E_1 F_1$  все ребра равны 20. Найдите тангенс угла  $C_1 F F_1$ .
103. В правильной шестиугольной призме  $ABCDEF A_1 B_1 C_1 D_1 E_1 F_1$  все ребра равны 17. Найдите тангенс угла  $CF_1 F$ .
104. В правильной шестиугольной призме  $ABCDEF A_1 B_1 C_1 D_1 E_1 F_1$  все ребра равны 30. Найдите тангенс угла  $CF_1 F$ .
105. В правильной шестиугольной призме  $ABCDEF A_1 B_1 C_1 D_1 E_1 F_1$  все ребра равны 50. Найдите тангенс угла  $C_1 F F_1$ .
106. В правильной шестиугольной призме  $ABCDEF A_1 B_1 C_1 D_1 E_1 F_1$  все ребра равны 1. Найдите тангенс угла  $B_1 E E_1$ .
107. В правильной шестиугольной призме  $ABCDEF A_1 B_1 C_1 D_1 E_1 F_1$  все ребра равны 24. Найдите тангенс угла  $CF_1 F$ .

108. В правильной шестиугольной призме  $ABCDEF A_1 B_1 C_1 D_1 E_1 F_1$  все ребра равны 10. Найдите тангенс угла  $CF_1 F$ .
109. В правильной шестиугольной призме  $ABCDEF A_1 B_1 C_1 D_1 E_1 F_1$  все ребра равны 10. Найдите тангенс угла  $A_1 D D_1$ .
110. В правильной шестиугольной призме  $ABCDEF A_1 B_1 C_1 D_1 E_1 F_1$  все ребра равны 11. Найдите тангенс угла  $C_1 F F_1$ .
111. В правильной шестиугольной призме  $ABCDEF A_1 B_1 C_1 D_1 E_1 F_1$  все ребра равны 31. Найдите тангенс угла  $AD_1 D$ .
112. В правильной шестиугольной призме  $ABCDEF A_1 B_1 C_1 D_1 E_1 F_1$  все ребра равны 22. Найдите тангенс угла  $BE_1 E$ .
113. В правильной шестиугольной призме  $ABCDEF A_1 B_1 C_1 D_1 E_1 F_1$  все ребра равны 19. Найдите тангенс угла  $B_1 E E_1$ .
114. В правильной шестиугольной призме  $ABCDEF A_1 B_1 C_1 D_1 E_1 F_1$  все ребра равны 13. Найдите тангенс угла  $C_1 F F_1$ .
115. В правильной шестиугольной призме  $ABCDEF A_1 B_1 C_1 D_1 E_1 F_1$  все ребра равны 15. Найдите тангенс угла  $C_1 F F_1$ .
116. В правильной шестиугольной призме  $ABCDEF A_1 B_1 C_1 D_1 E_1 F_1$  все ребра равны 14. Найдите тангенс угла  $C_1 F F_1$ .
117. В правильной шестиугольной призме  $ABCDEF A_1 B_1 C_1 D_1 E_1 F_1$  все ребра равны 42. Найдите тангенс угла  $AD_1 D$ .
118. В правильной шестиугольной призме  $ABCDEF A_1 B_1 C_1 D_1 E_1 F_1$  все ребра равны 17. Найдите тангенс угла  $C_1 F F_1$ .
119. В правильной шестиугольной призме  $ABCDEF A_1 B_1 C_1 D_1 E_1 F_1$  все ребра равны 17. Найдите тангенс угла  $AD_1 D$ .
120. В правильной шестиугольной призме  $ABCDEF A_1 B_1 C_1 D_1 E_1 F_1$  все ребра равны 47. Найдите тангенс угла  $CF_1 F$ .
121. В правильной шестиугольной призме  $ABCDEF A_1 B_1 C_1 D_1 E_1 F_1$  все ребра равны 39. Найдите тангенс угла  $C_1 F F_1$ .
122. В правильной шестиугольной призме  $ABCDEF A_1 B_1 C_1 D_1 E_1 F_1$  все ребра равны 44. Найдите тангенс угла  $B_1 E E_1$ .
123. В правильной шестиугольной призме  $ABCDEF A_1 B_1 C_1 D_1 E_1 F_1$  все ребра равны 33. Найдите тангенс угла  $AD_1 D$ .
124. В правильной шестиугольной призме  $ABCDEF A_1 B_1 C_1 D_1 E_1 F_1$  все ребра равны 5. Найдите тангенс угла  $AD_1 D$ .
125. В правильной шестиугольной призме  $ABCDEF A_1 B_1 C_1 D_1 E_1 F_1$  все ребра равны 27. Найдите тангенс угла  $AD_1 D$ .
126. В правильной шестиугольной призме  $ABCDEF A_1 B_1 C_1 D_1 E_1 F_1$  все ребра равны 36. Найдите тангенс угла  $AD_1 D$ .

127. В правильной шестиугольной призме  $ABCDEF A_1 B_1 C_1 D_1 E_1 F_1$  все ребра равны 6. Найдите тангенс угла  $CF_1 F$ .
128. В правильной шестиугольной призме  $ABCDEF A_1 B_1 C_1 D_1 E_1 F_1$  все ребра равны 41. Найдите тангенс угла  $AD_1 D$ .
129. В правильной шестиугольной призме  $ABCDEF A_1 B_1 C_1 D_1 E_1 F_1$  все ребра равны 42. Найдите тангенс угла  $CF_1 F$ .
130. В правильной шестиугольной призме  $ABCDEF A_1 B_1 C_1 D_1 E_1 F_1$  все ребра равны 4. Найдите тангенс угла  $AD_1 D$ .
131. В правильной шестиугольной призме  $ABCDEF A_1 B_1 C_1 D_1 E_1 F_1$  все ребра равны 27. Найдите тангенс угла  $A_1 DD_1$ .
132. В правильной шестиугольной призме  $ABCDEF A_1 B_1 C_1 D_1 E_1 F_1$  все ребра равны 4. Найдите тангенс угла  $C_1 FF_1$ .
133. В правильной шестиугольной призме  $ABCDEF A_1 B_1 C_1 D_1 E_1 F_1$  все ребра равны 15. Найдите тангенс угла  $A_1 DD_1$ .
134. В правильной шестиугольной призме  $ABCDEF A_1 B_1 C_1 D_1 E_1 F_1$  все ребра равны 46. Найдите тангенс угла  $BE_1 E$ .
135. В правильной шестиугольной призме  $ABCDEF A_1 B_1 C_1 D_1 E_1 F_1$  все ребра равны 37. Найдите тангенс угла  $C_1 FF_1$ .
136. В правильной шестиугольной призме  $ABCDEF A_1 B_1 C_1 D_1 E_1 F_1$  все ребра равны 23. Найдите тангенс угла  $BE_1 E$ .
137. В правильной шестиугольной призме  $ABCDEF A_1 B_1 C_1 D_1 E_1 F_1$  все ребра равны 3. Найдите тангенс угла  $CF_1 F$ .
138. В правильной шестиугольной призме  $ABCDEF A_1 B_1 C_1 D_1 E_1 F_1$  все ребра равны 14. Найдите тангенс угла  $CF_1 F$ .
139. В правильной шестиугольной призме  $ABCDEF A_1 B_1 C_1 D_1 E_1 F_1$  все ребра равны 40. Найдите тангенс угла  $B_1 EE_1$ .
140. В правильной шестиугольной призме  $ABCDEF A_1 B_1 C_1 D_1 E_1 F_1$  все ребра равны 16. Найдите тангенс угла  $B_1 EE_1$ .
141. В правильной шестиугольной призме  $ABCDEF A_1 B_1 C_1 D_1 E_1 F_1$  все ребра равны 15. Найдите тангенс угла  $CF_1 F$ .
142. В правильной шестиугольной призме  $ABCDEF A_1 B_1 C_1 D_1 E_1 F_1$  все ребра равны 13. Найдите тангенс угла  $B_1 EE_1$ .
143. В правильной шестиугольной призме  $ABCDEF A_1 B_1 C_1 D_1 E_1 F_1$  все ребра равны 40. Найдите тангенс угла  $A_1 DD_1$ .
144. В правильной шестиугольной призме  $ABCDEF A_1 B_1 C_1 D_1 E_1 F_1$  все ребра равны 47. Найдите тангенс угла  $C_1 FF_1$ .
145. В правильной шестиугольной призме  $ABCDEF A_1 B_1 C_1 D_1 E_1 F_1$  все ребра равны 23. Найдите тангенс угла  $AD_1 D$ .

146. В правильной шестиугольной призме  $ABCDEF A_1 B_1 C_1 D_1 E_1 F_1$  все ребра равны 45. Найдите тангенс угла  $A_1 D D_1$ .
147. В правильной шестиугольной призме  $ABCDEF A_1 B_1 C_1 D_1 E_1 F_1$  все ребра равны 50. Найдите тангенс угла  $A_1 D D_1$ .
148. В правильной шестиугольной призме  $ABCDEF A_1 B_1 C_1 D_1 E_1 F_1$  все ребра равны 12. Найдите тангенс угла  $C F_1 F$ .
149. В правильной шестиугольной призме  $ABCDEF A_1 B_1 C_1 D_1 E_1 F_1$  все ребра равны 40. Найдите тангенс угла  $C_1 F F_1$ .
150. В правильной шестиугольной призме  $ABCDEF A_1 B_1 C_1 D_1 E_1 F_1$  все ребра равны 38. Найдите тангенс угла  $B E_1 E$ .
151. В правильной шестиугольной призме  $ABCDEF A_1 B_1 C_1 D_1 E_1 F_1$  все ребра равны 15. Найдите тангенс угла  $B E_1 E$ .