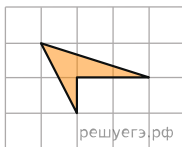
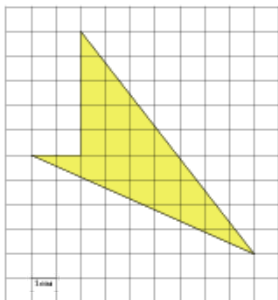


1. Найдите площадь четырехугольника, изображенного на клетчатой бумаге с размером клетки 1 см × 1 см (см. рис.). Ответ дайте в квадратных сантиметрах.



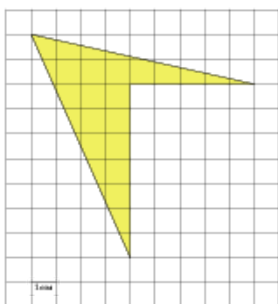
2.

Найдите площадь четырехугольника, изображенного на клетчатой бумаге с размером клетки 1 см × 1 см (см. рис.). Ответ дайте в квадратных сантиметрах.



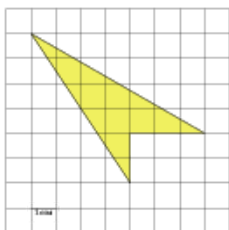
3.

Найдите площадь четырехугольника, изображенного на клетчатой бумаге с размером клетки 1 см × 1 см (см. рис.). Ответ дайте в квадратных сантиметрах.



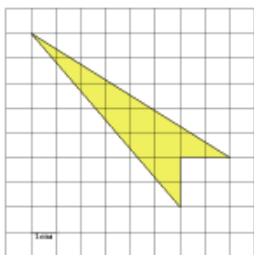
4.

Найдите площадь четырехугольника, изображенного на клетчатой бумаге с размером клетки 1 см × 1 см (см. рис.). Ответ дайте в квадратных сантиметрах.



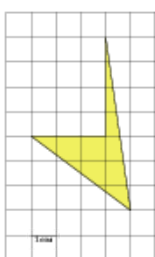
5.

Найдите площадь четырехугольника, изображенного на клетчатой бумаге с размером клетки $1\text{ см} \times 1\text{ см}$ (см. рис.). Ответ дайте в квадратных сантиметрах.



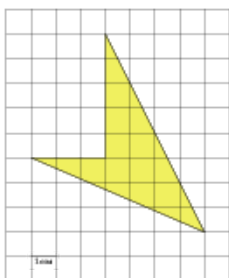
6.

Найдите площадь четырехугольника, изображенного на клетчатой бумаге с размером клетки $1\text{ см} \times 1\text{ см}$ (см. рис.). Ответ дайте в квадратных сантиметрах.



7.

Найдите площадь четырехугольника, изображенного на клетчатой бумаге с размером клетки $1\text{ см} \times 1\text{ см}$ (см. рис.). Ответ дайте в квадратных сантиметрах.



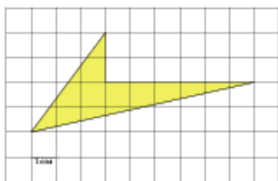
8.

Найдите площадь четырехугольника, изображенного на клетчатой бумаге с размером клетки $1\text{ см} \times 1\text{ см}$ (см. рис.). Ответ дайте в квадратных сантиметрах.



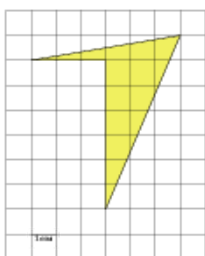
9.

Найдите площадь четырехугольника, изображенного на клетчатой бумаге с размером клетки $1\text{ см} \times 1\text{ см}$ (см. рис.). Ответ дайте в квадратных сантиметрах.



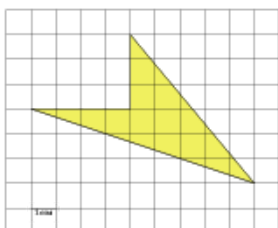
10.

Найдите площадь четырехугольника, изображенного на клетчатой бумаге с размером клетки $1\text{ см} \times 1\text{ см}$ (см. рис.). Ответ дайте в квадратных сантиметрах.



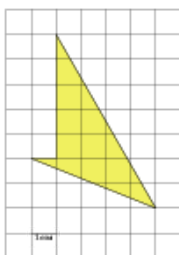
11.

Найдите площадь четырехугольника, изображенного на клетчатой бумаге с размером клетки $1\text{ см} \times 1\text{ см}$ (см. рис.). Ответ дайте в квадратных сантиметрах.



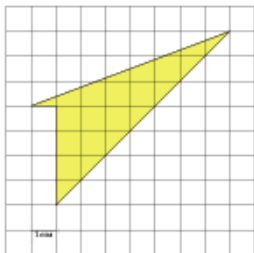
12.

Найдите площадь четырехугольника, изображенного на клетчатой бумаге с размером клетки $1\text{ см} \times 1\text{ см}$ (см. рис.). Ответ дайте в квадратных сантиметрах.



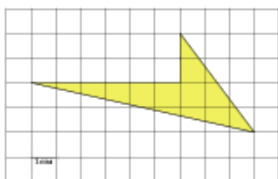
13.

Найдите площадь четырехугольника, изображенного на клетчатой бумаге с размером клетки $1\text{ см} \times 1\text{ см}$ (см. рис.). Ответ дайте в квадратных сантиметрах.



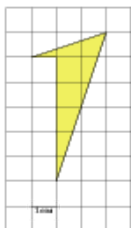
14.

Найдите площадь четырехугольника, изображенного на клетчатой бумаге с размером клетки $1\text{ см} \times 1\text{ см}$ (см. рис.). Ответ дайте в квадратных сантиметрах.



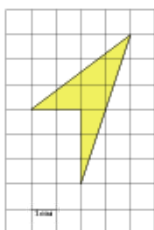
15.

Найдите площадь четырехугольника, изображенного на клетчатой бумаге с размером клетки $1\text{ см} \times 1\text{ см}$ (см. рис.). Ответ дайте в квадратных сантиметрах.



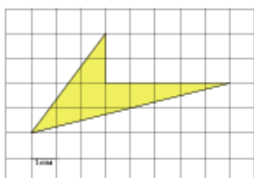
16.

Найдите площадь четырехугольника, изображенного на клетчатой бумаге с размером клетки $1\text{ см} \times 1\text{ см}$ (см. рис.). Ответ дайте в квадратных сантиметрах.



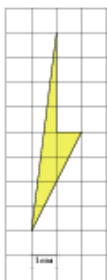
17.

Найдите площадь четырехугольника, изображенного на клетчатой бумаге с размером клетки $1\text{ см} \times 1\text{ см}$ (см. рис.). Ответ дайте в квадратных сантиметрах.



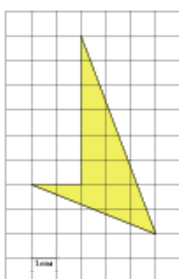
18.

Найдите площадь четырехугольника, изображенного на клетчатой бумаге с размером клетки $1\text{ см} \times 1\text{ см}$ (см. рис.). Ответ дайте в квадратных сантиметрах.



19.

Найдите площадь четырехугольника, изображенного на клетчатой бумаге с размером клетки $1\text{ см} \times 1\text{ см}$ (см. рис.). Ответ дайте в квадратных сантиметрах.



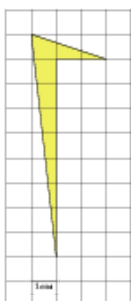
20.

Найдите площадь четырехугольника, изображенного на клетчатой бумаге с размером клетки $1\text{ см} \times 1\text{ см}$ (см. рис.). Ответ дайте в квадратных сантиметрах.



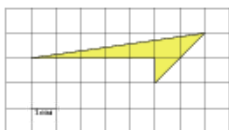
21.

Найдите площадь четырехугольника, изображенного на клетчатой бумаге с размером клетки $1\text{ см} \times 1\text{ см}$ (см. рис.). Ответ дайте в квадратных сантиметрах.



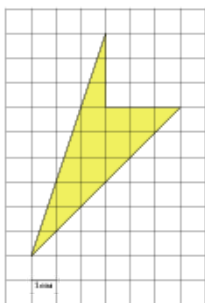
22.

Найдите площадь четырехугольника, изображенного на клетчатой бумаге с размером клетки $1\text{ см} \times 1\text{ см}$ (см. рис.). Ответ дайте в квадратных сантиметрах.



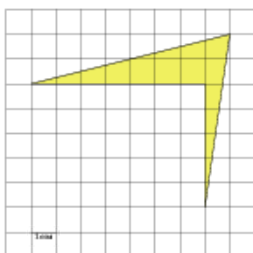
23.

Найдите площадь четырехугольника, изображенного на клетчатой бумаге с размером клетки $1\text{ см} \times 1\text{ см}$ (см. рис.). Ответ дайте в квадратных сантиметрах.



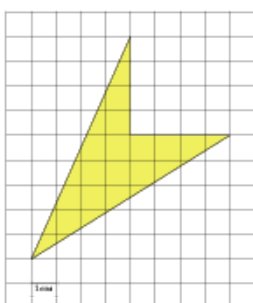
24.

Найдите площадь четырехугольника, изображенного на клетчатой бумаге с размером клетки $1\text{ см} \times 1\text{ см}$ (см. рис.). Ответ дайте в квадратных сантиметрах.



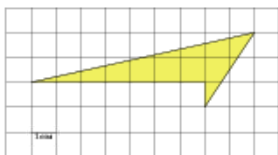
25.

Найдите площадь четырехугольника, изображенного на клетчатой бумаге с размером клетки $1\text{ см} \times 1\text{ см}$ (см. рис.). Ответ дайте в квадратных сантиметрах.



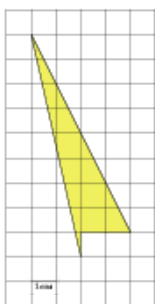
26.

Найдите площадь четырехугольника, изображенного на клетчатой бумаге с размером клетки $1\text{ см} \times 1\text{ см}$ (см. рис.). Ответ дайте в квадратных сантиметрах.



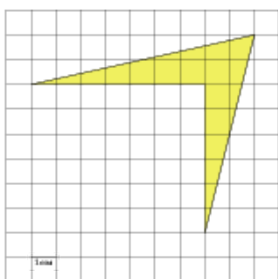
27.

Найдите площадь четырехугольника, изображенного на клетчатой бумаге с размером клетки $1\text{ см} \times 1\text{ см}$ (см. рис.). Ответ дайте в квадратных сантиметрах.



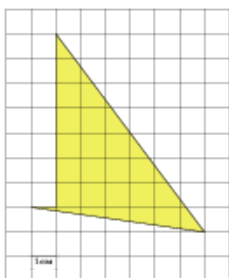
28.

Найдите площадь четырехугольника, изображенного на клетчатой бумаге с размером клетки $1\text{ см} \times 1\text{ см}$ (см. рис.). Ответ дайте в квадратных сантиметрах.



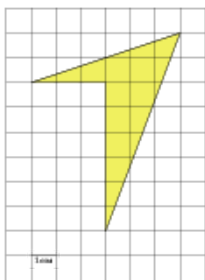
29.

Найдите площадь четырехугольника, изображенного на клетчатой бумаге с размером клетки $1\text{ см} \times 1\text{ см}$ (см. рис.). Ответ дайте в квадратных сантиметрах.



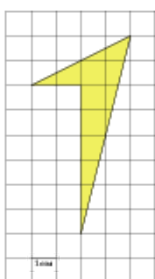
30.

Найдите площадь четырехугольника, изображенного на клетчатой бумаге с размером клетки $1\text{ см} \times 1\text{ см}$ (см. рис.). Ответ дайте в квадратных сантиметрах.



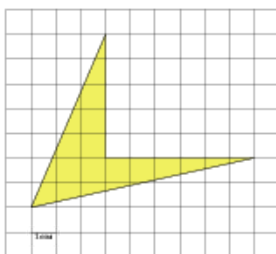
31.

Найдите площадь четырехугольника, изображенного на клетчатой бумаге с размером клетки $1\text{ см} \times 1\text{ см}$ (см. рис.). Ответ дайте в квадратных сантиметрах.



32.

Найдите площадь четырехугольника, изображенного на клетчатой бумаге с размером клетки $1\text{ см} \times 1\text{ см}$ (см. рис.). Ответ дайте в квадратных сантиметрах.



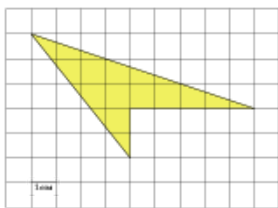
33.

Найдите площадь четырехугольника, изображенного на клетчатой бумаге с размером клетки $1\text{ см} \times 1\text{ см}$ (см. рис.). Ответ дайте в квадратных сантиметрах.



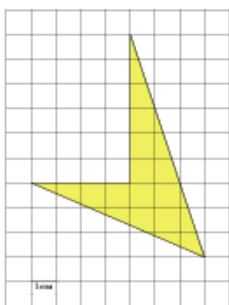
34.

Найдите площадь четырехугольника, изображенного на клетчатой бумаге с размером клетки $1\text{ см} \times 1\text{ см}$ (см. рис.). Ответ дайте в квадратных сантиметрах.



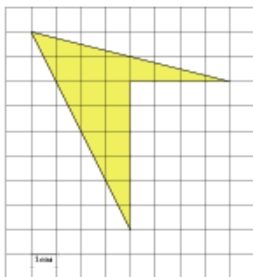
35.

Найдите площадь четырехугольника, изображенного на клетчатой бумаге с размером клетки $1\text{ см} \times 1\text{ см}$ (см. рис.). Ответ дайте в квадратных сантиметрах.



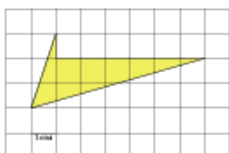
36.

Найдите площадь четырехугольника, изображенного на клетчатой бумаге с размером клетки $1\text{ см} \times 1\text{ см}$ (см. рис.). Ответ дайте в квадратных сантиметрах.



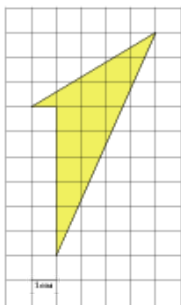
37.

Найдите площадь четырехугольника, изображенного на клетчатой бумаге с размером клетки $1\text{ см} \times 1\text{ см}$ (см. рис.). Ответ дайте в квадратных сантиметрах.



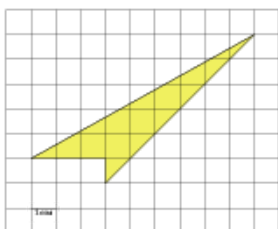
38.

Найдите площадь четырехугольника, изображенного на клетчатой бумаге с размером клетки $1\text{ см} \times 1\text{ см}$ (см. рис.). Ответ дайте в квадратных сантиметрах.



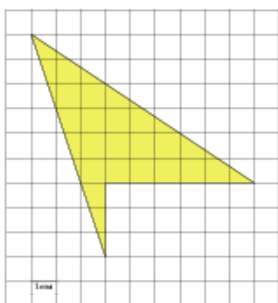
39.

Найдите площадь четырехугольника, изображенного на клетчатой бумаге с размером клетки $1\text{ см} \times 1\text{ см}$ (см. рис.). Ответ дайте в квадратных сантиметрах.



40.

Найдите площадь четырехугольника, изображенного на клетчатой бумаге с размером клетки $1\text{ см} \times 1\text{ см}$ (см. рис.). Ответ дайте в квадратных сантиметрах.



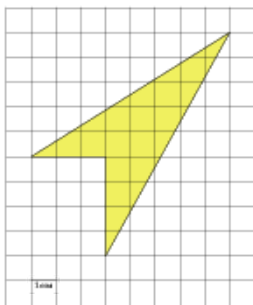
41.

Найдите площадь четырехугольника, изображенного на клетчатой бумаге с размером клетки $1\text{ см} \times 1\text{ см}$ (см. рис.). Ответ дайте в квадратных сантиметрах.



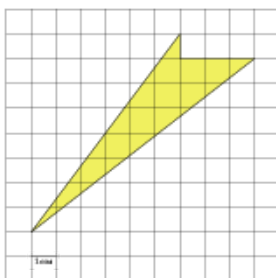
42.

Найдите площадь четырехугольника, изображенного на клетчатой бумаге с размером клетки $1\text{ см} \times 1\text{ см}$ (см. рис.). Ответ дайте в квадратных сантиметрах.



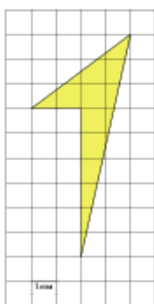
43.

Найдите площадь четырехугольника, изображенного на клетчатой бумаге с размером клетки $1\text{ см} \times 1\text{ см}$ (см. рис.). Ответ дайте в квадратных сантиметрах.



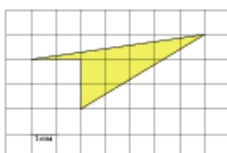
44.

Найдите площадь четырехугольника, изображенного на клетчатой бумаге с размером клетки $1\text{ см} \times 1\text{ см}$ (см. рис.). Ответ дайте в квадратных сантиметрах.



45.

Найдите площадь четырехугольника, изображенного на клетчатой бумаге с размером клетки $1\text{ см} \times 1\text{ см}$ (см. рис.). Ответ дайте в квадратных сантиметрах.



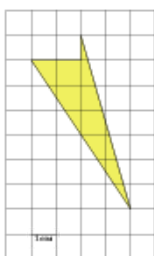
46.

Найдите площадь четырехугольника, изображенного на клетчатой бумаге с размером клетки $1\text{ см} \times 1\text{ см}$ (см. рис.). Ответ дайте в квадратных сантиметрах.



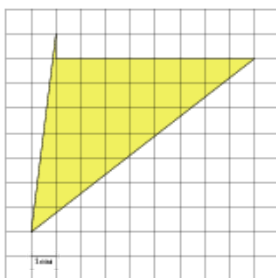
47.

Найдите площадь четырехугольника, изображенного на клетчатой бумаге с размером клетки $1\text{ см} \times 1\text{ см}$ (см. рис.). Ответ дайте в квадратных сантиметрах.



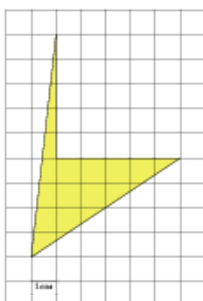
48.

Найдите площадь четырехугольника, изображенного на клетчатой бумаге с размером клетки $1\text{ см} \times 1\text{ см}$ (см. рис.). Ответ дайте в квадратных сантиметрах.



49.

Найдите площадь четырехугольника, изображенного на клетчатой бумаге с размером клетки $1\text{ см} \times 1\text{ см}$ (см. рис.). Ответ дайте в квадратных сантиметрах.



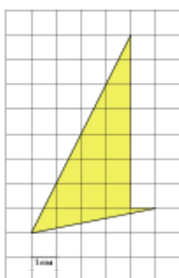
50.

Найдите площадь четырехугольника, изображенного на клетчатой бумаге с размером клетки $1\text{ см} \times 1\text{ см}$ (см. рис.). Ответ дайте в квадратных сантиметрах.



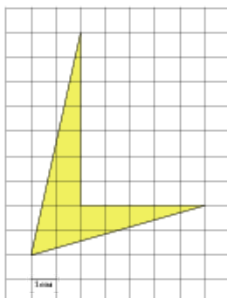
51.

Найдите площадь четырехугольника, изображенного на клетчатой бумаге с размером клетки $1\text{ см} \times 1\text{ см}$ (см. рис.). Ответ дайте в квадратных сантиметрах.



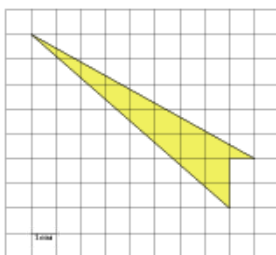
52.

Найдите площадь четырехугольника, изображенного на клетчатой бумаге с размером клетки $1\text{ см} \times 1\text{ см}$ (см. рис.). Ответ дайте в квадратных сантиметрах.



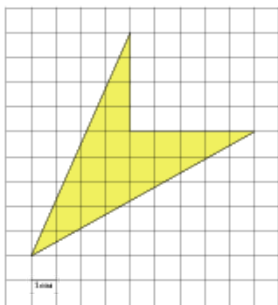
53.

Найдите площадь четырехугольника, изображенного на клетчатой бумаге с размером клетки $1\text{ см} \times 1\text{ см}$ (см. рис.). Ответ дайте в квадратных сантиметрах.



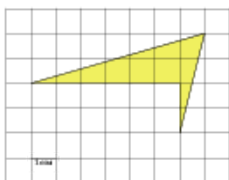
54.

Найдите площадь четырехугольника, изображенного на клетчатой бумаге с размером клетки $1\text{ см} \times 1\text{ см}$ (см. рис.). Ответ дайте в квадратных сантиметрах.



55.

Найдите площадь четырехугольника, изображенного на клетчатой бумаге с размером клетки $1\text{ см} \times 1\text{ см}$ (см. рис.). Ответ дайте в квадратных сантиметрах.



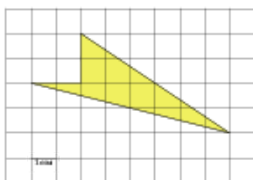
56.

Найдите площадь четырехугольника, изображенного на клетчатой бумаге с размером клетки $1\text{ см} \times 1\text{ см}$ (см. рис.). Ответ дайте в квадратных сантиметрах.



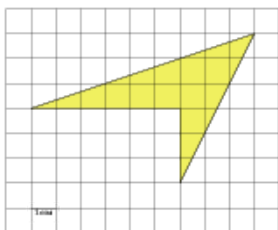
57.

Найдите площадь четырехугольника, изображенного на клетчатой бумаге с размером клетки $1\text{ см} \times 1\text{ см}$ (см. рис.). Ответ дайте в квадратных сантиметрах.



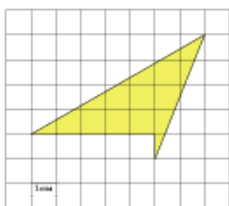
58.

Найдите площадь четырехугольника, изображенного на клетчатой бумаге с размером клетки $1\text{ см} \times 1\text{ см}$ (см. рис.). Ответ дайте в квадратных сантиметрах.



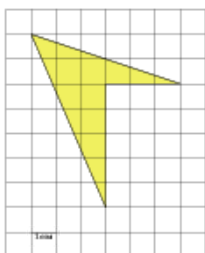
59.

Найдите площадь четырехугольника, изображенного на клетчатой бумаге с размером клетки $1\text{ см} \times 1\text{ см}$ (см. рис.). Ответ дайте в квадратных сантиметрах.



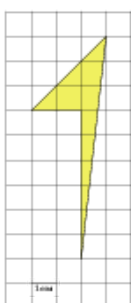
60.

Найдите площадь четырехугольника, изображенного на клетчатой бумаге с размером клетки $1\text{ см} \times 1\text{ см}$ (см. рис.). Ответ дайте в квадратных сантиметрах.



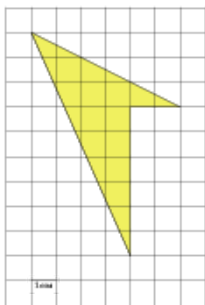
61.

Найдите площадь четырехугольника, изображенного на клетчатой бумаге с размером клетки $1\text{ см} \times 1\text{ см}$ (см. рис.). Ответ дайте в квадратных сантиметрах.



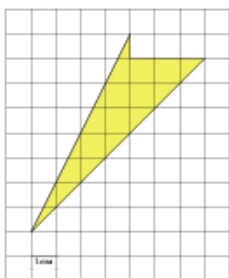
62.

Найдите площадь четырехугольника, изображенного на клетчатой бумаге с размером клетки $1\text{ см} \times 1\text{ см}$ (см. рис.). Ответ дайте в квадратных сантиметрах.



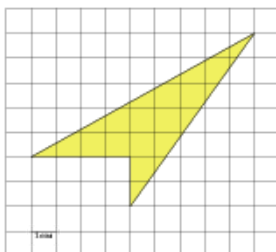
63.

Найдите площадь четырехугольника, изображенного на клетчатой бумаге с размером клетки $1\text{ см} \times 1\text{ см}$ (см. рис.). Ответ дайте в квадратных сантиметрах.



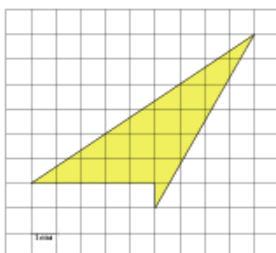
64.

Найдите площадь четырехугольника, изображенного на клетчатой бумаге с размером клетки $1\text{ см} \times 1\text{ см}$ (см. рис.). Ответ дайте в квадратных сантиметрах.



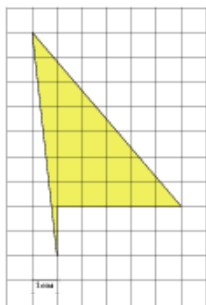
65.

Найдите площадь четырехугольника, изображенного на клетчатой бумаге с размером клетки $1\text{ см} \times 1\text{ см}$ (см. рис.). Ответ дайте в квадратных сантиметрах.



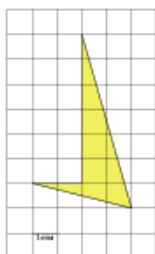
66.

Найдите площадь четырехугольника, изображенного на клетчатой бумаге с размером клетки $1\text{ см} \times 1\text{ см}$ (см. рис.). Ответ дайте в квадратных сантиметрах.



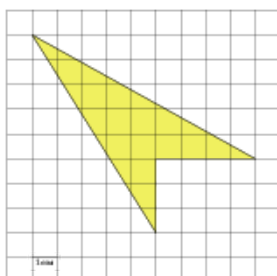
67.

Найдите площадь четырехугольника, изображенного на клетчатой бумаге с размером клетки $1\text{ см} \times 1\text{ см}$ (см. рис.). Ответ дайте в квадратных сантиметрах.



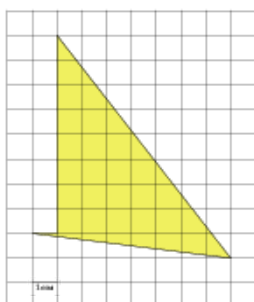
68.

Найдите площадь четырехугольника, изображенного на клетчатой бумаге с размером клетки $1\text{ см} \times 1\text{ см}$ (см. рис.). Ответ дайте в квадратных сантиметрах.



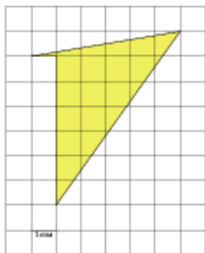
69.

Найдите площадь четырехугольника, изображенного на клетчатой бумаге с размером клетки $1\text{ см} \times 1\text{ см}$ (см. рис.). Ответ дайте в квадратных сантиметрах.




70.

Найдите площадь четырехугольника, изображенного на клетчатой бумаге с размером клетки $1\text{ см} \times 1\text{ см}$ (см. рис.). Ответ дайте в квадратных сантиметрах.



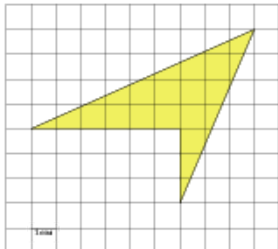
71.

Найдите площадь четырехугольника, изображенного на клетчатой бумаге с размером клетки $1\text{ см} \times 1\text{ см}$ (см. рис.). Ответ дайте в квадратных сантиметрах.



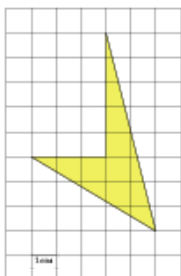
72.

Найдите площадь четырехугольника, изображенного на клетчатой бумаге с размером клетки $1\text{ см} \times 1\text{ см}$ (см. рис.). Ответ дайте в квадратных сантиметрах.



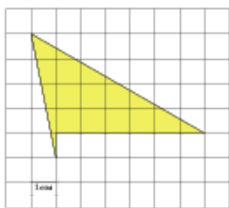
73.

Найдите площадь четырехугольника, изображенного на клетчатой бумаге с размером клетки $1\text{ см} \times 1\text{ см}$ (см. рис.). Ответ дайте в квадратных сантиметрах.



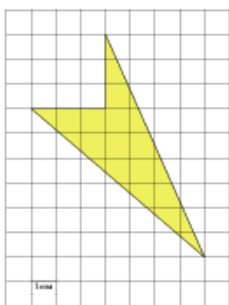
74.

Найдите площадь четырехугольника, изображенного на клетчатой бумаге с размером клетки $1\text{ см} \times 1\text{ см}$ (см. рис.). Ответ дайте в квадратных сантиметрах.



75.

Найдите площадь четырехугольника, изображенного на клетчатой бумаге с размером клетки $1\text{ см} \times 1\text{ см}$ (см. рис.). Ответ дайте в квадратных сантиметрах.



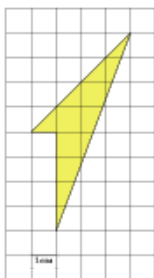
76.

Найдите площадь четырехугольника, изображенного на клетчатой бумаге с размером клетки $1\text{ см} \times 1\text{ см}$ (см. рис.). Ответ дайте в квадратных сантиметрах.



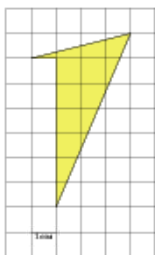
77.

Найдите площадь четырехугольника, изображенного на клетчатой бумаге с размером клетки $1\text{ см} \times 1\text{ см}$ (см. рис.). Ответ дайте в квадратных сантиметрах.



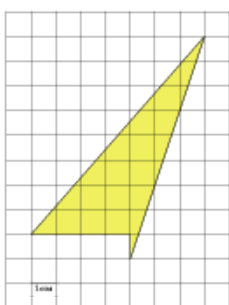
78.

Найдите площадь четырехугольника, изображенного на клетчатой бумаге с размером клетки $1\text{ см} \times 1\text{ см}$ (см. рис.). Ответ дайте в квадратных сантиметрах.



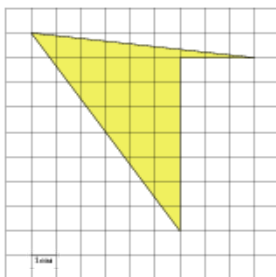
79.

Найдите площадь четырехугольника, изображенного на клетчатой бумаге с размером клетки $1\text{ см} \times 1\text{ см}$ (см. рис.). Ответ дайте в квадратных сантиметрах.



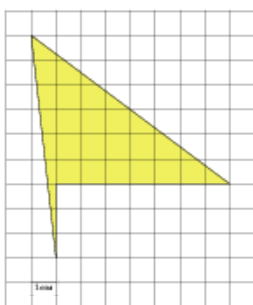
80.

Найдите площадь четырехугольника, изображенного на клетчатой бумаге с размером клетки $1\text{ см} \times 1\text{ см}$ (см. рис.). Ответ дайте в квадратных сантиметрах.



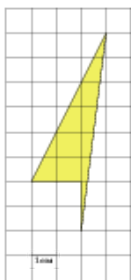
81.

Найдите площадь четырехугольника, изображенного на клетчатой бумаге с размером клетки $1\text{ см} \times 1\text{ см}$ (см. рис.). Ответ дайте в квадратных сантиметрах.



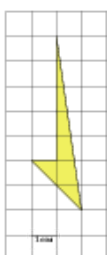
82.

Найдите площадь четырехугольника, изображенного на клетчатой бумаге с размером клетки $1\text{ см} \times 1\text{ см}$ (см. рис.). Ответ дайте в квадратных сантиметрах.



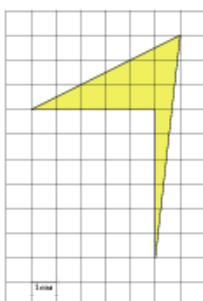
83.

Найдите площадь четырехугольника, изображенного на клетчатой бумаге с размером клетки $1\text{ см} \times 1\text{ см}$ (см. рис.). Ответ дайте в квадратных сантиметрах.



84.

Найдите площадь четырехугольника, изображенного на клетчатой бумаге с размером клетки $1\text{ см} \times 1\text{ см}$ (см. рис.). Ответ дайте в квадратных сантиметрах.



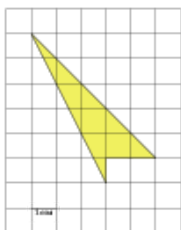
85.

Найдите площадь четырехугольника, изображенного на клетчатой бумаге с размером клетки $1\text{ см} \times 1\text{ см}$ (см. рис.). Ответ дайте в квадратных сантиметрах.



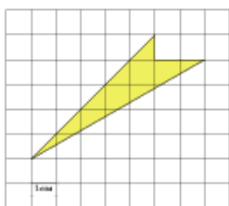
86.

Найдите площадь четырехугольника, изображенного на клетчатой бумаге с размером клетки $1\text{ см} \times 1\text{ см}$ (см. рис.). Ответ дайте в квадратных сантиметрах.



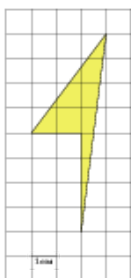
87.

Найдите площадь четырехугольника, изображенного на клетчатой бумаге с размером клетки $1\text{ см} \times 1\text{ см}$ (см. рис.). Ответ дайте в квадратных сантиметрах.



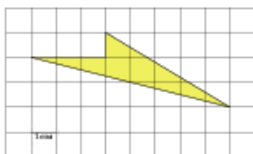
88.

Найдите площадь четырехугольника, изображенного на клетчатой бумаге с размером клетки $1\text{ см} \times 1\text{ см}$ (см. рис.). Ответ дайте в квадратных сантиметрах.



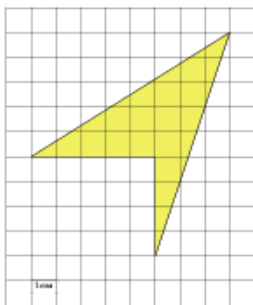
89.

Найдите площадь четырехугольника, изображенного на клетчатой бумаге с размером клетки $1\text{ см} \times 1\text{ см}$ (см. рис.). Ответ дайте в квадратных сантиметрах.



90.

Найдите площадь четырехугольника, изображенного на клетчатой бумаге с размером клетки $1\text{ см} \times 1\text{ см}$ (см. рис.). Ответ дайте в квадратных сантиметрах.



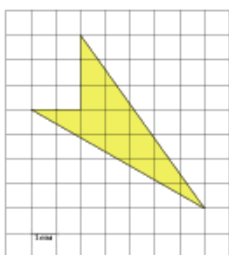
91.

Найдите площадь четырехугольника, изображенного на клетчатой бумаге с размером клетки $1\text{ см} \times 1\text{ см}$ (см. рис.). Ответ дайте в квадратных сантиметрах.



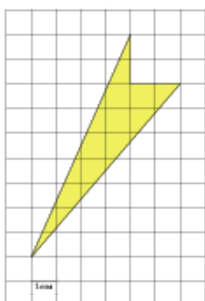
92.

Найдите площадь четырехугольника, изображенного на клетчатой бумаге с размером клетки $1\text{ см} \times 1\text{ см}$ (см. рис.). Ответ дайте в квадратных сантиметрах.



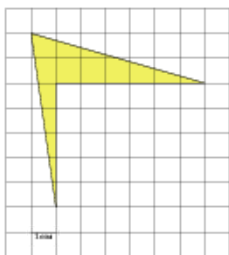
93.

Найдите площадь четырехугольника, изображенного на клетчатой бумаге с размером клетки $1\text{ см} \times 1\text{ см}$ (см. рис.). Ответ дайте в квадратных сантиметрах.



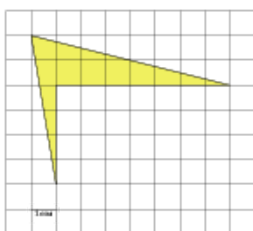
94.

Найдите площадь четырехугольника, изображенного на клетчатой бумаге с размером клетки $1\text{ см} \times 1\text{ см}$ (см. рис.). Ответ дайте в квадратных сантиметрах.



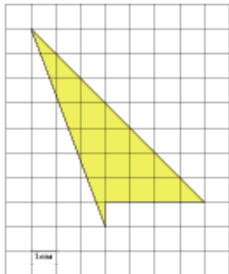
95.

Найдите площадь четырехугольника, изображенного на клетчатой бумаге с размером клетки $1\text{ см} \times 1\text{ см}$ (см. рис.). Ответ дайте в квадратных сантиметрах.



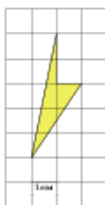
96.

Найдите площадь четырехугольника, изображенного на клетчатой бумаге с размером клетки $1\text{ см} \times 1\text{ см}$ (см. рис.). Ответ дайте в квадратных сантиметрах.



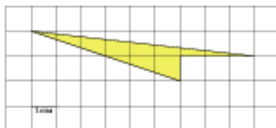
97.

Найдите площадь четырехугольника, изображенного на клетчатой бумаге с размером клетки $1\text{ см} \times 1\text{ см}$ (см. рис.). Ответ дайте в квадратных сантиметрах.



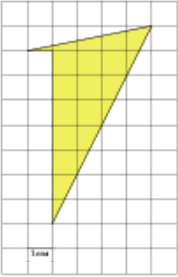
98.

Найдите площадь четырехугольника, изображенного на клетчатой бумаге с размером клетки $1\text{ см} \times 1\text{ см}$ (см. рис.). Ответ дайте в квадратных сантиметрах.



99.

Найдите площадь четырехугольника, изображенного на клетчатой бумаге с размером клетки $1\text{ см} \times 1\text{ см}$ (см. рис.). Ответ дайте в квадратных сантиметрах.



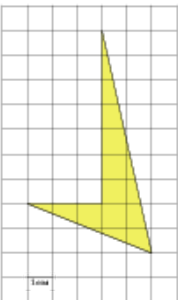
100.

Найдите площадь четырехугольника, изображенного на клетчатой бумаге с размером клетки $1\text{ см} \times 1\text{ см}$ (см. рис.). Ответ дайте в квадратных сантиметрах.



101.

Найдите площадь четырехугольника, изображенного на клетчатой бумаге с размером клетки $1\text{ см} \times 1\text{ см}$ (см. рис.). Ответ дайте в квадратных сантиметрах.



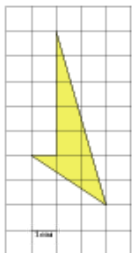
102.

Найдите площадь четырехугольника, изображенного на клетчатой бумаге с размером клетки $1\text{ см} \times 1\text{ см}$ (см. рис.). Ответ дайте в квадратных сантиметрах.



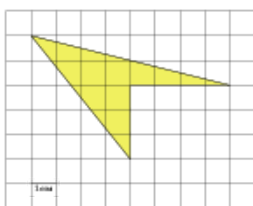
103.

Найдите площадь четырехугольника, изображенного на клетчатой бумаге с размером клетки $1\text{ см} \times 1\text{ см}$ (см. рис.). Ответ дайте в квадратных сантиметрах.



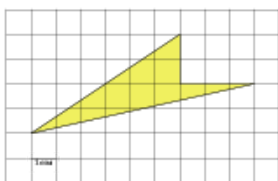
104.

Найдите площадь четырехугольника, изображенного на клетчатой бумаге с размером клетки $1\text{ см} \times 1\text{ см}$ (см. рис.). Ответ дайте в квадратных сантиметрах.



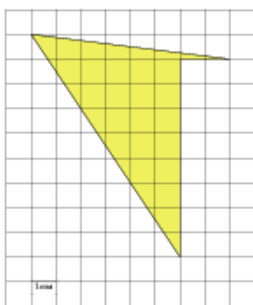
105.

Найдите площадь четырехугольника, изображенного на клетчатой бумаге с размером клетки $1\text{ см} \times 1\text{ см}$ (см. рис.). Ответ дайте в квадратных сантиметрах.



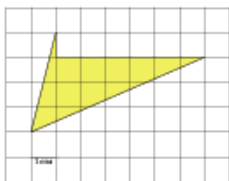
106.

Найдите площадь четырехугольника, изображенного на клетчатой бумаге с размером клетки $1\text{ см} \times 1\text{ см}$ (см. рис.). Ответ дайте в квадратных сантиметрах.



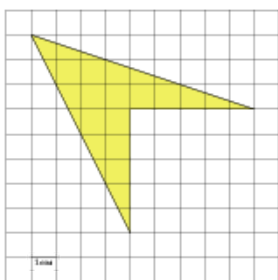
107.

Найдите площадь четырехугольника, изображенного на клетчатой бумаге с размером клетки $1\text{ см} \times 1\text{ см}$ (см. рис.). Ответ дайте в квадратных сантиметрах.



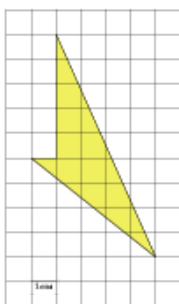
108.

Найдите площадь четырехугольника, изображенного на клетчатой бумаге с размером клетки $1\text{ см} \times 1\text{ см}$ (см. рис.). Ответ дайте в квадратных сантиметрах.



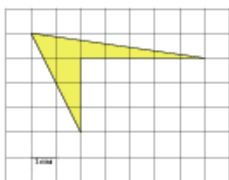
109.

Найдите площадь четырехугольника, изображенного на клетчатой бумаге с размером клетки $1\text{ см} \times 1\text{ см}$ (см. рис.). Ответ дайте в квадратных сантиметрах.



110.

Найдите площадь четырехугольника, изображенного на клетчатой бумаге с размером клетки $1\text{ см} \times 1\text{ см}$ (см. рис.). Ответ дайте в квадратных сантиметрах.



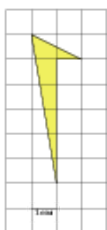
111.

Найдите площадь четырехугольника, изображенного на клетчатой бумаге с размером клетки $1\text{ см} \times 1\text{ см}$ (см. рис.). Ответ дайте в квадратных сантиметрах.



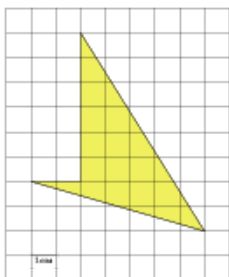
112.

Найдите площадь четырехугольника, изображенного на клетчатой бумаге с размером клетки $1\text{ см} \times 1\text{ см}$ (см. рис.). Ответ дайте в квадратных сантиметрах.



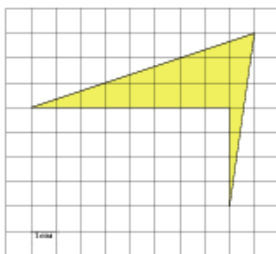
113.

Найдите площадь четырехугольника, изображенного на клетчатой бумаге с размером клетки $1\text{ см} \times 1\text{ см}$ (см. рис.). Ответ дайте в квадратных сантиметрах.



114.

Найдите площадь четырехугольника, изображенного на клетчатой бумаге с размером клетки $1\text{ см} \times 1\text{ см}$ (см. рис.). Ответ дайте в квадратных сантиметрах.



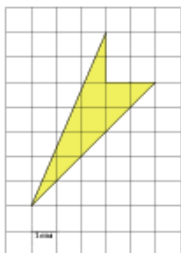
115.

Найдите площадь четырехугольника, изображенного на клетчатой бумаге с размером клетки $1\text{ см} \times 1\text{ см}$ (см. рис.). Ответ дайте в квадратных сантиметрах.



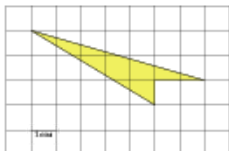
116.

Найдите площадь четырехугольника, изображенного на клетчатой бумаге с размером клетки $1\text{ см} \times 1\text{ см}$ (см. рис.). Ответ дайте в квадратных сантиметрах.



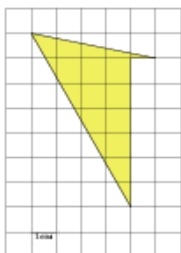
117.

Найдите площадь четырехугольника, изображенного на клетчатой бумаге с размером клетки $1\text{ см} \times 1\text{ см}$ (см. рис.). Ответ дайте в квадратных сантиметрах.



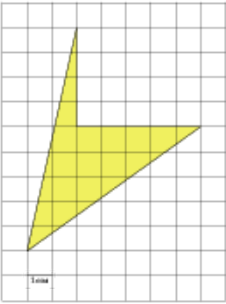
118.

Найдите площадь четырехугольника, изображенного на клетчатой бумаге с размером клетки $1\text{ см} \times 1\text{ см}$ (см. рис.). Ответ дайте в квадратных сантиметрах.



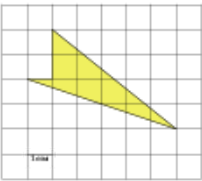
119.

Найдите площадь четырехугольника, изображенного на клетчатой бумаге с размером клетки $1\text{ см} \times 1\text{ см}$ (см. рис.). Ответ дайте в квадратных сантиметрах.



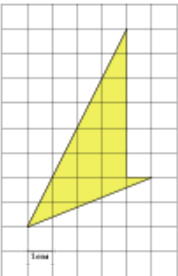
120.

Найдите площадь четырехугольника, изображенного на клетчатой бумаге с размером клетки $1\text{ см} \times 1\text{ см}$ (см. рис.). Ответ дайте в квадратных сантиметрах.



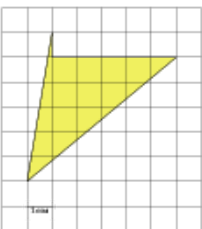
121.

Найдите площадь четырехугольника, изображенного на клетчатой бумаге с размером клетки $1\text{ см} \times 1\text{ см}$ (см. рис.). Ответ дайте в квадратных сантиметрах.



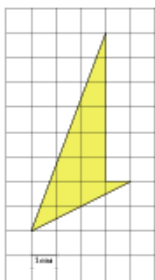
122.

Найдите площадь четырехугольника, изображенного на клетчатой бумаге с размером клетки $1\text{ см} \times 1\text{ см}$ (см. рис.). Ответ дайте в квадратных сантиметрах.



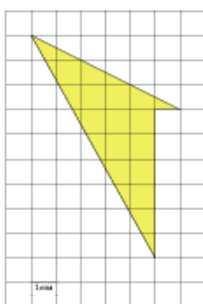
123.

Найдите площадь четырехугольника, изображенного на клетчатой бумаге с размером клетки $1\text{ см} \times 1\text{ см}$ (см. рис.). Ответ дайте в квадратных сантиметрах.



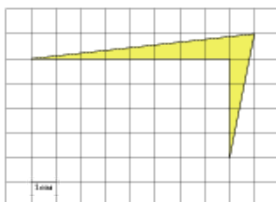
124.

Найдите площадь четырехугольника, изображенного на клетчатой бумаге с размером клетки $1\text{ см} \times 1\text{ см}$ (см. рис.). Ответ дайте в квадратных сантиметрах.



125.

Найдите площадь четырехугольника, изображенного на клетчатой бумаге с размером клетки $1\text{ см} \times 1\text{ см}$ (см. рис.). Ответ дайте в квадратных сантиметрах.



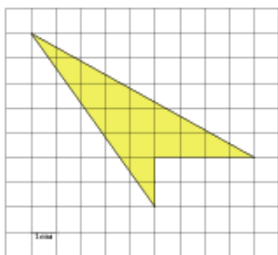
126.

Найдите площадь четырехугольника, изображенного на клетчатой бумаге с размером клетки $1\text{ см} \times 1\text{ см}$ (см. рис.). Ответ дайте в квадратных сантиметрах.



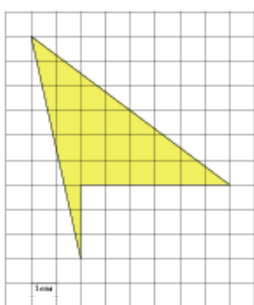
127.

Найдите площадь четырехугольника, изображенного на клетчатой бумаге с размером клетки $1\text{ см} \times 1\text{ см}$ (см. рис.). Ответ дайте в квадратных сантиметрах.



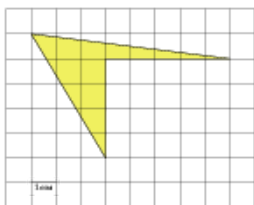
128.

Найдите площадь четырехугольника, изображенного на клетчатой бумаге с размером клетки $1\text{ см} \times 1\text{ см}$ (см. рис.). Ответ дайте в квадратных сантиметрах.



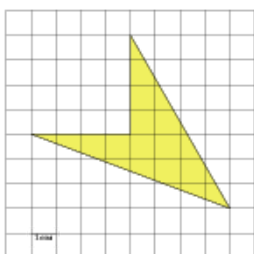
129.

Найдите площадь четырехугольника, изображенного на клетчатой бумаге с размером клетки $1\text{ см} \times 1\text{ см}$ (см. рис.). Ответ дайте в квадратных сантиметрах.



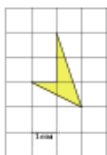
130.

Найдите площадь четырехугольника, изображенного на клетчатой бумаге с размером клетки $1\text{ см} \times 1\text{ см}$ (см. рис.). Ответ дайте в квадратных сантиметрах.



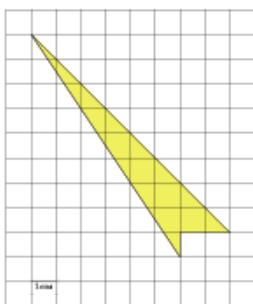
131.

Найдите площадь четырехугольника, изображенного на клетчатой бумаге с размером клетки $1\text{ см} \times 1\text{ см}$ (см. рис.). Ответ дайте в квадратных сантиметрах.



132.

Найдите площадь четырехугольника, изображенного на клетчатой бумаге с размером клетки $1\text{ см} \times 1\text{ см}$ (см. рис.). Ответ дайте в квадратных сантиметрах.



133.

Найдите площадь четырехугольника, изображенного на клетчатой бумаге с размером клетки $1\text{ см} \times 1\text{ см}$ (см. рис.). Ответ дайте в квадратных сантиметрах.



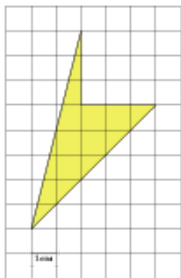
134.

Найдите площадь четырехугольника, изображенного на клетчатой бумаге с размером клетки $1\text{ см} \times 1\text{ см}$ (см. рис.). Ответ дайте в квадратных сантиметрах.



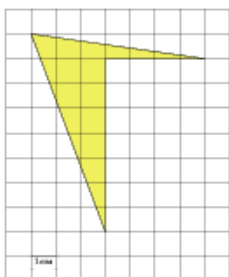
135.

Найдите площадь четырехугольника, изображенного на клетчатой бумаге с размером клетки $1\text{ см} \times 1\text{ см}$ (см. рис.). Ответ дайте в квадратных сантиметрах.



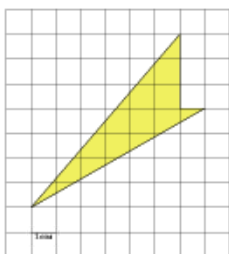
136.

Найдите площадь четырехугольника, изображенного на клетчатой бумаге с размером клетки $1\text{ см} \times 1\text{ см}$ (см. рис.). Ответ дайте в квадратных сантиметрах.



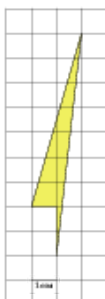
137.

Найдите площадь четырехугольника, изображенного на клетчатой бумаге с размером клетки $1\text{ см} \times 1\text{ см}$ (см. рис.). Ответ дайте в квадратных сантиметрах.



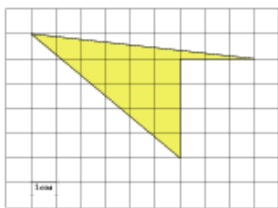
138.

Найдите площадь четырехугольника, изображенного на клетчатой бумаге с размером клетки $1\text{ см} \times 1\text{ см}$ (см. рис.). Ответ дайте в квадратных сантиметрах.



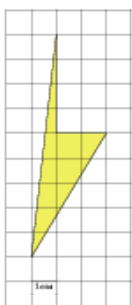
139.

Найдите площадь четырехугольника, изображенного на клетчатой бумаге с размером клетки $1\text{ см} \times 1\text{ см}$ (см. рис.). Ответ дайте в квадратных сантиметрах.



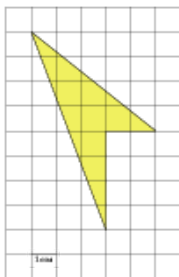
140.

Найдите площадь четырехугольника, изображенного на клетчатой бумаге с размером клетки $1\text{ см} \times 1\text{ см}$ (см. рис.). Ответ дайте в квадратных сантиметрах.



141.

Найдите площадь четырехугольника, изображенного на клетчатой бумаге с размером клетки $1\text{ см} \times 1\text{ см}$ (см. рис.). Ответ дайте в квадратных сантиметрах.



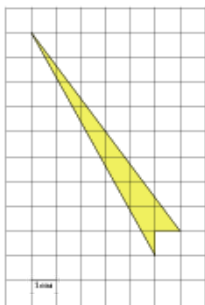
142.

Найдите площадь четырехугольника, изображенного на клетчатой бумаге с размером клетки $1\text{ см} \times 1\text{ см}$ (см. рис.). Ответ дайте в квадратных сантиметрах.



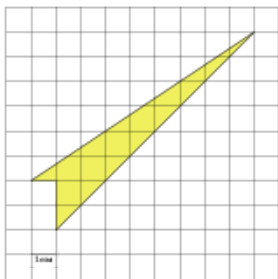
143.

Найдите площадь четырехугольника, изображенного на клетчатой бумаге с размером клетки $1\text{ см} \times 1\text{ см}$ (см. рис.). Ответ дайте в квадратных сантиметрах.



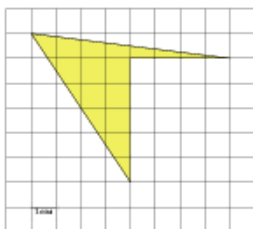
144.

Найдите площадь четырехугольника, изображенного на клетчатой бумаге с размером клетки $1\text{ см} \times 1\text{ см}$ (см. рис.). Ответ дайте в квадратных сантиметрах.



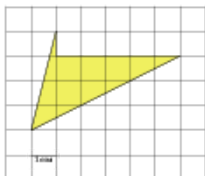
145.

Найдите площадь четырехугольника, изображенного на клетчатой бумаге с размером клетки $1\text{ см} \times 1\text{ см}$ (см. рис.). Ответ дайте в квадратных сантиметрах.



146.

Найдите площадь четырехугольника, изображенного на клетчатой бумаге с размером клетки $1\text{ см} \times 1\text{ см}$ (см. рис.). Ответ дайте в квадратных сантиметрах.



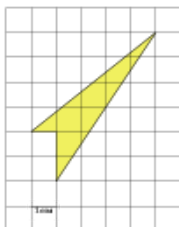
147.

Найдите площадь четырехугольника, изображенного на клетчатой бумаге с размером клетки $1\text{ см} \times 1\text{ см}$ (см. рис.). Ответ дайте в квадратных сантиметрах.



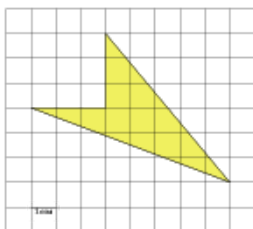
148.

Найдите площадь четырехугольника, изображенного на клетчатой бумаге с размером клетки $1\text{ см} \times 1\text{ см}$ (см. рис.). Ответ дайте в квадратных сантиметрах.



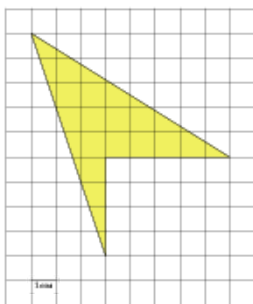
149.

Найдите площадь четырехугольника, изображенного на клетчатой бумаге с размером клетки $1\text{ см} \times 1\text{ см}$ (см. рис.). Ответ дайте в квадратных сантиметрах.



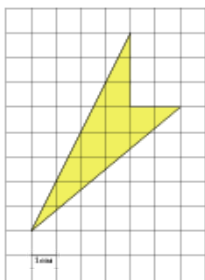
150.

Найдите площадь четырехугольника, изображенного на клетчатой бумаге с размером клетки $1\text{ см} \times 1\text{ см}$ (см. рис.). Ответ дайте в квадратных сантиметрах.



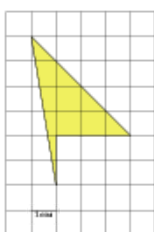
151.

Найдите площадь четырехугольника, изображенного на клетчатой бумаге с размером клетки $1\text{ см} \times 1\text{ см}$ (см. рис.). Ответ дайте в квадратных сантиметрах.



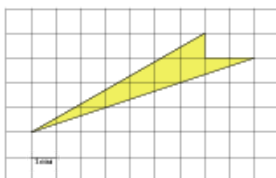
152.

Найдите площадь четырехугольника, изображенного на клетчатой бумаге с размером клетки $1\text{ см} \times 1\text{ см}$ (см. рис.). Ответ дайте в квадратных сантиметрах.



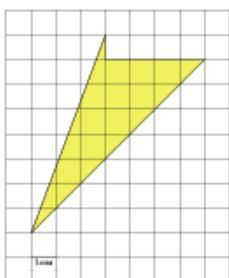
153.

Найдите площадь четырехугольника, изображенного на клетчатой бумаге с размером клетки $1\text{ см} \times 1\text{ см}$ (см. рис.). Ответ дайте в квадратных сантиметрах.



154.

Найдите площадь четырехугольника, изображенного на клетчатой бумаге с размером клетки $1\text{ см} \times 1\text{ см}$ (см. рис.). Ответ дайте в квадратных сантиметрах.



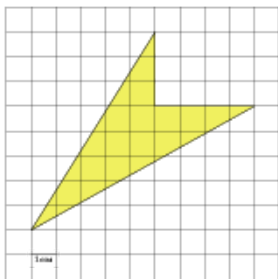
155.

Найдите площадь четырехугольника, изображенного на клетчатой бумаге с размером клетки $1\text{ см} \times 1\text{ см}$ (см. рис.). Ответ дайте в квадратных сантиметрах.



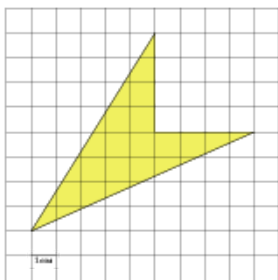
156.

Найдите площадь четырехугольника, изображенного на клетчатой бумаге с размером клетки $1\text{ см} \times 1\text{ см}$ (см. рис.). Ответ дайте в квадратных сантиметрах.



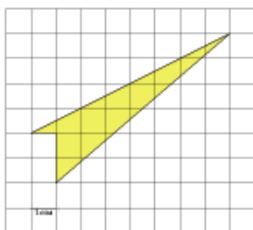
157.

Найдите площадь четырехугольника, изображенного на клетчатой бумаге с размером клетки $1\text{ см} \times 1\text{ см}$ (см. рис.). Ответ дайте в квадратных сантиметрах.



158.

Найдите площадь четырехугольника, изображенного на клетчатой бумаге с размером клетки $1\text{ см} \times 1\text{ см}$ (см. рис.). Ответ дайте в квадратных сантиметрах.



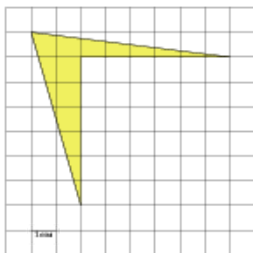
159.

Найдите площадь четырехугольника, изображенного на клетчатой бумаге с размером клетки $1\text{ см} \times 1\text{ см}$ (см. рис.). Ответ дайте в квадратных сантиметрах.




160.

Найдите площадь четырехугольника, изображенного на клетчатой бумаге с размером клетки $1\text{ см} \times 1\text{ см}$ (см. рис.). Ответ дайте в квадратных сантиметрах.



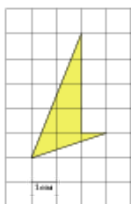
161.

Найдите площадь четырехугольника, изображенного на клетчатой бумаге с размером клетки $1\text{ см} \times 1\text{ см}$ (см. рис.). Ответ дайте в квадратных сантиметрах.



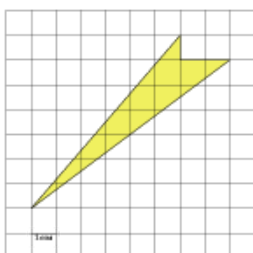
162.

Найдите площадь четырехугольника, изображенного на клетчатой бумаге с размером клетки $1\text{ см} \times 1\text{ см}$ (см. рис.). Ответ дайте в квадратных сантиметрах.



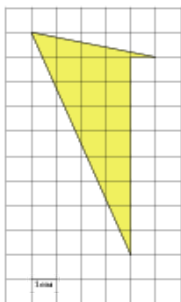
163.

Найдите площадь четырехугольника, изображенного на клетчатой бумаге с размером клетки $1\text{ см} \times 1\text{ см}$ (см. рис.). Ответ дайте в квадратных сантиметрах.



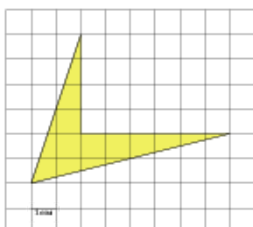
164.

Найдите площадь четырехугольника, изображенного на клетчатой бумаге с размером клетки $1\text{ см} \times 1\text{ см}$ (см. рис.). Ответ дайте в квадратных сантиметрах.



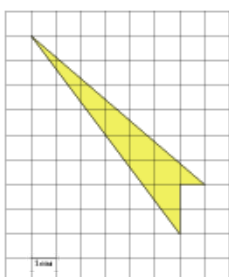
165.

Найдите площадь четырехугольника, изображенного на клетчатой бумаге с размером клетки $1\text{ см} \times 1\text{ см}$ (см. рис.). Ответ дайте в квадратных сантиметрах.



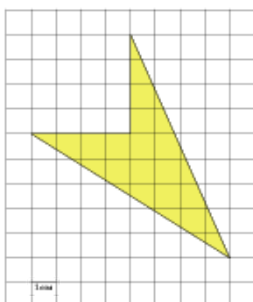
166.

Найдите площадь четырехугольника, изображенного на клетчатой бумаге с размером клетки $1\text{ см} \times 1\text{ см}$ (см. рис.). Ответ дайте в квадратных сантиметрах.




167.

Найдите площадь четырехугольника, изображенного на клетчатой бумаге с размером клетки $1\text{ см} \times 1\text{ см}$ (см. рис.). Ответ дайте в квадратных сантиметрах.



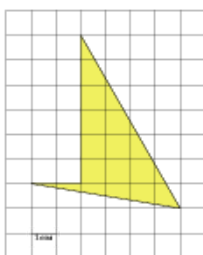
168.

Найдите площадь четырехугольника, изображенного на клетчатой бумаге с размером клетки 1 см × 1 см (см. рис.). Ответ дайте в квадратных сантиметрах.



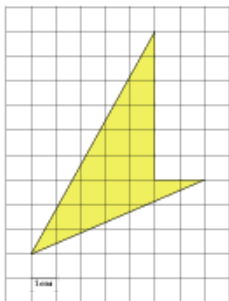
169.

Найдите площадь четырехугольника, изображенного на клетчатой бумаге с размером клетки 1 см × 1 см (см. рис.). Ответ дайте в квадратных сантиметрах.



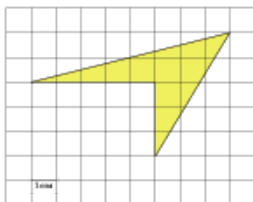
170.

Найдите площадь четырехугольника, изображенного на клетчатой бумаге с размером клетки 1 см × 1 см (см. рис.). Ответ дайте в квадратных сантиметрах.



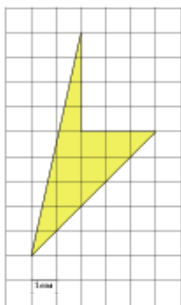
171.

Найдите площадь четырехугольника, изображенного на клетчатой бумаге с размером клетки 1 см × 1 см (см. рис.). Ответ дайте в квадратных сантиметрах.



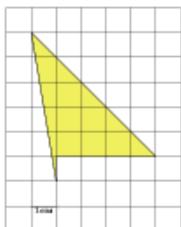
172.

Найдите площадь четырехугольника, изображенного на клетчатой бумаге с размером клетки $1\text{ см} \times 1\text{ см}$ (см. рис.). Ответ дайте в квадратных сантиметрах.



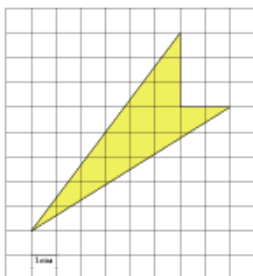
173.

Найдите площадь четырехугольника, изображенного на клетчатой бумаге с размером клетки $1\text{ см} \times 1\text{ см}$ (см. рис.). Ответ дайте в квадратных сантиметрах.



174.

Найдите площадь четырехугольника, изображенного на клетчатой бумаге с размером клетки $1\text{ см} \times 1\text{ см}$ (см. рис.). Ответ дайте в квадратных сантиметрах.



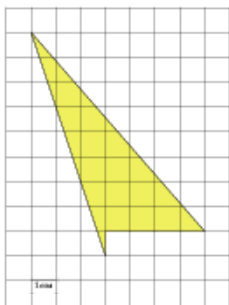
175.

Найдите площадь четырехугольника, изображенного на клетчатой бумаге с размером клетки $1\text{ см} \times 1\text{ см}$ (см. рис.). Ответ дайте в квадратных сантиметрах.



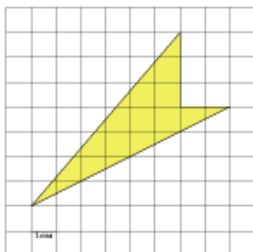
176.

Найдите площадь четырехугольника, изображенного на клетчатой бумаге с размером клетки $1\text{ см} \times 1\text{ см}$ (см. рис.). Ответ дайте в квадратных сантиметрах.



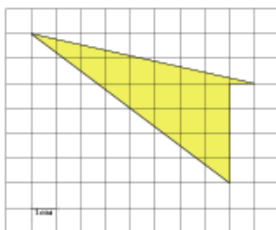
177.

Найдите площадь четырехугольника, изображенного на клетчатой бумаге с размером клетки $1\text{ см} \times 1\text{ см}$ (см. рис.). Ответ дайте в квадратных сантиметрах.



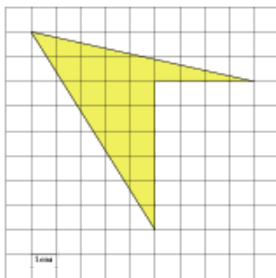
178.

Найдите площадь четырехугольника, изображенного на клетчатой бумаге с размером клетки $1\text{ см} \times 1\text{ см}$ (см. рис.). Ответ дайте в квадратных сантиметрах.



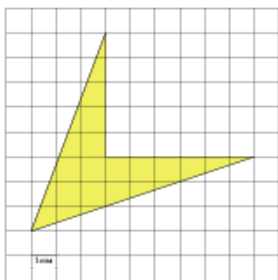
179.

Найдите площадь четырехугольника, изображенного на клетчатой бумаге с размером клетки $1\text{ см} \times 1\text{ см}$ (см. рис.). Ответ дайте в квадратных сантиметрах.



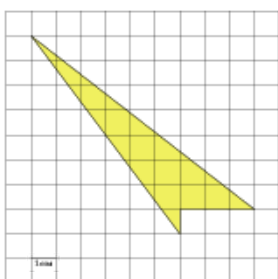
180.

Найдите площадь четырехугольника, изображенного на клетчатой бумаге с размером клетки $1\text{ см} \times 1\text{ см}$ (см. рис.). Ответ дайте в квадратных сантиметрах.



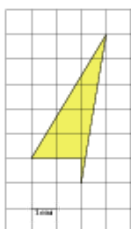
181.

Найдите площадь четырехугольника, изображенного на клетчатой бумаге с размером клетки $1\text{ см} \times 1\text{ см}$ (см. рис.). Ответ дайте в квадратных сантиметрах.




182.

Найдите площадь четырехугольника, изображенного на клетчатой бумаге с размером клетки $1\text{ см} \times 1\text{ см}$ (см. рис.). Ответ дайте в квадратных сантиметрах.



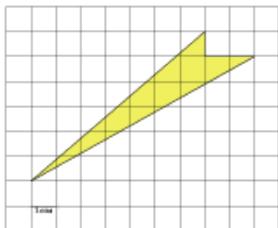
183.

Найдите площадь четырехугольника, изображенного на клетчатой бумаге с размером клетки $1\text{ см} \times 1\text{ см}$ (см. рис.). Ответ дайте в квадратных сантиметрах.



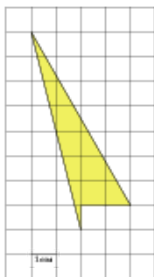
184.

Найдите площадь четырехугольника, изображенного на клетчатой бумаге с размером клетки $1\text{ см} \times 1\text{ см}$ (см. рис.). Ответ дайте в квадратных сантиметрах.



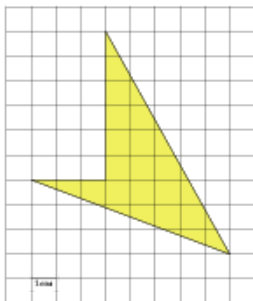
185.

Найдите площадь четырехугольника, изображенного на клетчатой бумаге с размером клетки $1\text{ см} \times 1\text{ см}$ (см. рис.). Ответ дайте в квадратных сантиметрах.




186.

Найдите площадь четырехугольника, изображенного на клетчатой бумаге с размером клетки $1\text{ см} \times 1\text{ см}$ (см. рис.). Ответ дайте в квадратных сантиметрах.



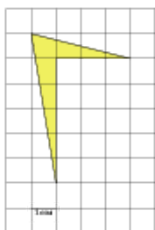
187.

Найдите площадь четырехугольника, изображенного на клетчатой бумаге с размером клетки $1\text{ см} \times 1\text{ см}$ (см. рис.). Ответ дайте в квадратных сантиметрах.



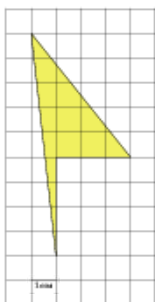
188.

Найдите площадь четырехугольника, изображенного на клетчатой бумаге с размером клетки $1\text{ см} \times 1\text{ см}$ (см. рис.). Ответ дайте в квадратных сантиметрах.



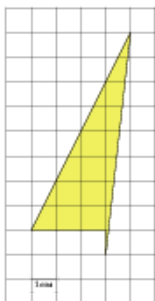
189.

Найдите площадь четырехугольника, изображенного на клетчатой бумаге с размером клетки $1\text{ см} \times 1\text{ см}$ (см. рис.). Ответ дайте в квадратных сантиметрах.



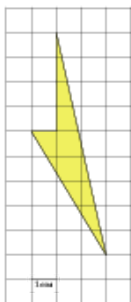
190.

Найдите площадь четырехугольника, изображенного на клетчатой бумаге с размером клетки $1\text{ см} \times 1\text{ см}$ (см. рис.). Ответ дайте в квадратных сантиметрах.



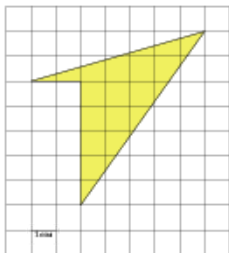
191.

Найдите площадь четырехугольника, изображенного на клетчатой бумаге с размером клетки $1\text{ см} \times 1\text{ см}$ (см. рис.). Ответ дайте в квадратных сантиметрах.



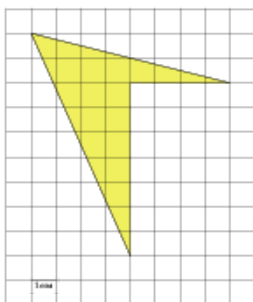
192.

Найдите площадь четырехугольника, изображенного на клетчатой бумаге с размером клетки 1 см × 1 см (см. рис.). Ответ дайте в квадратных сантиметрах.



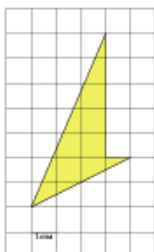
193.

Найдите площадь четырехугольника, изображенного на клетчатой бумаге с размером клетки 1 см × 1 см (см. рис.). Ответ дайте в квадратных сантиметрах.



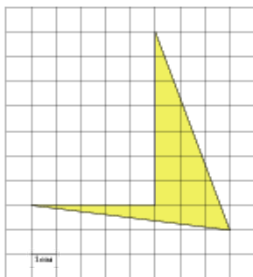
194.

Найдите площадь четырехугольника, изображенного на клетчатой бумаге с размером клетки 1 см × 1 см (см. рис.). Ответ дайте в квадратных сантиметрах.



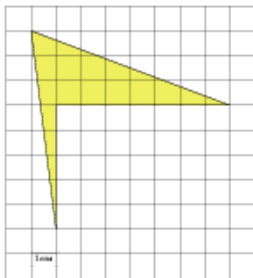
195.

Найдите площадь четырехугольника, изображенного на клетчатой бумаге с размером клетки 1 см × 1 см (см. рис.). Ответ дайте в квадратных сантиметрах.



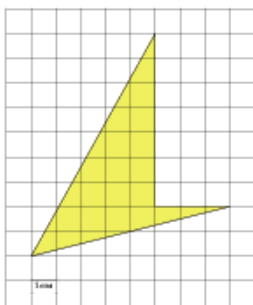
196.

Найдите площадь четырехугольника, изображенного на клетчатой бумаге с размером клетки 1 см × 1 см (см. рис.). Ответ дайте в квадратных сантиметрах.



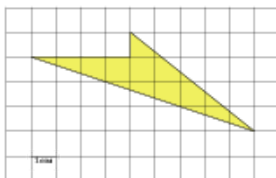
197.

Найдите площадь четырехугольника, изображенного на клетчатой бумаге с размером клетки 1 см × 1 см (см. рис.). Ответ дайте в квадратных сантиметрах.



198.

Найдите площадь четырехугольника, изображенного на клетчатой бумаге с размером клетки 1 см × 1 см (см. рис.). Ответ дайте в квадратных сантиметрах.



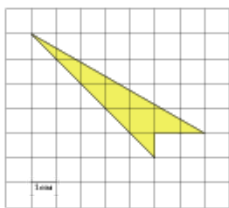
199.

Найдите площадь четырехугольника, изображенного на клетчатой бумаге с размером клетки 1 см × 1 см (см. рис.). Ответ дайте в квадратных сантиметрах.



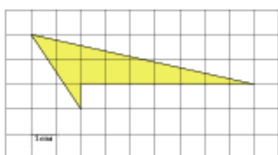
200.

Найдите площадь четырехугольника, изображенного на клетчатой бумаге с размером клетки $1\text{ см} \times 1\text{ см}$ (см. рис.). Ответ дайте в квадратных сантиметрах.



201.

Найдите площадь четырехугольника, изображенного на клетчатой бумаге с размером клетки $1\text{ см} \times 1\text{ см}$ (см. рис.). Ответ дайте в квадратных сантиметрах.



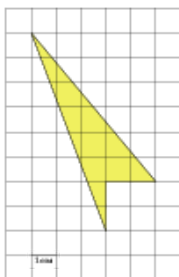
202.

Найдите площадь четырехугольника, изображенного на клетчатой бумаге с размером клетки $1\text{ см} \times 1\text{ см}$ (см. рис.). Ответ дайте в квадратных сантиметрах.



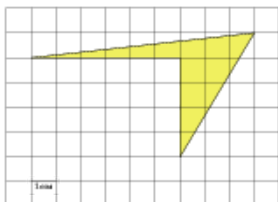
203.

Найдите площадь четырехугольника, изображенного на клетчатой бумаге с размером клетки $1\text{ см} \times 1\text{ см}$ (см. рис.). Ответ дайте в квадратных сантиметрах.



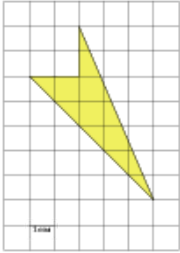
204.

Найдите площадь четырехугольника, изображенного на клетчатой бумаге с размером клетки $1\text{ см} \times 1\text{ см}$ (см. рис.). Ответ дайте в квадратных сантиметрах.




205.

Найдите площадь четырехугольника, изображенного на клетчатой бумаге с размером клетки $1\text{ см} \times 1\text{ см}$ (см. рис.). Ответ дайте в квадратных сантиметрах.



206.

Найдите площадь четырехугольника, изображенного на клетчатой бумаге с размером клетки $1\text{ см} \times 1\text{ см}$ (см. рис.). Ответ дайте в квадратных сантиметрах.



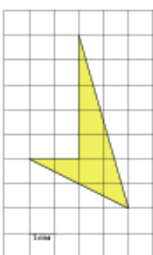
207.

Найдите площадь четырехугольника, изображенного на клетчатой бумаге с размером клетки $1\text{ см} \times 1\text{ см}$ (см. рис.). Ответ дайте в квадратных сантиметрах.



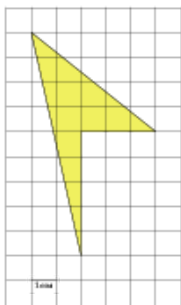
208.

Найдите площадь четырехугольника, изображенного на клетчатой бумаге с размером клетки $1\text{ см} \times 1\text{ см}$ (см. рис.). Ответ дайте в квадратных сантиметрах.



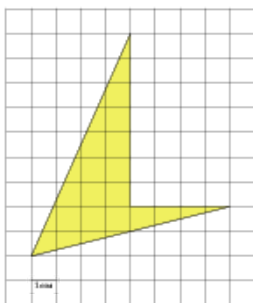
209.

Найдите площадь четырехугольника, изображенного на клетчатой бумаге с размером клетки $1\text{ см} \times 1\text{ см}$ (см. рис.). Ответ дайте в квадратных сантиметрах.



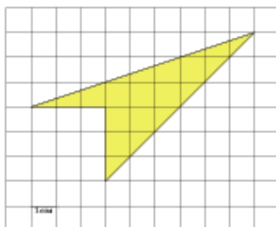
210.

Найдите площадь четырехугольника, изображенного на клетчатой бумаге с размером клетки $1\text{ см} \times 1\text{ см}$ (см. рис.). Ответ дайте в квадратных сантиметрах.



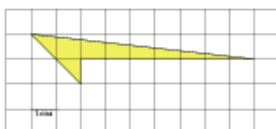
211.

Найдите площадь четырехугольника, изображенного на клетчатой бумаге с размером клетки $1\text{ см} \times 1\text{ см}$ (см. рис.). Ответ дайте в квадратных сантиметрах.



212.

Найдите площадь четырехугольника, изображенного на клетчатой бумаге с размером клетки $1\text{ см} \times 1\text{ см}$ (см. рис.). Ответ дайте в квадратных сантиметрах.



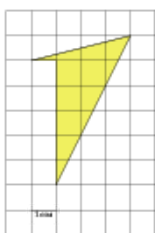
213.

Найдите площадь четырехугольника, изображенного на клетчатой бумаге с размером клетки $1\text{ см} \times 1\text{ см}$ (см. рис.). Ответ дайте в квадратных сантиметрах.



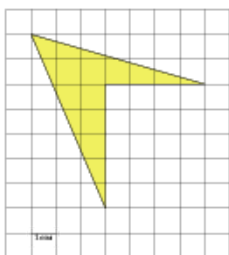
214.

Найдите площадь четырехугольника, изображенного на клетчатой бумаге с размером клетки $1\text{ см} \times 1\text{ см}$ (см. рис.). Ответ дайте в квадратных сантиметрах.



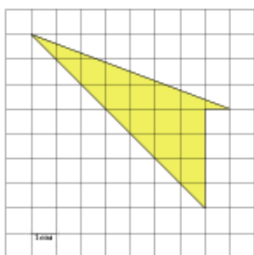
215.

Найдите площадь четырехугольника, изображенного на клетчатой бумаге с размером клетки $1\text{ см} \times 1\text{ см}$ (см. рис.). Ответ дайте в квадратных сантиметрах.



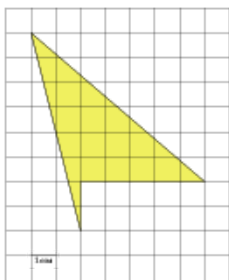
216.

Найдите площадь четырехугольника, изображенного на клетчатой бумаге с размером клетки $1\text{ см} \times 1\text{ см}$ (см. рис.). Ответ дайте в квадратных сантиметрах.



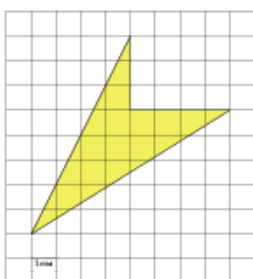
217.

Найдите площадь четырехугольника, изображенного на клетчатой бумаге с размером клетки $1\text{ см} \times 1\text{ см}$ (см. рис.). Ответ дайте в квадратных сантиметрах.



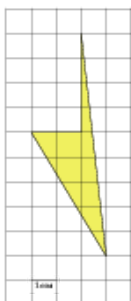
218.

Найдите площадь четырехугольника, изображенного на клетчатой бумаге с размером клетки $1\text{ см} \times 1\text{ см}$ (см. рис.). Ответ дайте в квадратных сантиметрах.



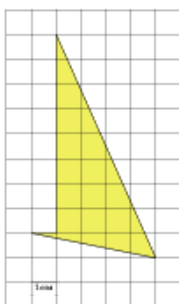
219.

Найдите площадь четырехугольника, изображенного на клетчатой бумаге с размером клетки $1\text{ см} \times 1\text{ см}$ (см. рис.). Ответ дайте в квадратных сантиметрах.



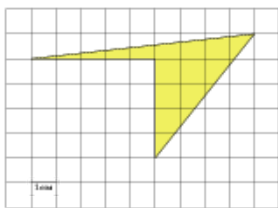
220.

Найдите площадь четырехугольника, изображенного на клетчатой бумаге с размером клетки $1\text{ см} \times 1\text{ см}$ (см. рис.). Ответ дайте в квадратных сантиметрах.



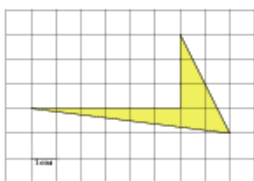
221.

Найдите площадь четырехугольника, изображенного на клетчатой бумаге с размером клетки $1\text{ см} \times 1\text{ см}$ (см. рис.). Ответ дайте в квадратных сантиметрах.



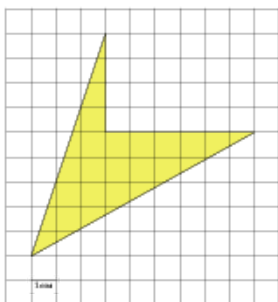
222.

Найдите площадь четырехугольника, изображенного на клетчатой бумаге с размером клетки $1\text{ см} \times 1\text{ см}$ (см. рис.). Ответ дайте в квадратных сантиметрах.



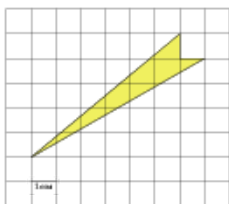
223.

Найдите площадь четырехугольника, изображенного на клетчатой бумаге с размером клетки $1\text{ см} \times 1\text{ см}$ (см. рис.). Ответ дайте в квадратных сантиметрах.



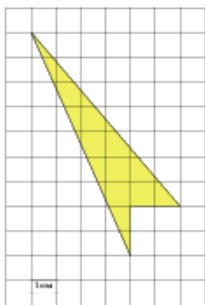
224.

Найдите площадь четырехугольника, изображенного на клетчатой бумаге с размером клетки $1\text{ см} \times 1\text{ см}$ (см. рис.). Ответ дайте в квадратных сантиметрах.



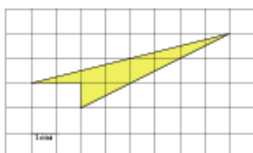
225.

Найдите площадь четырехугольника, изображенного на клетчатой бумаге с размером клетки $1\text{ см} \times 1\text{ см}$ (см. рис.). Ответ дайте в квадратных сантиметрах.



226.

Найдите площадь четырехугольника, изображенного на клетчатой бумаге с размером клетки $1\text{ см} \times 1\text{ см}$ (см. рис.). Ответ дайте в квадратных сантиметрах.



227.

Найдите площадь четырехугольника, изображенного на клетчатой бумаге с размером клетки $1\text{ см} \times 1\text{ см}$ (см. рис.). Ответ дайте в квадратных сантиметрах.



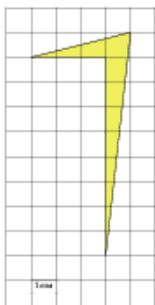
228.

Найдите площадь четырехугольника, изображенного на клетчатой бумаге с размером клетки $1\text{ см} \times 1\text{ см}$ (см. рис.). Ответ дайте в квадратных сантиметрах.



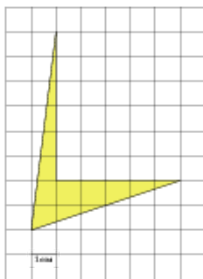
229.

Найдите площадь четырехугольника, изображенного на клетчатой бумаге с размером клетки 1 см \times 1 см (см. рис.). Ответ дайте в квадратных сантиметрах.



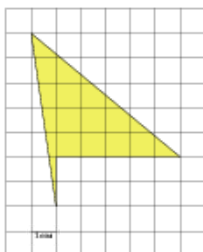
230.

Найдите площадь четырехугольника, изображенного на клетчатой бумаге с размером клетки 1 см \times 1 см (см. рис.). Ответ дайте в квадратных сантиметрах.



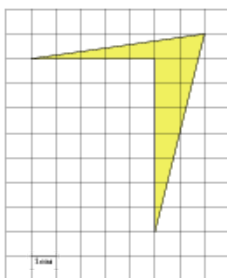
231.

Найдите площадь четырехугольника, изображенного на клетчатой бумаге с размером клетки 1 см \times 1 см (см. рис.). Ответ дайте в квадратных сантиметрах.



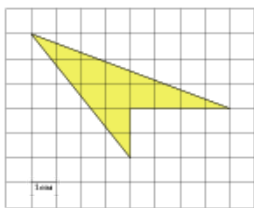
232.

Найдите площадь четырехугольника, изображенного на клетчатой бумаге с размером клетки 1 см \times 1 см (см. рис.). Ответ дайте в квадратных сантиметрах.



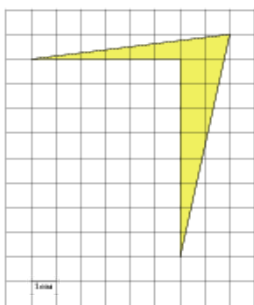
233.

Найдите площадь четырехугольника, изображенного на клетчатой бумаге с размером клетки $1\text{ см} \times 1\text{ см}$ (см. рис.). Ответ дайте в квадратных сантиметрах.



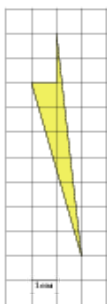
234.

Найдите площадь четырехугольника, изображенного на клетчатой бумаге с размером клетки $1\text{ см} \times 1\text{ см}$ (см. рис.). Ответ дайте в квадратных сантиметрах.



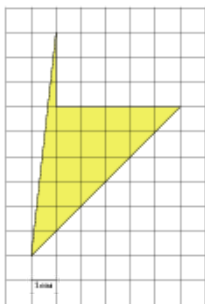
235.

Найдите площадь четырехугольника, изображенного на клетчатой бумаге с размером клетки $1\text{ см} \times 1\text{ см}$ (см. рис.). Ответ дайте в квадратных сантиметрах.



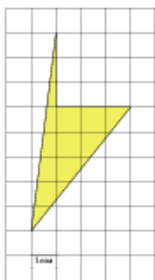
236.

Найдите площадь четырехугольника, изображенного на клетчатой бумаге с размером клетки $1\text{ см} \times 1\text{ см}$ (см. рис.). Ответ дайте в квадратных сантиметрах.



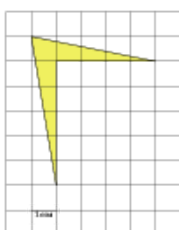
237.

Найдите площадь четырехугольника, изображенного на клетчатой бумаге с размером клетки $1\text{ см} \times 1\text{ см}$ (см. рис.). Ответ дайте в квадратных сантиметрах.



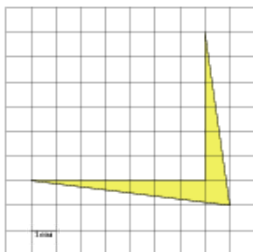
238.

Найдите площадь четырехугольника, изображенного на клетчатой бумаге с размером клетки $1\text{ см} \times 1\text{ см}$ (см. рис.). Ответ дайте в квадратных сантиметрах.



239.

Найдите площадь четырехугольника, изображенного на клетчатой бумаге с размером клетки $1\text{ см} \times 1\text{ см}$ (см. рис.). Ответ дайте в квадратных сантиметрах.



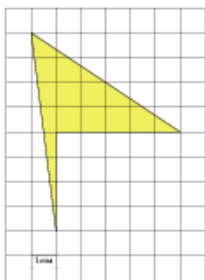
240.

Найдите площадь четырехугольника, изображенного на клетчатой бумаге с размером клетки $1\text{ см} \times 1\text{ см}$ (см. рис.). Ответ дайте в квадратных сантиметрах.



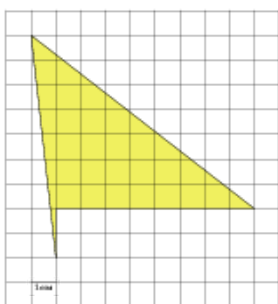
241.

Найдите площадь четырехугольника, изображенного на клетчатой бумаге с размером клетки $1\text{ см} \times 1\text{ см}$ (см. рис.). Ответ дайте в квадратных сантиметрах.



242.

Найдите площадь четырехугольника, изображенного на клетчатой бумаге с размером клетки $1\text{ см} \times 1\text{ см}$ (см. рис.). Ответ дайте в квадратных сантиметрах.




243.

Найдите площадь четырехугольника, изображенного на клетчатой бумаге с размером клетки $1\text{ см} \times 1\text{ см}$ (см. рис.). Ответ дайте в квадратных сантиметрах.



244.

Найдите площадь четырехугольника, изображенного на клетчатой бумаге с размером клетки $1\text{ см} \times 1\text{ см}$ (см. рис.). Ответ дайте в квадратных сантиметрах.



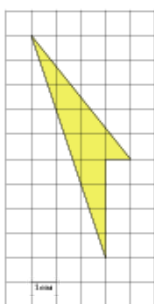
245.

Найдите площадь четырехугольника, изображенного на клетчатой бумаге с размером клетки $1\text{ см} \times 1\text{ см}$ (см. рис.). Ответ дайте в квадратных сантиметрах.



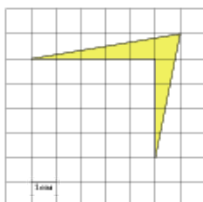
246.

Найдите площадь четырехугольника, изображенного на клетчатой бумаге с размером клетки $1\text{ см} \times 1\text{ см}$ (см. рис.). Ответ дайте в квадратных сантиметрах.



247.

Найдите площадь четырехугольника, изображенного на клетчатой бумаге с размером клетки $1\text{ см} \times 1\text{ см}$ (см. рис.). Ответ дайте в квадратных сантиметрах.



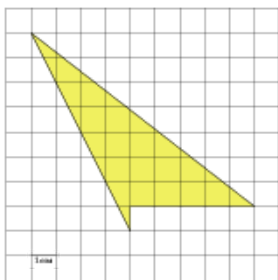
248.

Найдите площадь четырехугольника, изображенного на клетчатой бумаге с размером клетки $1\text{ см} \times 1\text{ см}$ (см. рис.). Ответ дайте в квадратных сантиметрах.



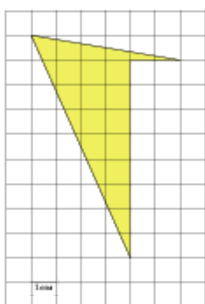
249.

Найдите площадь четырехугольника, изображенного на клетчатой бумаге с размером клетки $1\text{ см} \times 1\text{ см}$ (см. рис.). Ответ дайте в квадратных сантиметрах.



250.

Найдите площадь четырехугольника, изображенного на клетчатой бумаге с размером клетки $1\text{ см} \times 1\text{ см}$ (см. рис.). Ответ дайте в квадратных сантиметрах.



251.

Найдите площадь четырехугольника, изображенного на клетчатой бумаге с размером клетки $1\text{ см} \times 1\text{ см}$ (см. рис.). Ответ дайте в квадратных сантиметрах.

