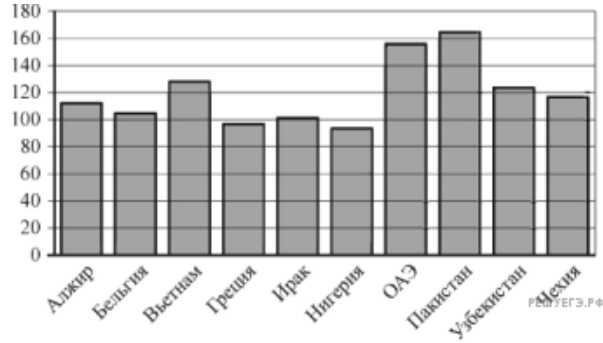


При выполнении заданий с кратким ответом впишите в поле для ответа цифру, которая соответствует номеру правильного ответа, или число, слово, последовательность букв (слов) или цифр. Ответ следует записывать без пробелов и каких-либо дополнительных символов. Дробную часть отделяйте от целой десятичной запятой. Единицы измерений писать не нужно.

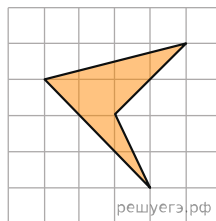
Если вариант задан учителем, вы можете вписать или загрузить в систему ответы к заданиям с развернутым ответом. Учитель увидит результаты выполнения заданий с кратким ответом и сможет оценить загруженные ответы к заданиям с развернутым ответом. Выставленные учителем баллы отобразятся в вашей статистике.

1. На день рождения полагается дарить букет из нечетного числа цветов. Тюльпаны стоят 30 рублей за штуку. У Вани есть 500 рублей. Из какого наибольшего числа тюльпанов он может купить букет Маше на день рождения?

2. На диаграмме показано распределение выбросов углекислого газа в атмосферу в 10 странах мира (в миллионах тонн) за 2008 год. Среди представленных стран первое место по объёму выбросов занимал Пакистан, десятое место — Нигерия. Какое место среди представленных стран занимала Чехия?



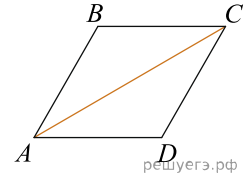
3. Найдите площадь четырехугольника, изображенного на клетчатой бумаге с размером клетки 1 см × 1 см (см. рис.). Ответ дайте в квадратных сантиметрах.



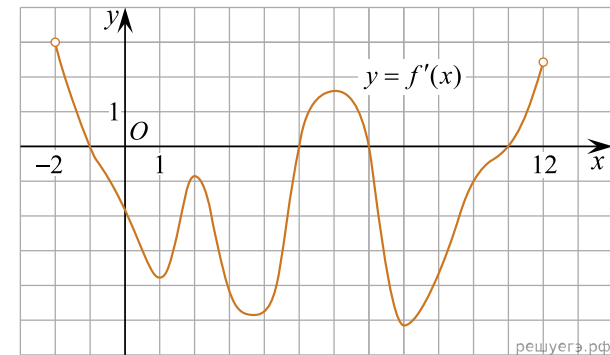
4. В некотором городе из 5000 появившихся на свет младенцев 2512 мальчиков. Найдите частоту рождения девочек в этом городе. Результат округлите до тысячных.

5. Найдите корень уравнения $\sqrt{\frac{2x+5}{3}} = 5$.

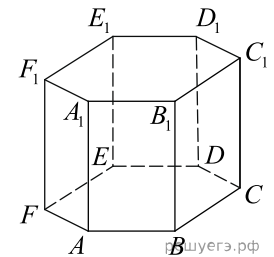
6. Найдите большую диагональ ромба, сторона которого равна $\sqrt{3}$, а острый угол равен 60° .



7. На рисунке изображен график производной функции $f(x)$, определенной на интервале $(-2; 12)$. Найдите промежутки убывания функции $f(x)$. В ответе укажите длину наибольшего из них.



8. Найдите объем многогранника, вершинами которого являются точки $A, B, D, E, A_1, B_1, D_1, E_1$ правильной шестиугольной призмы $ABCDEF A_1 B_1 C_1 D_1 E_1 F_1$, площадь основания которой равна 6, а боковое ребро равно 2.



9. Найдите $\operatorname{tg} \alpha$, если $\sin \alpha = -\frac{5}{\sqrt{26}}$ и $\alpha \in \left(\pi; \frac{3\pi}{2}\right)$

10. Независимое агентство намерено ввести рейтинг новостных интернет-изданий на основе оценок информативности In , оперативности Op , объективности публикаций Tr , а также качества сайта Q . Каждый отдельный показатель оценивается читателями по 5-балльной шкале целыми числами от 1 до 5.

Аналитики, составляющие формулу рейтинга, считают, что объективность ценится втрое, а информативность публикаций — вдвое дороже, чем оперативность и качество сайта. Таким образом, формула приняла вид

$$R = \frac{2In + Op + 3Tr + Q}{A}.$$

Каким должно быть число A , чтобы издание, у которого все оценки наибольшие, получило бы рейтинг 1?

11. Из двух городов, расстояние между которыми равно 560 км, навстречу друг другу одновременно выехали два автомобиля. Через сколько часов автомобили встретятся, если их скорости равны 65 км/ч и 75 км/ч?

12. Найдите точку минимума функции $y = -\frac{x^2 + 1}{x}$.

13. а) Решите уравнение $\cos 2x = \sin\left(x + \frac{\pi}{2}\right)$.

б) Найдите корни этого уравнения, принадлежащие промежутку $[-2\pi; -\pi]$.

14. В правильной четырехугольной призме $ABCD A_1 B_1 C_1 D_1$ точка K делит боковое ребро AA_1 в отношении $AK : KA_1 = 1 : 2$. Через точки B и K проведена плоскость α , параллельная прямой AC и пересекающая ребро DD_1 в точке M .

а) Докажите, что плоскость α делит ребро DD_1 в отношении $DM : MD_1 = 2 : 1$.

б) Найдите площадь сечения, если известно, что $AB = 4, AA_1 = 6$.

15. Решите неравенство $\frac{10^x}{2(\log_2^2(x+1)^2) \log_3(x+2)} \leq \frac{(15 \cdot 3^x)^x}{9(\log_2^2(x+1)^2) \log_3(x+2)}$.

16. Дана равнобедренная трапеция $KLMN$ с основаниями KN и LM . Окружность с центром O , построенная на боковой стороне KL как на диаметре, касается боковой стороны MN и второй раз пересекает большее основание KN в точке H , точка Q — середина MN .

а) Докажите, что четырёхугольник $NQOH$ — параллелограмм.

б) Найдите KN , если $\angle LKN = 75^\circ$ и $LM = 1$.

17. Миша и Маша положили в один и тот же банк одинаковые суммы под 10% годовых. Через год сразу после начисления процентов Миша снял со своего счета 5000 рублей, а еще через год снова внес 5000 рублей. Маша, наоборот, через год доложила на свой счет 5000 рублей, а еще через год сразу после начисления процентов сняла со счета 5000 рублей. Кто через три года со времени первоначального вложения получит большую сумму и на сколько рублей?

18. Найдите все значения a , при каждом из которых система уравнений

$$\begin{cases} \frac{xy^2 - 2xy - 4y + 8}{\sqrt{x+4}} = 0, \\ y = ax \end{cases}$$

имеет ровно два различных решения.

19. Вася и Петя решали задачи из сборника, причем каждый следующий день Вася решал на одну задачу больше, чем в предыдущий, а Петя — на две задачи больше, чем в предыдущий. В первый день каждый решил хотя бы одну задачу, а в итоге каждый решил все задачи сборника.

а) Могло ли быть в сборнике 85 задач?

б) Могло ли быть в сборнике 213 задач, если каждый из мальчиков решал их более трех дней?

в) Какое наибольшее количество дней мог решать задачи Петя, если Вася решил весь сборник за 16 дней, а количество задач в сборнике меньше 300.