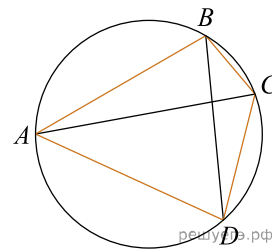
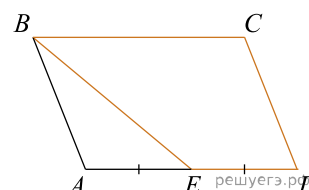


Четырёхугольник $ABCD$ вписан в окружность. Угол ABC равен 103° , угол CAD равен 42° . Найдите угол ABD . Ответ дайте в градусах.



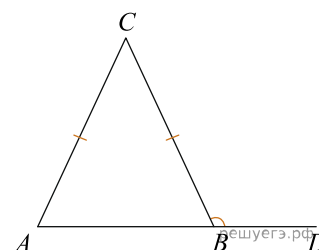
ИЛИ

Площадь параллелограмма $ABCD$ равна 24. Точка E — середина стороны AD . Найдите площадь трапеции $BCDE$.



ИЛИ

В треугольнике ABC $AC = BC$, угол C равен 134° . Найдите внешний угол CBD . Ответ дайте в градусах.



ИЛИ

Основания трапеции равны 4 и 10. Найдите больший из отрезков, на которые делит среднюю линию этой трапеции одна из ее диагоналей.

