





Керамическая плитка одной и той же торговой марки выпускается трёх разных размеров. Плитки упакованы в пачки. Пользуясь данными таблицы, определите, в каком случае цена одного квадратного метра плитки будет наименьшей.

Размер плитки (см  times см)	Количество плиток в пачке	Цена пачки
20  times 40	13	676 р.
20  times 20	26	670 р. 80 к.
30  times 40	9	675 р.

В ответ запишите найденную наименьшую цену квадратного метра в рублях.