





Керамическая плитка одной и той же торговой марки выпускается трёх разных размеров. Плитки упакованы в пачки. Пользуясь данными таблицы, определите, в каком случае цена одного квадратного метра плитки будет наименьшей.

Размер плитки (см  times см)	Количество плиток в пачке	Цена пачки
20  times 30	21	567 р.
30  times 30	13	538 р. 20 к.
20  times 40	15	546 р.

В ответ запишите найденную наименьшую цену квадратного метра в рублях.